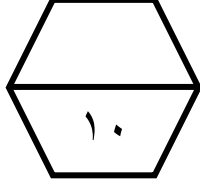



اسم الطالب / .....

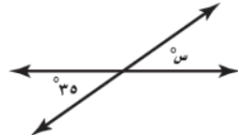
ورقة عمل ( الأسبوع الثاني عشر ) للصف السادس الابتدائي الفصل الدراسي الثاني للعام الدراسي ١٤٤٧ هـ



المهارات
العلاقات بين الزوايا
استكشاف معمل الهندسة: زوايا المثلث
المثلثات

	أ	الزاويتان اللتان مجموع قياسيهما يساوي $180^\circ$ هما زاويتان متكاملتان
	ب	الزاويتان المتقابلتان بالرأس لهما القياس نفسه
	ج	مجموع قياسات زوايا المثلث يساوي $180^\circ$

	حدد نوع الزاويتين المجاورتين :				٢
	متتامتين	ب	متكاملتين	ج	

	ما قيمة س في الشكل المجاور :					٣	
	أ	٢٠	ب	٣٠	ج		٣٥

	صنف المثلث المجاور :				٤
	أ	حاد الزوايا	ب	قائمة الزاوية	

	قياس زاوية س في المثلث المجاور هي :					٥	
	أ	٩٠	ب	١٠٠	ج		١٠٥