

فكرة الدرس

أُمَيِّزُ الْمَجَسَّمَاتِ
وَأَسْمِيهَا.

المجسمات

اليوم/

التاريخ/

الحصة/

رقم الصفحة/

المفردات

المَجَسِّم

كُرَّة

مُكَعَّب

هَرَم

مَعْرُوط

أُسْطُوَانَةٌ

مُتَوَازِي الْمُسْتَطِيلَات



جدول التعلم

ماذا تعلمت؟


ماذا أريد أن أتعلم؟

ماذا أعرف؟





سمي الاشكال بالصور التالية واذكري مكانها بمملكتنا الحبيبة



هَذِهِ مُجَسَّمَاتٌ . وَلِلْمُجَسَّمِ ثَلَاثَةٌ أَبْعَادٍ .



هَرَمٌ



مُكْعَبٌ



كُرَةٌ



مُتَوَازِي مُسْتَطِيلَاتٍ



أُسْطُوَانَةٌ




مَخْرُوطٌ





أَكْتُبْ اسْمَ الْمَجَسِّمِ، ثُمَّ أَحَوِّطُ الشَّيْءَ الَّذِي لَهُ الشَّكْلُ نَفْسُهُ:



أَذْكُرُ أَسْمَاءَ أَشْيَاءٍ مِنْ حَوْلِي لَهَا شَكْلُ الْأُسْطُوَانَةِ.

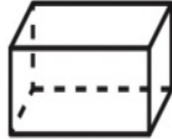
أَتَحَدَّثُ

٣



أَتَدْرِبُ

اَكْتُبْ اسْمَ الْمُجَسِّمِ، ثُمَّ أَلَوِّنُ الْأَشْكَالَ الْمُشَابِهَةَ لَهُ:





.....



.....





أحلّ المسألة

التفكير البصري:

١٠ يسكن خالد في مبنى صمم على شكل متوازي مستطيلات، أرسّم كيف سيبدو شكل المبنى.



أحل المسألة التفكير البصري:

لِهذا المَبْنَى ٣٨ نافذةً في كُلِّ جانبٍ مِنْ جوانِبِهِ الأربعةِ، يُنظفُها عَمِلاَنِ، بِحيثُ
يَغسِلُ كُلُّ مِنْهُما مِثْلَما يَغسِلُ الأخرُ، فَكمْ نافذةً سَيَغسِلُ كُلُّ مِنْهُما؟

نشاط المنصة



رياضيات

المُجَسَّمَات

وزارة التعليم
Ministry of Education

اختر الإجابة الصحيحة:

انقر على الأشياء التي تُشبه
المُجَسَّم الظاهر في المربع:



تحقق

التالي

1/0

السابق

انتم

إعادة

الرئيسية



رياضيات

المجسمات

وزارة التعليم
Ministry of Education

اختر الإجابة الصحيحة:

انقر على الأشياء التي تشبه
المجسم الظاهر في المربع:



تحقق

التالي ←


3 / 5

السابق →

إكتم

إعادة ↺

الرئيسية 🏠



الواجب في منصة مدرستي

