

تشخيص مستوى الطالبات في المهارات المستهدفة للصف الرابع الابتدائي (إجابة)
الاسم: الفصل: المدرسة: (درجة لكل فقرة)

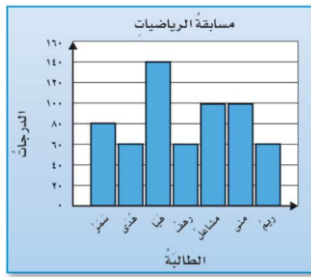
السؤال الأول: الصيغة اللفظية لمليونان وست مئة وسبعة عشر ألفاً تكتب بالصيغة اللفظية كالتالي:

الهدف الأول /قراءة الأعداد وكتابتها ضمن الملايين بطرق مختلفة وترتيبها

- ٢٦١٧٠٠٠
 ٢٦١٧٠٠
 ٢٦٧١٠٠
 ٢٦٧١٠٠٠

الهدف الثاني/ تمثيل البيانات بالنقاط والأعمدة وتفسيرها

السؤال الثاني: من التمثيل البياني المجاور تزيد درجة هيا على درجة سمر بـ:



- ٦٠
 ١٤٠
 ٨٠
 ٤٠

الهدف الثالث/ استعمال عمليات الجمع والطرح والضرب والقسمة لإنشاء جدول أو إكماله

السؤال الثالث: قاعدة الدالة التي يمثلها الجدول المجاور:

القاعدة:	
المخرجة □	المدخلة △
٣٣	٤٤
٢٢	٣٣
١١	٢٢
٠	١١

- $\square = 10 - \Delta$
 $\square = 11 - \Delta$
 $\square = 11 + \Delta$
 $\square = 10 + \Delta$

الهدف الرابع/ ضرب عدد من ثلاثة أرقام في عدد من رقمين

السؤال الرابع: ناتج الضرب $\begin{array}{r} 35 \\ \times 24 \\ \hline \end{array}$ يساوي:

- ٥٩
 ٨٤٠
 ٦٢٠
 ٦٩

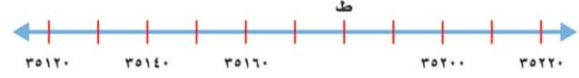
السؤال الخامس: بلغ استهلاك عائلة بدر للمياه ٧٨٩ لترًا في ٣ أيام. إذا كانت العائلة تستهلك الكمية نفسها

الهدف الخامس/ إيجاد ناتج القسمة من ثلاثة أرقام

يوميًا، فكم لترًا تستهلك في اليوم الواحد؟

- ٦٢٣ لترًا
 ٣٦٢ لترًا
 ٢٦٣ لترًا
 ٣٢٦ لترًا

السؤال السادس: من الرسم النقطة ط =



الهدف السادس/ تمثيل النقاط على خط الأعداد
والمستوى الإحداثي

35160

35170

35180

35190

السؤال السابع: نام خالد عند الساعة ٩:١٥، واستيقظ في الساعة ٥:٣٠ صباحاً. فإن طول الفترة الزمنية

التي نامها خالد هي:

٨ ساعات

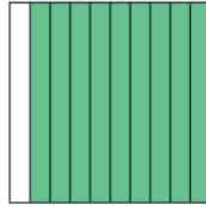
٨ ساعات و ١٥ دقيقة

٤ ساعات و ١٥ دقيقة

٤ ساعات و ٣٠ دقيقة

الهدف السابع/ إيجاد الزمن المنقضي وطول
الفترة الزمنية في موقف حياتي

السؤال الثامن: الكسر العشري الذي يعبر عن الجزء المظلل في الشكل المجاور.



٠,٩

٠,١

٠,٨

٠,٥

الهدف الثامن/ قراءة الكسور العشرية وطرحها

الهدف التاسع/ جمع الكسور العشرية وطرحها

السؤال التاسع: ناتج جمع $0,7$ يساوي:

$$\begin{array}{r} 0,7 \\ + 0,2 \\ \hline \end{array}$$

٠,١٤

٠,٩

٠,٥

٠,٦

الهدف العاشر/ حل المسائل باستعمال التخمين والتحقق

السؤال العاشر: في مزرعة والد فاطمة طيور وخراف عددها معاً ٢٠، وعدد

أرجلها ٦٤. فما عدد كل من الطيور والخراف في المزرعة؟

عدد الطيور ٨ وعدد الخراف ١٢

عدد الطيور ١٢ وعدد الخراف ٨

عدد الطيور ١٠ وعدد الخراف ١٠

عدد الطيور ٩ وعدد الخراف ١١

انتهت الأسئلة