

الدرس: تاريخ الخرائط وتطورها

الوحدة : الخرائط والسكان

رقم	الهدف التعليمي	السؤال	تصنيف السؤال			نوع السؤال	
			معرفة	تطبيق	استدلال	مقالي	موضوعي
١	معرفة مفهوم الخريطة	<ul style="list-style-type: none"> • اكتب المصطلح المناسب: - () صورة مصغرة لسطح الأرض أو جزء منه 	✓			✓	
٢	تعداد أنواع الخرائط	<ul style="list-style-type: none"> • مثلي لما يأتي: - الظواهر الطبيعية في الخريطة: - الظواهر البشرية في الخريطة: 		✓		✓	
٣	وصف بداية معرفة الانسان للخريطة	<ul style="list-style-type: none"> • استنتج كيف كان الانسان قديماً يرسم الخرائط؟ 	✓			✓	
		<ul style="list-style-type: none"> • اكتب كلمة (صح) أمام العبارة الصحيحة وكلمة (خطأ) أمام العبارة الخاطئة: - أول من رسم الخرائط هم البابليون في العراق () - أنشأ العالم المسلم محمد الإدريسي خامس خريطة عالمية صحيحة () 				✓	
٤	معرفة المقصود بنظم المعلومات الجغرافية	<ul style="list-style-type: none"> • اختاري الإجابة الصحيحة بوضع خط تحتها: - استعمال التقنية لجمع المعلومات الجغرافية وعرضها من خلال التطبيقات على هيئة خرائط رقمية هي : الخرائط الورقية - نظم المعلومات الجغرافية - المساحة الجيولوجية - السكان 	✓			✓	
٥	المقارنة بين الخرائط الورقية والخرائط الرقمية	<ul style="list-style-type: none"> • ما الفرق بين الخرائط الورقية والخرائط الرقمية ؟ 			✓	✓	

١- استعمال الخريطة الرقمية والحصول عليها أسهل من الخريطة الورقية.
٢- الخرائط الرقمية تُعدُّت بسهولة.
٣- الخرائط الرقمية يمكن التحكم فيها وإظهار تمثيلها الحقيقي للواقع.

تحليل محتوى مادة الدراسات الاجتماعية والمواطنة للصف: الخامس ابتدائي / الفصل الدراسي الثاني للعام الدراسي ١٤٤٠-١٤٤١هـ

	✓	-الهيئة العامة للمساحة في وطني: إنتاج الخرائط الرقمية لوطني. -هيئة المساحة الجيولوجية السعودية: إنتاج الخرائط الجيولوجية الرقمية لوطني.	✓			• حددى مهمة كل مما يلي: - الهيئة العامة للمساحة في وطني: - هيئة المساحة الجيولوجية السعودية:	٦ تحديد مهمة الهيئة العامة للمساحة وهيئة المساحة الجيولوجية في وطني
	٣	٤	• مجموع تنوع الأسئلة:	٢	٢	٣	• مجموع تصنيف الاسئلة:

الدرس: السكان

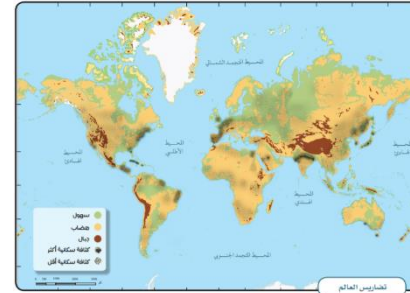
الوحدة: الخرائط والسكان


رقم	الهدف التعليمي	السؤال	تصنيف السؤال			نوع السؤال
			معرفة	تطبيق	استدلال	
١	معرفة توزيع السكان حول العالم	<ul style="list-style-type: none"> اكتبي كلمة (صح) أمام العبارة الصحيحة وكلمة (خطأ) أمام العبارة الخاطئة: - توزيع السكان في العالم ليس منتظماً () - يسكن قارة آسيا نحو ٩٠٪ من سكان العالم () 	✓			مقالي موضوعي
٢	تعليل سبب العناية بتوزيع السكان	<ul style="list-style-type: none"> ما سبب العناية بتوزيع السكان؟ 	✓			مقالي
٣	تحديد المناطق التي يتركز بها السكان حول العالم	<ul style="list-style-type: none"> اختراري الإجابة الصحيحة بوضع خط تحتها: - يتركز سكان العالم في النصف من الكرة الأرضية: الشرقي - الشمالي - الجنوبي - الغربي - تنخفض الكثافة السكانية في أماكن: الأنهار - الأمطار - الصحاري - المدن المقدسة 	✓			مقالي
٤	تعداد العوامل المؤثرة في توزيع السكان في العالم	<ul style="list-style-type: none"> املئي الفراغات بما يناسبها من عبارات: - تنقسم العوامل المؤثرة في توزيع السكان في العالم إلى عوامل وعوامل 	✓			مقالي
		<ul style="list-style-type: none"> مثلي لما يلي: العوامل الطبيعية المؤثرة في توزيع السكان في العالم: العوامل البشرية المؤثرة في توزيع السكان في العالم: 	✓			مقالي
		العوامل الطبيعية: التضاريس / المياه/ المناخ/ الموارد الطبيعية. العوامل البشرية: النشاط الاقتصادي/ النشاط السياسي.	✓			مقالي
		مجموع تنوع الأسئلة:		٢	-	٣

مجموع تصنيف الاسئلة:

الوحدة : الخرائط والسكان : الدرس : توزيع السكان (العوامل الطبيعية : التضاريس والمياه)

رقم	الهدف التعليمي	السؤال	تصنيف السؤال			نوع السؤال
			معرفة	تطبيق	استدلال	
١	تعليل سبب ارتفاع كثافة السكان في السهول والأراضي المنبسطة.	• عللي: انخفاض كثافة السكان في السهول والأراضي المنبسطة؟		✓		مقالتي ✓
٢	تعليل سبب انخفاض كثافة السكان في الجبال والمرتفعات الشاهقة؟	• عللي: انخفاض كثافة السكان في الجبال والمرتفعات الشاهقة؟		✓		مقالتي ✓
٣	تحديد أشكال التضاريس على الخريطة	• حددي على الخريطة التالية أشكال التضاريس في القارات الآتية: آسيا - إفريقيا ثم اذكر تأثيرها على توزيع السكان		✓		مقالتي ✓
٤	معرفة أقسام مصادر المياه	• املئي الفراغات بما يناسبها من عبارات: - تنقسم مصادر المياه الىو.....		✓		مقالتي ✓



✓		-العذبة: الأنهار/الامطار/المياه الجوفية -المالحة: المحيطات/البحار	✓			- صنفى مصادر المياه التالية إلى عذبة ومالحة (الأنهار- المحيطات- المياه الجوفية- البحار- الامطار)			
						المياه العذبة	المياه المالحة		
	✓	لأنها مصدر غذائي واقتصادي- لأنها مجال للمواصلات الفعالة- لأنها مصدر للطاقة المتجددة.		✓		• علي: ارتفاع الكثافة السكانية قرب المياه		٥	تعليل أسباب ارتفاع الكثافة السكانية قرب المياه
✓		-البحر الأحمر/الخليج العربي		✓		• حددي على الخارطة التالية المناطق المائية في وطني الجاذبة للسكان.		٦	تحديد المناطق المائية الجاذبة للسكان على خريطة المملكة.
									
٣	٤	• مجموع تنوع الأسئلة:	١	٥	١				• مجموع تصنيف الاسئلة:

الوحدة : الخرائط والسكان : الدرس : توزيع السكان (العوامل الطبيعية :المناخ والموارد)

رقم	الهدف التعليمي	السؤال	تصنيف السؤال			نوع السؤال	
			معرفة	تطبيق	استدلال	مقالي	موضوعي
١	معرفة المناطق المناخية على سطح الأرض	<ul style="list-style-type: none"> املئي الفراغات بما يناسبها من عبارات: تتنوع المناطق المناخية على سطح الأرض بينومعتدلة و 	✓			✓	
		<ul style="list-style-type: none"> اكتبي كلمة (صح) أمام العبارة الصحيحة وكلمة (خطأ) أمام العبارة الخاطئة: تزداد الكثافة السكانية في المناطق القطبية () تقل الكثافة السكانية في الصحاري الحارة () يسكن أكثر من ٨٠% من سكان العالم في المناطق التي تكون درجة الحرارة والرطوبة فيها معتدلة () 	✓				خطأ صح صح
٢	تعليل سبب ارتفاع كثافة السكان في المناطق ذات المناخ المعتدل	<ul style="list-style-type: none"> عللي: ارتفاع كثافة السكان في المناطق ذات المناخ المعتدل؟ 		✓		✓	سهولة التكيف معها، غير مكلفة اقتصادياً، تنوع المحاصيل الزراعية فيها.
٣	تعليل سبب انخفاض كثافة السكان في المناطق القاسي	<ul style="list-style-type: none"> عللي: انخفاض كثافة السكان في المناطق ذات المناخ القاسي؟ 		✓		✓	قلة الأمطار وقلة المحاصيل الزراعية، مكلفة اقتصادياً، صعوبة التكيف معها.

٤	تصنيف الموارد الطبيعية	٦	يُصنّف الطلبة الموارد الطبيعية الآتية في الجدول الآتي: الحيوانات النفط الحديد النباتات الرياح	موارد طبيعية متجددة	موارد طبيعية غير متجددة
✓	طبيعية متجددة: النباتات/الحيوانات/الرياح طبيعية غير متجددة: الحديد/النفط	✓			
٥	تعليل أسباب ارتفاع كثافة السكان في المناطق ذات الموارد الطبيعية	✓	عللي: سبب ارتفاع كثافة السكان في المناطق ذات الموارد الطبيعية؟	توافر الخدمات وسهولة الحياة، انخفاض أسعار السلع المنتجة، توافر فرص العمل والوظائف والمهن.	✓
٦	استنتاج العلاقة بين توزيع الموارد الطبيعية وتوزيع السكان في العالم	✓	استنتج العلاقة بين توزيع الموارد الطبيعية وتوزيع السكان في العالم	كلما زادت الموارد الطبيعية زادت الكثافة السكانية وكلما انخفضت الموارد الطبيعية قلت الكثافة السكانية.	✓
٣	مجموع تصنيف الاسئلة:	٢	٣	٤	٣

الوحدة : الخرائط والسكان : الدرس : توزيع السكان (العوامل البشرية)

رقم	الهدف التعليمي	السؤال	تصنيف السؤال			نوع السؤال	
			معرفة	تطبيق	استدلال	مقالي	موضوعي
١	معرفة مفهوم النشاط الاقتصادي	<ul style="list-style-type: none"> اكتبي المصطلح المناسب للتعريف التالية: - () هو الاعمال التي يؤديها الانسان لتلبية احتياجاته الأساسية 	✓			✓	
٢	تعداد أنواع النشاط الاقتصادي	<ul style="list-style-type: none"> اخترتي الإجابة الصحيحة بوضع خط تحتها: - هو تحويل الموارد الطبيعية إلى منتجات مفيدة للإنسان: النشاط الزراعي / النشاط التجاري / النشاط الصناعي / النشاط الرعوي 	✓			✓	
		<ul style="list-style-type: none"> املئي الفراغات بما يناسبها من عبارات: - من أنواع النشاط الاقتصادي، النشاطو..... 	✓			✓	
٣	تحديد الأنشطة الاقتصادية للسكان على الخارطة	<ul style="list-style-type: none"> حددي على الخارطة التالية ٣ دول واذكري نشاطها الاقتصادي 	✓			✓	
٤	وصف أثر النزاعات السياسية في توزيع السكان	<ul style="list-style-type: none"> صفي كيف تؤثر النزاعات والحروب في توزيع السكان؟ 			✓	✓	
	مجموع تصنيف الاسئلة:		٣	١	١		٢
							٣

الوحدة : الموارد الاقتصادية : الدرس : المياه

رقم	الهدف التعليمي	السؤال	تصنيف السؤال			نوع السؤال
			معرفة	تطبيق	استدلال	
١	تحديد المنطقة المناخية التي يقع فيها وطني	<ul style="list-style-type: none"> اكتبي كلمة (صح) أمام العبارة الصحيحة وكلمة (خطأ) أمام العبارة الخاطئة: يقع وطني ضمن المنطقة التي يتسم مناخها بغزارة الأمطار () 	✓			مقالتي موضوعي
٢	تعداد موارد المياه في وطني	<ul style="list-style-type: none"> اربطي العامود (أ) بما يناسبه في العامود (ب) باستعمال الأرقام: (أ) (ب) 	✓			مقالتي موضوعي
		<ul style="list-style-type: none"> ١-المياه السطحية ٢-المياه الجوفية ٣-مياه البحر المحلاة ٤-مياه الصرف الصحي المعالجة 				٢ ٣ ١
		<ul style="list-style-type: none"> مثلي لما يلي: - المياه الجوفية: - المياه السطحية: 	✓			مقالتي موضوعي
		الجوفية: آبار المدينة المنورة/آبار عسير السطحية: العيون ومنها عيون الإحساء والأودية ومنها وادي نجران				

تحليل محتوى مادة الدراسات الاجتماعية والمواطنة للصف: الخامس ابتدائي / الفصل الدراسي الثاني للعام الدراسي ١٤٤٠-١٤٤١هـ

٣	ذكر الاستفادة من مياه الصرف الصحي المعالجة	• وضح كيف يتم استغلال مياه الصرف الصحي المعالجة؟	✓	✓	في ري الحدائق والمنتزهات وبعض الأغراض الصناعية	✓
		• اختاري الإجابة الصحيحة بوضع خط تحتها: - تستعمل مياه الصرف الصحي المعالجة في: المياه السطحية - الشرب - ري المنتزهات - الأمطار	✓		- ري المنتزهات	✓
٤	ترتيب وطني من بين دول العالم في تحلية مياه الشرب	• اكتبي كلمة (صح) أمام العبارة الصحيحة وكلمة (خطأ) أمام العبارة الخاطئة: - يعتبر ترتيب وطني من الدول الأخيرة في العالم في تحلية مياه البحر () - تغطي المملكة ٧٠٪ من احتياجات مياه الشرب من تحلية مياه البحر ()	✓		- خطأ - صح	✓
٥	تعداد أساليب المحافظة على الثروة المائية	- عددي اثنين من أساليب المحافظة على الثروة المائية	✓		- تجنب رمي النفايات في العيون والودية والأبار/الاقتصاد في استهلاك المياه/توعية الآخرين بأهمية الماء	✓
٦	تعداد اقسام الودية في وطني من حيث تصريف المياه	• املئي الفراغات بما يناسبها من عبارات: - تنقسم الودية في وطني من حيث تصريف المياه إلى قسمين، وودية..... وودية.....	✓		أودية داخلية / أودية ذات تصريف خارجي	✓
	• مجموع تصنيف الاسئلة:		٦	٢	مجموع تنوع الأسئلة:	٥

تحليل محتوى مادة الدراسات الاجتماعية والمواطنة للصف: الخامس ابتدائي / الفصل الدراسي الثاني للعام الدراسي ١٤٤٠-١٤٤١هـ

الدرس : النبات الطبيعي

الوحدة : الموارد الاقتصادية

رقم	الهدف التعليمي	السؤال	تصنيف السؤال			نوع السؤال	
			معرفة	تطبيق	استدلال	مقال	موضوعي
١	معرفة أنواع النبات الطبيعي	<ul style="list-style-type: none"> املئي الفراغات بما يناسبها من عبارات: يتنوع النبات الطبيعي في وطني إلى نباتات ونباتات 	✓			✓	
٢	مقارنة بين النباتات الحولية والمعمرة	<ul style="list-style-type: none"> قارني بين النباتات الحولية والمعمرة؟ 	✓			✓	
٣	التمثيل للنباتات الحولية والمعمرة	<ul style="list-style-type: none"> اعطي مثال واحد على: - نباتات حولية: - نباتات معمرة: 		✓		✓	
٤	تعداد العوامل المؤثرة في نمو النبات الطبيعي	<ul style="list-style-type: none"> عددي العوامل المؤثرة في نمو النبات الطبيعي؟ 			✓	✓	
٥	استنتاج تأثير التربة والتضاريس على النبات الطبيعي	<ul style="list-style-type: none"> استنتجي تأثير التربة والتضاريس في نمو النبات الطبيعي؟ 	✓			✓	
٦	تصنيف النباتات الطبيعية حسب بيئاتها	<ul style="list-style-type: none"> صنفي النباتات الطبيعية الآتية حسب بيئاتها: الزيتون البري - الأروى - السمر - العرفج الأودية الرمال السهول البيئة الجبلية 	✓			✓	
		مجموع تصنيف الاسئلة:	٢	١	٣	٤	٢

الدرس : الثروة الحيوانية

الوحدة : الموارد الاقتصادية

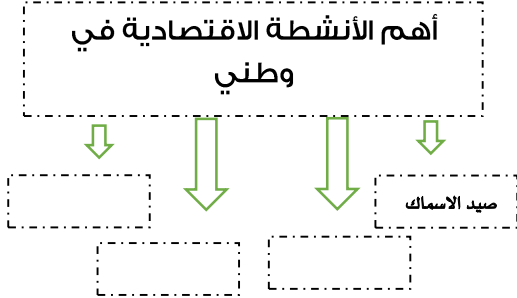
رقم	الهدف التعليمي	السؤال	تصنيف السؤال			الاجابة	نوع السؤال	
			معرفة	تطبيق	استدلال		مقالي	موضوعي
١	معرفة الثروة الحيوانية في وطني	<ul style="list-style-type: none"> • اكتب كلمة (صح) أمام العبارة الصحيحة وكلمة (خطأ) أمام العبارة الخاطئة: - في وطني أكبر مزارع للأبقار في العالم () 	✓			-صح	✓	
٢	تحديد توزيع الثروة الحيوانية من خلال خارطة وطني	<ul style="list-style-type: none"> • من خلال خارطة توزيع الثروة الحيوانية في المملكة حددي مناطق تركيز الحيوانات التالية: (الأبل - الدواجن - الأسماك) 	✓			الإبل: الرياض/القصيم/حائل/الشرقية/المدينة المنورة.... الدواجن: الرياض/القصيم/حائل/الشرقية/الجنوب... الأسماك: الخليج العربي/البحر الأحمر	✓	
٣	تعليل أسباب قلة الثروة الحيوانية في وطني	<ul style="list-style-type: none"> - عللي: قلة الثروة الحيوانية في وطني؟ 	✓			قلة الغطاء النباتي/الاستهلاك الضخم للحوم/استهلاك إناث الحيوانات/ضعف حرفة الرعي.	✓	
٤	تعداد أساليب تنمية الثروة الحيوانية	<ul style="list-style-type: none"> - اذكر اثنين من أساليب تنمية الثروة الحيوانية؟ 	✓			التوسع في تنمية أماكن الرعي/تنوع الأعلاف/توفير الدعم لتربية المواشي/التوسع في إنشاء الوحدات البيطرية...	✓	
٥	معرفة خطة وطني في تربية النحل	<ul style="list-style-type: none"> - اطلقت وزارة البيئة والمياه و الزراعة مبادرة تطوير قطاع النحل ، ما هدف هذه المبادرة ؟ 	✓			رفع مستوى الجودة والإنتاج، وابتكار الحلول للعوائق والتحديات التي تعترض هذا القطاع.	✓	
-	مجموع تصنيف الاسئلة:		٣	٢	-	مجموع تنوع الأسئلة:	٣	٢

الدرس : النفط والمعادن

الوحدة : الموارد الاقتصادية

رقم	الهدف التعليمي	السؤال	تصنيف السؤال			نوع السؤال
			معرفة	تطبيق	استدلال	
١	معرفة أهم الموارد في وطني (النفط)	<ul style="list-style-type: none"> • اكتب كلمة (صح) أمام العبارة الصحيحة وكلمة (خطأ) أمام العبارة الخاطئة: - تأتي المملكة العربية السعودية في المركز الأول عالمياً في احتياطي النفط () 	✓			مقالتي
		<ul style="list-style-type: none"> • املئي الفراغات بما يناسبها من عبارات: - تسمى حقول النفط التي تقع في اليابس بالحقول والتي تكون مغمورة في المياه تسمى بالحقول 	✓			موضوعي
		<ul style="list-style-type: none"> • اختاري الإجابة الصحيحة بوضع خط تحتها: - أكبر حقول النفط في اليابسة مساحة ونتاجاً في العالم هو: السفانية - الغوار - منيفة - خريص 	✓			مقالتي
٢	التحديد على خارطة المملكة أهم حقول النفط في وطني	<ul style="list-style-type: none"> • من خلال خارطة وطني حددي موقع حقل بري وحقل بحري نفطي: 	✓			مقالتي
٣	معرفة أهم المعادن في وطني	<ul style="list-style-type: none"> • املئي الفراغات بما يناسبها من عبارات: - من أهم المعادن في وطني 	✓			مقالتي
	مجموع تصنيف الاسئلة:		٤	١	-	مجموع تنوع الأسئلة:
					-	٥

الوحدة : الأنشطة الاقتصادية : الدرس : الزراعة والرعي

رقم	الهدف التعليمي	السؤال	تصنيف السؤال			نوع السؤال	
			معرفة	تطبيق	استدلال		
١	تعداد الأنشطة الاقتصادية التي يمارسها السكان في وطني	<ul style="list-style-type: none"> أكمل خريطة المفاهيم التالية: 	✓			✓	الزراعة/الرعي/الصناعة/التجارة الخدمات.
٢	معرفة أهمية الزراعة في وطني	<ul style="list-style-type: none"> علي: اعتنى وطني بمهنة الزراعة؟ 		✓		✓	لأنها المصدر الغذائي للسكان
		<ul style="list-style-type: none"> ما سبب انخفاض عدد المزارعين في السنوات الأخيرة؟ 		✓		✓	بسبب ظهور الزراعة المتقدمة التي تعتمد على الآلات الحديثة
		<ul style="list-style-type: none"> اختراري الإجابة الصحيحة بوضع خط تحتها: من عوامل نجاح الزراعة: <p>الرمال - البحار - الأراضي الصالحة - الحديد</p>	✓			✓	- الأراضي الصالحة للزراعة

✓		<ul style="list-style-type: none"> - مثلاً: الرياض : - الخضراوات/القمح - منطقة القصيم: التمور /القمح/الفواكه... 	✓	<ul style="list-style-type: none"> • أمامك خارطة زراعية لوطني، حددي عليها منطقة من مناطق وطني واذكري أهم المحاصيل التي تشتهر بزراعتها. 	<p>٣</p> <p>تحديد اهم المحاصيل الزراعية في وطني من خلال الخريطة</p>	
	✓	بسبب تدهور المرعي الطبيعية واستقرار السكان وظهور أنشطة سكانية أخرى أكثر ربحاً منها.	✓	- ما سبب تراجع حرفة الرعي في وطني ؟	<p>٤</p> <p>تعليل أسباب تراجع حرفة الرعي في وطني</p>	
٣	٣	مجموع تنوع الأسئلة:	-	٤	٢	- مجموع تصنيف الاسئلة:

الدرس : الصناعة والتجارة والخدمات

الوحدة : الأنشطة الاقتصادية

رقم	الهدف التعليمي	السؤال	تصنيف السؤال			نوع السؤال
			معرفة	تطبيق	استدلال	
١	معرفة مفهوم الصناعة	<ul style="list-style-type: none"> اكتبي المصطلح المناسب للتعريف التالية: () هي تحويل المادة الخام الأولية من حالتها الأولية إلى منتج أكثر فائدة للإنسان. 	✓			✓ مقالي
٢	تعداد فوائد الصناعة	<ul style="list-style-type: none"> عدي اثنين من فوائد الصناعة؟ 	✓			✓ موضوعي
٣	ذكر مقومات الصناعة	<ul style="list-style-type: none"> اكمل خارطة المفاهيم التالية : 	✓			✓ مقالي
٤	معرفة مفهوم التجارة	<ul style="list-style-type: none"> اكتبي المصطلح المناسب للتعريف التالية: () - هي حركة البيع والشراء لمختلف أنواع السلع المحلية والمستوردة . 	✓			✓ مقالي
٥	المقارنة بين أنواع التجارة	<ul style="list-style-type: none"> قارني بين التجارة الداخلية والتجارة الخارجية؟ 		✓		✓ مقالي

تحليل محتوى مادة الدراسات الاجتماعية والمواطنة للصف: الخامس ابتدائي / الفصل الدراسي الثاني للعام الدراسي ١٤٤٠-١٤٤١هـ

٦	التمثيل لصادرات وواردات وطني	<ul style="list-style-type: none"> • اعطي مثالا لكل من: <ul style="list-style-type: none"> - صادرات وطني: - واردات وطني: 	✓	الصادرات: النفط/التمور. الواردات: الآلات/وسائل النقل/الأجهزة الكهربائية/المواد الغذائية	✓	
٧	معرفة مفهوم الميزان التجاري	<ul style="list-style-type: none"> • اكتب كلمة (صح) أمام العبارة الصحيحة وكلمة (خطأ) أمام العبارة الخاطئة: <ul style="list-style-type: none"> - الميزان التجاري هو الفرق بين قيمة صادرات الدولة وقيمة وارداتها () - تحرص حكومة وطني أن تكون قيمة الصادرات أقل من قيمة الواردات () 	✓	-صح -خطأ		
٨	ذكر مجالات الخدمات التي يقدمها وطني	<ul style="list-style-type: none"> • اعطي أمثلة لمجالات الخدمات التي يقدمها وطني. 	✓	-الأنشطة في مجال التعليم/والصحة/والنقل/والترفيه/وخدمات الإقامة والطعام...		
		• مجموع تصنيف الاسئلة:	٥	٢	١	مجموع تنوع الأسئلة:
						٤

الوحدة : مؤسسات الدولة الدرس : مؤسسات الدولة

رقم	الهدف التعليمي	السؤال	تصنيف السؤال			نوع السؤال
			معرفة	تطبيق	استدلال	
١	المقارنة بين المؤسسات مع ذكر امثلة عليها	<ul style="list-style-type: none"> • قارني بي المؤسسات العامة والمؤسسات الخاصة مع ذكر مثال لكل منها 	✓			مقالي ✓
						مقارنة
						التعريف
						أمثلة
٢	تصنيف أنواع المؤسسات	<ul style="list-style-type: none"> • صنف الأمثلة التالية حسب المؤسسات العامة أو الخاصة: وزارة الداخلية / وزارة التعليم / شركة السيارات / مصنع البلاستيك 	✓			مقالي ✓
						المؤسسات العامة
						المؤسسات الخاصة
٣	تعداد وظائف مؤسسات الدولة	<ul style="list-style-type: none"> • تقوم مؤسسات الدولة بوظائف متعددة لخدمة المواطنين والاقتصاد والمجتمع ، عددي ثلاثة من هذه الوظائف ؟ 	✓			مقالي ✓
<ul style="list-style-type: none"> • مجموع تصنيف الاسئلة: 						
			١	-	٢	مجموع تنوع الأسئلة:
						٣
						-

الوحدة : مؤسسات الدولة : الدرس : الخدمات الحكومية

رقم	الهدف التعليمي	السؤال	تصنيف السؤال			نوع السؤال																		
			معرفة	تطبيق	استدلال																			
١	معرفة مفهوم الخدمات الحكومية	<ul style="list-style-type: none"> اختاري الإجابة الصحيحة بوضع خط تحتها: هي الاعمال التي تقوم بها الدولة من خلال مؤسساتها لمصلحة المجتمع وافراده: الصادرات /الواردات / الخدمات الحكومية / التجارة 	✓			مقالتي																		
٢	ذكر مهام وزارة الداخلية	<ul style="list-style-type: none"> مثلي لما يأتي: أعمال وزارة الداخلية : 	✓			موضوعي																		
٣	الربط بين الأجهزة في وزارة الداخلية ومهامها	<ul style="list-style-type: none"> اربطي بين الأجهزة في وزارة الداخلية في العمود (أ) بمهامها في العمود (ب) باستعمال الأرقام: <table border="1"> <thead> <tr> <th>الأجهزة في وزارة الداخلية</th> <th>الرقم</th> <th>المهام</th> </tr> </thead> <tbody> <tr> <td>١ / الشرطة</td> <td></td> <td>٣</td> </tr> <tr> <td>٢ / الإدارة العامة للمرور</td> <td></td> <td>١</td> </tr> <tr> <td>٣ / الدفاع المدني</td> <td></td> <td>٢</td> </tr> <tr> <td>٤ / مكافحة المخدرات</td> <td></td> <td>٤</td> </tr> <tr> <td>٥ / حرس الحدود</td> <td></td> <td></td> </tr> </tbody> </table>	الأجهزة في وزارة الداخلية	الرقم	المهام	١ / الشرطة		٣	٢ / الإدارة العامة للمرور		١	٣ / الدفاع المدني		٢	٤ / مكافحة المخدرات		٤	٥ / حرس الحدود			✓			مقالتي
الأجهزة في وزارة الداخلية	الرقم	المهام																						
١ / الشرطة		٣																						
٢ / الإدارة العامة للمرور		١																						
٣ / الدفاع المدني		٢																						
٤ / مكافحة المخدرات		٤																						
٥ / حرس الحدود																								
- مجموع تصنيف الأسئلة:																								
			٢	١	-	مجموع تنوع الأسئلة:																		

الوحدة : مؤسسات الدولة : الدرس : الحماية الاجتماعية والصحية

رقم	الهدف التعليمي	السؤال	تصنيف السؤال			نوع السؤال
			معرفة	تطبيق	استدلال	
١	معرفة مهام وزارة العمل والتنمية الاجتماعية	<ul style="list-style-type: none"> اختاري الإجابة الصحيحة بوضع خط تحتها: - تقدم الوزارة خدمات الحماية الاجتماعية من خلال عدد من الاعمال منها: حماية النساء والأطفال / سلامة الحجاج / بناء الطرق / إطفاء الحرائق 	✓			مقالي
٢	معرفة مهام وزارة الصحة	<ul style="list-style-type: none"> مثلي لما يأتي: - اعمال وزارة الصحة: 		✓		مقالي
٣	معرفة مفهوم مراكز الرعاية الصحية الأولية	<ul style="list-style-type: none"> اكتبي كلمة (صح) أمام العبارة الصحيحة وكلمة (خطأ) أمام العبارة الخاطئة: - الرعاية الصحية الأولية هي مراكز تنشأ في الأحياء لتقديم الخدمات الصحية والوقائية () - المدن الطبية هي مستشفيات صغيرة () 	✓			مقالي
٤	تعداد أبرز المدن الطبية السعودية	<ul style="list-style-type: none"> املئي الفراغات بما يناسبها من عبارات: - من أبرز المدن الطبية السعودية 	✓			مقالي
٥	ذكر مهام هيئة الهلال الأحمر السعودي	<ul style="list-style-type: none"> اكتبي كلمة (صح) أمام العبارة الصحيحة وكلمة (خطأ) أمام العبارة الخاطئة: - تقدم هيئة الهلال الأحمر خدمات الإسعاف () 	✓			مقالي
	مجموع تصنيف الاسئلة:		٤	١	-	مجموع تنوع الأسئلة:
			٤	١		٤

الوحدة : الأمن الوطني الدرس : الأمن

رقم	الهدف التعليمي	السؤال	تصنيف السؤال			نوع السؤال	
			معرفة	تطبيق	استدلال	مقالي	موضوعي
١	معرفة مفهوم الأمن	<ul style="list-style-type: none"> اختاري الإجابة الصحيحة بوضع خط تحتها: هو الطمأنينة والاستقرار الذي نشعر به في وطننا الإرهاب - الجوع - البرد - الأمن من نتائج الأمن: الحروب - المرض - الرخاء والنعمة - الفقر 	✓			✓	
٢	التمثيل لأعمال رجل الأمن	<ul style="list-style-type: none"> مثلي لما يأتي: اثنين أعمال رجل الأمن؟ 		✓			✓
٣	وصف كيفية المحافظة على نعمة الأمن	<ul style="list-style-type: none"> صفي كيف نحافظ على نعمة الأمن؟ 			✓		✓
	- مجموع تصنيف الاسئلة:		١	١	١	٢	١

الدرس : أجهزة الأمن

الوحدة : الأمن الوطني

رقم	الهدف التعليمي	السؤال	تصنيف السؤال			نوع السؤال	
			معرفة	تطبيق	استدلال	مقال	موضوعي
١	ذكر الأجهزة الحكومية التي تتولى مسؤولية الأمن	<ul style="list-style-type: none"> أكمل خارطة المفاهيم التالية: <div style="text-align: center;"> <div style="border: 1px dashed black; padding: 5px; display: inline-block;">الأجهزة التي تتولى مسؤوليات الأمن في وطني</div> </div>			✓	✓	
٢	معرفة واجبنا اتجاه شهداء الواجب والوطن	- ما واجبك اتجاه شهداء الواجب والوطن؟		✓		✓	
	مجموع تصنيف الاسئلة:			١	-		١