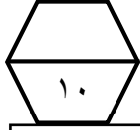


اسم الطالب /

ورقة عمل (الأسبوع التاسع) للصف الثالث الابتدائي الفصل الدراسي الثاني للعام الدراسي ١٤٤٧ هـ




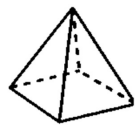

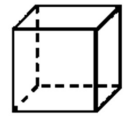

المهارات
الزمن : قراءة الساعة
المجسمات

ضع علامة (√) أمام العبارة الصحيحة وعلامة (x) أمام العبارة الخاطئة :	
أ الساعة الرقمية تظهر الزمن بالأرقام .	١
ب المجسم له طول وعرض فقط	

ما الزمن الذي تشير إليه الساعة الرقمية المجاورة :	
	٢
أ سبع وخمس دقائق	ب سبع وخمسين دقيقة
ج خمس وسبع دقائق	د خمس وسبعين دقيقة

ما الزمن الذي تشير إليه ساعة العقارب المجاورة :	
	٣
أ تسع وثلاث دقائق	ب تسع وخمسة عشر دقيقة
ج ثلاث وتسع دقائق	د عشر وثلاث دقائق

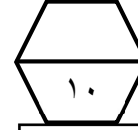
صف المجسم المجاور مستعملا (عدد الأوجه ، عدد الأحرف ، عدد الرؤوس)		
	٤	
عدد الأوجه	عدد الأحرف	عدد الرؤوس

حدد اسم كل مجسم مما يأتي :				
				٥
.....	



اسم الطالب /

ورقة عمل (الأسبوع التاسع) للصف الثالث الابتدائي الفصل الدراسي الثاني للعام الدراسي ١٤٤٧ هـ




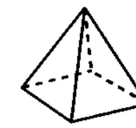

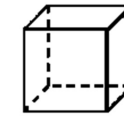

المهارات
الزمن : قراءة الساعة
المجسمات

ضع علامة (√) أمام العبارة الصحيحة وعلامة (x) أمام العبارة الخاطئة :	
أ الساعة الرقمية تظهر الزمن بالأرقام .	١
ب المجسم له طول وعرض فقط	

ما الزمن الذي تشير إليه الساعة الرقمية المجاورة :	
	٢
أ سبع وخمس دقائق	ب سبع وخمسين دقيقة
ج خمس وسبع دقائق	د خمس وسبعين دقيقة

ما الزمن الذي تشير إليه ساعة العقارب المجاورة :	
	٣
أ تسع وثلاث دقائق	ب تسع وخمسة عشر دقيقة
ج ثلاث وتسع دقائق	د عشر وثلاث دقائق

صف المجسم المجاور مستعملا (عدد الأوجه ، عدد الأحرف ، عدد الرؤوس)		
	٤	
عدد الأوجه	عدد الأحرف	عدد الرؤوس

حدد اسم كل مجسم مما يأتي :				
				٥
.....	

