



موقع اجاباتكم

Google

للمزيد اكتب
في جوجل



🔍 موقع اجاباتكم

**موقع اجاباتكم التعليمي يوفر كل ما يحتاجه الطالب
والمعلم من حلول الكتب توزيع المنهج. اختبارات
نهائية وفترية ملخصات. أوراق عمل والكثير**

((تقويم مهارات الصف الأول الفترة الأولى (الفترة الدراسية الثانية (١٤٤٧ هـ))

اسم الطالب / ة الصف:

(١١ درجة)

* السؤال الأول : أصل بين كل عبارته وما يناسبها :



شمس

مطر

غائم

مثلج




الخريف

الشتاء

الصيف

الربيع



الغاز

السائل

الصلب




السؤال الثاني : أ) اختاري الإجابة الصحيحة :

(٩ درجات)

١ - في السنة			
٥ فصول	٤ فصول	٦ فصول	فصل واحد
٢- يكون الجو معتدل وتنمو النباتات في فصل			
الصيف	الخريف	الربيع	الشتاء
٣- تقاس درجة الحرارة ب			
مقياس المطر	دوارة الرياح	مقياس الحرارة	الميزان
٤- أشد فصول السنة حرارة فصل			
الخريف	الصيف	الشتاء	الربيع
٥- تتحرك الرياح ب			
ببطء	لا تتحرك	ببطء او سرعه كبيره	_____
٦ - حالة السماء والجو خلال اليوم يسمى			
الفصل	الطقس	الحرارة	_____

ب) صلي كل صورة بالوعاء الذي تشغله :



تمنياي لكن بالتوفيق ،،،،،،،،،،، معلمة المادة / وداد الحري .

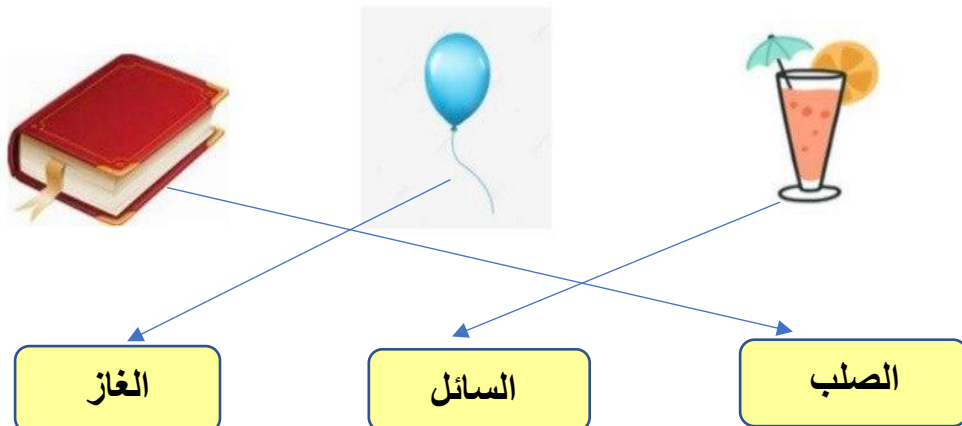
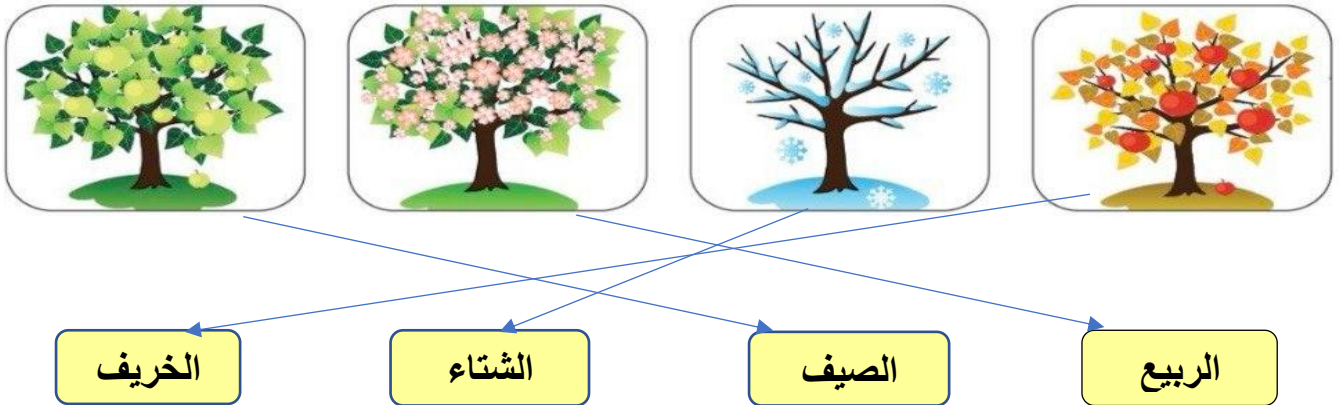
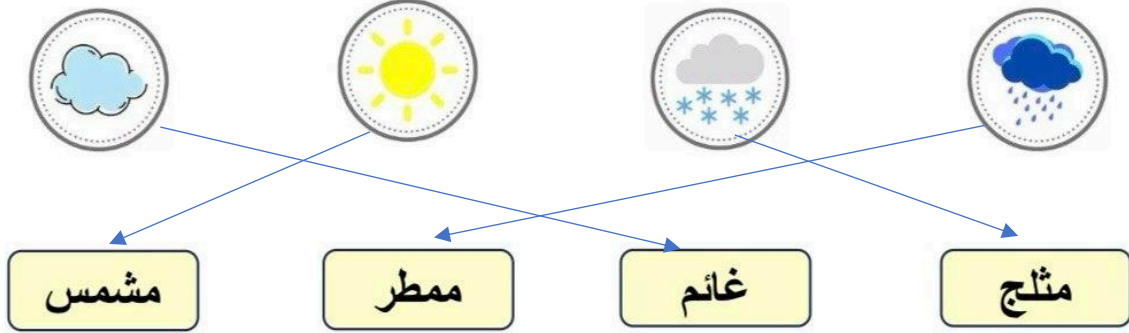
(قناة أ . وداد الحري)

((تقويم مهارات الصف الأول الفترة الأولى (الفترة الدراسية الثانية (١٤٤٧ هـ))

اسم الطالب / ة ((نموذج إجابة)) الصف:

(١١ درجة)

* السؤال الأول : أصل بين كل عبارته وما يناسبها :

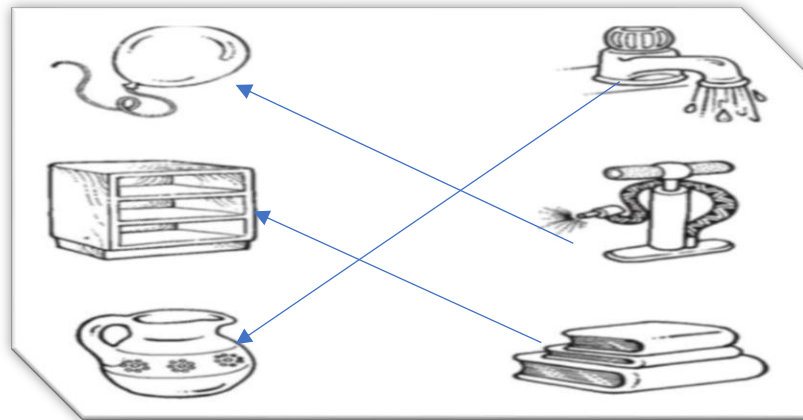


السؤال الثاني : أ) اختاري الإجابة الصحيحة :

(٩ درجات)

١ - في السنة			
٥ فصول	٤ فصول	٦ فصول	فصل واحد
٢- يكون الجو معتدل وتنمو النباتات في فصل			
الصيف	الخريف	الربيع	الشتاء
٣- تقاس درجة الحرارة ب			
مقياس المطر	دوارة الرياح	مقياس الحرارة	الميزان
٤- أشد فصول السنة حرارة فصل			
الخريف	الصيف	الشتاء	الربيع
٥- تتحرك الرياح ب			
ببطء	لا تتحرك	ببطء او سرعه كبيره	_____
٦ - حالة السماء والجو خلال اليوم يسمى			
الفصل	الطقس	الحرارة	_____

ب) صلي كل صورة بالوعاء الذي تشغله :



للمزيد من الاختبارات اضغط هنا

