

United Arab Emirates  
Ministry of Education  
Al Bahar School for Basic Education  
D 5



الإمارات العربية المتحدة  
وزارة التربية والتعليم  
مدرسة البحر للتعليم الأساسي ح 1  
نطاق د 5

# مراجعة العلوم للصف الأول الأساسي



إعداد وتقديم  
المعلمتين : سارة قاسم و هيفاء سعيد

العام الدراسي 2017 / 2018

ضع إشارة (✓) أمام العبارة الصحيحة وإشارة (x) أمام العبارة الخاطئة فيما يلي :


- (1) (\_\_\_\_) الكائنات الحية تنمو وتتغير.
- (2) (\_\_\_\_) تحتاج النباتات إلى الماء فقط .
- (3) (\_\_\_\_) الكتاب والقلم من الكائنات الحية.
- (4) (\_\_\_\_) الجذور تمتص الماء والمواد الغذائية من التربة.
- (5) (\_\_\_\_) تحمي الثمرة البذور التي توجد بداخلها.
- (6) (\_\_\_\_) الخياشيم تساعد الأسماك في التنفس.
- (7) (\_\_\_\_) المأوى هو المكان التي تعيش فيه الحيوانات وتشعر بالأمان.
- (8) (\_\_\_\_) الطيور حيوانات يغطي جسمها الشعر أو الفراء.
- (9) (\_\_\_\_) يعد النمل والفراشات من الحشرات.

# حوط الإجابة الصحيحة



1. كائن غير حي



2. كائن حي .



3. ما هو الجزء المسؤول عن صنع الغذاء للنبته.



4. ما هو الشيء الذي لا تحتاج إليه النباتات كي تنمو.



## حوط الإجابة الصحيحة

5. أي شكل يظهر كائناً حياً؟



6. أي شكل لا يظهر كائناً حياً؟



7. حوطي الشيء الذي تحتاج إليه النبتة لتنمو؟



8. حوطي على الشيء الذي لا تحتاج إليه النبتة لتمنو؟



فأنتِ تأكلين أي جزء من النبتة؟



9. عندما تأكلين

أوراق

ساق

جذور

فأنتِ تأكلين أي جزء من النبتة؟



10. عندما تأكلين

أوراق

ساق

جذور

فأنتِ تأكلين أي جزء من النبتة؟



11. عندما تأكلين

أوراق

ساق

جذور

فأنتِ تأكلين أي جزء



12. عندما تأكلين  
من النبتة؟

بذره

أوراق

ساق



13. يسمى الساق السميك لهذه الشجرة؟

بذره

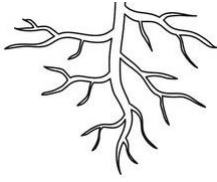
جذع

ثمره

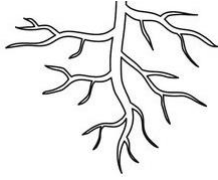
## ( وظائف أجزاء النبات )

حوط الإجابة الصحيحة :

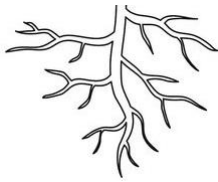
1- الجزء المسؤول عن إنتاج البذور؟



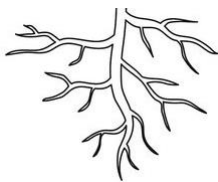
2- الجزء المسؤول عن نقل الغذاء والماء؟



3- الجزء المسؤول عن صنع الغذاء؟



4- الجزء المسؤول عن تثبيت النبات في الأرض؟





# حوطي الإجابة الصحيحة

جزء من النبات الذي ينتج البذور هو



جزء من النبات الذي يمكن أن يتحول إلى نبات جديد هو

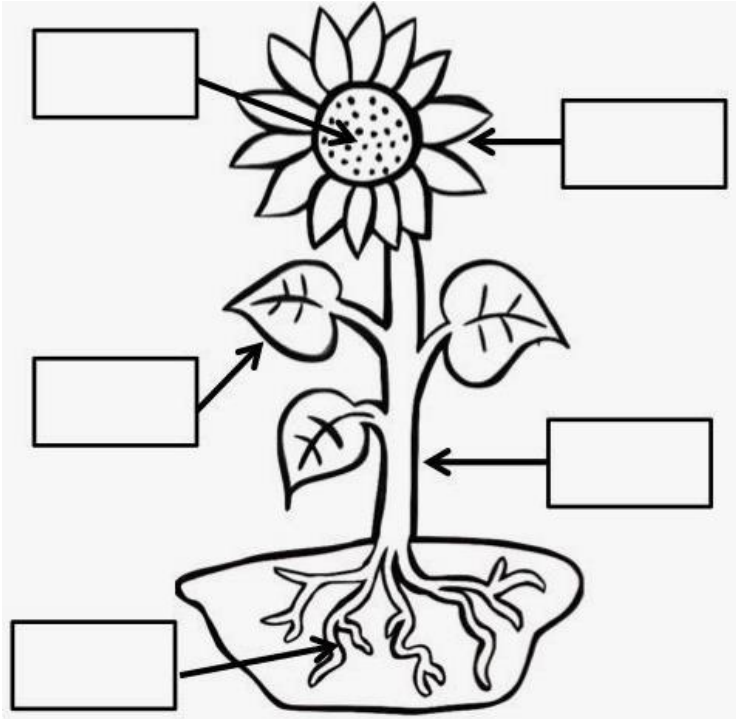


جزء من النبات الذي ينمو حول البذور هو





أكتب الرقم الصحيح لأجزاء النبات في المكان المناسب.



1. الساق

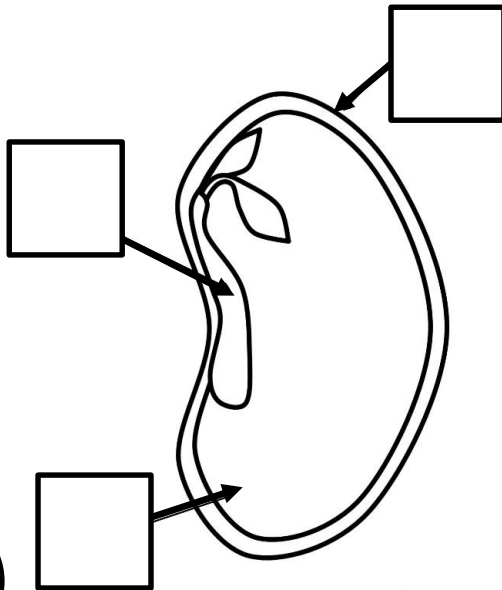
2. الأوراق

3. الزهرة

4. البذور

5. الجذور

أكتب الرقم الصحيح لأجزاء البذرة في مكانها المناسب



1. البادرة

( النبتة الصغيرة )

2. الغلاف الخارجي

3. غذاء البذرة

استخدمي كل كلمه مره واحده لإكمال الجمل

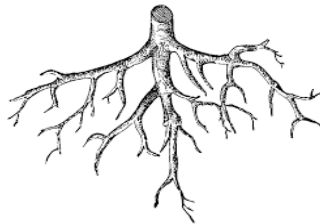
# جذور ساق أوراق



1. كلاهما



2. كلاهما




3. كلاهما

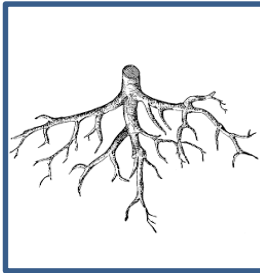
صلي الكلمة بالصورة التي تعبر عنها



جذور



ساق

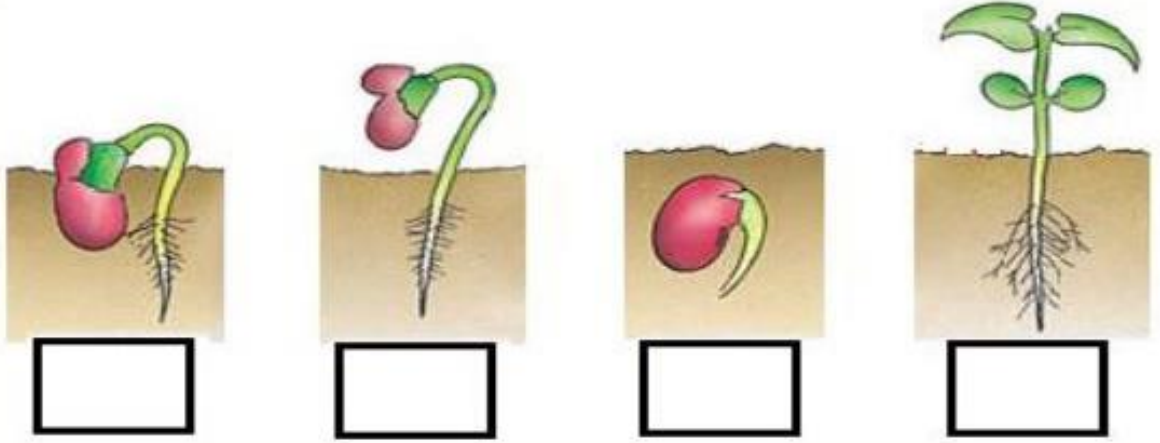


مواد غذائية




أوراق


رتبي دورة حياة النبات بتسلسل بكتابة الأرقام من  
4-1 في المكان المناسب:



أي من النباتات التالية تعيش في الصحراء:



أي من النباتات التالية نباتات قطبية:





# حوطي الإجابة الصحيحة



1. أي من الحيوانات التالية ليست من الحشرات؟





2. أي من الحيوانات التالية يتكون جسمها من ثلاث أجزاء؟




3. أي من الحيوانات التالية تضع البيض فقط؟



4. أي من الحيوانات التالية تلد فقط؟



## صنفي الحيوانات التالية على حسب المجموعة




4



3




2




1

تبيض	تلد
<hr/> <hr/>	<hr/> <hr/>


## صنفي الحيوانات التالية على حسب المجموعة




4



3



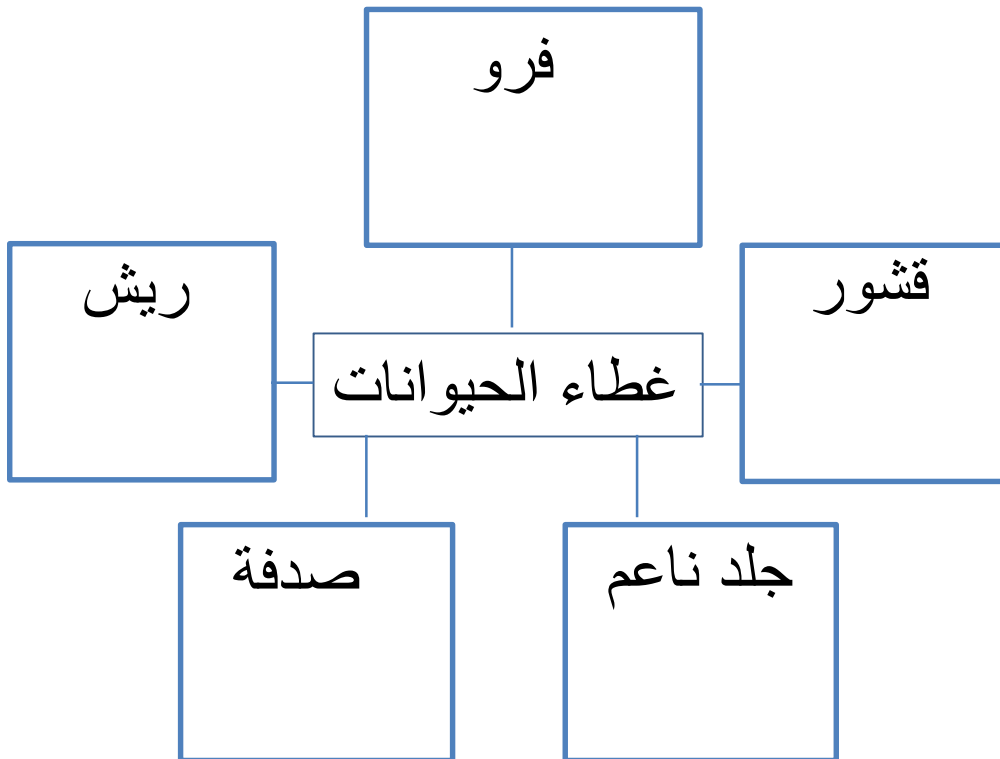



2



1


تتنفس بالخياشيم	تتنفس بالرئتان
<hr/> <hr/>	<hr/> <hr/>

صنفي الحيوانات الآتية بكتابة الرقم في المكان  
الصحيح وفق ما يغطي جسمها:





صلي بخط مستقيم بين الحيوان والمجموعة التي  
ينتمي لها:




الزواحف




الطيور




البرمائيات



الأسماك




الحشرات



انظري إلى هذه الصور.

أي مما يلي غير صحيح بخصوص الأسماك؟




- 1) تعيش في الماء.
- 2) لها رئتان.
- 3) لها زعانف.
- 4) لها قشور.

أي مما يلي غير صحيح بخصوص الثدييات؟



- 1) جسمها مغطاة بالشعر أو الفراء.
- 2) لها رئتان.
- 3) تلد وتعتني بصغارها.
- 4) لها قشور.

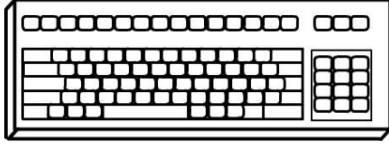
أي مما يلي غير صحيح بخصوص البرمائيات؟



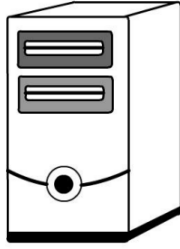
- 1) تعيش في الماء واليابسة.
- 2) لها ريش.
- 3) تنتقل إلى اليابسة عندما تكبر.
- 4) لها جلد أملس ورطب.

# أجزاء الحاسوب


صل الكلمات التالية مع جزئها الصحيح فيما يلي



لوحة المفاتيح



الفأرة



الطابعة



محرك الأقراص



الشاشة