
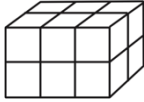

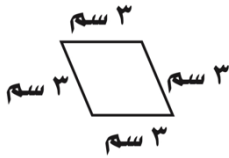


الاسم	الصف	الرابع /....	اختبار الفصل التاسع (القياس)
-------	-------	------	--------------	--------------------------------

س١ / اختار الإجابة الصحيحة لكل مما يلي :

١.	أفضل تقدير لطول الحافلة هو:	أ	١ متر	ب	١٠ أمتار	ج	١٠ سنتيمترات	د	١٠ كيلومترات
٢.	أي مما يلي يعد طوله يساوي ١٠ سنتيمترات؟	أ	الشجرة	ب	النافذة	ج	الإصبع	د	الخروف
٣.	أي مما يلي يعد التقدير الأنسب لقياس سعة الشكل المجاور؟								
٤.	الوحدة المناسبة لقياس سعة حوض السباحة	أ	٢ مللتر	ب	٢ لتر	ج	٢٠٠ مللتر	د	٢٠٠ لتر
٥.	أي الوحدات التالية تعد الأفضل لقياس كتلة قطعة شوكولاتة؟	أ	لتر	ب	الجرام	ج	الكيلوجرام	د	المتر
٦.	ما حجم الجسم في الشكل المجاور؟								
٧.	كم تكون الساعة بعد ساعة وعشر دقائق؟	أ	١٠:٣٠	ب	١١:٣٠	ج	١١:٢٠	د	١١:٠٠
٨.	ما مساحة الشكل المجاور؟								
		أ	١٤ وحدة مربعة	ب	١٢ وحدة مربعة	ج	١٦ وحدة مربعة	د	١٣ وحدة مربعة
	س٢ (أوجد محيط الشكل المجاور؟								
	س٣ (اشترى محمود سجادة لغرفته طولها ٥ م و عرضها ٤ م ، فما مساحتها؟								