

التاريخ : / / ١٤٤٦
الفصل الدراسي: الأول (الدور الأول)
الزمن : ساعة



المملكة العربية السعودية
وزارة التعليم
إدارة التعليم بمنطقة
مكتب التعليم بمحافظة

اختبار مادة الدراسات الاجتماعية للصف الرابع الابتدائي لعام ١٤٤٦

اسم الطالب: رقم الجلوس ()

المراجع	المصحح	الدرجة رقماً	الدرجة كتابة	رقم السؤال
				السؤال الأول 15
				السؤال الثاني 15
				السؤال الثالث 10
	كتابة		رقماً	الدرجة النهائية
				40

استعن بالله أولاً، ثم أجب على الأسئلة الآتية وتأكد من إجابتك على جميع الأسئلة قبل تسليم ورقة الإجابة

اختر الإجابة الصحيحة فيما يلي :

1 يقع وطني المملكة العربية السعودية في :		
وسط العالم	شمال العالم	جنوب العالم
2 من عناصر التاريخ :		
الشخصيات	الموقع	الانتاج
3 من عناصر الجغرافيا :		
البيئة	الأحداث	التبادل التجاري
4 من عناصر الاقتصاد:		
الموارد والاستهلاك	الحركة	الزمن
5 من عناصر الحكومة :		
نظام الحكم	الأحداث	البيئة
6 يوم التأسيس لبلادي يوافق يوم :		
15 يناير	22 فبراير	مايو 12
7 اليوم الوطني لبلادي يوافق يوم:		
15 يناير	23 سبتمبر	3 مايو
8 علم وطني لونه :		
أبيض	أخضر	أحمر
9 عاصمة المملكة العربية السعودية هي مدينة:		
جدة	الرياض	الطائف
10 يقع المسجد الحرام في مدينة :		
جدة	مكة المكرمة	المدينة المنورة
11 هو الشخص الذي يدرس الماضي ويكتب عنه :		
الجغرافي	المؤرخ	السياسي
12 كان الناس قديما يكتبون ويرسمون أحداثهم التاريخية على :		
الجوال	الحجر	جهاز الحاسب
13 يتكون وطني المملكة العربية السعودية من :		
10 مناطق	13 منطقة	11 منطقة
14 هو الشخص الذي يدرس مظاهر الأرض وطبيعتها :		
المؤرخ	الجغرافي	السياسي
15 التعامل السليم مع البيئة :		
قطع الأشجار	أنظف المكان قبل أن أتركه	رمي النفايات

ضع علامة (v) أمام الإجابة الصحيحة وعلامة (x) أمام الإجابة الخاطئة :

1	نظام الحكم في المملكة العربية السعودية نظام ملكي .
2	من طرق المحافظة على العلم الوطني السعودي رفعه عاليا .
3	الشعار السعودي الرسمي هو سيفان متقاطعان وسطهما نخلة.
4	من الرموز الوطنية في المملكة العربية السعودية العلم .
5	النشيد الوطني هو النشيد الرسمي للمملكة العربية السعودية .
6	الحكومة : النظام الذي يدار به الوطن .
7	التاريخ هو دراسة أحداث الماضي وتفسيرها لتوضيح أثرها في الحاضر والمستقبل
8	الإشاعة هي نقل الكلام دون التثبت من صحته.
9	جميع أحداث التاريخ تقوم على الترتيب الزمني وتتابعه.
10	لا ينعكس العلم السعودي مثل غيره من أعلام الدول الأخرى
11	الجنوب الغربي والشمال الشرقي من الجهات الفرعية .
12	من طرق المحافظة على البيئة ترك بقايا الطعام في مكان جلوسي.
13	مما نعمله في اليوم الوطني تخريب الممتلكات العامة.
14	من فروع الدراسات الاجتماعية الرياضيات .
15	الإشاعة لاتضر المجتمع .

10

السؤال الثالث:

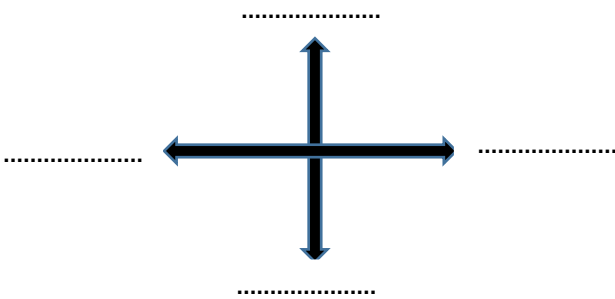
(أ) املأ الفراغات بما يناسبها من الكلمات التالية:

(الدليل - التاريخ - أولية - المكان - البضائع - بشرية)

- 1- يبحث المؤرخ عن من أجل أن يدرس
- 2- الآثار والشواهد القديمة هي مصادر
- 3- الجزء المحدد على الأرض صغيرا كان أو كبير يسمى
- 4- الحركة هي انتقال الناس و من مكان إلى آخر.
- 5- للجغرافيا فرعان : طبيعية و

(ب) حدد الجهات الأصلية في الشكل الذي أمامك :

(الشمال - الجنوب - الشرق - الغرب)



تمنياتي لكم بالتوفيق والنجاح

التاريخ : / / ١٤٤٦ هـ
الفصل الدراسي: الأول (الدور الأول)
الزمن : ساعة



المملكة العربية السعودية
وزارة التعليم
إدارة التعليم بمنطقة
مكتب التعليم بمحافظة

اختبار مادة الدراسات الاجتماعية للصف الرابع الابتدائي لعام ١٤٤٦ هـ

نموذج الإجابة

السؤال	اسم
السؤال الأول	١٥
السؤال الثاني	١٥
السؤال الثالث	١٠
الدرجة النهائية	رقما
كتابة	
	40

استعيني بالله أولاً , ثم أجبني على الأسئلة الآتية وتأكدي من إجابتك على جميع الأسئلة قبل تسليم ورقة الإجابة



موقع منهجي
mnhaji.com

اختاري الإجابة الصحيحة فيما يلي :

١	يقع وطني المملكة العربية السعودية في :	وسط العالم	شمال العالم	جنوب العالم
٢	من عناصر التاريخ :	الشخصيات	الموقع	الانتاج
٣	من عناصر الجغرافيا :	البيئة	الأحداث	التبادل التجاري
٤	من عناصر الاقتصاد:	الموارد والاستهلاك	الحركة	الزمن
٥	من عناصر الحكومة :	نظام الحكم	الأحداث	البيئة
٦	يوم التأسيس لبلادي يوافق يوم :	١٥ يناير	٢٥ مايو	٢٢ فبراير
٧	اليوم الوطني لبلادي يوافق يوم:	١٥ يناير	٣ مايو	٢٣ سبتمبر
٨	علم وطني لونه :	أبيض	أصفر	أخضر
٩	عاصمة المملكة العربية السعودية هي مدينة:	جدة	مكة المكرمة	الرياض
١٠	يقع المسجد الحرام في مدينة :	جدة	المدينة المنورة	مكة المكرمة
١١	هو الشخص الذي يدرس الماضي ويكتب عنه :	الجغرافي	المؤرخ	السياسي
١٢	كان الناس قديما يكتبون ويرسمون أحداثهم التاريخية على :	الجوال	الحجر	جهاز الحاسب
١٣	يتكون وطني المملكة العربية السعودية من :	١٠ مناطق	١٣ منطقة	١١ منطقة
١٤	هو الشخص الذي يدرس مظاهر الأرض وطبيعتها :	المؤرخ	الجغرافي	السياسي
١٥	التعامل السليم مع البيئة :	قطع الأشجار	أنظف المكان قبل أن أتركه	رمي النفايات

ضع علامة (√) أمام الإجابة الصحيحة وعلامة (x) أمام الإجابة الخاطئة :

صح	١	نظام الحكم في المملكة العربية السعودية نظام ملكي .
صح	٢	من طرق المحافظة على العلم الوطني السعودي رفعه عاليا .
صح	٣	الشعار السعودي الرسمي هو سيفان متقاطعان وسطهما نخلة.
صح	٤	من الرموز الوطنية في المملكة العربية السعودية العلم .
صح	٥	النشيد الوطني هو النشيد الرسمي للمملكة العربية السعودية .
صح	٦	الحكومة : النظام الذي يدار به الوطن .
صح	٧	التاريخ هو دراسة أحداث الماضي وتفسيرها لتوضيح أثرها في الحاضر والمستقبل
صح	٨	الإشاعة هي نقل الكلام دون التثبت من صحته.
صح	٩	جميع أحداث التاريخ تقوم على الترتيب الزمني وتتابعه.
خطأ	١٠	من طرق المحافظة على البيئة ترك بقايا الطعام في مكان جلوسي.
خطأ	١١	الشرق والغرب من الجهات الفرعية .
خطأ	١٢	ينكس العلم السعودي مثل غيره من أعلام الدول الأخرى.
خطأ	١٣	مما نعمله في اليوم الوطني تخريب الممتلكات العامة.
خطأ	١٤	من فروع الدراسات الاجتماعية الرياضيات .
خطأ	١٥	الإشاعة لاتضر المجتمع .

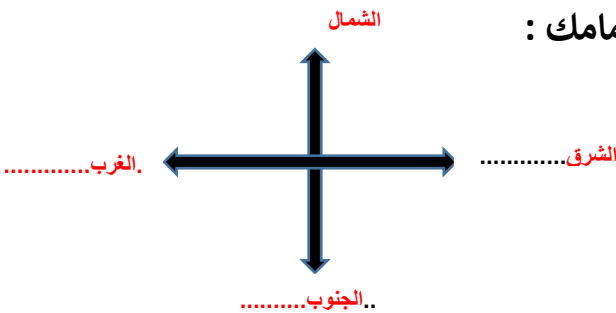
أ) املأ الفراغات بما يناسبها من الكلمات التالية:

(الدليل - التاريخ - أولية - المكان - بشرية - البضائع)

- ١- يبحث المؤرخ عن ..**الدليل**..... من أجل أن يدرس ...**التاريخ**.....
- ٢- الآثار والشواهد القديمة هي مصادر ..**أولية**.....
- ٣- الجزء المحدد على الأرض صغيرا كان أو كبير يسمى ...**المكان**.....
- ٤- الحركة هي انتقال الناس و **البضائع**..... من مكان إلى آخر.
- ٥- للجغرافيا فرعان : طبيعية و**بشرية**.....

ب) حدد الجهات الأصلية في الشكل الذي أمامك :

(الشمال - الجنوب - الشرق - الغرب)





العام الدراسي: ١٤٤٦ هـ
المادة: الدراسات الاجتماعية
الصف: الرابع ابتدائي
الزمن: ساعة ونصف
الدور: الأول

الاختبار النهائي للفصل الدراسي الأول

الدرجة رقمًا	الدرجة كتابة	المصحح	التوقيع	المراجع	التوقيع
	40				

اسم الطالب: رقم الجلوس:

السؤال الأول: ضع علامة (√) أمام العبارة الصحيحة وعلامة (X) أمام العبارة الخاطئة:

10

1	العلم هو رمز الدولة وهويتها.
2	الانتاج من عناصر التاريخ.
3	الإشاعة مفيدة للمجتمع.
4	لغة المملكة العربية السعودية هي اللغة العربية.
5	معرفة السبب والنتيجة لا تساعدنا على فهم التاريخ.
6	يدرس المؤرخ الأحداث مستعينا بالأدلة التي في المصادر.
7	من نتائج توحيد المملكة العربية السعودية هي اجتماع المواطنين في ظل دولة قوية.
8	المملكة العربية السعودية تتكون من 20 منطقة.
9	الخط الزمني يفيدنا في التخطيط للأعمال المستقبلية.
10	الترتيب الزمني للأحداث غير مهم.

السؤال الثاني : اختر الإجابة الصحيحة:

10

1- هي النظام الذي يدار به الوطن	أ - النظام	ب - الحكومة	ج - الثقافة
2- في وسط علم المملكة العربية السعودية كلمة	أ - الله أكبر	ب - استغفر الله	ج - لا إله إلا الله محمد رسول الله
3- هو شكل يرمز الى معانٍ ترتبط بالوطن	أ - الشعار الوطني	ب - النشيد	ج - التاريخ
4- هو دراسة أحداث الماضي وتفسيرها لتوضيح أثرها في الحاضر والمستقبل	أ - الجغرافيا	ب - التاريخ	ج - الاقتصاد
5- من المصادر الاولية	أ - الآثار	ب - الكتب	ج - جميع ما سبق
6- كان الناس قديما يكتبون ويرسمون أحداثهم التاريخية على	أ - الحاسب	ب - الكمبيوتر الشخصي	ج - الجلد
7- هو رسم تخطيطي يوضح الترتيب الذي وقعت فيه الاحداث وفق تسلسلها الزمني	أ - الخط المكاني	ب - الخط الزمني	ج - الرسم
8- هي كل ما يتعلق بالكرة الارضية وتكوينها	أ - الجغرافيا	ب - الفلسفة	ج - الكيمياء

9- هي المنطقة التي يعيش فيها الانسان والحيوان والنبات		
أ - التاريخ	ب - البيئة	ج - الصحراء
10- بالحركة تُعرف		
أ - الاماكن	ب - المنتجات	ج - جميع ما سبق

السؤال الثالث: ضع الكلمات التالية في الفراغات المناسبة :

10

الناس -- قلب -- الاجتماعية -- التاريخية -- الوطني -- المصادر -- المكان -- النتيجة -- السعودية -- الفطرية	
1	الهوية الوطنية هي الخصائص والسمات التي يتشارك فيها المجتمع السعودي.
2	الدراسات هي الدراسات التي ترتبط بالإنسان وسلوكه واحتياجاته وقيمه.
3	تقع المملكة العربية السعودية في العالم.
4	اليوم هو يوم توحيد البلاد.
5 هي المواد التي يستعين بها المؤرخ للحصول على الادلة.
6 في التاريخ هي ما ينتج عن الحدث.
7	الخط الزمني يوضح أبرز الانجازات المؤثرة.
8 جزء محدد على الارض صغيرا كان أو كبيرا.
9	الحياة هي المخلوقات الحية من حيوانات ونباتات طبيعية تعيش دون تدخل الانسان.
10	الحركة هي انتقال والبضائع من مكان الى آخر.

السؤال الرابع: 1- إختَر من المجموعة (أ) ما يناسبها في المجموعة (ب) مستعينا " بالأرقام"

10

المجموعة (أ)		المجموعة (ب)	
الأرقام		الأرقام	
1	التاريخ		أين هو
2	الثقافة الوطنية		من الجهات الأصلية
3	الموقع		مؤرخ
4	قارة آسيا		مثال لعنوان وطني
5	الشرق		القيم والافكار
6	عنوان المدرسة		المملكة العربية السعودية

2- اكمل الفراغات التالية

- 1- من أسئلة التاريخ و
- 2- الجغرافيا فرعان و

الاختبار النهائي للفصل الدراسي الأول

التوقيع

الدرجة

رقماً

40

نموذج الإجابة

اسم الطالب:

س:

السؤال الأول: ضع علامة (√) أمام العبارة الصحيحة وعلامة (X) أمام العبارة الخاطئة:

10

√	1	العَلَم هو رمز الدولة وهويتها.
X	2	الانتاج من عناصر التاريخ.
X	3	الإشاعة مفيدة للمجتمع.
√	4	لغة المملكة العربية السعودية هي اللغة العربية.
X	5	معرفة السبب والنتيجة لا تساعدنا على فهم التاريخ.
√	6	يدرس المؤرخ الأحداث مستعيناً بالأدلة التي في المصادر.
√	7	من نتائج توحيد المملكة العربية السعودية هي اجتماع المواطنين في ظل دولة قوية.
X	8	المملكة العربية السعودية تتكون من 20 منطقة.
√	9	الخط الزمني يفيدنا في التخطيط للأعمال المستقبلية.
X	10	الترتيب الزمني للأحداث غير مهم.

السؤال الثاني : اختر الإجابة الصحيحة:

10

1- هي النظام الذي يدار به الوطن.		
أ - النظام	ب - الحكومة	ج - الثقافة
2- في وسط علم المملكة العربية السعودية كلمة		
أ - الله أكبر	ب - استغفر الله	ج - لا إله إلا الله محمد رسول الله
3- هو شكل يرمز الى معان ترتبط بالوطن		
أ - الشعار الوطني	ب - النشيد	ج - التاريخ
4- هو دراسة أحداث الماضي وتفسيرها لتوضيح أثرها في الحاضر والمستقبل		
أ - الجغرافيا	ب - التاريخ	ج - الاقتصاد
5- من المصادر الاولية		
أ - الآثار	ب - الكتب	ج - جميع ما سبق
6- كان الناس قديماً يكتبون ويرسمون أحداثهم التاريخية على		
أ - الحاسب	ب - الكمبيوتر الشخصي	ج - الجلد
7- هو رسم تخطيطي يوضح الترتيب الذي وقعت فيه الاحداث وفق تسلسلها الزمني		
أ - الخط المكاني	ب - الخط الزمني	ج - الرسم
8- هي كل ما يتعلق بالكرة الارضية وتكوينها		
أ - الجغرافيا	ب - الفلسفة	ج - الكيمياء

9- هي المنطقة التي يعيش فيها الانسان والحيوان والنبات		
أ - التاريخ	ب - البيئة	ج - الصحراء
10- بالحركة تُعرف		
أ - الاماكن	ب - المنتجات	ج - جميع ما سبق

السؤال الثالث: ضع الكلمات التالية في الفراغات المناسبة :

10

الناس -- قلب -- الاجتماعية -- التاريخية -- الوطني -- المصادر -- المكان -- النتيجة -- السعودية -- الفطرية	
1	الهوية الوطنية السعودية هي الخصائص والسمات التي يتشارك فيها المجتمع السعودي.
2	الدراسات الاجتماعية..... هي الدراسات التي ترتبط بالإنسان وسلوكه واحتياجاته وقيمه.
3	تقع المملكة العربية السعودية في قلب العالم.
4	اليوم الوطني..... هو يوم توحيد البلاد.
5 المصادر..... هي المواد التي يستعين بها المؤرخ للحصول على الادلة.
6 النتيجة..... في التاريخ هي ما ينتج عن الحدث.
7	الخط الزمني يوضح أبرز الانجازات التاريخية..... المؤثرة.
8 المكان..... جزء محدد على الارض صغيرا كان أو كبيرا.
9	الحياة الفطرية..... هي المخلوقات الحية من حيوانات ونباتات طبيعية تعيش دون تدخل الانسان.
10	الحركة هي انتقال الناس..... والبضائع من مكان الى آخر.

السؤال الرابع: 1- اختر من المجموعة (أ) مايناسبها في المجموعة (ب) مستعينا " بالأرقام"

10

المجموعة (أ)	الأرقام	المجموعة (ب)
1 التاريخ	3	أين هو
2 الثقافة الوطنية	5	من الجهات الأصلية
3 الموقع	1	مؤرخ
4 قارة آسيا	6	مثال لعنوان وطني
5 الشرق	2	القيم والافكار

2- اكمل الفراغات التالية

- 1- من أسئلة التاريخ ماذا حدث ومتى حدث
- 2- الجغرافيا فرعان طبيعية وبشرية



موقع منهجي

mnhaji.com

المصحح : التوقيع:

المراجع : التوقيع:

الدرجة كتابة: درجة

اسم الطالب : رقم الجلوس ()

السؤال الأول / اختر الإجابات الصحيحة فيما يلي بوضع دائرة حولها:

20

1	عاصمة المملكة العربية السعودية	أ	الدمام	ب	تبوك	ج	الرياض
2	الشعار السعودي الرسمي هو سيفان متقاطعان وسطهما	أ	درع	ب	صقر	ج	نخلة
3	النتيجة في التاريخ هي ما ينتج عن	أ	المصادر	ب	الكتابة	ج	الحدث
4	وطني يتكون من	أ	15 منطقة	ب	14 منطقة	ج	13 منطقة
5	من عناصر الجغرافيا	أ	الاحداث	ب	الانتاج	ج	الموقع
6 هي انتقال الناس والبضائع من مكان إلى آخر	أ	البيئة	ب	الموقع	ج	الحركة
7	عدد الجهات الأصلية	أ	8 جهات	ب	6 جهات	ج	4 جهات
8	من عناصر التاريخ	أ	المكان	ب	البيئة	ج	الشخصيات
9 هو بقعة الارض التي ننتمي اليها ونفخر بها والتي عاش عليها آباؤنا واجدادنا	أ	التاريخ	ب	الوطن	ج	الشعار الوطني
10	يقع وطني المملكة العربية السعودية في	أ	الجنوب الغربي	ب	الشمال الشرقي	ج	الشمال الغربي

السؤال الثاني / اكتب فروع الدراسات الاجتماعية الأربعة :

4

.....

.....

.....

.....

السؤال الثالث/ ضع علامة (√) أمام العبارات الصحيحة وعلامة (x) أمام العبارات غير الصحيحة:

10

1. لا ينكس العلم السعودي لإحتوائه على كلمة التوحيد .()
2. تفيدني الدراسات الاجتماعية في معرفة تاريخ وطني .()
3. التاريخ هو دراسة أحداث الماضي وتفسيرها لتوضيح أثرها على الحاضر والمستقبل .()
4. يوم التأسيس يوافق 22 فبراير من كل عام .()
5. تشرق الشمس من جهة الجنوب .()
6. انظف المكان قبل أن أتركه .()
7. وطني بعد التوحيد أمن وسلام .()
8. الجغرافي هو الذي يدرس مظاهر الارض وطبيعتها وسكانها .()
9. الرياضيات من فروع الدراسات الاجتماعية .()
10. الشرق والغرب من الجهات الفرعية .()

السؤال الرابع / ضع الكلمات الموجودة في الجدول التالي في الفراغ المناسب:

6

ملكي

الإشاعة

العلم

المؤرخ

ثانوية

23 سبتمبر

1. اليوم الوطني ويوافق من كل عام .
2. هو الشخص الذي يدرس الماضي ويكتب عنه .
3. هو رمز الدولة وهويتها نراه مرفوعاً على المدارس والميادين والسفارات السعودية .
4. نظام الحكم في المملكة
5. المصادر نوعان مصادر أولية ومصادر
6. هي نقل الكلام دون التثبت من صحته .

---- انتهت الأسئلة ----

المصحح :

اسم الطالب :

نموذج الإجابة

السؤال الأول / اختر الإجابات الصحيحة فيما يلي بوضع دائرة حولها:

20

1	عاصمة المملكة العربية السعودية	أ	الدمام	ب	تبوك	ج	الرياض
2	الشعار السعودي الرسمي هو سيفان متقاطعان وسطهما	أ	درع	ب	صقر	ج	نخلة
3	النتيجة في التاريخ هي ما ينتج عن	أ	المصادر	ب	الكتابة	ج	الحدث
4	وطني يتكون من	أ	منطقة 15	ب	منطقة 14	ج	13 منطقة
5	من عناصر الجغرافيا	أ	الأحداث	ب	الإنتاج	ج	الموقع
6 هي انتقال الناس والبضائع من مكان إلى آخر	أ	البيئة	ب	الموقع	ج	الحركة
7	عدد الجهات الأصلية	أ	8 جهات	ب	6 جهات	ج	4 جهات
8	من عناصر التاريخ	أ	المكان	ب	البيئة	ج	الشخصيات
9 هو بقعة الأرض التي ننتمي إليها ونفخر بها والتي عاش عليها أبائنا وأجدادنا	أ	التاريخ	ب	الوطن	ج	الشعار الوطني
10	يقع وطني المملكة العربية السعودية في	أ	الجنوب الغربي	ب	الشمال الشرقي	ج	الشمال الغربي

السؤال الثاني / اكتب فروع الدراسات الاجتماعية الأربعة:

4

الحكومة..

الاقتصاد..

الجغرافيا.

التاريخ...

السؤال الثالث/ ضع علامة (√) أمام العبارات الصحيحة وعلامة (x) أمام العبارات غير الصحيحة:

10

1. لا ينكس العلم السعودي لإحتوائه على كلمة التوحيد	(صح)
2. تفيدني الدراسات الاجتماعية في معرفة تاريخ وطني	(صح)
3. التاريخ هو دراسة أحداث الماضي وتفسيرها لتوضيح أثرها على الحاضر والمستقبل	(صح)
4. يوم التأسيس يوافق 22 فبراير من كل عام	(صح)
5. تشرق الشمس من جهة الجنوب	(خطأ)
6. انظف المكان قبل أتركه	(صح)
7. وطني بعد التوحيد أمن وسلام	(صح)
8. الجغرافي هو الذي يدرس مظاهر الارض وطبيعتها وسكانها	(صح)
9. الرياضيات من فروع الدراسات الاجتماعية	(خطأ)
10. الشرق والغرب من الجهات الفرعية	(خطأ)

السؤال الرابع / ضع الكلمات الموجودة في الجدول التالي في الفراغ المناسب:

6

23 سبتمبر	ثانوية	المؤرخ	العلم	الإشاعة	ملكي
-----------	--------	--------	-------	---------	------

1. اليوم الوطني ويوافق 22 سبتمبر..... من كل عام .

2. المؤرخ هو الشخص الذي يدرس الماضي ويكتب عنه .

3. العلم هو رمز الدولة وهويتها نراه مرفوعاً على المدارس والبيادين والسفارات و السعودية.

4. نظام الحكم في المملكة ملكي

5. المصادر نوعان مصادر أولية ومصادر ثانوية

6. الإشاعة هي نقل الكلام دون التثبت من صحته .

بسم الله الرحمن الرحيم

اسم الطالب:		المملكة العربية السعودية
المادة: الدراسات الاجتماعية		وزارة التعليم
الصف: الرابع الابتدائي		إدارة تعليم
الزمن : ساعة		مدرسة
40		الدرجة كتابة:
توقيعه		اسم المصحح
توقيعه		اسم المراجع
إختبار نهاية الفصل الدراسي الأول (الدور الأول) لعام 1446هـ		

استعن بالله ثم أجب عن الأسئلة التالية:

20

السؤال الأول: ضع علامة (√) أمام العبارة الصحيحة وعلامة (X) أمام العبارة الخاطئة:

1	الجهات الأصلية هي : الشمال والجنوب والشرق والغرب
2	رسم الإنسان الخرائط واستعملها منذ آلاف السنين
3	كان الناس قديما يكتبون على الحجر
4	كان وطني قبل التوحيد جهات متفرقة
5	تستعمل الخرائط لمعرفة الأماكن
6	يجب الفخر والإعتزاز بالوطن وتراثه
7	توفر لنا حكومة وطني التعليم والصحة
8	تشرق الشمس من جهة الشرق
9	تغرب الشمس من جهة الغرب
10	يحتوي علم وطني على السيف الدال على الحق
11	العلم هو رمز الدولة وهويتها
12	العدل أساس الحكم في وطني
13	الحكومة: النظام الذي يدار به الحكم
14	العرضة السعودية من الفنون الشعبية في المملكة العربية السعودية
15	الثقافة الوطنية : هي أساليب حياة الناس وطريقة معيشتهم وتفاعلهم مع المجتمع
16	معرفة السبب والنتيجة تساعدنا على فهم أحداث التاريخ
17	يتكون وطني من 100 منطقة
18	الجهات الأصلية والفرعية لا نستفيد منها
19	أترك بقايا الطعام في المكان الذي أجلس فيه
20	من فروع الدراسات الاجتماعية الرياضيات

20

السؤال الثاني : اختر الإجابة الصحيحة:

1- يقع وطني المملكة العربية السعودية في قارة:			
آسيا	أوروبا	إفريقيا	أستراليا
2- نظام الحكم في وطني هو نظام:			
ملكي	رئاسي	برلماني	فيدرالي
3- من نماذج الدراسات الاجتماعية التي تهتم بدراسة الخرائط:			
جغرافيا	تاريخ	حكومة	اقتصاد
4- دراسة الماضي للإستفادة منه:			
تاريخ	اقتصاد	كيمياء	فيزياء
5- الشخص الذي يدرس الماضي ويكتب عنه:			
مؤرخ	سياسي	اقتصادي	جغرافي
6- إذا كانت الشمس أمامك في الصباح واتجهت إلى اليمين فاتجاهك يكون لل:			
الجنوب	الشمال	الشرق	الغرب
7- هو شكل يرمز إلى معانٍ ترتبط بالوطن :			
الشعار الوطني	مصر	السياسية	الاقتصاد
8- من الكلمات التي لها علاقة بالتاريخ:			
الأمس	الآن	اليوم	غدا
9- عندما أسأل ماهو ؟ فإنني أسأل عن:			
الطبيعية	المدن	القطارات	الطائرات
10- كل ما يتعلق بالكرة الأرضية وتكوينها والظواهر الطبيعية والبشرية هو:			
الرياضيات	الاقتصاد	الجغرافيا	الحكومة
11- الجهة الفرعية التي تقع بين الشمال والشرق هي :			
الجنوب	الغرب	الشمال الشرقي	الشرق
12- المكان الذي يعيش فيه الانسان فيتأثر به ويؤثر فيه هو :			
الإشاعة	المصادر	البيئة	الخرائط
13- يسمى تحول الأراضي الخصبة إلى أراضي صحراوية مع مرور الزمن:			
زلازل	مجاعة	تصحّر	محمية
14- يسمى يوم توحيد البلاد ب :			
اليوم المشمس	اليوم الرياضي	اليوم الوطني	السياحة
15- هو رسم تخطيطي يوضح الترتيب الذي وقعت فيه الأحداث وفق تسلسلها الزمني:			
الفلك	رأس المال	الخط الزمني	المستهلك
16- من واجبات المواطن:			
السرقه	تخريب الممتلكات	احترام الاخرين	نقل الاشاعة
17- هو رموز وأسماء لمكان محدد بحيث يسهل الوصول إليه :			
البحر	الوادي	العنوان الوطني	السحب
18- يتميز العلم السعودي بأنه:			
كبير	صغير	لاينكس أبدا	أسود
19- هي نقل الكلام دون التثبيت من صحته:			
الوحدة	الحضارة	الإشاعة	الآثار
20- من مظاهر التعامل السليم مع البيئة أن:			
رمي النفايات	قطع الأشجار	أنظف المكان قبل تركه	أقتل الحيوانات

المادة : الدراسات الاجتماعية
الصف : الرابع
الزمن : ساعة ونصف
اليوم :
التاريخ :



المملكة العربية السعودية
وزارة التعليم
إدارة تعليم
مدرسة

**اختبار مادة الدراسات الاجتماعية للصف الرابع الابتدائي
الفصل الدراسي الأول (الدور الأول) لعام ١٤٤٦هـ**

اسم الطالبة :

اسم المدققة	اسم المراجعة	اسم المصححة	الدرجة كتابة	الدرجة	س ٢	س ١
التوقيع	التوقيع	التوقيع	أربعون درجة فقط	٤٠	٢٠	٢٠

السؤال الأول: ضعي علامة (√) أمام العبارة الصحيحة وعلامة (×) أما العبارة الخاطئة :

٢٠

م	العبارة	الإجابة
١	الدراسات الاجتماعية علوم تساعدني على فهم الحياة.	
٢	نظام الحكم في المملكة العربية السعودية هو نظام ملكي، ويسمى فيه الحاكم ملكاً.	
٣	البيعة: هي المبايعه على السمع والطاعة، وتكون في العن للملك ولولي العهد على القرآن الكريم والسنة النبوية.	
٤	التاريخ هو دراسة الماضي للاستفادة منه في الحاضر والمستقبل.	
٥	المؤرخ هو الشخص الذي يدرس الأحداث ويكتب عنها.	
٦	القصص القديمة التي يرويها الناس في وقتنا الحاضر تعد مصادر ثانوية.	
٧	الأثر هو ما ينتج عن الأحداث في التاريخ	
٨	يقوم نظام الحكم في وطننا على الشريعة الإسلامية	
٩	ترتيب الأحداث وفق الزمن يسمى الخط الزمني.	
١٠	نستطيع تحديد موقع منزلنا على خرائط (جوجل).	
١١	بدأ رسم الخرائط واستعمالها منذ آلاف السنين.	
١٢	الجهات الأصلية هي: الشرق والغرب والشمال والجنوب	
١٣	أشاهد الحيوانات البرية ولا أؤذيها أو أصطادها.	
١٤	أنشأت الدولة للمحافظة على البيئة المركز الوطني لتنمية الغطاء النباتي ومكافحة التصحر.	
١٥	تقتصر الحركة على انتقال الناس فقط	
١٦	موقع المملكة العربية السعودية استراتيجي يسهل الحركة	
١٧	وطني قبل التوحيد مجتمعه واحد متماسك.	
١٨	الأدلة التي يبحث عنها المؤرخ مصادر أولية فقط	
١٩	الشعار الوطني هو رمز الدولة وهويتها، نراه مرفوعاً على المدارس والوزارات والسفارات السعودية في الخارج.	
٢٠	من فروع الدراسات الاجتماعية الرياضيات	

السؤال الثاني: اختاري الاجابة الصحيحة:

٢٠

١	من نماذج الدراسات الاجتماعية	أ	الكيمياء	ب	الرياضيات	ج	التاريخ
٢	أستفيد من الدراسات الاجتماعية في معرفة	أ	تاريخ وطني	ب	الأثار والشواهد	ج	القياس والحساب
٣	هي الخصائص والسمات التي يتشارك فيها المجتمع السعودي	أ	الهوية الوطنية السعودية	ب	الثقافة السعودية	ج	الوطن
٤	هو بقعة الأرض التي ننتمي إليها، ونفخر بها والتي عاش عليها أبونا وأجدادنا، وستبقى لأبناننا وأحفادنا من بعدنا بإذن الله	أ	الوطن	ب	الهوية الوطنية السعودية	ج	الثقافة السعودية
٥	هي أساليب حياة الناس وطريقة معيشتهم وتفاعلهم في المجتمع، وتمثل القيم والأفكار والأعراف المشتركة بين أبناء المجتمع.	أ	الثقافة الوطنية	ب	الهوية الوطنية السعودية	ج	الوطن
٦	النظام الذي يُدار به الوطن.	أ	الحكومة	ب	المالي	ج	الصحة
٧	من مميزات العلم السعودي	أ	لا ينكس ابداً	ب	لونه أحمر	ج	مرسوم عليه نجمة
٨	هو شكل يرمز إلى معانٍ ترتبط بالوطن.	أ	الشعار الوطني	ب	العلم الوطني	ج	اليوم الوطني
٩	اليوم الوطني لبلادي هو يوم توحيد البلاد، وهو الأول من برج الميزان، الموافق من سبتمبر في كل عام	أ	٢٣	ب	٢٢	ج	٢١
١٠	الأدلة المهمة من الماضي تسمى	أ	الأثار	ب	المؤرخ	ج	الأحداث
١١	الكتب التاريخية التي ألقت في وقتنا الحاضر عن أحداث قديمة يعدها المؤرخ	أ	مصادر ثانوية	ب	مصادر أولية	ج	مصادر عامة
١٢	يتكون وطني من منطقة	أ	١٣	ب	١٥	ج	١٧
١٣	يمثل المكان وتعامل الإنسان معه مفهوم	أ	البيئة	ب	الطبيعة	ج	الخريطة
١٤	هو رموز وأسماء لمكان محدد بحيث يسهل الوصول إليه.	أ	العنوان الوطني	ب	الموقع	ج	المكان
١٥	يقع وطني المملكة العربية السعودية في :	أ	قارة آسيا	ب	قارة إفريقيا	ج	قارة أوروبا
١٦	تحول الأراضي الخصبة إلى أراض صحراوية مع مرور الزمن.	أ	التصحّر	ب	الحياة القطرية	ج	المحمية
١٧	تُصدّر بلادنا إلى العالم البضائع، مثل	أ	التمور	ب	الفواكه الاستوائية	ج	السيارات
١٨	المنطقة الجغرافية التي تحددها الدولة للمحافظة عليه تسمى	أ	المحمية	ب	العنوان الوطني	ج	البيئة
١٩	هو الذي يدرس مظاهر الأرض وطبيعتها وسكانها.....	أ	الجغرافي	ب	التاريخي	ج	التراثي
٢٠	توحدت أراضي وطني في دولة واحدة تحكمها أسرة	أ	آل عبدالعزيز	ب	آل سلمان	ج	آل سعود

انتهت الأسئلة ،،،، مع تمنياتي لكن بالتوفيق والنجاح ،،،، معلمة المادة /

المادة : الدراسات الاجتماعية
الصف : الرابع
الزمن : ساعة ونصف
اليوم :
التاريخ :



المملكة العربية السعودية
وزارة التعليم
إدارة تعليم
مدرسة

اختبار مادة الدراسات الاجتماعية للصف الرابع الابتدائي
الفصل الدراسي الأول (الدور الأول) لعام ١٤٤٦هـ

نموذج الإجابة

اسم المدققة	اسم المراجعة	اسم المصححة	الدرجة كتابة	الدرجة	س ٢	س ١
التوقيع	التوقيع	التوقيع	أربعون درجة فقط	٤٠	٢٠	٢٠

السؤال الأول: ضعي علامة (√) أمام العبارة الصحيحة وعلامة (×) أما العبارة الخاطئة :

٢٠

م	العبارة	الإجابة
١	الدراسات الاجتماعية علوم تساعدني على فهم الحياة.	√
٢	نظام الحكم في المملكة العربية السعودية هو نظام ملكي، ويسمى فيه الحاكم ملكاً.	√
٣	البيعة: هي المبايعه على السمع والطاعة، وتكون في العن للملك ولولي العهد على القرآن الكريم والسنة النبوية.	√
٤	التاريخ هو دراسة الماضي للاستفادة منه في الحاضر والمستقبل.	√
٥	المؤرخ هو الشخص الذي يدرس الأحداث ويكتب عنها.	√
٦	القصص القديمة التي يرويها الناس في وقتنا الحاضر تعد مصادر ثانوية.	√
٧	الأثر هو ما ينتج عن الأحداث في التاريخ	√
٨	يقوم نظام الحكم في وطننا على الشريعة الإسلامية	√
٩	ترتيب الأحداث وفق الزمن يسمى الخط الزمني.	√
١٠	نستطيع تحديد موقع منزلنا على خرائط (جوجل).	√
١١	بدأ رسم الخرائط واستعمالها منذ آلاف السنين.	√
١٢	الجهات الأصلية هي: الشرق والغرب والشمال والجنوب	√
١٣	أشاهد الحيوانات البرية ولا أؤذيها أو أصطادها.	√
١٤	أنشأت الدولة للمحافظة على البيئة المركز الوطني لتنمية الغطاء النباتي ومكافحة التصحر.	√
١٥	تقتصر الحركة على انتقال الناس فقط	×
١٦	موقع المملكة العربية السعودية استراتيجي يسهل الحركة	×
١٧	وطني قبل التوحيد مجتمعه واحد متماسك.	×
١٨	الأدلة التي يبحث عنها المؤرخ مصادر أولية فقط	×
١٩	الشعار الوطني هو رمز الدولة وهويتها، نراه مرفوعاً على المدارس والوزارات والسفارات السعودية في الخارج.	×
٢٠	من فروع الدراسات الاجتماعية الرياضيات	×

السؤال الثاني: اختاري الاجابة الصحيحة:

٢٠

١	من نماذج الدراسات الاجتماعية	أ	الكيمياء	ب	الرياضيات	ج	<u>التاريخ</u>
٢	أستفيد من الدراسات الاجتماعية في معرفة	أ	<u>تاريخ وطني</u>	ب	الأثار والشواهد	ج	القياس والحساب
٣	هي الخصائص والسمات التي يتشارك فيها المجتمع السعودي	أ	<u>الهوية الوطنية السعودية</u>	ب	الثقافة السعودية	ج	الوطن
٤	هو بقعة الأرض التي ننتمي إليها، ونفخر بها والتي عاش عليها أبونا وأجدادنا، وستبقى لأبنانا وأحفادنا من بعدنا بإذن الله	أ	<u>الوطن</u>	ب	الهوية الوطنية السعودية	ج	الثقافة السعودية
٥	هي أساليب حياة الناس وطريقة معيشتهم وتفاعلهم في المجتمع، وتمثل القيم والأفكار والأعراف المشتركة بين أبناء المجتمع.	أ	<u>الثقافة الوطنية</u>	ب	الهوية الوطنية السعودية	ج	الوطن
٦	النظام الذي يُدار به الوطن.	أ	<u>الحكومة</u>	ب	المالي	ج	الصحة
٧	من مميزات العلم السعودي	أ	<u>لا يتكسب ابداً</u>	ب	لونه أحمر	ج	مرسوم عليه نجمة
٨	هو شكل يرمز إلى معانٍ ترتبط بالوطن.	أ	<u>الشعار الوطني</u>	ب	العلم الوطني	ج	اليوم الوطني
٩	اليوم الوطني لبلادي هو يوم توحيد البلاد، وهو الأول من برج الميزان، الموافق من سبتمبر في كل عام	أ	<u>٢٣</u>	ب	٢٢	ج	٢١
١٠	الأدلة المهمة من الماضي تسمى	أ	<u>الأثار</u>	ب	المؤرخ	ج	الأحداث
١١	الكتب التاريخية التي ألقت في وقتنا الحاضر عن أحداث قديمة يعدها المؤرخ	أ	<u>مصادر ثانوية</u>	ب	مصادر أولية	ج	مصادر عامة
١٢	يتكون وطني من منطقة	أ	<u>١٣</u>	ب	١٥	ج	١٧
١٣	يمثل المكان وتعامل الإنسان معه مفهوم	أ	<u>البيئة</u>	ب	الطبيعة	ج	الخريطة
١٤	هو رموز وأسماء لمكان محدد بحيث يسهل الوصول إليه.	أ	<u>العنوان الوطني</u>	ب	الموقع	ج	المكان
١٥	يقع وطني المملكة العربية السعودية في :	أ	<u>قارة آسيا</u>	ب	قارة إفريقيا	ج	قارة أوروبا
١٦	تحول الأراضي الخصبة إلى أراض صحراوية مع مرور الزمن.	أ	<u>التصحّر</u>	ب	الحياة القطرية	ج	المحمية
١٧	تُصدّر بلادنا إلى العالم البضائع، مثل	أ	<u>التمور</u>	ب	الفواكه الاستوائية	ج	السيارات
١٨	المنطقة الجغرافية التي تحددها الدولة للمحافظة عليه تسمى	أ	<u>المحمية</u>	ب	العنوان الوطني	ج	البيئة
١٩	هو الذي يدرس مظاهر الأرض وطبيعتها وسكانها.....	أ	<u>الجغرافي</u>	ب	التاريخي	ج	التراثي
٢٠	توحدت أراضي وطني في دولة واحدة تحكمها أسرة	أ	آل عبدالعزيز	ب	آل سلمان	ج	<u>آل سعود</u>

انتهت الأسئلة ،،،، مع تمنياتي لكن بالتوفيق والنجاح ،،،، معلمة المادة /

السؤال الأول : أ) ضعني إشارة (✓) امام الإجابة الصحيحة وإشارة (×) أمام الإجابة الخاطئة:

1	تشرق الشمس من جهة الشمال
2	الإشاعة ضارة بالمجتمع ونهانا عنها الله ورسوله
3	كان وطني قبل التوحيد جهات متفرقة
4	المؤرخ هو الشخص الذي يدرس الماضي ويكتب عنه
5	تستعمل الخرائط لمعرفة الأماكن
6	من التفاعل السليم مع البيئة أنظف المكان قبل تركه
7	يجب الفخر والاعتزاز بالوطن وتراثه
8	يجب علينا أن نرفع علم الوطن ونحترمه
9	توفر لنا حكومة وطني التعليم والصحة
10	من مكونات الثقافة في وطني اللغة والدين
11	الحكومة هي النظام الذي يدار به الوطن
12	يحتوى علم بلادي على السيف الدال على الحق

(ب) : اختاري الإجابة الصحيحة فيما يلي بوضع دائرة عليها:

1	تتكون بلادي المملكة العربية السعودية من منطقة
أ	14 ب 13 ج 15
2	يقع وطني المملكة العربية السعودية العالم
أ	وسط ب قلب ج شمال
3	من عناصر التاريخ
أ	الإنتاج ب الشخصيات ج البيئة
4	هي كل ما يتعلق بالكرة الأرضية وتكويناتها
أ	الاقتصاد ب الجغرافيا ج الرياضيات
5	الشخص الذي يدرس الجغرافيا هو
أ	اقتصادي ب جغرافي ج سياسي
6	الشمال الشرقي هي الجهة الواقعة بين الشمال و
أ	الشرق ب الغرب ج الجنوب

7	هو تحول الأرض الخصبة إلى صحراء		
أ	التصحّر	ب	الحدائق
ج	الغابات		
8	انتقال الناس والبضائع من مكان الى اخر يسمى		
أ	الحركة	ب	سياسة
ج	الإنتاج		
9	تقسم الجهات الأصلية إلى جهات		
أ	4	ب	5
ج	6		
10	نظام الحكم في وطني		
أ	ملكي	ب	جمهوري
ج	دستوري		
11	عاصمة بلادي المملكة العربية السعودية		
أ	الرياض	ب	الطائف
ج	تبوك		
12	الشعار السعودي الرسمي هو سيفان متقاطعان و وسطها		
أ	نخلة	ب	صقر
ج	درع		

السؤال الثاني: (أ) أملّي الفراغ بالكلمات المساعدة :

5

الآثار	الحجر	أين هو
	الإشاعة	النتيجة

- (1) هي نقل الكلام دون التثبت من صحته.....
- (2) كان الناس قديماً يكتبون على
- (3) من المصادر الأولية التي يعتمد عليها المؤرخ
- (4) هي ما ينتج عن الحدث
- (5) من أسئلة الجغرافي

4

ب) صلى العمود الأول بما يناسبه من العمود الثاني (باستخدام الأرقام)

(أ)	(ب)
1) من أسئلة التاريخ	الوطن
2) من فروع الدراسات الاجتماعية	العلم
3) رمز الدولة و هويتها	الاقتصاد
4) بقعة الأرض التي تنتمي إليها	ماذا حدث

2

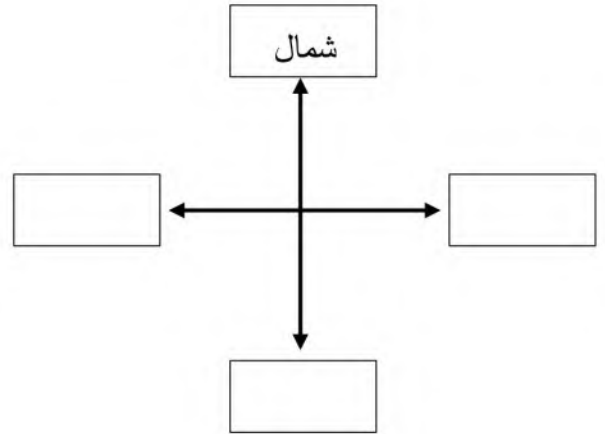
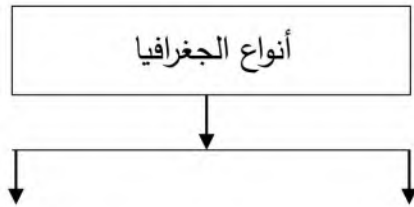
السؤال الثالث: أ) ضعي التاريخ المناسب في مكانه (23 سبتمبر - 22 فبراير)

1- يوم التأسيس يوفق من كل عام

2- اليوم الوطني يوافق من كل عام

5

ب) أكملِي الرسم التالي (الجهات الأصلية)



تمت الأسئلة

تمنياتي لكم بالتوفيق

نموذج الإجابة

٢٤

السؤال الأول: أ/ ضعي كلمة (صح) امام الإجابة الصحيحة وكلمة (خطأ) أمام الإجابة الخاطئة:

١٢

١	من مكونات الثقافة في وطني اللغة والدين	(صح)
٢	الإشاعة ضارة بالمجتمع ونهانا عنها الله ورسوله	(صح)
٣	كان وطني قبل التوحيد جهات متفرقة	(صح)
٤	المؤرخ هو الشخص الذي يدرس الماضي ويكتب عنه	(صح)
٥	تستعمل الخرائط لمعرفة الأماكن	(صح)
٦	من التفاعل الغير السليم مع البيئة أنظف المكان قبل تركه	(خطأ)
٧	يجب الفخر والاعتزاز بالوطن وتراثه	(صح)
٨	يجب علينا أن نرفع علم الوطن ونحترمه	(صح)
٩	لا توفر لنا حكومة وطني التعليم والصحة	(خطأ)
١٠	تشرق الشمس من جهة الشمال	(خطأ)
١١	الحكومة هي النظام الذي يدار به الوطن	(صح)
١٢	يحتوى علم بلادي على السيف الدال على الحق	(خطأ)

١٢

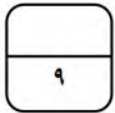
ب/ اختاري الإجابة الصحيحة فيما يلي بوضع دائرة عليها:

١	تتكون بلادي المملكة العربية السعودية من	منطقة
أ	١٤	ب
ب	١٣	ج
ج	١٥	
٢	يقع وطني المملكة العربية السعودية	العالم
أ	شرق	ب
ب	شمال	ج
ج	قلب	
٣	من عناصر التاريخ	
أ	الإنتاج	ب
ب	الشخصيات	ج
ج	البيئة	
٤	هي كل ما يتعلق بالكرة الأرضية وتكويناتها	
أ	الجغرافيا	ب
ب	الاقتصاد	ج
ج	الرياضيات	
٥	الشخص الذي يدرس الجغرافيا هو	
أ	اقتصادي	ب
ب	جغرافي	ج
ج	سياسي	

يتبع ←

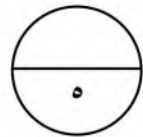


٦	الشمال الشرقي هي الجهة الواقعة بين الشمال و				
أ	الشرق	ب	الغرب	ج	الجنوب
٧	هو تحول الأرض الخصبة إلى صحراء				
أ	التصحّر	ب	الحدائق	ج	الغابات
٨	انتقال الناس والبضائع من مكان إلى آخر يسمى				
أ	الحركة	ب	سياسة	ج	الإنتاج
٩	تقسم الجهات الأصلية إلى جهات				
أ	٣	ب	٤	ج	٦
١٠	نظام الحكم في وطني				
أ	ملكي	ب	جمهوري	ج	دستوري
١١	عاصمة بلادي المملكة العربية السعودية				
أ	الطائف	ب	الرياض	ج	تبوك
١٢	الشعار السعودي الرسمي هو سيفان متقاطعان و وسطها				
أ	درع	ب	صقر	ج	نخلة



السؤال الثاني: أ/ أملّي الفراغ بالكلمات المساعدة :

أين هو	الحجر	الآثار	النتيجة	الإشاعة
--------	-------	--------	---------	---------

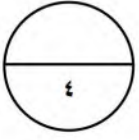


- ١- هي نقل الكلام دون التثبيت من صحته الإشاعة
- ٢- كان الناس قديماً يكتبون على الحجر
- ٣- من المصادر الأولية التي يعتمد عليها المؤرخ الآثار
- ٤- هي ما ينتج عن الحدث النتيجة
- ٥- من أسئلة الجغرافي أين هو

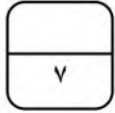
يتبع ←



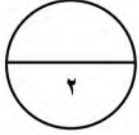
ب/ صلي العمود الأول بما يناسبه من العمود الثاني (باستخدام الأرقام)



(أ)		(ب)
١- من أسئلة التاريخ	٤	الوطن
٢- من فروع الدراسات الاجتماعية	٣	العلم
٣- رمز الدولة و هويتها	٢	الاقتصاد
٤- بقعة الأرض التي تنتمي إليها	١	ماذا حدث



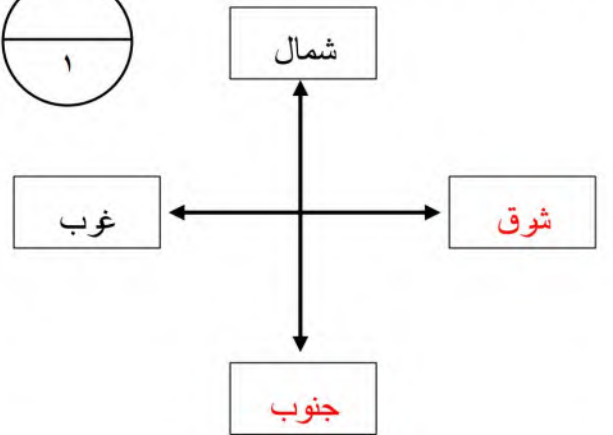
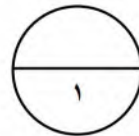
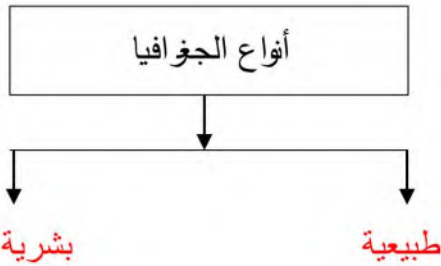
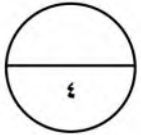
السؤال الثالث: أ/ ضعي التاريخ المناسب في مكانه (٢٣ سبتمبر - ٢٢ فبراير)



- ١- يوم التأسيس يوافق ٢٢ فبراير من كل عام
- ٢- اليوم الوطني يوافق ٢٣ سبتمبر من كل عام

ب/ أكمل الرسم التالي :

الجهات الأصلية :



تمت الأسئلة مع تمنياتي لكم بالتوفيق

معلمة المادة /