

اختبار الفترة الأولى الفصل الدراسي الثالث - لمادة الرياضيات

الصف الثالث الابتدائي عام 1444هـ

٢٠

الأسم:

اختر الإجابة الصحيحة فيما يلي (إجابة واحدة فقط)

1- التقدير الأنسب لقياس طول نافذة هو:

أ	2 ملم	ب	2 سم	ج	2 م	د	2 كلم
---	-------	---	------	---	-----	---	-------

2- يتكرر في نمط مربع ودائرتان . الشكل الثاني عشر في هذا النمط هو:

أ	دائرة	ب	شبه حرف	ج	مستطيل	د	مربع
---	-------	---	---------	---	--------	---	------

3- التقدير الأنسب لقياس سعة حوض استحمام هو:

أ	40 ل	ب	40 مل	ج	40 م	د	40 كلم
---	------	---	-------	---	------	---	--------

4- حجم الجسم في الشكل المجاور هو:



أ	4 وحدة مكعبة	ب	8 وحدة مكعبة	ج	16 وحدة مكعبة	د	32 وحدة مكعبة
---	--------------	---	--------------	---	---------------	---	---------------

5- اذا كان عقرب الدقائق يشير إلى الرقم 3 ، فإن عدد الدقائق التي يشير إليها هو :

أ	3	ب	15	ج	20	د	30
---	---	---	----	---	----	---	----

أكمل الفراغات الآتية بما يناسبها:

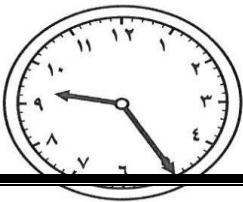
1 الوحدة المناسبة لقياس المسافة بين الرياض ومكة المكرمة هي

2 الجسم الذي له 6 أوجه مربعة الشكل و 8 رؤوس و 12 حرفاً هو.....

3 مضلع له 6 أضلاع و 6 رؤوس هو.....


4 الوحدة المناسبة لقياس كتلة كيس أرز هي

5 الوحدة المناسبة لقياس سعة ملعقة هي

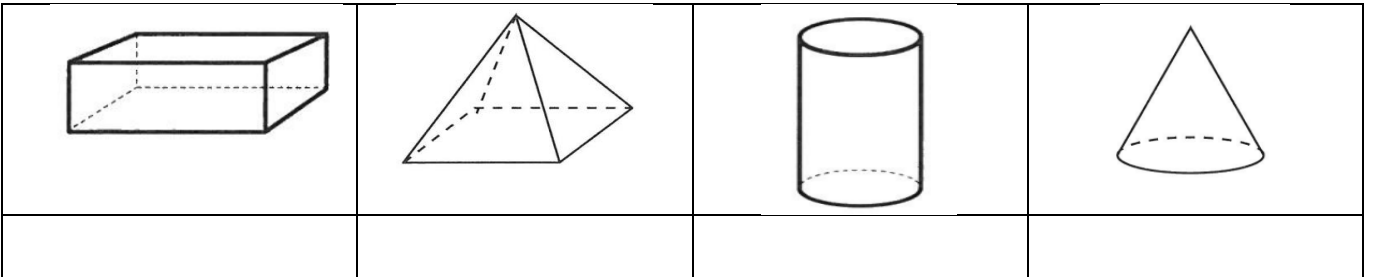




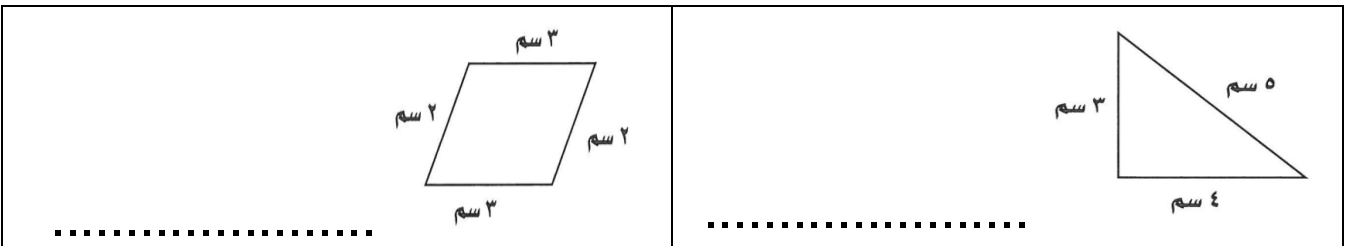
هل للشكل محور تماثل؟ اكتب "نعم" أو "لا"، وإذا كانت الإجابة "نعم" أذكر كم محور تماثل له:



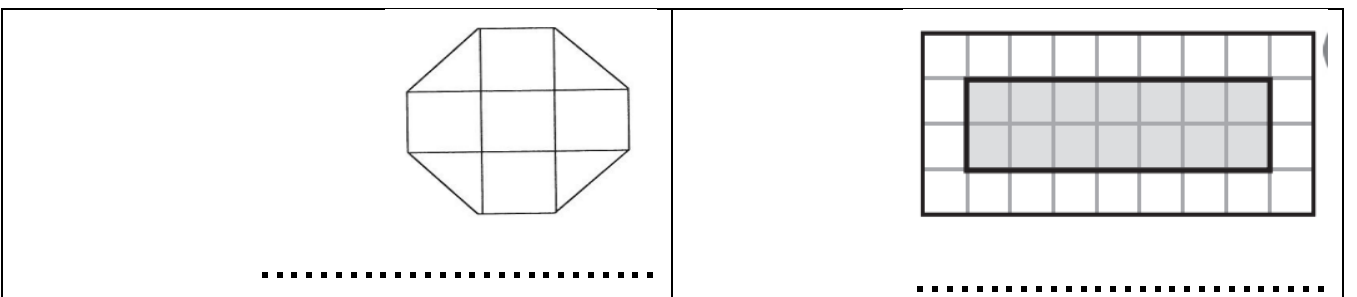
أسمي المجسمات التالية:



أجد محيط كل شكل مما يأتي :



أجد مساحة كل شكل مما يأتي :



انتهت الأسئلة ..
أ/عهد