




نموذج أسئلة تدريبية (ب)

الاختبارات الوطنية (نافس) الصف الثالث الابتدائي ٢٠٢٦



القسم الأول: الرياضيات

الأسئلة : ١ - ٨

الزمن: ١٦ دقيقة


تعليمات

- تحت كل سؤال أربعة خيارات، من بينها إجابة صحيحة واحدة فقط.
- اقرأ السؤال بهدوء، ثم اختر الإجابة التي ترى أنها صحيحة.
- حاول الإجابة على جميع الأسئلة، وعدم ترك أي سؤال دون إجابة.

١ في إحدى المدارس الابتدائية، يبدأ الطابور الصباحي في الساعة ٦:٤٥ صباحًا، وتستمر الإذاعة والنشاط البدني لمدة ٢٠ دقيقة. في أي ساعة تنتهي هذه الأنشطة؟



ب.



أ.



د.



ج.

٢ يوضح الشكل المجاور ثمن لوحة اشترتها ليلي من السوق. إذا أعطت البائع ورقتين من فئة ٥ ريال، فكم ريالاً سيعيد إليها؟



٧ ريال

ب. ٣

أ. ٢

د. ٥

ج. ٤

٣ قرّر هشام وناصر أن يشتريا حقيبتين، فاختار هشام الحقيبة ذات العدد الأكبر، واختار ناصر الحقيبة ذات العدد الأصغر، فما هما الحقيبتان؟



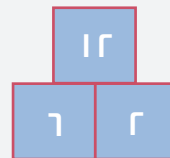
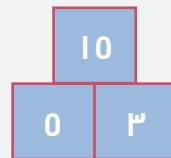
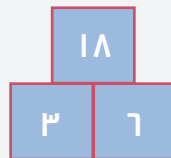
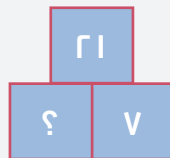
أ. الزرقاء و الخضراء

ب. الصفراء و الخضراء

ج. الحمراء و الزرقاء

د. الصفراء و الحمراء

٤ ما العدد المناسب الذي يحل محل علامة الاستفهام في الشكل أدناه؟



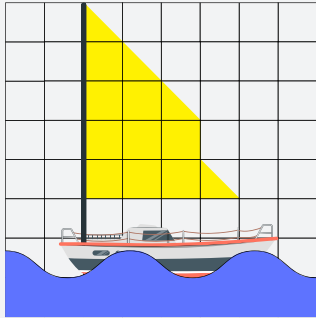
ب. ٥

أ. ٦

د. ٢

ج. ٣

0 رَسَمَتْ مَنَالُ القَارِبَ الشَّرَاعِيَّ المَيَّيْنَ فِي الشَّكْلِ أدناه، وَلَوَّتْ شِرَاعَهُ باللونِ الأصفرِ، كَمْ مساحَةَ الشَّرَاعِ بالوحداتِ المربَّعة؟



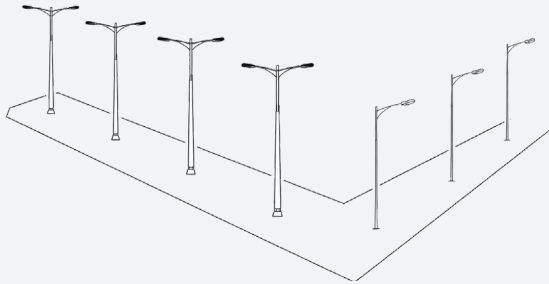
- أ. ١٣
ب. ١١
ج. ٩
د. ٨

٦ التَّقَطَ بدرٌ وفهدٌ مجموعةً مِنَ الصُّورِ كما هو مُوضَّحٌ فِي الجدولِ أدناه. ما الفَرْقُ فِي عدَدِ الصُّورِ الَّتِي التَّقَطَهَا بدرٌ مقارنةً بِعدَدِ الصُّورِ الَّتِي التَّقَطَهَا فهدٌ؟

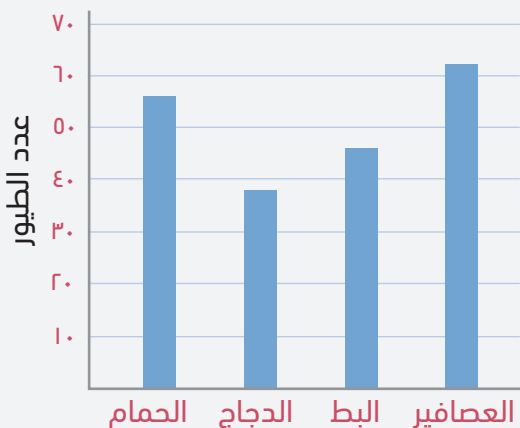
عدد الصور	الطالب
١٢٦	بدر
١١٢	فهد

- أ. ١٢
ب. ١٤
ج. ٢٦
د. ٣٨

٧ فِي الشَّكْلِ أدناه، توجَدُ أعمدَةُ إنارةٍ بَعْضُها يَحْتَوِي على مِصباحٍ واحدٍ والبَعْضُ الآخَرُ على مِصباحين. أَيُّ العِبارَاتِ العِدديَّةِ التَّالِيَةِ تُعبِّرُ عَن عدَدِ المِصباحِ؟



- أ. ٢×٧
ب. $٢ \times (٣ + ٤)$
ج. $(٢ \times ٤) + (٢ \times ٣)$
د. $(١ \times ٣) + (٢ \times ٤)$



٨ من خلالِ التمثيلِ البيانيِّ، أَيُّ الطيورِ أقلُّ عدَدًا؟

- أ. العصفير
ب. البط
ج. الدجاج
د. الحمام

القسم الثاني: القراءة

الأسئلة : ٩ - ١٤

الزمن: ١٦ دقيقة

تعليمات

- اقرأ القطعة كاملة قبل البدء بالإجابة.
- تحت كل سؤال أربعة خيارات، من بينها إجابة صحيحة واحدة فقط.
- اقرأ الأسئلة بهدوء، ثم اختر الإجابة التي ترى أنها صحيحة.
- حاول الإجابة على جميع الأسئلة، وعدم ترك أي سؤال دون إجابة.

٩ ضدَّ كَلِمَةَ «أَضْرَارُ»:

- أ. فَسَائِرُ
ب. مَنَافِعُ
ج. فَضَائِلُ
د. مَخَاطِرُ

الهَاتِفُ المَحْمُولُ، ذَلِكَ الجِهَازُ الصَّغِيرُ الَّذِي نَسْتَخْدِمُهُ كُلَّ يَوْمٍ، هُوَ أَكْثَرُ مِنْ مُجَرَّدِ جِهَازٍ لِإِجْرَاءِ المُكَالِمَاتِ. إِنَّهُ نَافِذَةٌ عَلَى العَالَمِ! لَكِنْ هَلْ تَسَاءَلْتَ يَوْمًا كَيْفَ يَعْمَلُ؟ عِنْدَمَا تَتَحَدَّثُ إِلَى صَدِيقِكَ عَبْرَ هَاتِفِكَ المَحْمُولِ. فَإِنَّ صَوْتَكَ يَتَحَوَّلُ إِلَى إِشَارَاتٍ رَقْمِيَّةٍ، مِثْلَ رُمُوزٍ سَرِيَّةٍ، ثُمَّ تُرْسَلُ عَبْرَ مَوْجَاتٍ لِاسْلُكِيَّةٍ إِلَى بُرْجٍ قَرِيبٍ.



يُشْبِهُ هَذَا البُرْجُ عَمَلَ البَرِيدِ، حَيْثُ يَسْتَقْبِلُ الرِّسَالَةَ وَيَحْلُلُ عُنْوَانَهَا، ثُمَّ يُرْسِلُهَا إِلَى بُرْجٍ آخَرَ أَقْرَبَ إِلَى صَدِيقِكَ. تَسْتَمِرُّ الرِّسَالَةُ فِي التَّنْقُلِ بَيْنَ الأَبْرَاجِ حَتَّى تَصِلَ إِلَى هَاتِفِ صَدِيقِكَ. عِنْدَهَا، تَتَحَوَّلُ الإِشَارَاتُ الرَّقْمِيَّةُ مَرَّةً أُخْرَى إِلَى صَوْتٍ، وَيَسْمَعُ صَدِيقُكَ صَوْتَكَ!

كُلُّ هَذَا يَحْدُثُ بِسُرْعَةِ البَرِقِ، بِفَضْلِ تَقْنِيَّاتٍ مِثْلِ التَّشْفِيرِ لِحِمَايَةِ مُكَالِمَاتِنَا، وَتَعَدُّدِ الإِرسَالِ لِتَمْكِينِ الكَثِيرِينَ مِنْ اسْتِخْدَامِ الأَبْرَاجِ فِي الوَقْتِ تَفْسِيحًا، وَالتَّنْقُلِ لِضَمَانِ اسْتِمْرَارِ المُكَالِمَةِ أَثْنَاءَ الحَرَكَةِ.

الهَاتِفُ المَحْمُولُ لَيْسَ مُجَرَّدَ أَدَاةٍ لِلتَّوَاصُلِ، بَلْ هُوَ مَرَكَزٌ لِلْمَعْلُومَاتِ وَالتَّرْفِيهِ، يَرِيبُنَا بِالعَالَمِ بِأَسْرِهِ!

١٠ حَسَبِ النَّصِّ، مُرَادِفُ كَلِمَةِ «المَحْمُولُ»:

- أ. الثَّابِتُ
ب. السَّرِيعُ
ج. المَتَنَقِّلُ
د. الثَّقِيلُ

١١ مَا العُنْوَانُ المُنَاسِبُ للنَّصِّ مِمَّا يَلِي؟

- أ. لِمَاذَا الهَوَاتِفُ المَحْمُولَةُ مُهِمَّةٌ؟
ب. كَيْفَ تَعْمَلُ الهَوَاتِفُ المَحْمُولَةُ؟
ج. مَا أَضْرَارُ الهَوَاتِفِ المَحْمُولَةِ؟
د. مَتَى اخْتُرَعَتِ الهَوَاتِفُ المَحْمُولَةُ؟



١٢ حَسَبَ النَّصِّ، أَيِّ مِمَّا يَلِي تَحْتَاجُهُ لِإِجْرَاءِ مُكَالِمَةٍ هَاتِفِيَّةٍ؟

- أ. صَوْتُ عَالٍ وَوَاضِحٌ فِي مَكَانٍ هَادِئٍ
- ب. شَبَكَةٌ مِنَ الْأَسْلَاكِ الْمُمْتَدَّةِ بَيْنَ الْمَنَازِلِ
- ج. مَجْمُوعَةٌ مِنَ التَّقْنِيَّاتِ الَّتِي تَحْمِي الْبَيِّنَاتِ
- د. أَبْرَاجُ اتِّصَالٍ قَرِيبَةٌ تُرْسِلُ وَتَسْتَقْبِلُ الْإِشَارَاتِ

١٣ حَسَبَ النَّصِّ، فَإِنَّ جُمْلَةَ: «يُرِيطُنَا بِالْعَالَمِ بِأَسْرِهِ!» تَدُلُّ عَلَى أَنَّ الْهَوَاتِفَ الْمَحْمُولَةَ:

- أ. تُقَرِّبُ الْمَسَافَاتِ
- ب. تُبْعِدُ الْمَسَافَاتِ
- ج. أَدَاةٌ ثَمِينَةٌ
- د. غَيْرُ آمِنَةٍ

انتهى الاختبار

مفاتيح الإجابة

م	مفتاح الإجابة
١	ب
٢	ب
٣	أ
٤	ج
٥	ب
٦	ب
٧	د
٨	ج
٩	ب
١٠	ج
١١	ب
١٢	د
١٣	أ





هيئة تقويم التعليم والتدريب

Education & Training Evaluation Commission



ETECKSA



ETEC.GOV.SA