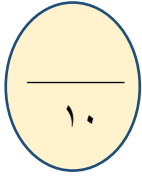


الاختبار القبلي لمادة : الرياضيات
للفترة الثانية للعام الدراسي ١٤٤٧ هـ

اسم الطالب	
الصف	

مستعيناً بالله أجب عن الأسئلة التالية :

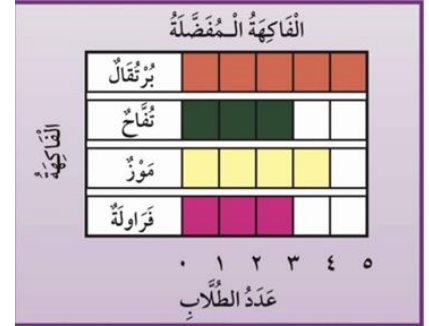


السؤال الأول: اختر الإجابة الصحيحة في كل مما يأتي:

١ (القيمة المنزلية للرقم الملون بالأحمر ٨٤)

٨ (أ)	٨٠ (ب)	٨٠٠ (ج)
-------	--------	---------

٢ (ما هي الفاكهة التي يفضلها أربعة طلاب؟)



البرتقال (أ)	التفاح (ب)	الموز (ج)
--------------	------------	-----------

٣ (ناتج جمع ٤ + ٥ + ٢ =)

١١ (أ)	٩ (ب)	٧ (ج)
--------	-------	-------

٤ (أملأ الفراغ بالعدد المناسب ٤٥ ، ، ٤٧)

٤٤ (أ)	٤٨ (ب)	٤٦ (ج)
--------	--------	--------

٥) ما الكسر الذي يعبر عن الشكل التالي؟



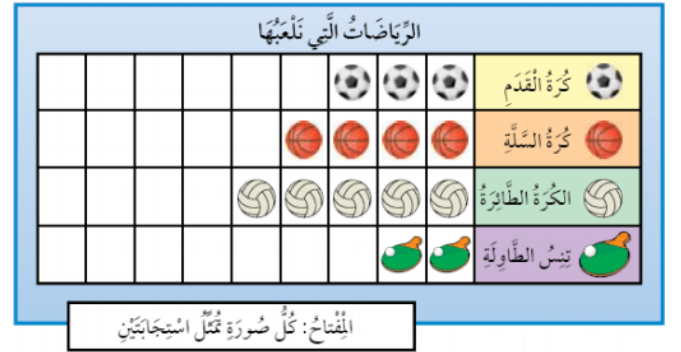
(أ) $\frac{1}{4}$	(ب) $\frac{1}{3}$	(ج) $\frac{3}{4}$
-------------------	-------------------	-------------------

٦) وصل إبراهيم إلى المنزل حسب الوقت أدناه، ما الوقت الذي تشير إليه الساعة؟



(أ) ٣:٣٠	(ب) ٣:٠٠	(ج) ١٢:٣٠
----------	----------	-----------

٧) الشكل أدناه يبين الرياضات التي يلعبها الطلاب، كم عدد الطلاب الذين يلعبون كرة القدم؟



(أ) ٣	(ب) ٦	(ج) ٨
-------	-------	-------

السؤال الثاني: قارن بين الأعداد التالية بوضع إشارة (= ، > ، <)

٨٩ ○ ٩٩

٢٥ ○ ٢٥

٣٠ ○ ٤٢

بالتوفيق والسداد



انتهت الأسئلة.