

# أوراق عمل مادة العلوم للصف الثاني الابتدائي - الفصل الدراسي الثالث

اسم الطالب : ..... الصف : ٢ /

صنف المواد التالية بحسب حالة المادة في الجدول:

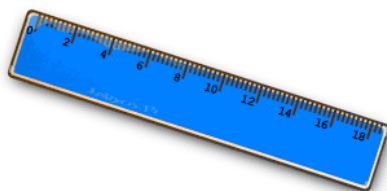


حالة المادة	١	٢	٣	٤	٥	٦	٧	٨	٩	١٠	١١	١٢
صلبة												
سائلة												
غازية												

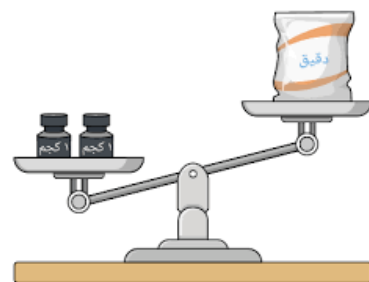
• أصل بين الصورة ووظيفتها :-



لقياس الحجم



لقياس الكتلة



لقياس الطول

# أوراق عمل مادة العلوم للصف الثاني الابتدائي - الفصل الدراسي الثالث

اسم الطالب : .....

الصف : ٢ /

❖ ضع الكلمات التالية في الفراغ المناسب :-


التغير الكيميائي

التغير الفيزيائي

١. .... هو التغير الذي يصعب أن نعيد المادة إلى ما كانت عليه لظهور خواص جديدة .

٢. .... هو تغير في شكل المادة أو حجمها فقط .

❖ أصل بين الصورة و نوع التغير فيما يلي :



تغير  
فيزيائي



تعفن الفاكهة



غلي الماء

تغير  
كيميائي



تقطيع الورق



أوراق عمل مادة العلوم للصف الثاني الابتدائي - الفصل الدراسي الثالث

اسم الطالب : ..... الصف : ٢ /

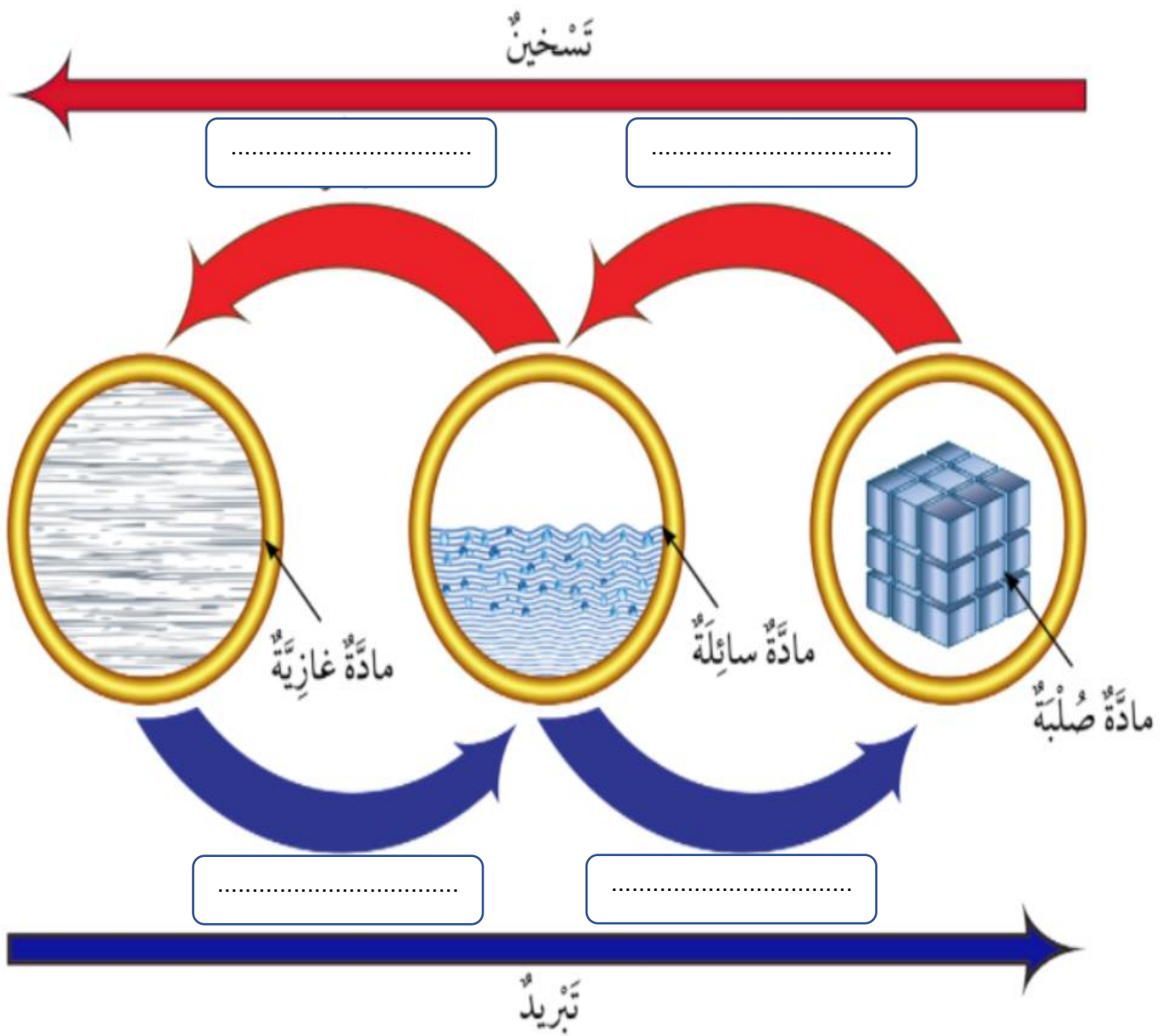
❖ أكمل الفراغات على الرسم التالي :-

تبخر

تجمد

انصهار

تكثف



# أوراق عمل مادة العلوم للصف الثاني الابتدائي - الفصل الدراسي الثالث

اسم الطالب : ..... الصف : ٢ /

❖ ضع الكلمات التالية في الفراغ المناسب :-

القوة

الوزن

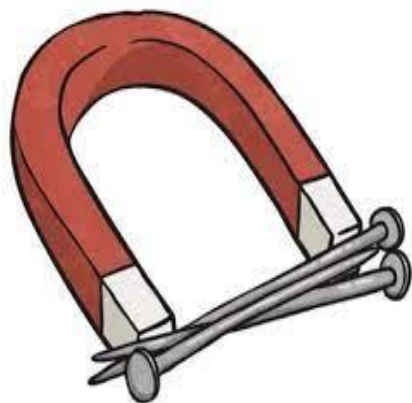
١. مؤثر يغير الحالة الحركية للجسم .

٢. مقدار قوة جذب الأرض للجسم .

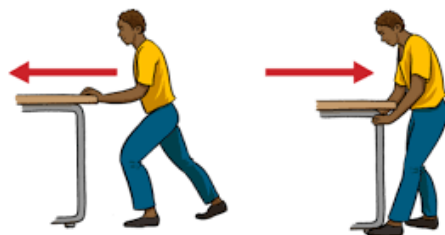
❖ أصل بين الصورة و نوع الحركة :-



قوى تنشأ  
بالتلامس




قوى تنشأ  
بدون تلامس



# أوراق عمل مادة العلوم للصف الثاني الابتدائي - الفصل الدراسي الثالث

اسم الطالب : ..... الصف : ٢ /

❖ ضع دائرة حول المواد التي تنجذب للمغناطيس :





❖ اختر الإجابة المناسبة :-

تجاذب  تنافر



تجاذب  تنافر




# أوراق عمل مادة العلوم للصف الثاني الابتدائي - الفصل الدراسي الثالث

اسم الطالب : ..... الصف : ٢ /

• ضع علامة ✓ أو x أمام العبارات التالية :-

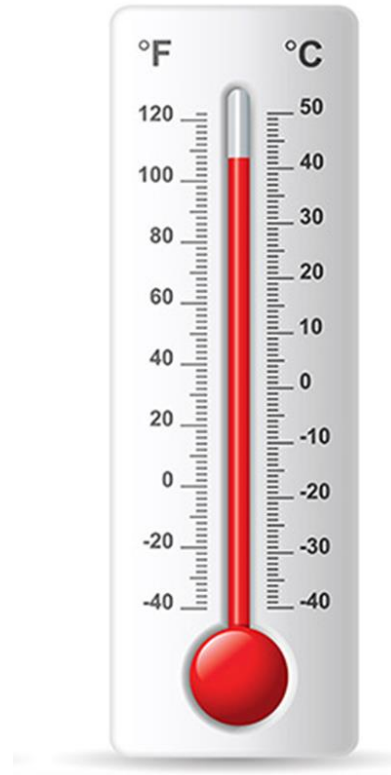
١. الحرارة هي أحد أشكال الطاقة التي يمكنها أن تغير حالة المادة . ( )
٢. الوقود يوضح مدى سخونة أو برودة الشيء . ( )

• اختر الإجابة الصحيحة فيما يلي :-



درجة  
حرارة  
مرتفعة

درجة  
حرارة  
منخفضة



درجة  
حرارة  
مرتفعة

درجة  
حرارة  
منخفضة

# أوراق عمل مادة العلوم للصف الثاني الابتدائي - الفصل الدراسي الثالث

اسم الطالب : ..... الصف : ٢ /

❖ أصل بين الصور و العبارة المناسبة :-



كهرباء متحركة



كهرباء ساكنة

❖ في أي الصورتين سيعمل المصباح ؟

