

تم تحميل وعرض المادة من



Google



موقع حصتي

موقع حصتي هو موقع تعليمي يعمل على تسهيل العملية التعليمية بطريقة بسيطة وسهلة وتوفير كل ما يحتاجه المعلم والطالب لكافة الصفوف الدراسية كما يحتوي الموقع على حلول جميع المواد مع الشروح المتنوعة للمعلمين.

المملكة العربية السعودية

وزارة التعليم

اسم الإدارة

اسم المدرسة



التاريخ : ____ / ____ / ١٤٤٧ هـ

المادة : رياضيات الصف : الثاني ابتدائي

الزمن : ساعتان ونصف الفترة : ____

الاختبار النهائي لمادة الرياضيات للصف الثاني (الدور الاول) الفترة الدراسية الثانية للعام الدراسي ١٤٤٧ هـ

الدرجة	السؤال (١)	السؤال (٢)	السؤال (٣)	المجموع	الدرجة كتابة

اسم المصحح	التوقيع

اسم المراجع	التوقيع

اسم المدقق	التوقيع

اسم الطالب	الصف	الثاني (____)	رقم الجلوس

أعدّ ثم أكتب السعر في البطاقة:



ب أكتب الوقت الذي تشير إليه الساعة:




الساعة:




الساعة:

د ألون الأجزاء التي تمثل الكسر المكتوب:



$$\frac{2}{4}$$

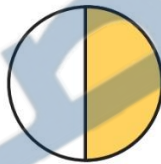
ج أكتب الكسر الدال على الجزء الملون:



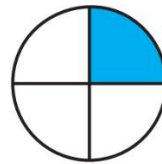
ه أقرن بين الكسرين، أكتب < أو >:



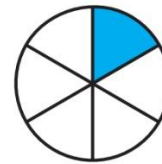
$$\frac{1}{3}$$



$$\frac{1}{2}$$



$$\frac{1}{4}$$




$$\frac{1}{6}$$



أملأ جدول المنازل، وأكتب العدد:

آحاد	عشرات	مئات



٢ و ٨ و ٣

ج أكتب العدد بالأرقام:

ب أكتب العدد:

ثمانية وثلاثون.

$$= 600 + 30 + 8$$

د أقرن بين العددين، ثم أكتب الإشارة المناسبة ($=$ ، $>$ ، $<$):

٣١٣ ○ ٣١٣ **٣** ٢٥٧ ○ ٢٥٣ **٢** ١٢٤ ○ ١٤٢ **١**

و اكتشف النمط ثم اكتب الأعداد المفقودة:

٣١٦،، ٣١٤،، ٣١٢ **٢**

النمط هو: كل عدد يزيد عن
العدد السابق له.

ه أرتب الأعداد من الأصغر إلى الأكبر:

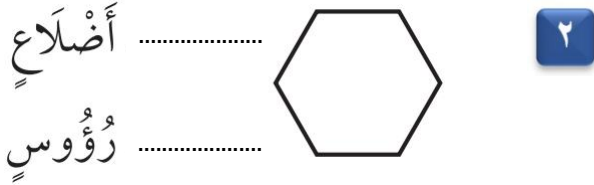
٨٠١، ٨٠٥، ٧٩٨ **١**

.....،،

١٣

• السؤال (٣)

ب أكتب عدد الأضلاع وعدد الرؤوس:




ا أكتب اسم الجسم:



د أحوط الوحدة المناسبة لقياس السعة:



ج أحوط الشكل الذي مساحته أكبر:



ه أجد ناتج الجمع أو الطرح:

٦٤٠ **٣**
٥٠ -

٢٤٣ **٢**
٢١٩ +

٤٠٠ **١**
٣٠٠ +

للمزيد من الاختبارات اضغط
على قناة تيليجرام

معلمة المادة

• انتهت الأسئلة •

(مع أطيب الدعوات لكم بالنجاح والتفوق)

(لا أحل إعادة نشر هذا النموذج بدون حقوق القناة) قناة مرحب الرياضيات TELEGRAM

https://t.me/math_marah

المملكة العربية السعودية

وزارة التعليم

اسم الإدارة

اسم المدرسة



التاريخ : ____ / ____ / ١٤٤٧ هـ

المادة : رياضيات الصف : الثاني ابتدائي

الزمن : ساعتان ونصف الفترة : ____

الاختبار النهائي لمادة الرياضيات للصف الثاني (الدور الاول) الفترة الدراسية الثانية للعام الدراسي ١٤٤٧ هـ

الدرجة كتابة	المجموع

نموذج الاجابة

اسم المصحح		التوقيع	
اسم المراجع		التوقيع	
اسم المدقق		التوقيع	

نموذج إجابة

اسم الطالب	الصف	الثاني (____)	رقم الجلوس
------------	-------	------	-----------------	------------	-------

موقع حصتي

قناة مرحب الرياضيات TELEGRAM

https://t.me/math_marah

أعدّ ثم أكتب السعر في البطاقة:



ب أكتب الوقت الذي تشير إليه الساعة:

درجة واحدة



٢

الثانية والنصف السّاعة:

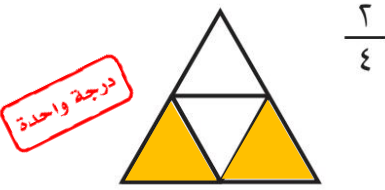
درجة واحدة



١

السّاعة ٨

د ألون الأجزاء التي تمثّل الكسر المكتوب:



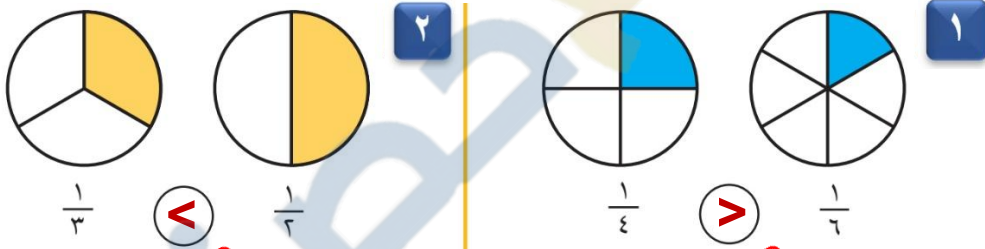
درجة واحدة

ج أكتب الكسر الدال على الجزء الملون:



درجتان

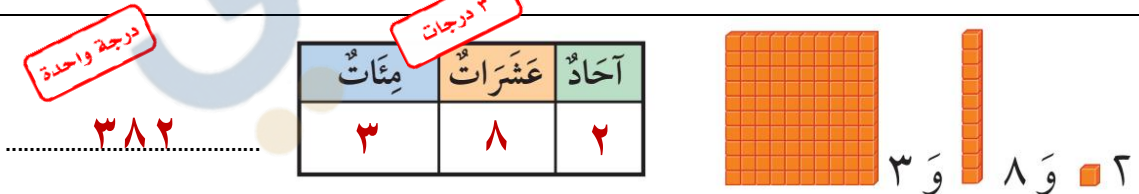
ه أقرن بين الكسرين، أكتب < أو >:



$\frac{1}{3} < \frac{1}{2}$

$\frac{1}{4} > \frac{1}{6}$

أملأ جدول المنازل، وأكتب العدد:



٣٨٢

٣ و ٨ و ٢

ج أكتب العدد بالأرقام:

درجة واحدة

ثَمَانِيَةٌ وَثَلَاثُونَ ٣٨

ب أكتب العدد:

درجة واحدة

٦٣٨ = ٦٠٠ + ٣٠ + ٨

د أقارن بين العددين، ثم أكتب الإشارة المناسبة ($=$ ، $>$ ، $<$):

٣١٣ $\textcircled{=}$ ٣١٣ $\textcircled{3}$ ٢٥٧ $\textcircled{>}$ ٢٥٣ $\textcircled{2}$ ١٢٤ $\textcircled{<}$ ١٤٢ $\textcircled{1}$

و اكتشف النمط ثم اكتب الأعداد المفقودة:

٣١٦، ٣١٥، ٣١٤، ٣١٣، ٣١٢ $\textcircled{2}$
النمط هو: كل عدد يزيد ١ عن
العدد السابق له.

ه أرتب الأعداد من الأصغر إلى الأكبر:

٨٠١، ٨٠٥، ٧٩٨ $\textcircled{1}$
٨٠٥، ٨٠١، ٧٩٨ $\textcircled{3}$

١٣

السؤال (٣)

ب أكتب عدد الأضلاع وعدد الرؤوس:

أضلاع ٥
رؤوس ٥



ا أكتب اسم الجسم:

مكعب



د أحوط الوحدة المناسبة لقياس السعة:

لتر



مللتر

ج أحوط الشكل الذي مساحته أكبر:



ه أجد ناتج الجمع أو الطرح:

$$\begin{array}{r} 514 \\ 740 \\ \hline 590 \end{array}$$

$$\begin{array}{r} 243 \\ 219 \\ \hline 462 \end{array}$$

$$\begin{array}{r} 400 \\ 300 \\ \hline 700 \end{array}$$

للمزيد من الاختبارات اضغط
على قناة تيليجرام

معلمة المادة

❖ انتهت الأسئلة ❖

(مع أطيب الدعوات لكم بالنجاح والتفوق)

(لا أحل إعادة نشر هذا النموذج بدون حقوق القناة) قناة **مرح الرياضيات** TELEGRAM

https://t.me/math_marah