

اسم الطالبة/.....

الصف/ الثاني الابتدائي

المادة/ العلوم



المملكة العربية السعودية

وزارة التعليم

الإدارة العامة للتعليم بمنطقة.....


اختبار تشخيصي لمادة العلوم الصف الثاني لعام ١٤٤٥ هـ

(درجتان لكل فقرة)

١٠ درجات

* / نضع علامة (✓) تحت الأجوبة الصحيحة :

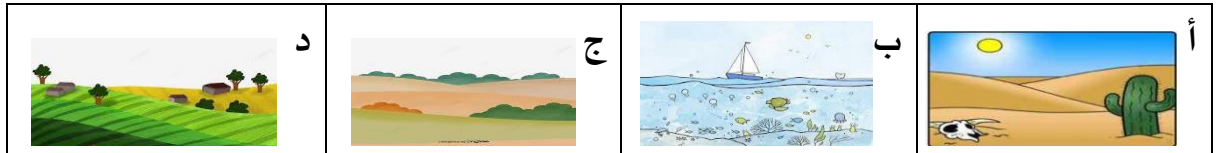
١ / أي المراحل التالية تمثل بداية السلسلة الغذائية :



٢ / كيف تختلف النباتات عن باقي مخلوقات ؟

د	ج	ب	أ
تنتج غذاءها من الشمس	تحتاج للماء لتعيش	تحتاج للهواء لتنمو	تحتل مكان صغير


٣ / أي من هذه المواطن تعيش فيها السحلية :



٤ / ما الخاصية التي ساعدت الدب القطبي على العيش في المنطقة القطبية :








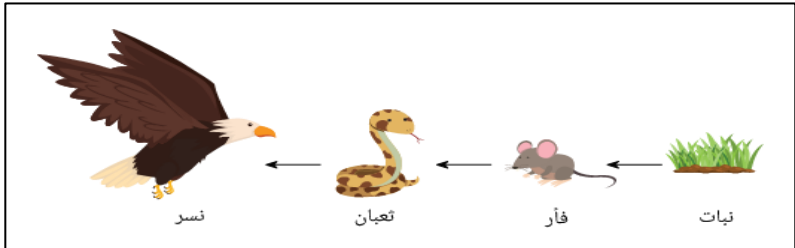









د	ج	ب	أ
الاسنان الحادة	الحراشيف	العيون الحادة	الفرو السميك





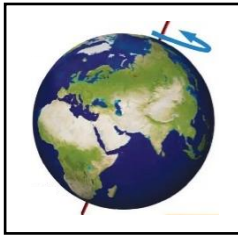
٥ / المرحلة الأخيرة من دورة حياة الفراشة هي :



اختبار تشخيصي مادة العلوم للصف الثاني نموذج (١)

الاسم/

<table border="1"> <tr> <td>اجتاز</td> <td>○</td> </tr> <tr> <td>لم يجتاز</td> <td>○</td> </tr> </table>	اجتاز	○	لم يجتاز	○	<p>س١/ رتب مراحل حياة نبات الفاصوليا بوضع الرقم المناسب (١ - ٢ - ٣ - ٤)</p> <div style="display: flex; justify-content: space-around; align-items: center;"> <div style="text-align: center;">  <input type="checkbox"/> </div> <div style="text-align: center;">  <input type="checkbox"/> </div> <div style="text-align: center;">  <input type="checkbox"/> </div> <div style="text-align: center;">  <input type="checkbox"/> </div> </div>	<p>التعرف على مراحل دورة حياة النبات</p>								
اجتاز	○													
لم يجتاز	○													
<table border="1"> <tr> <td>اجتاز</td> <td>○</td> </tr> <tr> <td>لم يجتاز</td> <td>○</td> </tr> </table>	اجتاز	○	لم يجتاز	○	<p>س٢/ رتب بالأرقام مراحل دورة حياة الماعز:</p> <div style="display: flex; justify-content: space-around; align-items: center;"> <div style="text-align: center;">  <input type="checkbox"/> </div> <div style="text-align: center;">  <input type="checkbox"/> </div> <div style="text-align: center;">  <input type="checkbox"/> </div> </div>	<p>وصف دورات حياة الحيوانات والمقارنة بينهما</p>								
اجتاز	○													
لم يجتاز	○													
<table border="1"> <tr> <td>اجتاز</td> <td>○</td> </tr> <tr> <td>لم يجتاز</td> <td>○</td> </tr> </table>	اجتاز	○	لم يجتاز	○	<p>س٣/ من خلال السلسلة الغذائية التالية ::</p> <div style="display: flex; align-items: center; justify-content: center;"> <div style="text-align: center; margin-right: 10px;">النسر</div> <div style="text-align: center;">  </div> </div> <p>يتغذى على :</p> <table border="1" style="width: 100%; text-align: center;"> <tr> <td style="width: 25%;"></td> <td style="width: 25%;">خ</td> <td style="width: 25%;"></td> <td style="width: 25%;">ب</td> </tr> <tr> <td style="width: 25%;"></td> <td style="width: 25%;">أ</td> <td style="width: 25%;"></td> <td style="width: 25%;"></td> </tr> </table>		خ		ب		أ			<p>وصف السلسلة الغذائية</p>
اجتاز	○													
لم يجتاز	○													
	خ		ب											
	أ													

<table border="1"> <tr> <td>اجتاز</td> <td><input type="radio"/></td> </tr> <tr> <td>لم يجتاز</td> <td><input type="radio"/></td> </tr> </table>	اجتاز	<input type="radio"/>	لم يجتاز	<input type="radio"/>	<p>س٤ / ضع علامة (✓) تحت الحيوان الذي يعيش في الغابة المطيرة:</p> <div style="display: flex; justify-content: space-around; align-items: center;">     </div> <div style="display: flex; justify-content: space-around; align-items: center; margin-top: 20px;"> <input type="radio"/> <input type="radio"/> <input type="radio"/> <input type="radio"/> </div>	المقارنة بين الغابات المطيرة والغابات الأخرى
اجتاز	<input type="radio"/>					
لم يجتاز	<input type="radio"/>					
<table border="1"> <tr> <td>اجتاز</td> <td><input type="radio"/></td> </tr> <tr> <td>لم يجتاز</td> <td><input type="radio"/></td> </tr> </table>	اجتاز	<input type="radio"/>	لم يجتاز	<input type="radio"/>	<p>س٥ / أنظر إلى الصورة المجاورة ثم اختر الإجابة الصحيحة: تعد هذه الطبقة من التربة الأفضل لنمو النباتات لأنها تحتوي على:</p> <ol style="list-style-type: none"> ١- صخور مفتتة. ٢- الهواء بين حبيباتها. ٣- بقايا نباتات وحيوانات متحللة. 	تفسير كيف تتكون التربة
اجتاز	<input type="radio"/>					
لم يجتاز	<input type="radio"/>					
<table border="1"> <tr> <td>اجتاز</td> <td><input type="radio"/></td> </tr> <tr> <td>لم يجتاز</td> <td><input type="radio"/></td> </tr> </table>	اجتاز	<input type="radio"/>	لم يجتاز	<input type="radio"/>	<p>س٦ / اختر الإجابة الصحيحة : يحدث الليل والنهار بسبب</p> <div style="display: flex; align-items: center; margin-bottom: 20px;">  </div> <ul style="list-style-type: none"> - دوران حول الأرض حول محورها - دوران القمر حول الأرض. - دوران الأرض حول الشمس. 	التوصل إلى أن دوران الأرض حول نفسها يسبب الليل والنهار
اجتاز	<input type="radio"/>					
لم يجتاز	<input type="radio"/>					
<table border="1"> <tr> <td>اجتاز</td> <td><input type="radio"/></td> </tr> <tr> <td>لم يجتاز</td> <td><input type="radio"/></td> </tr> </table>	اجتاز	<input type="radio"/>	لم يجتاز	<input type="radio"/>	<p>س٧ / ضع علامة (✓) أو (×) :</p> <p>١- عدد كواكب النظام الشمسي خمسة كواكب ()</p>	توضيح العلاقة بين الكواكب والشمس
اجتاز	<input type="radio"/>					
لم يجتاز	<input type="radio"/>					

مديرة المدرسة:
















اسم المعلمة:

المشرفة التربوية:

*يرجى الاحتفاظ بالشواهد في ملف خاص بالمعلمة

اختبار تشخيصي مادة العلوم للصف الثاني نموذج (٢)

الاسم/

		س١/ رتب مراحل حياة نبات الرمان بوضع الرقم المناسب (١ - ٢ - ٣ - ٤)				التعرف على مراحل دورة حياة النبات	
اجتاز	0						
لم يجتاز	0	(.....)	(.....)	(.....)	(.....)		
		س٢/ رتب بالأرقام مراحل دورة حياة الضفدع:				وصف دورات حياة الحيوانات والمقارنة بينهما	
اجتاز	0						
لم يجتاز	0						
		س٣/ من خلال السلسلة الغذائية التالية:				وصف السلسلة الغذائية	
اجتاز	0						
لم يجتاز	0	صقر	أرنب	نبات	شمس		
		الصقر يتغذى على:					
			ج		ب		أ

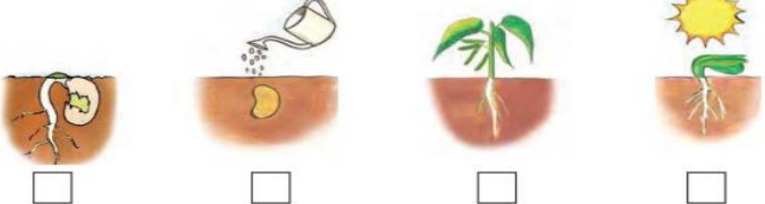











<table border="1"> <tr> <td>اجتاز</td> <td><input type="radio"/></td> </tr> <tr> <td>لم يجتاز</td> <td><input type="radio"/></td> </tr> </table>	اجتاز	<input type="radio"/>	لم يجتاز	<input type="radio"/>		<p>س ٤ / اختر الإجابة الصحيحة: في الغابة المطيرة: ١- تنمو الأشجار عاليا ولها أوراق ضخمة. ٢- يقل سقوط الأمطار فيها. ٣- نباتاتها قصيرة وقليلة.</p>	<p>المقارنة بين الغابات المطيرة والغابات الأخرى</p>
اجتاز	<input type="radio"/>						
لم يجتاز	<input type="radio"/>						
<table border="1"> <tr> <td>اجتاز</td> <td><input type="radio"/></td> </tr> <tr> <td>لم يجتاز</td> <td><input type="radio"/></td> </tr> </table>	اجتاز	<input type="radio"/>	لم يجتاز	<input type="radio"/>	<p>س ٥ / اختر الكلمة المناسبة ثم أكتبها في الفراغ : (الحيوانات - الصخور) التربة هي خليط من فتات وبقايا النباتات والحيوانات الميتة.</p>	<p>س ٥ / اختر الكلمة المناسبة ثم أكتبها في الفراغ :</p>	<p>تفسير كيف تتكون التربة</p>
اجتاز	<input type="radio"/>						
لم يجتاز	<input type="radio"/>						
<table border="1"> <tr> <td>اجتاز</td> <td><input type="radio"/></td> </tr> <tr> <td>لم يجتاز</td> <td><input type="radio"/></td> </tr> </table>	اجتاز	<input type="radio"/>	لم يجتاز	<input type="radio"/>		<p>س ٦ / ضع علامة (✓) أو (x): يحدث الليل والنهار بسبب دوران الأرض حول محورها ()</p>	<p>حول نفسها بسبب الليل والنهار</p>
اجتاز	<input type="radio"/>						
لم يجتاز	<input type="radio"/>						
<table border="1"> <tr> <td>اجتاز</td> <td><input type="radio"/></td> </tr> <tr> <td>لم يجتاز</td> <td><input type="radio"/></td> </tr> </table>	اجتاز	<input type="radio"/>	لم يجتاز	<input type="radio"/>	<p>س ٧ / اختر الإجابة الصحيحة: ٢- تتشابه كواكب النظام الشمسي في أن جميعها تدور حول أ الشمس ب القمر خ الأرض</p>	<p>س ٧ / اختر الإجابة الصحيحة:</p>	<p>توضيح العلاقة بين الكواكب والشمس</p>
اجتاز	<input type="radio"/>						
لم يجتاز	<input type="radio"/>						






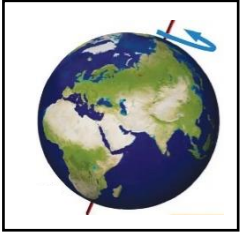
اسم المعلمة:
المشرفة/ة التربوي/ة:
مديرة/ة المدرسة:

*يرجى الاحتفاظ بالشواهد في ملف خاص بالمعلمة

اختبار تشخيصي مادة العلوم للصف الثاني نموذج (٣)

الاسم/

اجتاز		لم يجتاز		س١ / رتب مراحل حياة نبات الفاصوليا بوضع الرقم المناسب (١ - ٢ - ٣ - ٤)		التعرف على مراحل دورة حياة النبات					
<input type="checkbox"/>	<input type="checkbox"/>	<input type="checkbox"/>	<input type="checkbox"/>		<input type="checkbox"/>	<input type="checkbox"/>					
اجتاز		لم يجتاز		س٢ // رتب بالأرقام مراحل دورة حياة الفراشة:		وصف دورات حياة الحيوانات والمقارنة بينهما					
<input type="checkbox"/>	<input type="checkbox"/>	<input type="checkbox"/>	<input type="checkbox"/>		<input type="checkbox"/>	<input type="checkbox"/>					
اجتاز		لم يجتاز		س٣ / من خلال السلسلة الغذائية التالية ::		وصف السلسلة الغذائية					
<input type="checkbox"/>	<input type="checkbox"/>	<input type="checkbox"/>	<input type="checkbox"/>		<p>النسر يتغذى</p> <p>على :</p> <table border="1"> <tr> <td></td> <td>خ</td> <td></td> <td>ب</td> <td></td> <td>أ</td> </tr> </table>		خ		ب		أ
	خ		ب		أ						

<table border="1"> <tr> <td>اجتاز</td> <td><input type="radio"/></td> </tr> <tr> <td>لم يجتاز</td> <td><input type="radio"/></td> </tr> </table>	اجتاز	<input type="radio"/>	لم يجتاز	<input type="radio"/>	<p>س٤ / ضع علامة (✓) تحت الحيوان الذي يعيش في الصحراء الحارة:</p> <div style="display: flex; justify-content: space-around;">     </div> <div style="display: flex; justify-content: space-around; margin-top: 10px;"> <input type="radio"/> <input type="radio"/> <input type="radio"/> <input type="radio"/> </div>	المقارنة بين الغابات المطيرة والغابات الأخرى						
اجتاز	<input type="radio"/>											
لم يجتاز	<input type="radio"/>											
<table border="1"> <tr> <td>اجتاز</td> <td><input type="radio"/></td> </tr> <tr> <td>لم يجتاز</td> <td><input type="radio"/></td> </tr> </table>	اجتاز	<input type="radio"/>	لم يجتاز	<input type="radio"/>	<p>س٥ / ضع علامة (✓) أو (x):</p> <p>١- تتكون التربة من فتات الصخور فقط ()</p> 	تفسير كيف تتكون التربة						
اجتاز	<input type="radio"/>											
لم يجتاز	<input type="radio"/>											
<table border="1"> <tr> <td>اجتاز</td> <td><input type="radio"/></td> </tr> <tr> <td>لم يجتاز</td> <td><input type="radio"/></td> </tr> </table>	اجتاز	<input type="radio"/>	لم يجتاز	<input type="radio"/>	<p>س٦ / اختر الإجابة الصحيحة:</p> <p>يحدث الليل والنهار بسبب دوران الأرض حول</p> <table border="1" style="width: 100%; text-align: center;"> <tr> <td>أ</td> <td>محورها</td> <td>ب</td> <td>القمر</td> <td>خ</td> <td>الشمس</td> </tr> </table> 	أ	محورها	ب	القمر	خ	الشمس	التوصل إلى أن دوران الأرض حول نفسها يسبب الليل والنهار
اجتاز	<input type="radio"/>											
لم يجتاز	<input type="radio"/>											
أ	محورها	ب	القمر	خ	الشمس							
<table border="1"> <tr> <td>اجتاز</td> <td><input type="radio"/></td> </tr> <tr> <td>لم يجتاز</td> <td><input type="radio"/></td> </tr> </table>	اجتاز	<input type="radio"/>	لم يجتاز	<input type="radio"/>	<p>س٧ / ضع علامة (✓) أو (x):</p> <p>١- تتشابه كواكب النظام الشمسي في أن جميعها تدور حول الشمس ()</p>	توضيح العلاقة بين الكواكب والشمس						
اجتاز	<input type="radio"/>											
لم يجتاز	<input type="radio"/>											

مديرة المدرسة:

اسم المعلمة:

المشرفة التربوية:

*يرجى الاحتفاظ بالشواهد في ملف خاص بالمعلمة