



اليوم/

التاريخ/

الحصة/

رقم الصفحة/



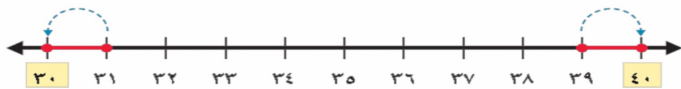
جدول التعلم

ماذا تعلمت؟

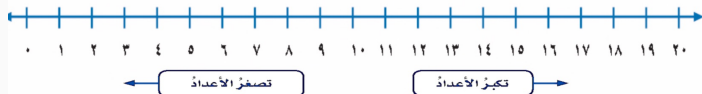
ماذا أريد أن أتعلم؟

ماذا أعرف؟

التَّقْرِيبُ



خَطُّ الأَعْدَادِ





التَّقْرِيبُ إِلَى أَقْرَبِ أَلْفٍ

أُسْتَعِدُّ

٨ - ١

زُورِ المْتَحَفِ الوَطْنِي السُّعُودِي

الأسبوع عدد الزوار

١ ١٢٥٨

٢ ٢٣٤١

٣ ٤٦٨٤

٤ ٢٥٠٠

٥ ٣٤٩٩

سَجَّلَ رَاشِدٌ عِدَدَ زُورِ المْتَحَفِ الوَطْنِي السُّعُودِي خِلالَ خَمْسَةِ أسابِيعَ، كَمَا هُوَ مَوْضَعٌ فِي الجَدُولِ المُجاوِرِ. ما العَدَدُ التَّقْرِيبِيُّ لِلزُّوَارِ الَّذِينَ زارُوا المْتَحَفَ فِي الأسبوعِ الثالِثِ؟

يُمْكِنُ تَقْرِيبُ الأَعْدادِ إِلَى أَقْرَبِ أَلْفٍ.

فِكْرَةُ الدَّرْسِ

أَقْرَبُ الأَعْدادِ إِلَى أَقْرَبِ أَلْفٍ.

أَسْتَعْمِلُ خَطَّ الأَعْدَادِ

١ **مَتَاحِفٌ:** ما العَدَدُ التَّقْرِيبِيُّ لِزُورِ المُتَحَفِ الوَطَنِيِّ السَعُودِيِّ فِي الأُسْبُوعِ الثَّالِثِ؟ أَقْرَبُ إِلَى أَقْرَبِ أَلْفٍ.

أَقْرَبُ أَلْفٍ أَقَلُّ مِنْ ٤٦٨٤ هُوَ ٤٠٠٠

أَقْرَبُ أَلْفٍ أَكْبَرُ مِنْ ٤٦٨٤ هُوَ ٥٠٠٠



أَلِاحِظْ أَنَّ العَدَدَ ٤٦٨٤ أَقْرَبُ إِلَى العَدَدِ ٥٠٠٠ مِنْهُ إِلَى العَدَدِ ٤٠٠٠

إِذْ أَقْرَبُ العَدَدَ ٤٦٨٤ إِلَى ٥٠٠٠

العَدَدُ التَّقْرِيبِيُّ لِزُورِ المُتَحَفِ فِي الأُسْبُوعِ الثَّالِثِ ٥٠٠٠

٢ مَا العَدَدُ التَّقْرِيبِيُّ لِلزُّورِ فِي الأُسْبُوعِ الثَّانِي؟ أَقْرَبُ إِلَى أَقْرَبِ أَلْفٍ.

أَقْرَبُ أَلْفٍ أَقَلُّ مِنْ ٢٣٤١ هُوَ ٢٠٠٠

أَقْرَبُ أَلْفٍ أَكْبَرُ مِنْ ٢٣٤١ هُوَ ٣٠٠٠



وَبِمَا أَنَّ العَدَدَ ٢٣٤١ أَقْرَبُ إِلَى العَدَدِ ٢٠٠٠ مِنْهُ إِلَى العَدَدِ ٣٠٠٠

إِذْ أَقْرَبُ العَدَدَ ٢٣٤١ إِلَى ٢٠٠٠

العَدَدُ التَّقْرِيبِيُّ لِلزُّورِ فِي الأُسْبُوعِ الثَّانِي هُوَ ٢٠٠٠



الخطوة ١: أضع خطًا تحت الرِّقْمِ الَّذِي فِي الْمَنْزِلَةِ الَّتِي سَيَتَمُّ التَّقْرِيْبُ إِلَيْهَا.

الخطوة ٢: أنظرُ إلى الرِّقْمِ عَنِ يَمِينِ الْمَنْزِلَةِ الَّتِي سَيَتَمُّ التَّقْرِيْبُ إِلَيْهَا.

الخطوة ٣: إذا كَانَ الرِّقْمُ ٤ أو أَقَلَّ، لا أغيِّرُ الرِّقْمَ الَّذِي تَحْتَهُ خَطًّا. أمَّا إذا كَانَ الرِّقْمُ ٥ أو أَكْبَرَ، فَإِنِّي أُضِيفُ ١ إِلَى الرِّقْمِ الَّذِي تَحْتَهُ خَطًّا.

الخطوة ٤: أستبدلُ صِفْرًا مَكَانَ كُلِّ رِقْمٍ عَنِ يَمِينِ الرِّقْمِ الَّذِي تَحْتَهُ خَطًّا.



أَسْتَعْمَلُ خُطَوَاتِ التَّقْرِيبِ


٣
حَدِيقَةُ الْحَيَوَانَاتِ: في الأسبوع الماضي زَارَ حَدِيقَةَ الْحَيَوَانَاتِ ٥٤٩٩ زَائِرًا، مَا عَدَدَ زُورَارِ الْحَدِيقَةِ مُقَرَّبًا إِلَى أَقْرَبِ أَلْفٍ؟
 أَقْرَبُ الْعَدَدِ ٥٤٩٩ إِلَى أَقْرَبِ أَلْفٍ.

- الخطوة ١:** أَصْعُ خَطًّا تَحْتَ الرَّقْمِ فِي الْمُنْرَلَةِ الَّتِي سَيَقْرَبُ إِلَيْهَا، وَهُوَ فِي هَذِهِ الْحَالَةِ الرَّقْمِ ٥ فِي مُنْرَلَةِ الْأُلُوفِ .
 ٥٤٩٩
- الخطوة ٢:** أَنْظُرْ إِلَى الرَّقْمِ ٤ عَنْ يَمِينِ الرَّقْمِ الَّذِي تَحْتَهُ خَطٌّ .
 ٥٤٩٩
- الخطوة ٣:** هَذَا الرَّقْمُ أَقَلُّ مِنْ ٥، لِذَا فَإِنِّي لَا أُغَيِّرُ الرَّقْمَ الَّذِي تَحْتَهُ خَطٌّ .
 ٥٤٩٩
- الخطوة ٤:** أَسْتَبْدِلُ صَفْرًا مَكَانَ كُلِّ رَقْمٍ عَنْ يَمِينِ الرَّقْمِ الَّذِي تَحْتَهُ خَطٌّ، فَيَكُونُ تَقْرِيبُ الْعَدَدِ ٥٤٩٩ إِلَى أَقْرَبِ أَلْفٍ هُوَ :
 ٥٠٠٠



أَدْرِكْ

أَسْتَعْمَلُ خُطَوَاتِ التَّقْرِيبِ
 لِتَقْرِيبِ الْأَعْدَادِ إِلَى أَيِّ قِيَمَةٍ
 مُنْرَلِيَّةٍ.





أَقْرَبُ كَلًّا مِنَ الْأَعْدَادِ الْآيَةِ إِلَى أَقْرَبِ أَلْفٍ: الأمثلة (١-٣)

٧٠٩٩

٤

٢٥٠٠

٣

١٤٩٩

٢

٣٩٢٢

١

٥ في مزرعة والد أحمد ١٢٥٠ نخلة، أقرب عدد النخيل إلى أقرب ألف.

٦ كيف أستعمل خطوات التقريب لتقريب العدد ٥٢٩٩ إلى أقرب ألف. **أَتَحَدِّثُ**

أَقْرَبُ كَلَامًا مِنَ الْأَعْدَادِ الْآتِيَةِ إِلَى أَقْرَبِ أَلْفٍ: الأمثلة (١-٣)

١٥٠٣

١٠

٥٢٩٩

٩

١٠٩٩

٨

٨٦١١

٧

١١ بلغ عدد حضور مباراة كرة قدم ٦٩٨٩ شخصًا، فما عدد الحضور مُقَرَّبًا إلى أَقْرَبِ أَلْفٍ؟

١٢ في مكتبة المدرسة ١٤٨٣ كتابًا، فكم كتابًا في المكتبة مُقَرَّبًا إلى أَقْرَبِ أَلْفٍ؟

١٣ **القياسُ:** ركب سعاد الطائرة في رحلة الذهاب قاطعًا مسافة ١١٤٢ كيلومترًا، فكم كيلومترًا قطعت الطائرة ذهابًا وإيابًا مُقَرَّبًا إلى أَقْرَبِ أَلْفٍ؟

١٤ **الحس العددي:** أصف جميع الأعداد المكوّنة من ٤ أرقام، والتي يكون تقريب كل منها إلى أقرب ألف هو ٨٠٠٠

١٥ ما العدد الذي قُرب إلى أقرب ألف بطريقة غير صحيحة؟ أذكر السبب.

٨٠٠٠ ← ٨٤٥٦

٣٠٠٠ ← ٣٣٤٤

٥٠٠٠ ← ٥٥٠٠

٢٠٠٠ ← ٢١٨٤

١٦ **أختر** أقرب العدد ٤٩٩ إلى أقرب مئة، ثم أقربه إلى أقرب عتبة، ماذا اللمح؟
أوضح إجابتي.



التقريب إلى أقرب ألفٍ

اختر الإجابة الصحيحة:

التقريب الصحيح للعدد ٥٩٦٣ هو:

٦٠٠

٥٠٠



نشاط المنصة

اختر الإجابة الصحيحة:

التقريب الصحيح للعدد ٣٠٠١ هو:

٤٠٠

٣٠٠

