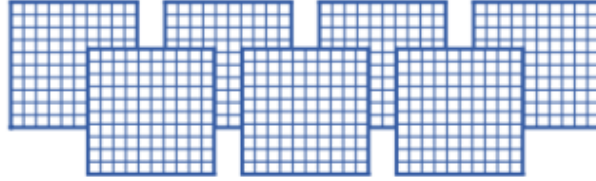
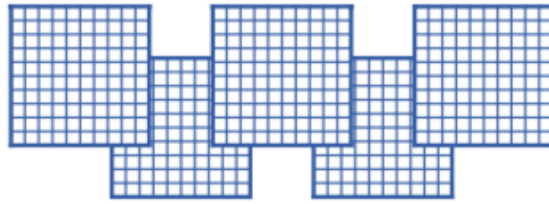


مهارة (١) بيان القيمة المنزلية لرقم في عدد ضمن (١٠٠٠).

١ أَكْتُبُ عَدَدَ الْعَشْرَاتِ، وَالْأَحَادِ، ثُمَّ أَكْتُبُ الْعَدَدَ الْمُنَاسِبَ:



٧ مِائَاتٍ = ..... عَشْرَاتٍ = ..... أَحَادٍ = .....



٢ ٥ مِائَاتٍ = ..... عَشْرَاتٍ = ..... أَحَادٍ = .....


٣ أَكْتُبُ الْعَدَدَ فِي صُورَةِ أَحَادٍ، وَعَشْرَاتٍ، وَمِائَاتٍ:

٤ مَجْمُوعَاتٍ مِنَ الْمِائَاتِ  
 \_\_\_\_\_ مِائَاتٍ = \_\_\_\_\_ عَشْرَةً  
 \_\_\_\_\_ = \_\_\_\_\_ أَحَادٍ.



مهارة (١) بيان القيمة المنزلية لرقم في عدد ضمن (١٠٠٠) .

اَكْتُبْ عَدَدَ الآحَادِ وَالْعَشْرَاتِ وَالْمِائَاتِ فِي الأَعْدَادِ الْمُعْطَاةِ:



٣٢٨

آحاد	عَشْرَاتٍ	مِائَاتٍ

٣٦٠

\_\_\_ آحاد \_\_\_ عَشْرَاتٍ \_\_\_ مِائَاتٍ .

آحَادٌ	عَشْرَاتٌ	مِائَاتٌ
___	___	___

ما العَدَدُ الَّذِي تُمَثِّلُهُ: ٤ مِائَاتٍ، وَ ٧ عَشْرَاتٍ، وَ ٣ آحَادٍ؟



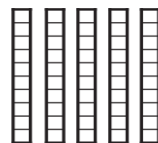
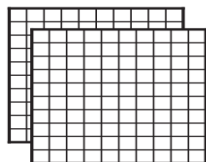
مهارة (١) بيان القيمة المنزلية لرقم في عدد ضمن (١٠٠٠) .

١ أكتب الصورة التحليلية للعدد، ثم أكتبه بالأرقام:

٨ آحادٍ ٧ عشراتٍ ٨ مئاتٍ

..... + ..... + .....

.....



٢٥٣

..... + ..... + .....

٢ أحوط القيمة المنزلية للرقم الملون بالأحمر:


١٥٩

١٠٠    ١٠    ١

٣ أكتب العدد بالصيغة القياسية :

..... = ٦٠٠ + ٣٠ + ٨

..... = ٧ + ٩٠ + ٢٠٠



مهارة (٢) : حل مسائل باستعمال استراتيجيات ومهارات مناسبة مع اتباع الخطوات الأربع



أنشئ قائمة لحل المسألة :

يُلَوَّنُ عَادِلٌ ٣ زَهْرَاتٍ فِي صَفٍّ، فَيُلَوِّنُ كُلَّ وَاحِدَةٍ بِلَوْنٍ، وَيَسْتَعْمِلُ الْأَلْوَانَ: الْأَزْرَقَ وَالْأَحْمَرَ وَالْأَصْفَرَ، بِكَمْ طَرِيقَةً مُخْتَلِفَةً يُمَكِّنُ أَنْ تَظْهَرَ الزَّهْرَاتُ؟


مهارة (٣) : قراءة الأعداد ضمن العدد (١٠٠٠) وكتابتها بطرق متنوعة (قياسية، لفظية، تحليلية)

**أكتب العدد التالي بالكلمات:**

٣٩٤

١

.....

١٠٠٠

٢

.....

**أكتب العدد التالي بالأرقام:**



سِتُّ مِئَةٍ وَثَلَاثَةٌ وَتِسْعُونَ.

.....

ثَمَانِي مِئَةٍ وَخَمْسَةَ عَشَرَ

.....

أَقْرَأِ الْعَدَدَ فِيمَا يَأْتِي وَأَكْتُبُهُ بِطَرِيقَتَيْنِ مُخْتَلِفَتَيْنِ:

مِائَاتٍ	عَشْرَاتٍ	أَحَادٍ
٤	٦	٥


.....

..... = ..... + ..... + .....

المهمة الأدائية الفصل التاسع (الأعداد حتى ١٠٠٠)	
الاسم:	الصف: الثاني ( )

قام أمين المكتبة بعدّ جميع الكتب ، ودوّن الأعداد في الجدول التالي ،  
أستعمل هذه الأعداد للإجابة عن الأسئلة :

عدّد الكُتُبِ في مَدْرَسَتِنَا	
٤٧	الشُّعْرُ
٢٥٢	القِصَصُ
٨٠	العُلُومُ
٦٢١	المُصَوِّرَةُ
١٠٠٠	المَجْمُوعُ



١- يمثل العدد  $٢٠٠ + ٥٠ + ٢$  عدد كتب .....

٢- أكتب عدد الكتب المصورة في الصورة التحليلية ..  
.....

٣- ما مجموع كُتُبِ العلوم وكتب الشعر ؟  
.....+.....= ..... كتاباً

٤- أكتب أسماء الكتب المختلفة بالترتيب من الأصغر إلى الأكبر.  
..... ، ..... ، ..... ، .....

