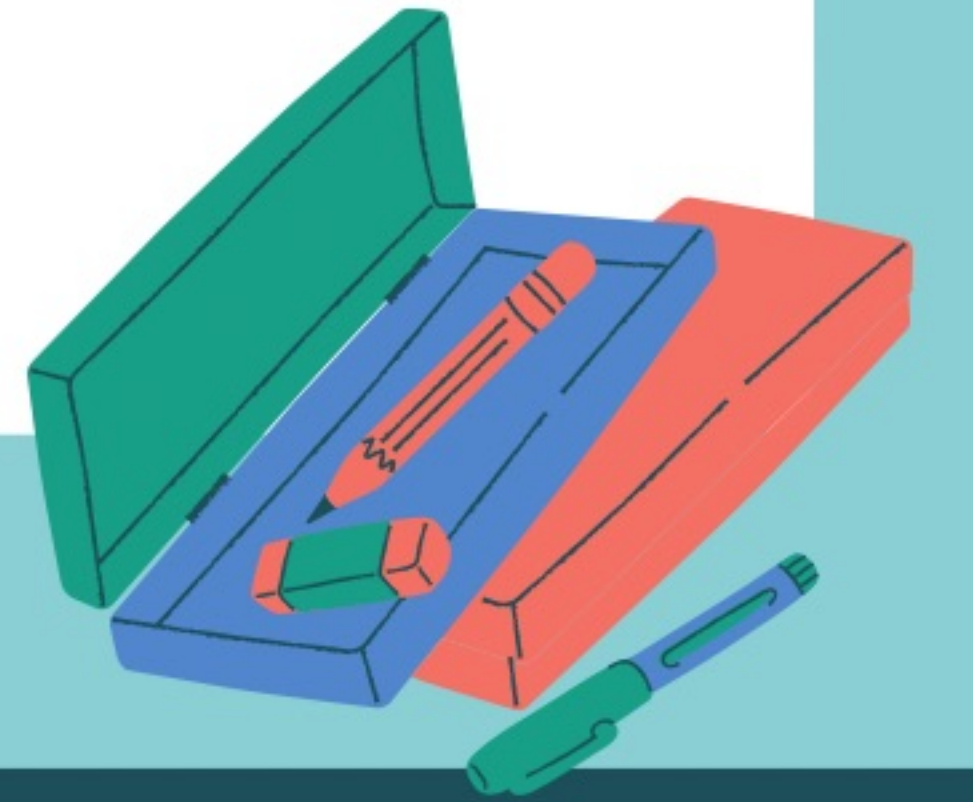


المهمة الادائية لفصل القياس للصف السادس

الأستاذة / مريم البقايي



Maryam Albuqayli
مريم البقايي






مقدمة

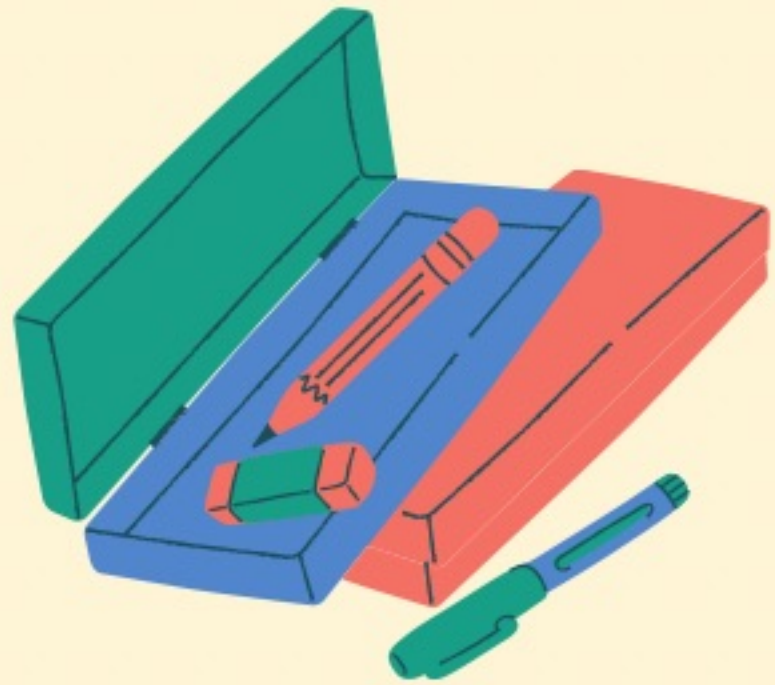



طالبتي المبدعة :

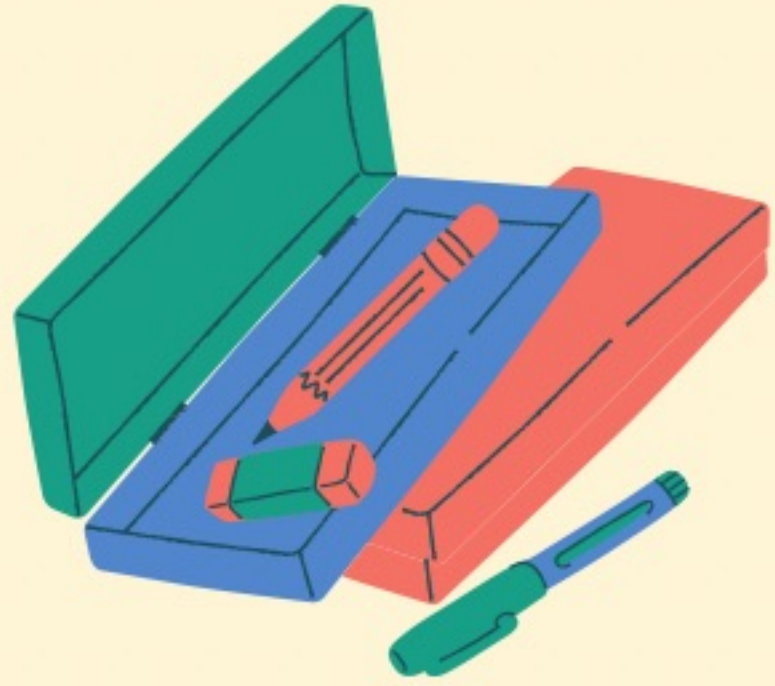
درست في منهج الرياضيات في الفصل الخامس عن النظام المتري وتعرفت مع معلمتك على وحدات الطول والكتلة والسعة في النظام المتري ، من خلال دراستك أنجزى ما هو مطلوب منك بدقة وترتيب وإبداع .



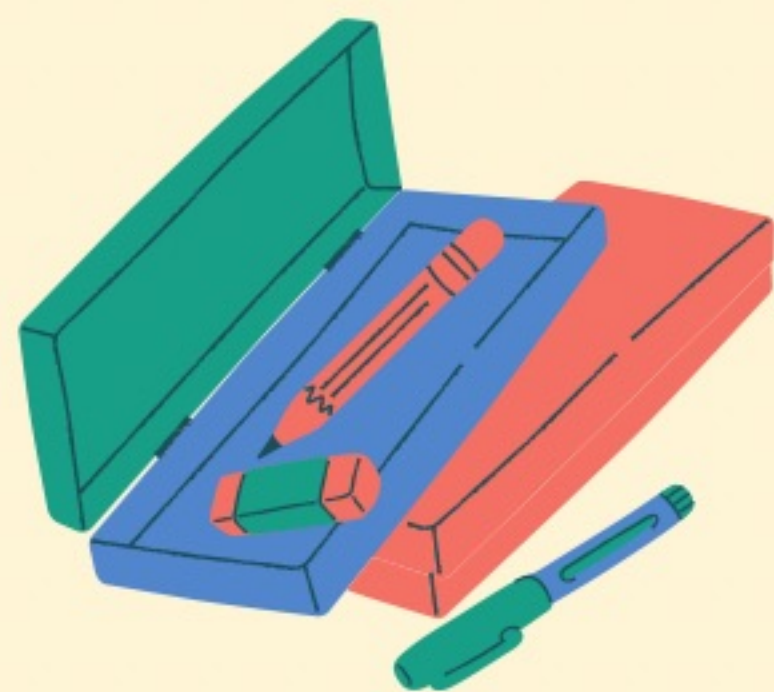

٨١ / حدي قياس طولك بامتر، ثم اكتب طولك في صورة كسر عشري



٢ / قدر قياس طول حجرة المعيشة بمنزلك،
بالمتر، ثم اكتب الطول بالسنتيمتر.

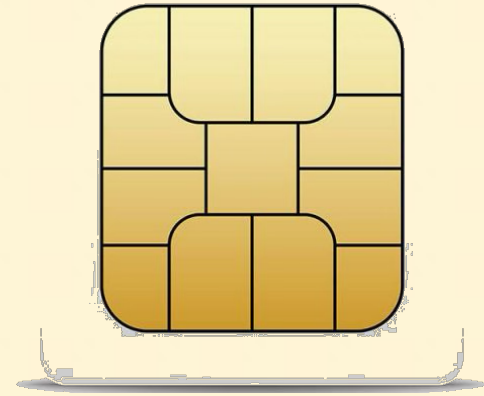


٣ / احسب كتلة جسمك باستخدام الميزان ، وحدد الوحدة المناسبة لحساب الكتلة .



٤ / ما الوحدة المترية المناسبة لقياس الطول ، الكتلة ، السعة ،
لكل مما يأتي ، ثم قدر قياسك لكل منها .

✿ عرض شريحة الهاتف الجوال .



✿ طول بطاقة الهوية الوطنية .



✿ كمية الحبر في القلم .

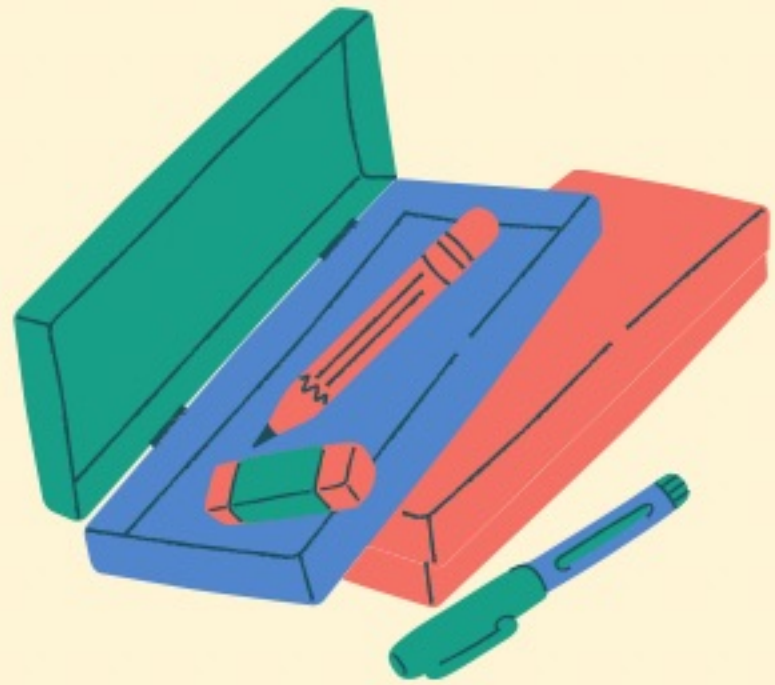


✿ حبة الفاصولياء .


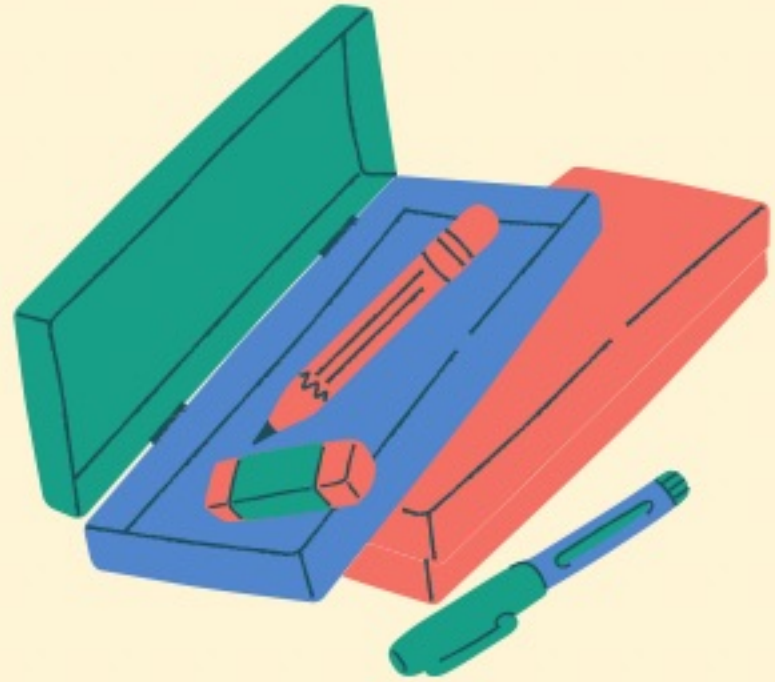


٥ / رتب الأظواهر الآتية من الأكبر إلى الأصغر.

١, ٤, ١٠, ١٠٠, ١٠٠٠, ١٠٠٠٠, ١٠٠٠٠٠, ١٠٠٠٠٠٠, ١٠٠٠٠٠٠٠, ١٠٠٠٠٠٠٠٠



٦ / حدد شيئاً في المنزل سعته واحد لتر تقريباً .





بنور المهمة

مدة
تنفيذ المهمة
١٠ أيام

الدرجة	البند
٢	الالتزام بزمن المهمة
٢	استخدام برامج الكترونية والترتيب
٢	تنفيذ البند رقم ١
٢	تنفيذ البند رقم ٢
٢	تنفيذ البند رقم ٣
٥	تنفيذ البند رقم ٤
٢	تنفيذ البند رقم ٥
٢	تنفيذ البند رقم ٦
٢٠	المجموع

