
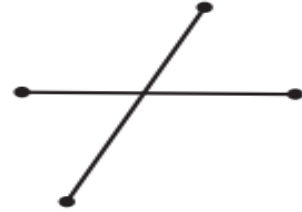



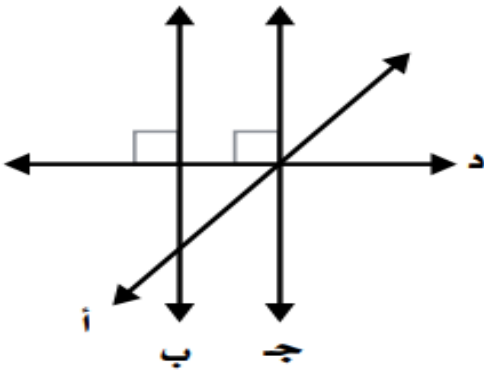
صِفْ كُلَّ شَكْلٍ مِمَّا يَأْتِي بِإِحْدَى الْمُفْرَدَاتِ التَّالِيَةِ: (نقطة، مستقيم، نصف مستقيم، قطعة مستقيمة).



قيس طول القطع المستقيمة ثم بين هل القطعتين المستقيمتين متطابقتين أم لا :



استعمل الشكل المجاور بين ما إذا كان المستقيمان متوازيين أو متعامدين أم لا :



- المستقيمان ب، جـ
- المستقيمان أ، د
- المستقيمان ج، د