
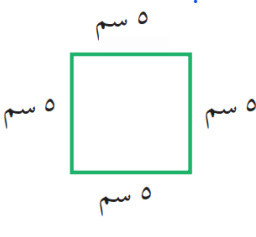

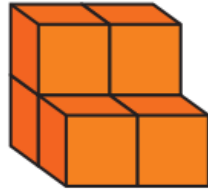





اختبار رياضيات منتصف الفصل الدراسي الثالث للعام الدراسي ١٤٤٤هـ

٨

السؤال الأول / اختر الإجابة الصحيحة فيما يلي :

	٢ سمك خَيْطِ الصُّوفِ :	أ- ١ ملم <input type="checkbox"/>	٤		١ محيط المربع التالي =	أ- <input type="checkbox"/> ٢٠
		ب- ١ سم <input type="checkbox"/>				ب- <input type="checkbox"/> ٢٥
		ج- ١ م <input type="checkbox"/>				ج- <input type="checkbox"/> ٣٠
		د- ١ كلم <input type="checkbox"/>				د- <input type="checkbox"/> ٣٥
	٤ مساحة الشكل التالي =	أ- <input type="checkbox"/> ٨ وحدة مربعة	٣		٣ حجم الجسم التالي =	أ- <input type="checkbox"/> ٥ وحدات مكعبة
		ب- <input type="checkbox"/> ٩ وحدات مربعة				ب- <input type="checkbox"/> ٦ وحدات مكعبة
		ج- <input type="checkbox"/> ١٠ وحدات مربعة				ج- <input type="checkbox"/> ٧ وحدات مكعبة
		د- <input type="checkbox"/> ١١ وحدة مربعة				د- <input type="checkbox"/> ٨ وحدات مكعبة
	٦ التقدير الأنسب لكتلة الدب :	أ- <input type="checkbox"/> ٤٠٠ كجم	٥		التقدير الأنسب لسعة الحوض	أ- <input type="checkbox"/> ٣٠ لتر
		ب- <input type="checkbox"/> ٤٠٠ جم				ب- <input type="checkbox"/> ٣٠ مل
$\frac{1}{2}$	٨ الكسر المكافئ للكسر $\frac{1}{2}$	أ- <input type="checkbox"/> $\frac{1}{2}$	٧		الكسر الذي يمثل الجزء الملون	أ- <input type="checkbox"/> $\frac{8}{3}$
		ب- <input type="checkbox"/> $\frac{2}{10}$				ب- <input type="checkbox"/> $\frac{3}{8}$
		ج- <input type="checkbox"/> $\frac{5}{7}$				ج- <input type="checkbox"/> $\frac{5}{9}$

١

السؤال الثاني / استعمل التبرير المنطقي لحل المسألة التالية :

أنس وعلي وسليمان ثلاثة طلاب ، أحدهم في الصف الرابع والثاني في الصف الخامس والثالث في الصف السادس ، إذا علمت أن علي ليس في الصف الرابع وأن اسم الذي في الصف السادس يتكون من أكبر عدد من الأحرف فما صف كل واحد منهم ؟

رابع :

خامس :

سادس :

١

السؤال الثالث / أوجد طول الفترة الزمنية للنشاط التالي :



ذهب هاشم إلى المسجد في الوقت الذي تشير إليه الساعة المجاورة وعاد في تمام

الساعة ٢:٢٠ .

.....

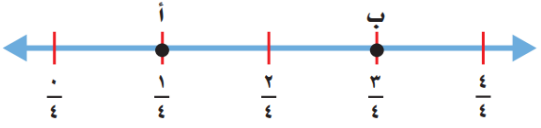
السؤال الرابع / أجب عما يلي :

على رف ١٦ كتابًا إذا كان ربعها كتب تفسير واثنان عن المغامرات والباقي كتب علمية فما عدد الكتب العلمية ؟

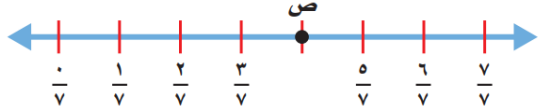
.....

السؤال الخامس / أجب عما يلي:

٢



أ/ ما النقطة التي تمثل الكسر $\frac{1}{4}$ على خط الأعداد ؟ (.....)



ب/ ما الكسر الذي يمثل النقطة ص على خط الأعداد ؟ (.....)

١

السؤال السادس / قارن بين الكسور مستعملًا (<، >، =) :

ب/ $\frac{1}{2} \bullet \frac{3}{4}$

أ/ $\frac{1}{8} \bullet \frac{5}{8}$

١

$\frac{3}{3}$ ، $\frac{1}{3}$ ، $\frac{4}{6}$

السؤال السابع / رتب الكسور التالية من الأصغر إلى الأكبر :

.....

٢

السؤال الثامن / أوجد ناتج الجمع و الطرح للعمليات التالية :

ب/ $\frac{6}{7} - \frac{4}{7} =$

أ/ $\frac{2}{8} + \frac{5}{8} =$

٢

السؤال التاسع / اكتب كل كسر غير فعلي على شكل عدد كسري والعكس :

ب/ $\frac{28}{10}$

أ/ $1\frac{2}{5}$

١

السؤال العاشر/ أجب عما يلي:

اشترت ندى قمصانًا من القياسات التالية :

صغير ومتوسط وكبير ، إذا كانت التكلفة الكلية ٦٨ ريالاً ، فكم قميصًا اشترت

من كل قياس ؟

.....
.....

