



تم تحميل وعرض المادة من



Google



موقع حصتي هو موقع تعليمي يعمل على تسهيل العملية التعليمية بطريقة بسيطة وسهلة وتوفير كل ما يحتاجه المعلم والطالب لكافة الصفوف الدراسية كما يحتوي الموقع على حلول جميع المواد مع الشروح المتنوعة للمعلمين.



اختبار الفترة لمادة العلوم للصف الرابع ابتدائي الفصل الدراسي الأول

اسم الطالبة:

اخترني الإجابة الصحيحة:



موقع حصتي

١- اصغروحدة في المخلوق الحي:

أ	الجهاز الحيوي	ب	العضو	ج	النسيج	د	الخلية
---	---------------	---	-------	---	--------	---	--------





٢- المجموعة الكبرى التي تصنف فيها المخلوقات الحية:

أ	المملكة	ب	الشعبة	ج	الطائفة	د	الرتبة
---	---------	---	--------	---	---------	---	--------

٣- حيوانات ليس لها عمود فقري تسمى:

أ	فقاريات	ب	لافقاريات	ج	ثدييات	د	طلائعيات
---	---------	---	-----------	---	--------	---	----------

٤- أي الحيوانات التالية من اللافقاريات:

أ		ب		ج		د	
---	---	---	--	---	---	---	---

٥- أي الممالك التالية يصنع جميع افرادها غذاءها بنفسها:

أ	الفطريات	ب	الطلائعيات	ج	النباتات	د	البكتيريا
---	----------	---	------------	---	----------	---	-----------

ضعي علامة ✓ او ✗ امام العبارات التالية:



١- البرمائيات درجة حرارة اجسامها ثابتة.	<input type="radio"/>
٢- الحشرات لها هيكل خارجي صلب يحمي اجسامها.	<input type="radio"/>
٣- المفصليات اكبر مجموعة في اللافقاريات.	<input type="radio"/>
٤- اللاسعات لها لوامس تشبه الاذرع تنتهي بخلايا لاسعة.	<input type="radio"/>
٥- الثدييات درجة حرارة اجسامها متغيرة.	<input type="radio"/>

ضعي الكلمات التالية في اماكنها المناسبة:



الميتوكوندريا

الفجوات

النسيج

العضو

الوراثة

مجموعة من الخلايا المتماثلة.	١
تخزن الماء والغذاء والفضلات.	٢
انتقال الصفات الوراثية من الاباء الى الأبناء.	٣
مجموعة من الانسجة تقوم بوظيفة معينة.	٤
مصدر الطاقة للخلية.	٥

قارنى بين الخلية الحيوانية والنباتية :



		
خلية نباتية	خلية حيوانية	
		جدار الخلية
		عشاء الخلية
		البلاستيدات
		النواة
		الفجوة العصارية
		الميتوكوندريا

انتهت الاسئلة