

# 1000

**نشاط لزيادة التركيز والذكاء**

**ولاء عبدالصبور**

**مكتبة الأنجلو المصرية**

## فهرس الأنشطة

- ١ النشاط الأول: سر بالقلم على النقاط
- ٩ النشاط الثاني: سر بالقلم داخل النقاط
- ١٧ النشاط الثالث: صل الأشكال المتشابهة
- ٢٣ النشاط الرابع: عد الأشكال المتشابهة
- ٣١ النشاط الخامس: أكمل الأشكال بنفس التسلسل
- ٣٧ النشاط السادس: عد وصل بالرقم المناسب
- ٤٣ النشاط السابع: قم بإعادة رسم الأشكال الموجودة أمامك
- ٤٩ النشاط الثامن: باستخدام النقاط أنقل الأشكال المرسومة أمامك كما فى المثال
- ٥٥ النشاط التاسع: باستخدام المربعات أنقل الشكل المرسوم أمامك فى المربع  
الفرغ
- ٦٣ النشاط العاشر: رتب الأشكال الموجودة أمامك ترتيباً تصاعدياً
- ٦٩ النشاط الحادى عشر: المناهة
- ٧٥ النشاط الثانى عشر: ضع الرمز فى المكان المناسب
- ٧٩ النشاط الثالث عشر: ضع نقطة فى المكان المطلوب
- ٨٥ النشاط الرابع عشر: تلوين الصور
- ٩٢ النشاط الخامس عشر: لون المربعات حسب الرقم المطلوب
- ٩٧ النشاط السادس عشر: أنظر إلى الشكل الموجود جهة اليمين مرة واحدة ثم  
أذهب إلى الشكل جهة اليسار و علم على أماكن المربعات المظلمة
- ١٠٢ النشاط السابع عشر: اختر الشكل المناسب
- ١١٢ النشاط الثامن عشر: احفظ ما بداخل كل مربع ثم اغض عينك وانكره
- ١١٦ النشاط التاسع عشر: العد

- ١١٩ النشاط العشرون: سر على الحروف بالترتيب حتى يكتمل الشكل
- ١٢٥ النشاط الواحد والعشرون: ضع علامة على الشكل المشابه كما في المثال
- ١٢٨ النشاط الثاني والعشرون: أكمل كما في المثال
- ١٣١ النشاط الثالث والعشرون: صل الجزء بالكل كما في المثال
- ١٣٩ النشاط الرابع والعشرون: أقرأ اللون وليس الكلمة
- ١٤٠ النشاط الخامس والعشرون: أكمل كما في المثال
- ١٤٤ النشاط السادس والعشرون: أنقل الدوائر المظللة الموجودة جهة اليمين لجهة اليسار كما في المثال
- ١٤٨ النشاط السابع والعشرون: أكمل كما في المثال
- ١٥١ النشاط الثامن والعشرون: ما هي الأشكال الموجودة أمامك وما عددها
- ١٥٧ النشاط التاسع والعشرون: قم بحصر الأشكال الموجودة أمامك كما في المثال
- ١٦٢ النشاط الثلاثون: ضع علامة على الصورة المشابهة كما في المثال
- ١٦٩ النشاط الواحد والثلاثون: لون كل جزء باللون المطلوب
- ١٧٢ النشاط الثاني والثلاثون: ضع علامة على الشكل المختلف
- ١٧٥ النشاط الثالث والثلاثون: أكمل الجزء الناقص
- ١٧٨ النشاط الرابع والثلاثون: أحضر رقمين بشكل رأسي أو أفقي حاصل جمعهما يساوي الرقم الموجود في المنتصف
- ١٨١ النشاط الخامس والثلاثون: أكمل كما في المثال
- ١٨٥ النشاط السادس والثلاثون: أحسب الناتج الصحيح
- ١٨٩ النشاط السابع والثلاثون: أكمل كما في المثال
- ١٩٣ النشاط الثامن والثلاثون: أكمل المستطيل الفارغ حسب التسلسل

- النشاط التاسع والثلاثون: لون الأشكال والأرقام والحروف الموجودة طبقاً  
للون المطلوب ١٩٦
- النشاط الأربعون: أكمل الأشكال بنفس التسلسل كما في المثال ١٩٩
- النشاط الواحد والأربعون: أكمل كما في المثال ٢٠٢
- النشاط الثاني والأربعون: صل الصورة بالظل ٢٠٦
- النشاط الثالث والأربعون: رتب الأرقام الموجودة أمامك تصاعدياً ٢١٥
- النشاط الرابع والأربعون: إذا كلن المربع = ٥ والمثلث = ٣ والدائرة = ٤  
والمعين = ٦ والنجمة = ٧ (رتب تصاعدياً) ٢١٩
- النشاط الخامس والأربعون: العلاقات ٢٢٣
- النشاط السادس والأربعون: الفرق بين صورتين ٢٣٠
- النشاط السابع والأربعون: الساعة - أكمل كما في المثال ٢٣٧
- النشاط الثامن والأربعون: اختر الشكل المناسب ٢٣٩
- النشاط التاسع والأربعون: دع الطفل ينظر إلى هذه القائمة ثم أغلق الكتاب  
واسنله ٢٤٢
- النشاط الخمسون: أنظر إلى الأرقام والحروف في المستطيل الأول لمدة  
ثانية واحدة ثم ضع يدك عليه وأنظر إلى المستطيل الثاني وأذكر الأرقام والحروف  
الزائدة ٢٤٩
- النشاط الواحد والخمسون: أي مربع سينتج إذا قمت بضم المربعين التاليين ٢٥٤
- النشاط الثاني والخمسون: الأشكال الآتية متطابقة تماماً ولكنها معروضة من  
زاوية مختلفة - اضغط على الشكل المختلف ٢٥٧
- النشاط الثالث والخمسون: أجب على ما هو مطلوب منك ٢٦٠
- النشاط الرابع والخمسون: اختر الشكل المناسب الذي يكمل الشكل الذي أمامك ٢٦٦



- ٢٧١ النشاط الخامس الخمسون: اختر الرقم المناسب
- ٢٧٦ النشاط السادس الخمسون: صل نصف الصورة بنصفها الآخر
- ٢٨٢ النشاط السابع الخمسون: إملأ المربعات الفارغة
- ٢٨٥ النشاط الثامن الخمسون: اختر الشكل المناسب
- ٢٨٨ النشاط التاسع الخمسون: أبحث عن الطريق الصحيح
- ٢٩٧ النشاط الستون: اختر الإجابة الصحيحة
- ٣٠٢ النشاط الواحد والستون: اختر الشكل المطابق للشكل الموجود على اليسار
- ٣٠٧ النشاط الثاني والستون: ابتداءً من النقطة السمراء كون شكلاً باستخدام الأرقام والأسم
- ٣١٧ النشاط الثالث والستون: هل الأزواج التي أمامك متعائلة
- ٣٢٠ النشاط الرابع والستون: أى بالونة توجد بالصندوق ؟
- ٣٢٣ النشاط الخامس والستون: أفل ما هو مطلوب منك
- ٣٢٦ النشاط السادس والستون: أقرأ الرقم والحرف الذى كتب صحيحاً فقط
- ٣٣١ النشاط السابع والستون: املئ الفراغات بحيث لا يتكرر الشكل أكثر من مرة أفقياً أو رأسياً
- ٢٣٤ النشاط الثامن والستون: كم مثلث فى الشكل الذى أمامك ؟
- ٣٣٩ النشاط التاسع والستون: أوجد الشكلان المتشابهين
- ٣٤٢ النشاط السبعون: اكتب الأرقام ما بين ١ : ١٠٠ فى مكانها المناسب كما فى المثال
- ٣٤٥ النشاط الواحد والسبعون: ضع القطع الهندسية فى أماكنها المناسبة فى كل شكل
- ٣٥٣ النشاط الثانى والسبعون: اختر شكل النقاط التى تكون الشكل الذى أمامك
- ٣٥٨ النشاط الثالث والسبعون: اختر الشكل الذى يتكون من نفس عدد الخطوط المجاورة
- ٣٦١ النشاط الرابع والسبعون: احسب عدد كل شكل من الأشكال الموجودة أمامك

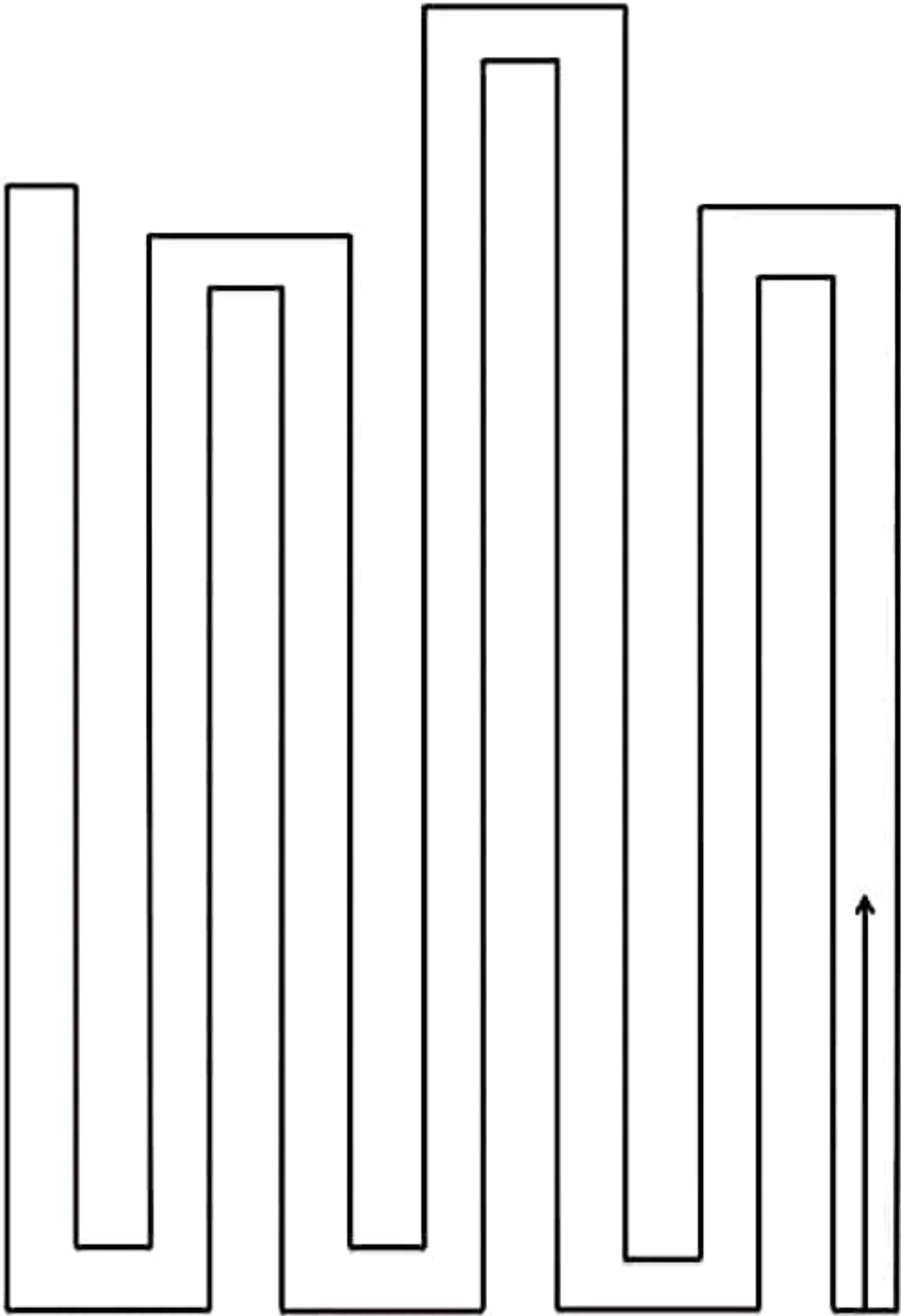
- ٢٧١ النشاط الخامس الخمسون: اختر الرقم المناسب
- ٢٧٦ النشاط السادس الخمسون: صل نصف الصورة بنصفها الآخر
- ٢٨٢ النشاط السابع الخمسون: إملأ المربعات الفارغة
- ٢٨٥ النشاط الثامن الخمسون: اختر الشكل المناسب
- ٢٨٨ النشاط التاسع الخمسون: أبحث عن الطريق الصحيح
- ٢٩٧ النشاط الستون: اختر الإجابة الصحيحة
- ٣٠٢ النشاط الواحد والستون: اختر الشكل المطابق للشكل الموجود على اليسار
- ٣٠٧ النشاط الثاني والستون: ابتداءً من النقطة السمراء كون شكلاً باستخدام الأرقام والأسم
- ٣١٧ النشاط الثالث والستون: هل الأزواج التي أمامك متعائلة
- ٣٢٠ النشاط الرابع والستون: أى بالونة توجد بالصندوق ؟
- ٣٢٣ النشاط الخامس والستون: أفل ما هو مطلوب منك
- ٣٢٦ النشاط السادس والستون: أقرأ الرقم والحرف الذى كتب صحيحاً فقط
- ٣٣١ النشاط السابع والستون: املئ الفراغات بحيث لا يتكرر الشكل أكثر من مرة أفقياً أو رأسياً
- ٢٣٤ النشاط الثامن والستون: كم مثلث فى الشكل الذى أمامك ؟
- ٣٣٩ النشاط التاسع والستون: أوجد الشكلان المتشابهين
- ٣٤٢ النشاط السبعون: اكتب الأرقام ما بين ١ : ١٠٠ فى مكانها المناسب كما فى المثال
- ٣٤٥ النشاط الواحد والسبعون: ضع القطع الهندسية فى أماكنها المناسبة فى كل شكل
- ٣٥٣ النشاط الثاني والسبعون: اختر شكل النقاط التى تكون الشكل الذى أمامك
- ٣٥٨ النشاط الثالث والسبعون: اختر الشكل الذى يتكون من نفس عدد الخطوط المجاورة
- ٣٦١ النشاط الرابع والسبعون: احسب عدد كل شكل من الأشكال الموجودة أمامك

- النشاط الخامس والسبعون: أى الصور التالية ستملأ الفراغ فى حالة ٣٦٥  
إذا تم إغلاق الدفتر
- النشاط السادس والسبعون: يتم نطق مجموعة من الأرقام والكلمات والجمل ٣٦٨  
أمام الطفل ثم يطلب منه إعادة نطقها
- النشاط السابع والسبعون: يطلب من الطفل عد مجموعة من الأرقام أو ٣٧١  
أيام الأسبوع أو شهور السنة تصاعدياً وتنازلياً
- النشاط الثامن والسبعون: أفعال ما هو مطلوب ٣٧٢
- النشاط التاسع والسبعون: يتم نطق بعض الكلمات أمام الطفل ثم يطلب منه ٣٧٣  
إحضار كلمات تبدأ بأخر حرف للكلمات التى تم نطقها كما فى المثال
- النشاط الثمانون: يستمع الطفل لبعض الأرقام والحروف ثم يطلب منه ذكر ٣٧٤  
الرقم أو الحرف الذى يسبقه والذى يليه
- النشاط الواحد والثمانون: يستمع الطفل لأزواج من الكلمات وعليه أن يقول ٣٧٦  
نعم إذا كانت الكلمتان متطابقتان ولا إذا كانت مختلفتان
- النشاط الثانى والثمانون: التداعى اللفظى ٣٧٧
- النشاط الثالث والثمانون: السخافات اللفظية ٣٨٠
- النشاط الرابع والثمانون: قراءة الأرقام والحروف والكلمات الموجودة ٣٨٣  
داخل الجدول أمام الطفل ثم يطلب منه ذكر آخر رقم أو حرف أو كلمة بكل صف  
بالترتيب كما فى المثال
- النشاط الخامس والثمانون: أفعال ما يطلب منك ٣٨٦
- النشاط السادس والثمانون: يتم نطق مجموعة من الكلمات أو الجمل الناقصة ٣٨٩  
أمام الطفل ثم يطلب منه تكملتها
- النشاط السابع والثمانون: يستمع الطفل لمجموعة من الكلمات ثم يطلب ٣٩١  
منه أن يقول عكسها
- النشاط الثامن والثمانون: يحكى للطفل قصة قصيرة ثم بعد ٥ دقائق يطلب ٣٩٤  
منه إعادة قولها
- النشاط التاسع والثمانون: أفعال ما يطلب منك ٣٩٦








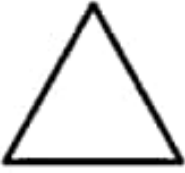




٣٩٧	النشاط التسعون: أسئلة أين ومتى
٣٩٨	النشاط الواحد والتسعون: أكمل التسلسل الرقمي
٤٠١	النشاط الثاني والتسعون: أكمل كما فى المثال
٤٠٨	النشاط الثالث والتسعون: أكمل كما فى المثال
٤١٠	النشاط الرابع والتسعون: فكر ثم أجب
٤١٢	النشاط الخامس والتسعون: أيهما أكبر
٤١٣	النشاط السادس والتسعون: فكر ثم أجب
٤١٦	النشاط السابع والتسعون: أجب على الأسئلة
٤١٧	النشاط الثامن والتسعون: أجب على الأسئلة
٤١٩	النشاط التاسع والتسعون: أجب على الأسئلة
٤٢١	النشاط المائة: أجب على الأسئلة











































النشاط الثاني: سر بالقلم داخل الخطوط



النشاط الثالث: صل الأشكال المتشابهة





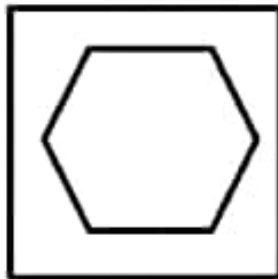



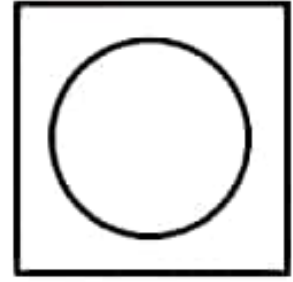

	
	
	
	
	
	

النشاط الرابع: عد الأشكال المتشابهة

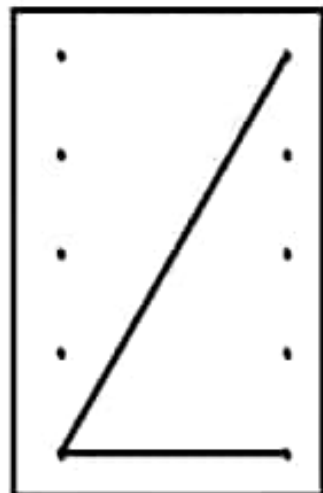
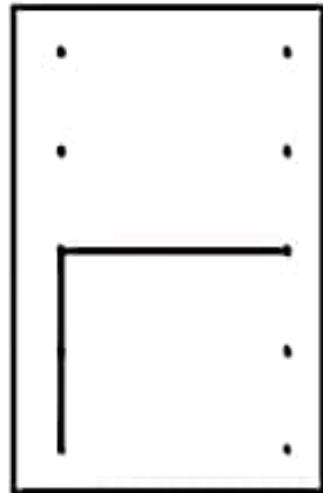

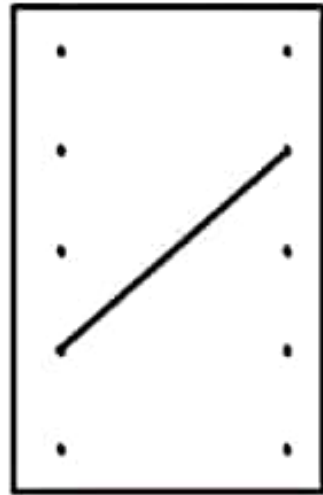
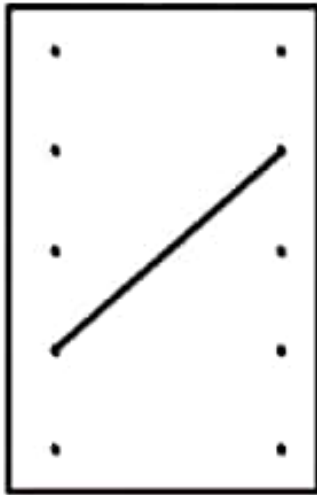


النشاط السابع: قم بإعادة رسم الأشكال الموجودة أمامك

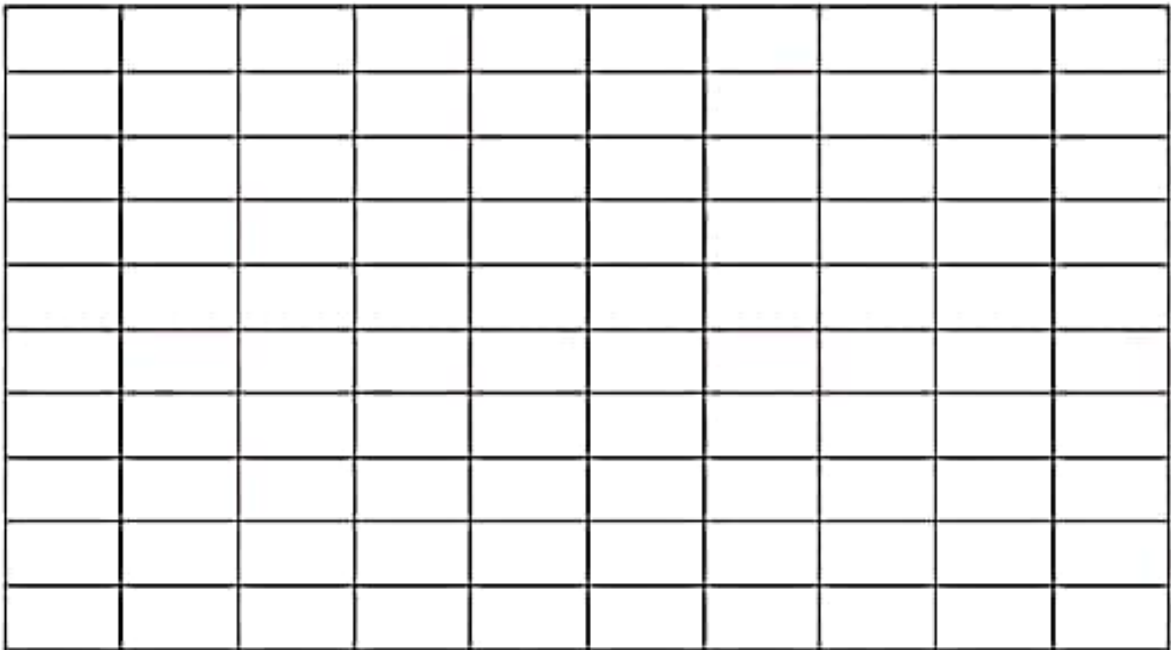
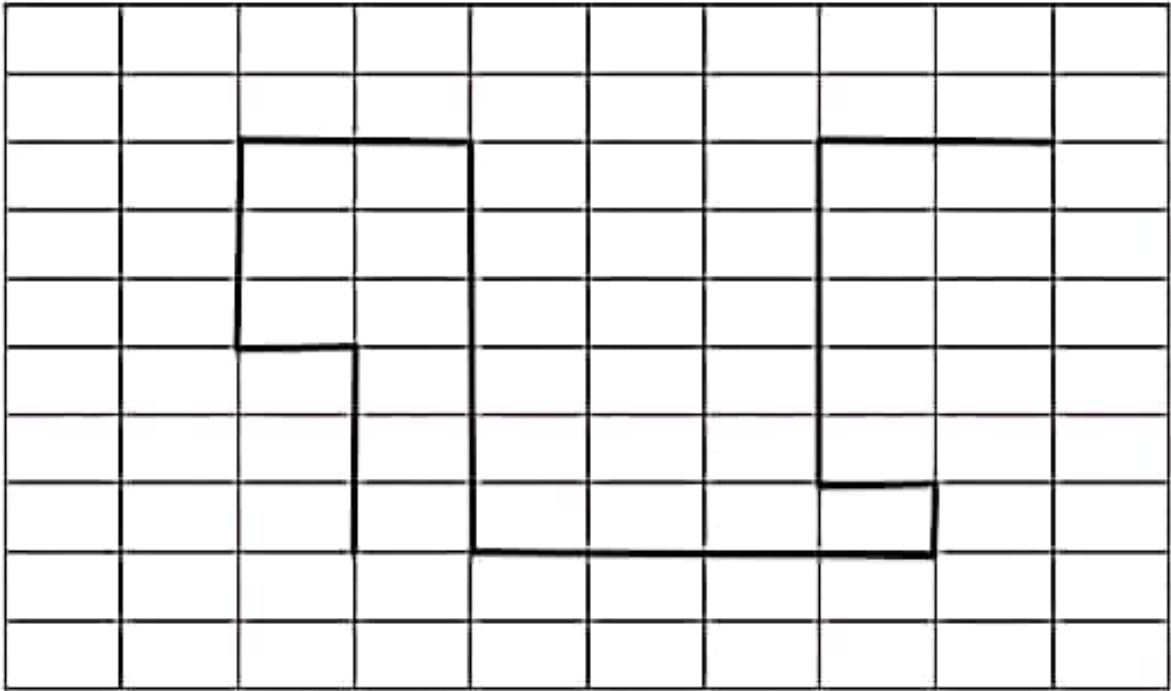



















النشاط الثامن: باستخدام النقاط أنقل الأشكال المرسومة أمامك كما في المثال



النشاط التاسع: باستخدام المربعات أنقل الشكل المرسوم أمامك في  
المربع الفارغ



النشاط العاشر: رتب الأشكال الموجودة أمامك ترتيباً تصاعدياً

النشاط الخامس عشر: لون المربعات حسب الرقم المطلوب




















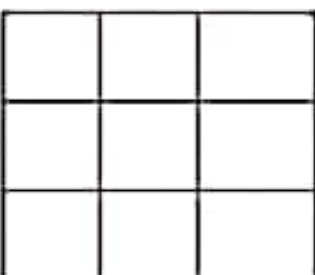

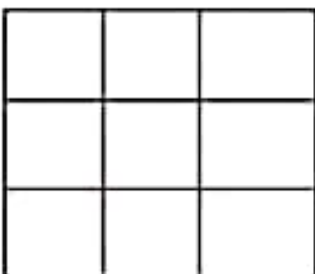

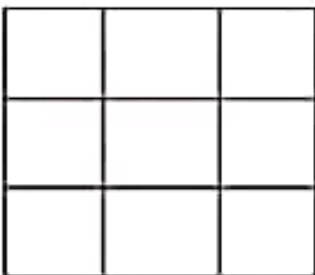

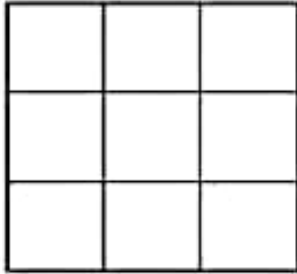






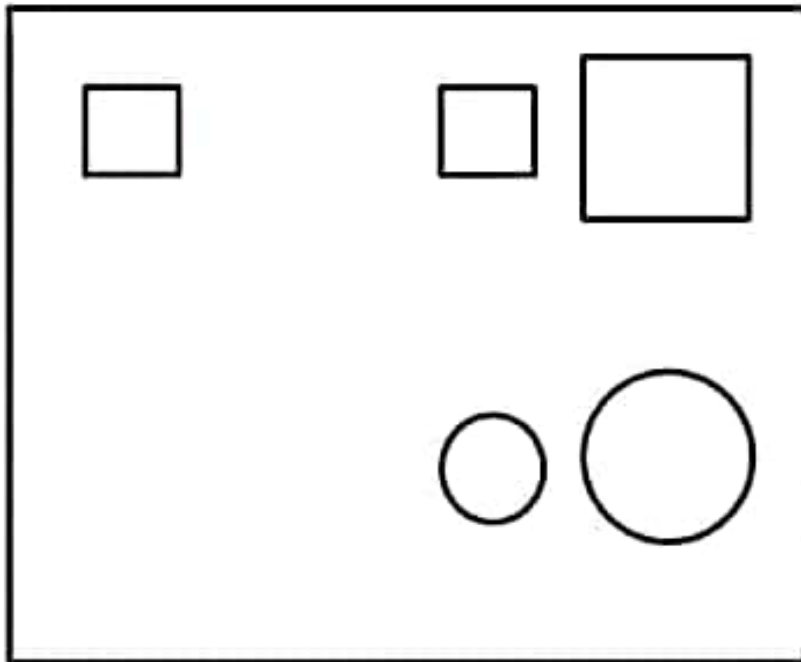
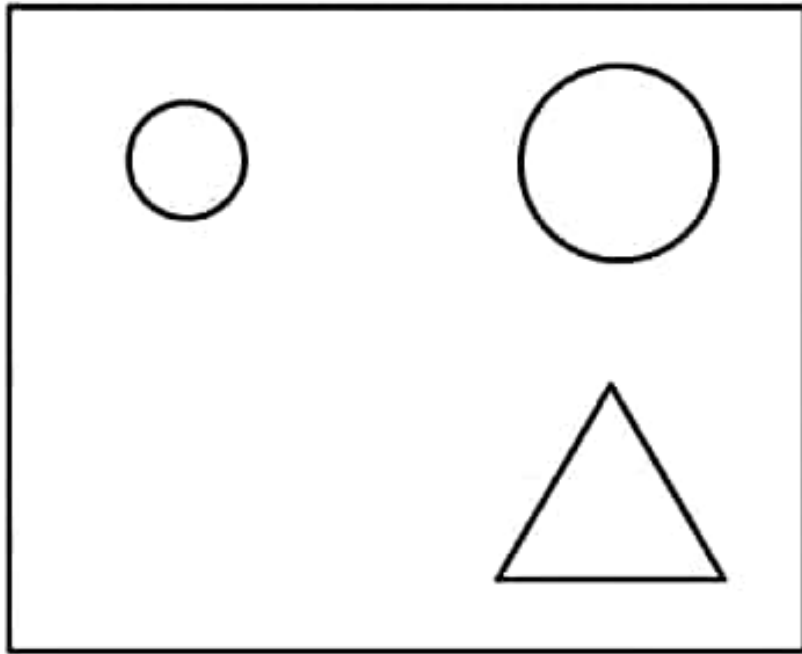



النشاط السادس عشر: أنظر إلى الشكل الموجود جهة اليمين مرة واحدة ثم أذهب إلى الشكل جهة اليسار و علم على أماكن المربعات المظلمة





النشاط السابع عشر: اختر الشكل المناسب



النشاط الواحد والعشرون: ضع علامة على الشكل المشابه كما في المثال

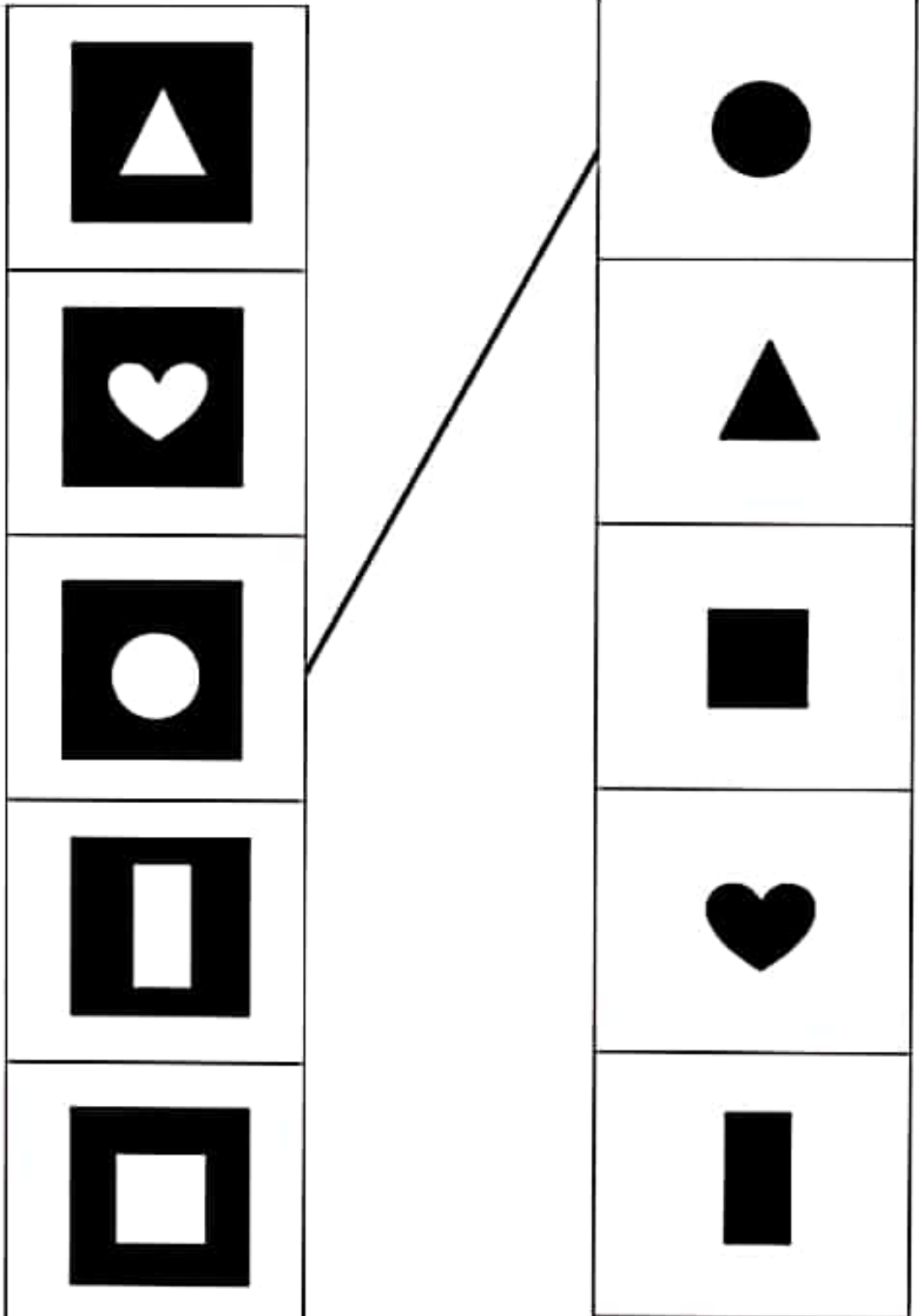


▽	△	▽	▽	△	▽	△	△	▽	<del>△</del>
△	▽	△	△	▽	△	△	▽	△	▽
△	△	▽	▽	△	△	▽	△	△	▽
▽	▽	△	△	▽	▽	△	▽	△	△
△	▽	△	▽	△	△	△	▽	△	▽
▽	△	▽	△	△	△	▽	△	▽	△
△	▽	△	△	▽	△	△	▽	△	▽
△	△	△	▽	△	▽	△	△	▽	△




+	×	×	+	×	+	+	×	×	+
×	+	+	×	+	+	×	+	×	×
+	+	×	+	×	+	+	×	+	+
+	×	+	×	+	×	+	+	×	+
×	+	×	+	+	×	×	+	+	×
+	×	+	+	×	+	+	×	×	+
+	+	×	×	+	+	×	+	+	×
×	×	+	×	+	×	+	×	+	+


النشاط الثالث والعشرون: صل الجزء بالكل كما في المثال



النشاط التاسع والعشرون: قم بحصر الأشكال الموجودة أمامك كما في المثال



النشاط الثاني والثلاثون: ضع علامة على الشكل المختلف





النشاط الرابع والثلاثون: احضر رقمين بشكل رأسي او أفقي حاصل جمعهما يساوي الرقم الموجود في المنتصف

٣	٥	٤	١	٢	٦	٣	٤	٢	٥
١	٨	٧	٥	٨	٩	٨	١	٩	٨
٥	٢	٣	٩	٤	٧	٣	٥	٧	٣
٥	٩	٥	٧	٥	١	٩	٣	١	٦
٣	١	١	٨	١٠		٢	١	٣	٤
٤	٤	٦	٢			٩	٥	٤	٩
٨	١	٣	١	٩	٦	٢	٤	٢	٨
١	٢	٩	٤	٥	٩	٨	٤	٥	٦
٣	٥	٧	٦	٨	١	٣	٧	٦	٣
٢	٩	٤	٣	٤	٢	٨	٥	٧	٢

٧	١	٢	٧	٢	١	٤	٧	٣	١
٥	٦	٤	٦	٥	٣	٢	٨	٢	٥
٤	١	٥	٣	٤	٥	٤	٥	٦	١
٣	٢	١	٧	٨	١	٨	٧	٣	٢
١	٩	٢	٤	٧		٥	١	٤	٥
٥	٣	٦	١			٩	٤	٨	٣
٧	٨	٧	٥	٣	٩	٢	٩	٢	١
٥	٤	٢	٩	٦	٤	٣	٧	٥	٤
٢		١	٤	١	٥	٨	٦	٣	
١	٤	٣	٧	٢	٦	١	٢	٤	١

النشاط السادس والثلاثون: احسب الناتج الصحيح

$$٦ = \blacktriangle \blacktriangle \blacktriangle$$

$$٨ = \bullet \bullet$$








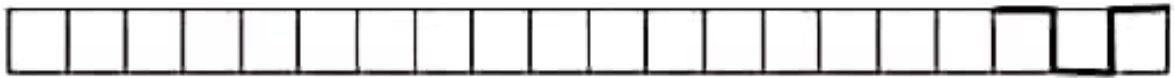



$$؟ = \blacktriangle \bullet$$

$$٤ = \star \star$$


$$٣ = \blacksquare \blacksquare \blacksquare$$

$$؟ = \blacksquare \star$$

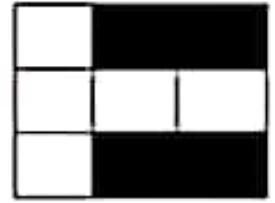
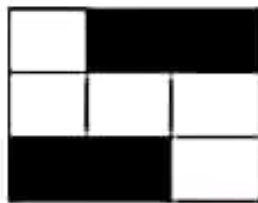







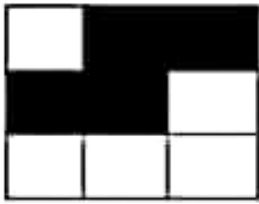

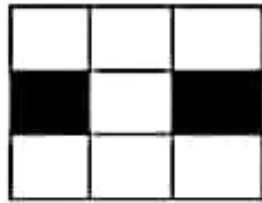
النشاط السابع والثلاثون: اكمل كما فى المثال



النشاط الثاني والأربعون: صل الصورة بالظل




النشاط الواحد والخمسون: أى مربع سينتج إذا قمت بضم المربعين  
التاليين



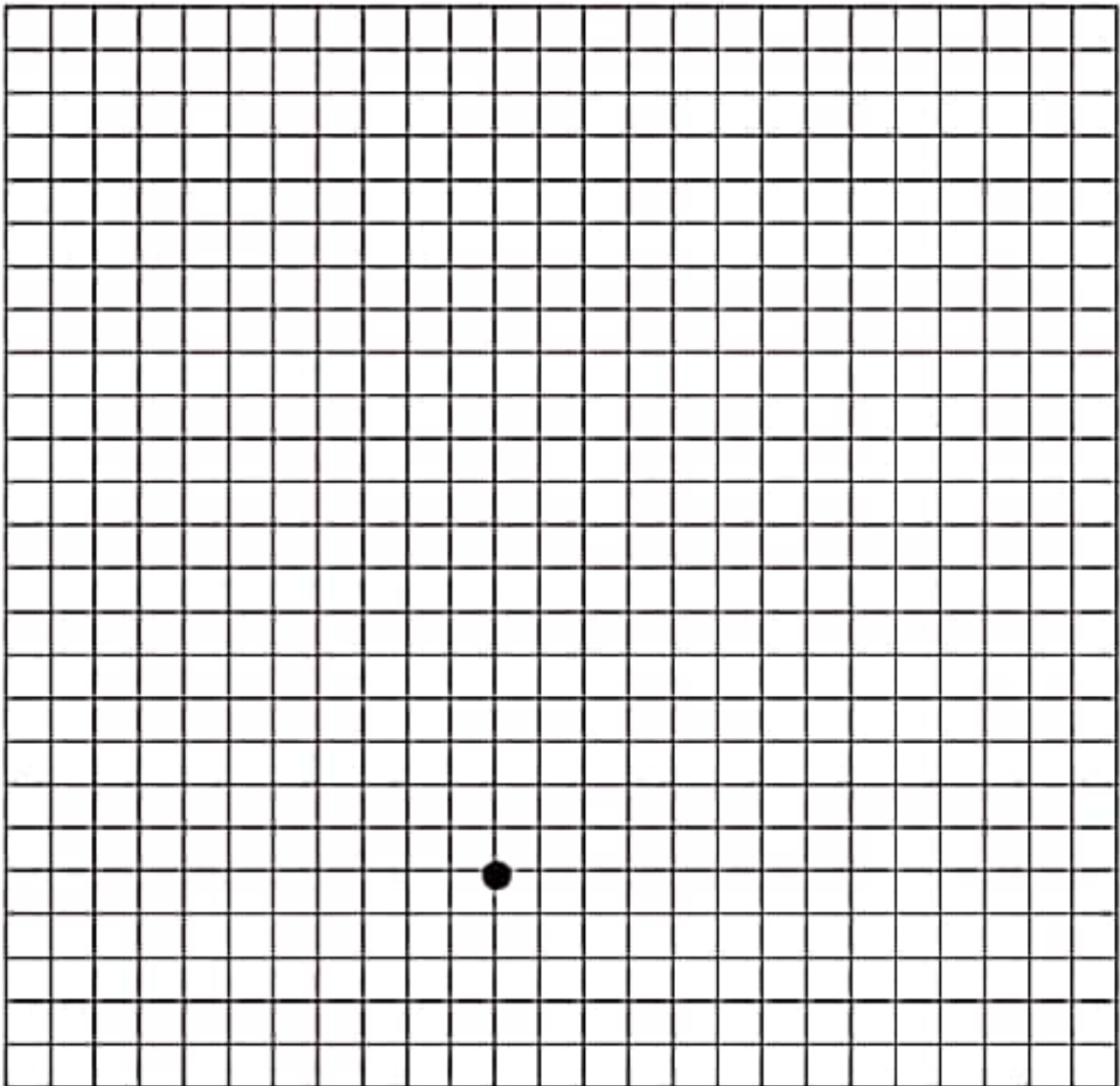
النشاط السادس والخمسون: صل نصف الصورة بنصفها الآخر



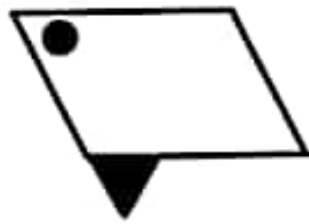


النشاط الثاني والستون: ابتداءً من النقطة الحمراء كون شكلاً باستخدام الأرقام والأسهم

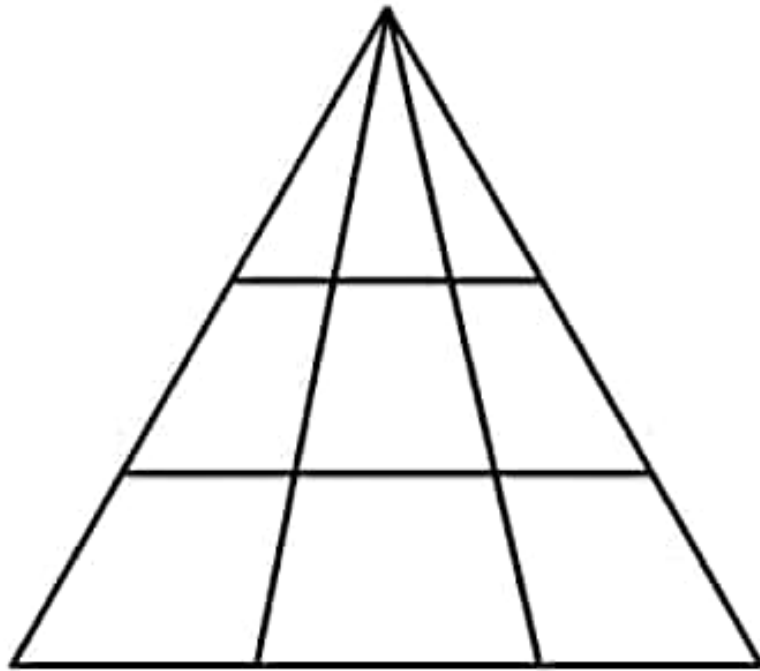
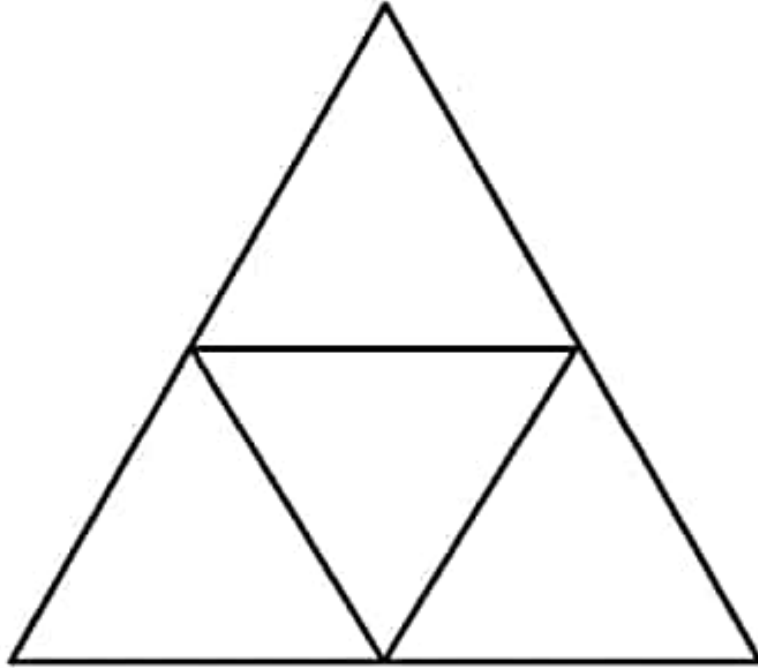
1 ↑   2 ←   1 ↑   2 ↗   7 ↑   1 ↗   1 ↘  
7 ↓   2 ↘   1 ↓   2 ←   1 ↓   2 ←



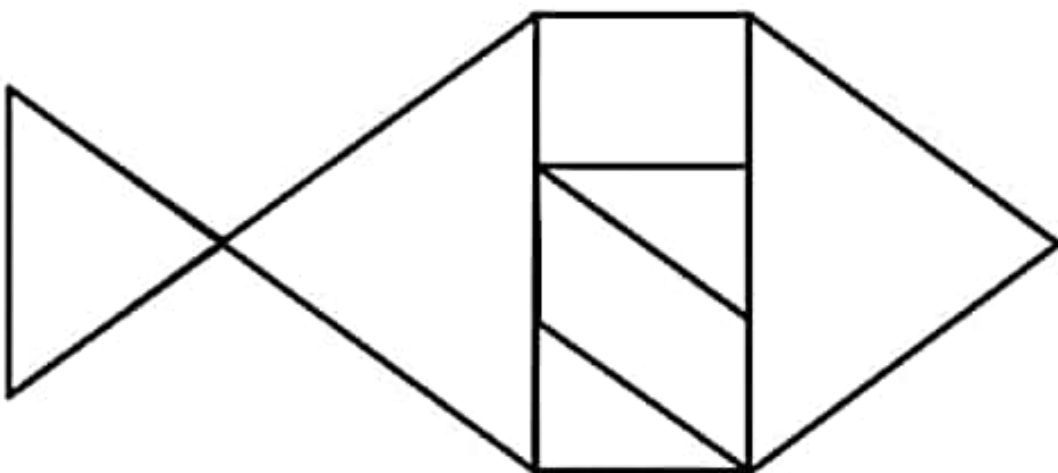





النشاط الثامن والستون: كم مثلث في الشكل الذي أمامك ؟



النشاط الواحد والسبعون: ضع القطع الهندسية في أماكنها المناسبة في كل شكل



صل الشكل بعدد الخطوط المناسبة

