



موقع اجاباتكم

Google

للمزيد اكتب
في جوجل



موقع اجاباتكم

**موقع اجاباتكم التعليمي يوفر كل ما يحتاجه الطالب
والمعلم من حلول الكتب توزيع المنهج. اختبارات
نهائية وفترية ملخصات. أوراق عمل والكثير**

بسم الله الرحمن الرحيم

المملكة العربية السعودية		الفصل الدراسي الثالث
وزارة التعليم		المادة: الدراسات الاجتماعية
إدارة تعليم		الصف: السادس الابتدائي
مدرسة		الزمن : ساعة
الدرجة كتابة:		٤٠
اسم المصحح		توقيعه
اسم المراجع		توقيعه

إختبار نهاية الفصل الدراسي الثالث (الدور الأول) لعام ١٤٤٦هـ

اسم الطالب:	
٢٠	

السؤال الأول: (أ) ضع علامة (√) أمام العبارة الصحيحة وعلامة (X) أمام العبارة الخاطئة:

١	من الأمانة الحفاظ على أسرار الناس	()
٢	إهمال الأمانة يقود إلى عقاب في الدنيا وعقاب في الآخرة	()
٣	خيانة الوطن مخالفة للأمانة	()
٤	عندما أجد آثاراً قديمة أبلغ الجهات المختصة عنها	()
٥	التعليم والصحة من حقوق المواطن	()
٦	الأمانة تحقق الأمن للوطن وتحافظ على الدين وتمنع الفساد وتؤدي إلى الاستقرار	()
٧	من فوائد الصدق : كسب ثقة الآخرين	()
٨	الآثار سجل حضاري مهم للوطن لأنها تعبر عن امتداد تاريخ الوطن وتراثه	()
٩	يحتاج المجتمع إلى مشاركة مواطنيه ومؤسساته في خدمته	()
١٠	من فوائد المشاركة مع المجتمع تقوية التعاون بين الناس	()
١١	التعداد السكاني : هو حصر شامل لكل الأفراد في الوطن وجمع معلومات عن خصائصهم	()
١٢	السكان هم المواطنون والمقيمون في الوطن من ذكور وإناث	()
١٣	مناخ وطني المملكة العربية السعودية بوجه عام بارد صيفا وشتاء وكثير الأمطار	()
١٤	ضريبة القيمة المضافة في وطني ٢٥ %	()
١٥	من مظاهر الصدق : الغش والكذب والتزوير	()

(ب) ضع الكلمات التالية في الفراغات المناسبة:

وهمية	١٨٠	خط جرينتش	خط الاستواء	٣٦٠
-------	-----	-----------	-------------	-----

١- تتصف خطوط الطول بأنها وعددها خطأ ، وخطها الرئيس هو

٢- عدد دوائر العرض دائرة وخطها الرئيس هو

يتبع ←

السؤال الثاني (أ) إختتر الإجابة الصحيحة:

٢٠

١	من العوامل المؤثرة في مناخ وطني المملكة العربية السعودية :	الموقع الجغرافي	الموقع السياسي	الموقع التاريخي
٢	توزيع السكان في جميع مناطق وطني :	متفاوت	مستاوٍ	منتظم
٣	أكثر فئة من السكان في وطني:	متوسطو السن	صغار السن	كبار السن
٤	واجبنا تجاه موظف الإحصاء وتعداد السكان هو:	التعاون معه	الكذب عليه	إعطائه معلومات غير صحيحة
٥	ينتقل الناس من البلدات الصغيرة للإقامة في المدن الكبيرة بسبب:	الوظائف	الزراعة	الرعي
٦	أكثر مناطق وطني من حيث عدد السكان هي منطقة:	الجوف	الباحة	الرياض
٧	تقع أجزاء واسعة من المملكة العربية السعودية ضمن الحزام :	القطبي	المعتدل	الصحراوي
٨	يقع وطني المملكة العربية السعودية ضمن المنطقة التي يتسم مناخها ب :	البرودة	الثلوج	الجفاف
٩	تقع المملكة العربية السعودية من قارة اسيا في أقصى :	الجنوب الشرقي	الجنوب الشرقي	الجنوب الغربي
١٠	يحد المملكة العربية السعودية من جهة الغرب :	الخليج العربي	بحر العرب	البحر الأحمر
١١	يقصد به موقع وطني المملكة العربية السعودية بالنسبة لخطوط الطول ودوائر العرض :	الموقع الاقتصادي	الموقع التاريخي	الموقع الفلكي
١٢	تهطل الأمطار في المملكة العربية السعودية بقلة إلا في :	شرقها	شمالها	جنوبها الغربي
١٣	إنتماء الانسان إلى وطنه :	السياسة	الخيانة	المواطنة
١٤	قول الحقيقة دون تغيير وفعل ما هو صحيح :	الغش	الكذب	الصدق
١٥	يبحث عن الآثار ويكشف عنها :	عالم الطب	عالم الاقتصاد	عالم الآثار

(ب) إختتر من المجموعة (أ) ما يناسبها في المجموعة (ب) مستعينا " بالأرقام "

المجموعة (أ)	الارقام	المجموعة (ب)
١ من واجبات المواطن	()	هيئة الزكاة والضريبة والجمارك
٢ من حقوق المواطن	()	الآثار
٣ تعرض فيه المقتنيات التاريخية	()	المتحف
٤ العلم الذي يعنى بالمواقع التاريخية	()	التعليم
٥ تتولى تحصيل الضرائب	()	التزام الأنظمة

بسم الله الرحمن الرحيم

المملكة العربية السعودية		الفصل الدراسي الثالث
وزارة التعليم		المادة: الدراسات الاجتماعية
إدارة تعليم		الصف: السادس الابتدائي
مدرسة		الزمن : ساعة
الدرجة كتابة:		٤٠ ٤٠
اسم المصحح		توقيعه
اسم المراجع		توقيعه

إختبار نهاية الفصل الدراسي الثالث (الدور الأول) لعام ١٤٤٦ هـ

٢٠
٢٠

نموذج الإجابة

اسم الطالب

السؤال الأول: (أ) ضع علامة (√) أمام العبارة الصحيحة وعلامة (X) أمام العبارة الخاطئة:

√	١	من الأمانة الحفاظ على أسرار الناس
√	٢	إهمال الأمانة يقود إلى عقاب في الدنيا وعقاب في الآخرة
√	٣	خيانة الوطن مخالفة للأمانة
√	٤	عندما أجد آثاراً قديمة أبلغ الجهات المختصة عنها
√	٥	التعليم والصحة من حقوق المواطن
√	٦	الأمانة تحقق الأمن للوطن وتحافظ على الدين وتمنع الفساد وتؤدي إلى الاستقرار
√	٧	من فوائد الصدق : كسب ثقة الآخرين
√	٨	الآثار سجل حضاري مهم للوطن لأنها تعبر عن امتداد تاريخ الوطن وتراثه
√	٩	يحتاج المجتمع إلى مشاركة مواطنيه ومؤسساته في خدمته
√	١٠	من فوائد المشاركة مع المجتمع تقوية التعاون بين الناس
√	١١	التعداد السكاني : هو حصر شامل لكل الأفراد في الوطن وجمع معلومات عن خصائصهم
√	١٢	السكان هم المواطنون والمقيمون في الوطن من ذكور وإناث
X	١٣	مناخ وطني المملكة العربية السعودية بوجه عام بارد صيفا وشتاء وكثير الأمطار
X	١٤	ضريبة القيمة المضافة في وطني ٢٥ %
X	١٥	من مظاهر الصدق : الغش والكذب والتزوير

(ب) ضع الكلمات التالية في الفراغات المناسبة:

وهمية	١٨٠	خط جرينتش	خط الاستواء	٣٦٠
-------	-----	-----------	-------------	-----

١- تتصف خطوط الطول بأنها **وهمية** وعددها **٣٦٠** خطأ ، وخطها الرئيس هو **خط جرينتش**

٢- عدد دوائر العرض **١٨٠** دائرة وخطها الرئيس هو **خط الاستواء**

يتبع ←

السؤال الثاني (أ) إختتر الإجابة الصحيحة:

٢٠

٢٠

١	من العوامل المؤثرة في مناخ وطني المملكة العربية السعودية :	
	الموقع الجغرافي	الموقع السياسي
٢	توزيع السكان في جميع مناطق وطني :	الموقع التاريخي
	متفاوت	منتظم
٣	أكثر فئة من السكان في وطني:	مستوا
	متوسطو السن	كبار السن
٤	واجبنا تجاه موظف الإحصاء وتعداد السكان هو:	صغار السن
	التعاون معه	إعطائه معلومات غير صحيحة
٥	ينتقل الناس من البلدات الصغيرة للإقامة في المدن الكبيرة بسبب:	الكذب عليه
	الوظائف	الزراعة
٦	أكثر مناطق وطني من حيث عدد السكان هي منطقة:	الرعي
	الجوف	الرياض
٧	تقع أجزاء واسعة من المملكة العربية السعودية ضمن الحزام :	الباحة
	القطبي	المعتدل
٨	يقع وطني المملكة العربية السعودية ضمن المنطقة التي يتسم مناخها ب :	الثلوج
	البرودة	الجفاف
٩	تقع المملكة العربية السعودية من قارة اسيا في أقصى :	الجنوب الشرقي
	الجنوب الغربي	الشمال الشرقي
١٠	يحد المملكة العربية السعودية من جهة الغرب :	بحر العرب
	البحر الأحمر	الخليج العربي
١١	يقصد به موقع وطني المملكة العربية السعودية بالنسبة لخطوط الطول ودوائر العرض :	الموقع الاقتصادي
	الموقع الفلكي	الموقع التاريخي
١٢	تهطل الأمطار في المملكة العربية السعودية بقلة إلا في :	شمالها
	جنوبها الغربي	شرقها
١٣	إنتماء الانسان إلى وطنه :	السياسة
	المواطنة	الخيانة
١٤	قول الحقيقة دون تغيير وفعل ما هو صحيح :	الصدق
	الصدق	الكذب
١٥	يبحث عن الآثار ويكشف عنها :	عالم الطب
	عالم الآثار	عالم الاقتصاد

(ب) إختتر من المجموعة (أ) مايناسبها في المجموعة (ب) مستعينا " بالأرقام "

المجموعة (أ)	الارقام	المجموعة (ب)
١ من واجبات المواطن	٥	هيئة الزكاة والضريبة والجمارك
٢ من حقوق المواطن	٤	الآثار
٣ تعرض فيه المقتنيات التاريخية	٣	المتحف
٤ العلم الذي يعنى بالمواقع التاريخية	٢	التعليم
٥ تتولى تحصيل الضرائب	١	التزام الأنظمة

المصحح : التوقيع: المراجع : التوقيع: الدرجة كتابية: درجة

اسم الطالب : رقم الجلوس ()

السؤال الأول / اختر الإجابات الصحيحة فيما يلي بوضع دائرة حولها:

١	هي انتماء الانسان الى وطنه على أسس من القيم والاخلاق والمبادئ :			
أ	المواطنة	ب	الأمانة	ج
٢	عدد دوائر العرض:			
أ	١٨٠ دائرة	ب	١٥٠ دائرة	ج
٣	من مظاهر الأمانة			
أ	حفظ الأسرار	ب	اخذ شيء ليس من حقنا	ج
٤	خط الطول الرئيسي ودرجته صفر هو خط:			
أ	جرينيتش	ب	السرطان	ج
٥	من واجبات المواطن			
أ	التزام الأنظمة	ب	العبث بالممتلكات العامة	ج
٦	تعرض فيه المقتنيات التاريخية			
أ	المتحف	ب	الحديقة	ج
٧	عدد خطوط الطول:			
أ	٣٦٠ خطأ	ب	٣٥٥ خطأ	ج
٨	تبلغ مساحة وطني المملكة العربية السعودية:			
أ	٢.٠٠٠.٠٠٠ كم ^٢	ب	٣.٠٠٠.٠٠٠ كم ^٢	ج
٩	المال الذي تحصله الدولة من الأشخاص والمؤسسات أو الشركات لدعم المجتمع وتطويره			
أ	الأجور	ب	الضريبة	ج
١٠	من سمات الموقع الجغرافي السياسية لوطني : تحيط به			
أ	٦ دول عربية	ب	٧ دول عربية	ج


السؤال الثاني / أكمل

أ - من حقوق المواطن:

١ -
٢ -

ب - تمكننا خطوط الطول من تحديد :

١ -
٢ -



السؤال الثالث/ ضع علامة (√) أمام العبارات الصحيحة وعلامة (x) أمام العبارات غير الصحيحة:

١٠

١.	ضريبة القيمة المضافة في وطني هي ١٥ %	()
٢.	الصدق هو قول الحقيقة دون تغيير وفعل ما هو صحيح	()
٣.	الموقع الفلكي هو موقع وطني بالنسبة لخطوط الطول ودوائر العرض	()
٤.	عندما نجد آثاراً قديمة نبلغ الجهات المختصة عنها	()
٥.	خطوط الطول دوائر كاملة	()
٦.	يحد وطني من جهة الغرب البحر الأحمر	()
٧.	الرياض من المدن المليونية في عدد السكان	()
٨.	فرضت (ضريبة السلع المنتقاه) للحد من استعمال منتجات التبغ ومشروبات الطاقة	()
٩.	يتميز مناخ مناطق وطني بكثرة الأمطار واعتدال الحرارة طوال العام	()
١٠.	تأتي المملكة في المركز السادس من بين الدول العربية من حيث المساحة	()

السؤال الرابع / ضع الكلمات الموجودة في الجدول التالي في الفراغ المناسب:

٦

المواطن المسؤول	دوائر العرض	التعداد السكاني	الصحراوي	الأمانة	دعم المحتاجين
-----------------	-------------	-----------------	----------	---------	---------------

١. من فوائد المشاركة المجتمعية.
٢. إذا تحققت لدى المواطن تحقق الأمن له ولوطنه.
٣. حصر شامل لجميع أفراد الوطن وخمخ معلومات عن خطائهم .
٤. هي دوائر وهمية كاملة موازية لخط الاستواء.
٥. هو الانسان ذو الخلق الحميد الملتزم لتعاليم دينه السمحة .
٦. تقع المملكة ضمن الأقليم.....

----- انتهت الأسئلة -----

المصحح : التو

اسم الطالب : رقم الجلوس ()

نموذج الإجابة

السؤال الأول / اختر الإجابات الصحيحة فيما يلي بوضع دائرة حولها:

١	هي انتماء الانسان الى وطنه على أسس من القيم والاخلاق والمبادئ :	أ	المواطنة	ب	الأمانة	ج	الصدق
٢	عدد دوائر العرض:	أ	١٨٠ دائرة	ب	١٥٠ دائرة	ج	١٨٠ دائرة
٣	من مظاهر الأمانة	أ	حفظ الأسرار	ب	اخذ شيء ليس من حقنا	ج	الرشوة
٤	خط الطول الرئيسي ودرجته صفر هو خط:	أ	جرينتش	ب	السرطان	ج	الجدى
٥	من واجبات المواطن	أ	التزام الأنظمة	ب	العبث بالممتلكات العامة	ج	التزوير والغش
٦	تعرض فيه المقتنيات التاريخية	أ	المتحف	ب	الحديقة	ج	السوق
٧	عدد خطوط الطول:	أ	٣٦٠ خطأ	ب	٣٥٥ خطأ	ج	٣٥٠ خطأ
٨	تبلغ مساحة وطني المملكة العربية السعودية:	أ	٢.٠٠٠.٠٠٠ كم ^٢	ب	٣.٠٠٠.٠٠٠ كم ^٢	ج	٤.٠٠٠.٠٠٠ كم ^٢
٩	المال الذي تحصله الدولة من الأشخاص والمؤسسات أو الشركات لدعم المجتمع وتطويره	أ	الأجور	ب	الضريبة	ج	الزكاة
١٠	من سمات الموقع الجغرافي السياسية لوطني : تحيط به	أ	٦ دول عربية	ب	٧ دول عربية	ج	٨ دول عربية


السؤال الثاني / أكمل

أ - من حقوق المواطن:

١ - العناية بمستقبل المواطن. ٢ - تحقيق الاستقرار، وحفظ الأمن.

ب - تمكنا خطوط الطول من تحديد :

١ - المواقع ٢ - التواقيت



السؤال الثالث/ ضع علامة (✓) أمام العبارات الصحيحة وعلامة (x) أمام العبارات غير الصحيحة:

١٠

١. ضريبة القيمة المضافة في وطني هي ١٥ %	(✓)
٢. الصدق هو قول الحقيقة دون تغيير وفعل ما هو صحيح	(✓)
٣. الموقع الفلكي هو موقع وطني بالنسبة لخطوط الطول ودوائر العرض	(✓)
٤. عندما نجد آثاراً قديمة نبلغ الجهات المختصة عنها	(✓)
٥. خطوط الطول دوائر كاملة	(x)
٦. يحد وطني من جهة الغرب البحر الأحمر	(✓)
٧. الرياض من المدن المليونية في عدد السكان	(✓)
٨. فرضت (ضريبة السلع المنتقاه) للحد من استعمال منتجات التبغ ومشروبات الطاقة	(✓)
٩. يتميز مناخ مناطق وطني بكثرة الأمطار واعتدال الحرارة طوال العام	(x)
١٠. تأتي المملكة في المركز السادس من بين الدول العربية من حيث المساحة	(x)

السؤال الرابع / ضع الكلمات الموجودة في الجدول التالي في الفراغ المناسب:

٦

المواطن المسؤول	دوائر العرض	التعداد السكاني	الصحراوي	الأمانة	دعم المحتاجين
-----------------	-------------	-----------------	----------	---------	---------------

١. دعم المحتاجين من فوائد المشاركة المجتمعية.

٢. إذا تحققت الأمانة لدى المواطن تحقق الأمن له ولوطنه.

٣. التعداد السكاني حصر شامل لجميع أفراد الوطن وجمع معلومات عن خطائهم .

٤. دوائر العرض هي دوائر وهمية كاملة موازية لخط الاستواء.

٥. المواطن المسؤول هو الانسان ذو الخلق الحميد الملتزم لتعاليم دينه السمحة .

٦. تقع المملكة ضمن الأقليم الصحراوي .

----- انتهت الأسئلة -----

أسئلة الفصل الدراسي الثالث (الدور الأول) للعام ١٤٤٦ هـ

اسم الطالبة: رقم الجلوس:

المصحح	الدرجة	الدرجة كتابة	المراجع	الدرجة بعد المراجعة	الدرجة كتابة
			التوقيع		
	٤٠			٤٠	

السؤال الأول: أ) ضع علامة (√) امام العبارة الصحيحة وعلامة (×) أمام العبارة الخاطئة: ٤

()	المواطنة هي الانتماء للوطن على أسس القيم والاخلاق	(١)
()	من واجبات المواطن الأمانة والصدق	(٢)
()	من فوائد الصدق تقوية العلاقات بين الناس	(٣)
()	غياب الصدق والأمانة يؤدي الى الفساد والفضي	(٤)
()	الأثار ثروة وطنية والحفاظ عليها واجب وطني	(٥)
()	يستفيد الوطن من الأثار لتعزيز الجانب الثقافي	(٦)
()	من وظائف الضرائب مالية واقتصادية واجتماعية	(٧)
()	تصرف الزكاة لمستحقين الضمان الاجتماعي (الأسر المحتاجة)	(٨)
()	عندما أجد اثار قديمة أبلغ الجهات المختصة عنها	(٩)
()	تدور الأرض حول محورها مدة ٢٤ ساعة	(١٠)
()	مناخ المملكة العربية السعودية بارد وكثير الأمطار	(١١)
()	خطوط الطول هي عبارة عن دوائر كاملة حقيقية	(١٢)
()	قيمة ضريبة الدخل في المملكة ٤٠٪	(١٣)
()	تأسست هيئة الزكاة والضريبة والجمارك في عهد الملك عبدالله بن عبدالعزيز	(١٤)

(ب) اختاري الإجابة الصحيحة فيما يأتي:

١٤

١	من أمثلة الاعمال والتنقيب الأثري في وطني.....			
أ	الفاو	ب	سكاكا	ج
٢	هي الأماكن التي تعرض فيها الآثار والقصص التاريخية.....			
أ	المتاحف	ب	المدارس	ج
٣	ضريبة القيمة المضافة في وطني.....			
أ	١٥٪	ب	٢٥٪	ج
٤	عدد خطوط الطول.....			
أ	٣٦٠	ب	١٢٠	ج
٥	أكثر سكان المملكة من فئة.....			
أ	شباب	ب	كبار السن	ج
٦	ينتقل الناس من البلدان الصغيرة الى المدن بسبب.....			
أ	الوظائف	ب	الزراعة	ج
٧	خط الطول الرئيسي ودرجة صفر هو.....			
أ	جرينتش	ب	الجدى	ج
٨	العلم الذي يعتني بالمواقع التاريخية هو.....			
أ	الاثار	ب	الطب	ج
٩	من أنواع الصدق في القول.....			
أ	تجنب الكذب	ب	الغش	ج
١٠	من فوائد المشاركة المجتمعية.....			
أ	عدم التعاون	ب	دعم المحتاجين	ج
١١	تقع أجزاء واسعة من المملكة العربية السعودية ضمن الحزام			
أ	البارد	ب	الصحرا	ج
١٢	تمكننا خطوط الطول من تحديد.....			
أ	المناخ	ب	المواقع والتوقيت	ج
١٣	تحيط بالمملكة العربية السعودية.....عربية			
أ	خمس دول	ب	ثمانى دول	ج
١٤	تربط المملكة العربية السعودية بين..... قارات			
أ	خمس	ب	ثلاث	ج
	أربعة			

السؤال الثاني: أ) أملئ الفراغات بالكلمات المساعدة:

الموقع الجغرافي

السكان

التعليم والصحة

الضريبة

- ١) هم المواطنون والمقيمون في الوطن من ذكور وإناث
- ٢) من حقوق المواطن
- ٣) المال الذي تحصله الدولة من الأشخاص والشركات
- ٤) يقصد به موقع المملكة العربية السعودية بالنسبة للعالم والدول المجاورة

(ب)	(أ)
التزام النظام	١) حصر شامل لكل الأفراد في الوطن
الصدق	٢) من السمات الدينية والثقافية في وطني وجود
قبلة المسلمين	٣) هو قول الحقيقة دون تغيير وتزييف
التعداد السكاني	٤) من مظاهر الأمانة

السؤال الثالث: أذكرني فقط ٤ من واجبات المواطن :

- ١-
- ٢-
- ٣-
- ٤-

انتهت الأسئلة
والله الموفق

نموذج إجابة الفصل الدراسي الثالث (الدور الأول) للعام ١٤٤٦ هـ

نموذج الإجابة

الدرجة كتابة	السراج	التوقيع	التوقيع
		٤٠	٤٠

السؤال الأول: أ) ضع علامة (√) امام العبارة الصحيحة وعلامة (×) أمام العبارة الخاطئة: ٤

(صح)	المواطنة هي الانتماء للوطن على أسس القيم والأخلاق	(١)
(صح)	من واجبات المواطن الأمانة والصدق	(٢)
(صح)	من فوائد الصدق تقوية العلاقات بين الناس	(٣)
(صح)	غياب الصدق والأمانة يؤدي الى الفساد والفوضى	(٤)
(صح)	الأثار ثروة وطنية والحفاظ عليها واجب وطني	(٥)
(صح)	يستفيد الوطن من الأثار لتعزيز الجانب الثقافي	(٦)
(صح)	من وظائف الضرائب مالية واقتصادية واجتماعية	(٧)
(صح)	تصرف الزكاة لمستحقين الضمان الاجتماعي (الأسر المحتاجة)	(٨)
(صح)	عندما أجد اثار قديمة أبلغ الجهات المختصة عنها	(٩)
(صح)	تدور الأرض حول محورها مدة ٢٤ ساعة	(١٠)
(خطأ)	مناخ المملكة العربية السعودية بارد وكثير الأمطار	(١١)
(خطأ)	خطوط الطول هي عبارة عن دوائر كاملة حقيقية	(١٢)
(خطأ)	قيمة ضريبة الدخل في المملكة ٤٠٪	(١٣)
(خطأ)	تأسست هيئة الزكاة والضريبة والجمارك في عهد الملك عبدالله بن عبدالعزيز	(١٤)

(ب) اختاري الإجابة الصحيحة فيما يأتي:

١٤

١	من أمثلة الاعمال والتنقيب الأثري في وطني.....	أ	ب	ج	د
أ	الفاو	ب	سكاكا	ج	الطائف
٢	هي الأماكن التي تعرض فيها الآثار والقصص التاريخية.....	أ	ب	ج	د
أ	المتاحف	ب	المدارس	ج	الملاعب
٣	ضريبة القيمة المضافة في وطني.....	أ	ب	ج	د
أ	١٥%	ب	٢٥%	ج	٣٠%
٤	عدد خطوط الطول.....	أ	ب	ج	د
أ	٣٦٠	ب	١٢٠	ج	١٨٠
٥	أكثر سكان المملكة من فئة.....	أ	ب	ج	د
أ	شباب	ب	كبار السن	ج	صغار السن
٦	ينتقل الناس من البلدان الصغيرة الى المدن بسبب.....	أ	ب	ج	د
أ	الوظائف	ب	الزراعة	ج	الرعي
٧	خط الطول الرئيسي ودرجة صفر هو.....	أ	ب	ج	د
أ	جرينتش	ب	الجدي	ج	السرطان
٨	العلم الذي يعتني بالمواقع التاريخية هو.....	أ	ب	ج	د
أ	الاثار	ب	الطب	ج	الهندسة
٩	من أنواع الصدق في القول.....	أ	ب	ج	د
أ	تجنب الكذب	ب	الغش	ج	اتقان العمل
١٠	من فوائد المشاركة المجتمعية.....	أ	ب	ج	د
أ	عدم التعاون	ب	دعم المحتاجين	ج	عدم الثقة
١١	تقع أجزاء واسعة من المملكة العربية السعودية ضمن الحزام	أ	ب	ج	د
أ	البارد	ب	الصحراوي المداري	ج	القطبي
١٢	تمكننا خطوط الطول من تحديد.....	أ	ب	ج	د
أ	المناخ	ب	المواقع والتواقيت	ج	الزلازل
١٣	تحيط بالمملكة العربية السعودية.....عربية	أ	ب	ج	د
أ	خمسة دول	ب	ثمانية دول	ج	ستة دول
١٤	تربط المملكة العربية السعودية بين..... قارات	أ	ب	ج	د
أ	خمسة	ب	ثلاث	ج	أربعة

السؤال الثاني: أ) أملئ الفراغات بالكلمات المساعدة:

٤

الموقع الجغرافي

السكان

التعليم والصحة

الضريبة

١) هم المواطنون والمقيمون في الوطن من ذكور وإناث **السكان**

٢) من حقوق المواطن **التعليم والصحة**

٣) المال الذي تحصله الدولة من الأشخاص والشركات **الضريبة**

٤) يقصد به موقع المملكة العربية السعودية بالنسبة للعالم والدول المجاورة **الموقع الجغرافي**

٤

(ب)		(أ)
التزام النظام	٤	١) حصر شامل لكل الأفراد في الوطن
الصدق	٣	٢) من السمات الدينية والثقافية في وطني وجود
قبلة المسلمين	٢	٣) هو قول الحقيقة دون تغيير وتزييف
التعداد السكاني	١	٤) من مظاهر الأمانة

السؤال الثالث: أذكرني فقط ٤ من واجبات المواطن :

٤

١- الأمانة و الصدق / التزام المسؤولية

٢- الفخر بالوطن و تراثه / المشاركة المجتمعية

٣- المحافظة على البيئة / المحافظة على الممتلكات العامة والخاصة

٤- التزام الأنظمة / التميز والابداع في الدراسة والعمل

انتهت الأسئلة

والله الموفق

المادة: الدراسات الاجتماعية
الصف: سادس ابتدائي
الزمن : ساعة



المملكة العربية السعودية
وزارة التعليم
إدارة التعليم

رقم الجلوس

الدرجة	المصحح	التوقيع	المراجع	التوقيع
٤٠				

اسم الطالب

اختبار مادة الدراسات الاجتماعية للفصل الدراسي الثالث ١٤٤٦ هـ
استعن بالله ثم أجب على جميع الأسئلة التالية

٢٠

السؤال الأول :-

ضع علامة (√) امام العبارة الصحيحة وعلامة (×) امام العبارة الخاطئة مما يلي :-

١. من الأمانة الحفاظ على أسرار الناس ()
٢. تقع المملكة العربية السعودية في أقصى الجنوب الغربي لقارة اسيا ()
٣. من السمات الدينية والثقافية لوطني أن فيه الحرمين الشريفين ()
٤. خيانة الوطن مخالفة للأمانة ()
٥. يقطع خط جرينتش الكرة الأرضية من الشمال إلى الجنوب ()
٦. يزداد التوقيت ساعة واحدة كلما اتجهنا شرق خط جرينتش بمقدار ١٥ خطأً ()
٧. تساعدنا دوائر العرض على معرفة التوقيت ()
٨. خطوط الطول دوائر كاملة ()
٩. مناخ المملكة العربية السعودية بارد صيفا معتدل شتاءً ()
١٠. ضريبة القيمة المضافة في وطني تبلغ ٢٥ % ()

٤


السؤال الثاني :-

اختر الرقم من العمود (أ) وضعه أمام ما يناسبه من العمود (ب) :

- | (أ) | (ب) |
|---------------------------------------|--------------------|
| ١- من واجبات المواطن | () المتحف |
| ٢- من حقوق المواطن | () الاثار |
| ٣- العلم الذي يعنى بالمواقع التاريخية | () التعليم |
| ٤- تعرض فيه المقتنيات التاريخية | () التزام الأنظمة |

ابني الغالي باقي الأسئلة في الخلف ...

السؤال الثالث:-

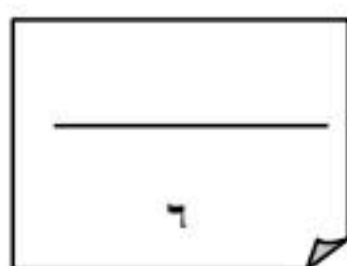


ضع الكلمات التالية بما يناسبها من الفراغات :

(موازية - متساوية - القطبين - ٣٦٠ - وهمية)

- ١ . تتصف خطوط الطول بأنها وعددها خط .
- ٢ . تلتقي جميع خطوط الطول عند
- ٣ . تتصف دوائر العرض بأنها و لخط الأستواء

السؤال الرابع:-



ضع خطا تحت الإجابة الصحيحة من بين الأقواس التالية :

- ١ - توزيع السكان في جميع مناطق وطني (متغير باستمرار - متساوي - متفاوت)
- ٢ - أكثر فئة من السكان في وطني (متوسطو السن - صغار السن - كبار السن)
- ٣ - ينتقل الناس من البلدات الصغيرة للإقامة في المدن الكبيرة بسبب (الوظائف - الزراعة - الرعي)

(انتهت الأسئلة)

نموذج الإجابة

المراجع	التوقيع

اسم الطالب

اختبار مادة الدراسات الاجتماعية للفصل الدراسي الثالث ١٤٤٦ هـ
استعن بالله ثم أجب على جميع الأسئلة التالية

٢٠

السؤال الأول :-

ضع علامة (√) امام العبارة الصحيحة وعلامة (×) امام العبارة الخاطئة ممايلي :-

١. من الأمانة الحفاظ على أسرار الناس ()
٢. تقع المملكة العربية السعودية في أقصى الجنوب الغربي لقارة اسيا ()
٣. من السمات الدينية والثقافية لوطني أن فيه الحرمين الشريفين ()
٤. خيانة الوطن مخالفة للأمانة ()
٥. يقطع خط جرينتش الكرة الأرضية من الشمال إلى الجنوب ()
٦. يزداد التوقيت ساعة واحدة كلما اتجهنا شرق خط جرينتش بمقدار ١٥ خطأ ()
٧. تساعدنا دوائر العرض على معرفة التوقيت ()
٨. خطوط الطول دوائر كاملة ()
٩. مناخ المملكة العربية السعودية بارد صيفا معتدل شتاءً ()
١٠. ضريبة القيمة المضافة في وطني تبلغ ٢٥ % ()

٤

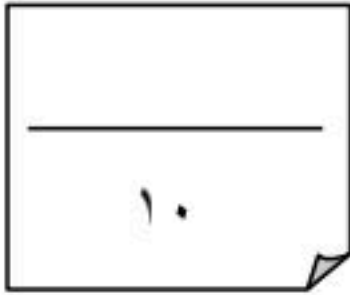
السؤال الثاني :-

اختر الرقم من العمود (أ) وضعه أمام ما يناسبه من العمود (ب) :

- | (أ) | (ب) |
|---------------------------------------|----------------------|
| ١- من واجبات المواطن | (4) المتحف |
| ٢- من حقوق المواطن | (3) الاثار |
| ٣- العلم الذي يعنى بالمواقع التاريخية | (2) التعليم |
| ٤- تعرض فيه المقتنيات التاريخية | (1) التزام الأنظمة |

ابني الغالي باقي الأسئلة في الخلف ...

السؤال الثالث:-

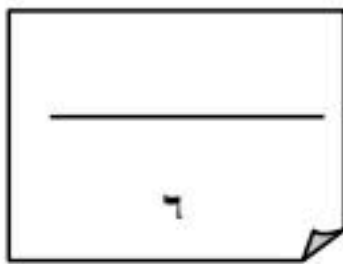


ضع الكلمات التالية بما يناسبها من الفراغات :

(موازية - متساوية - القطبين - ٣٦٠ - وهمية)

- ١ . تتصف خطوط الطول بأنها **متساوية** وعددها **٣٦٠**..... خط .
- ٢ . تلتقي جميع خطوط الطول عند **القطبين**.....
- ٣ . تتصف دوائر العرض بأنها **وهامية** و**متساوية** لخط الاستواء

السؤال الرابع:-



ضع خطا تحت الإجابة الصحيحة من بين الأقواس التالية :

- ١ - توزيع السكان في جميع مناطق وطني (متغير باستمرار - متساوي - متفاوت)
- ٢ - أكثر فئة من السكان في وطني (متوسطو السن - صغار السن - كبار السن)
- ٣ - ينتقل الناس من البلدات الصغيرة للإقامة في المدن الكبيرة بسبب (الوظائف - الزراعة - الرعي)

(انتهت الأسئلة)

المادة : الدراسات الاجتماعية
الصف : السادس
الزمن : ساعة
اليوم :
التاريخ : / / ١٤٤٦ هـ



المملكة العربية السعودية
وزارة التعليم
إدارة تعليم
مدرسة

اختبار مادة الدراسات الاجتماعية للصف السادس الابتدائي
الفصل الدراسي الثالث (الدور الأول) لعام ١٤٤٦ هـ

اسم الطالب :

اسم المدقق	اسم المراجع	اسم المصحح	الدرجة كتابة	الدرجة	٢ س	١ س
التوقيع	التوقيع	التوقيع	أربعون درجة فقط	٤٠	٢٠	٢٠

السؤال الأول: ضع علامة (√) أمام العبارة الصحيحة وعلامة (×) أمام العبارة الخاطئة :

٢٠

م	العبارة	الإجابة
١	عالم الآثار يحلل المعلومات، ويربطها بالامتداد التاريخي.	
٢	يستفاد من الآثار أنها مورد سياحي للوطن	
٣	دعم المحتاجين من فوائد المشاركة في المجتمع	
٤	يؤثر الموقع الفلكي في مناخ وطني المملكة العربية السعودية	
٥	يتمتع مواطنو المملكة العربية السعودية بكامل حقوقهم .	
٦	المواطن المسؤول هو: ذو الخلق الحميد، الملتزم بتعاليم دينه السمحة، والمنتمي لوطنه.	
٧	خطوط الطول وهمية ترسم على الخرائط ومجسمات الكرة الأرضية	
٨	تمكنا دوائر العرض من تحديد المواقع	
٩	للضرائب وظائف عدة منها: اقتصادية، ومالية، واجتماعية.	
١٠	يحتاج المجتمع إلى مشاركة المواطنين بما لديهم لخدمة الآخرين	
١١	للمشاركة المجتمعية ضوابط مهمة لحماية الطلبة وتحقيق أثر كبير	
١٢	من أنواع الصدق في القول تجنب الكذب	
١٣	من فوائد الصدق كسب ثقة الآخرين	
١٤	من مظاهر الأمانة حفظ حقوق الآخرين	
١٥	المواطنة انتماء الإنسان إلى وطنه على أسس من القيم، والأخلاق، والمبادئ مع التمتع بالحقوق وأداء الواجبات .	
١٦	السكان هم المواطنون في الوطن من ذكور وإناث	
١٧	المحافظة على الممتلكات العامة، والخاصة من أبرز حقوق المواطن.	
١٨	شهد وطني المملكة العربية السعودية حضارة واحدة فقط	
١٩	الأمانة هي قول الحقيقة دون تغيير، وفعل ما هو صحيح.	
٢٠	يجرى التعداد السكاني لتحديد عدد السكان	

تابع بقية الأسئلة

١	من أمثلة أعمال التنقيب الأثري في وطني وتقع في وادي الدواسر	أ الفاو	ب الرَبْدَة	ج جُرْش
٢	من أمثلة أعمال التنقيب الأثري في وطني وتقع في جنوب شرق المدينة المنورة	أ الرَبْدَة	ب جُرْش	ج الفاو
٣	من أمثلة أعمال التنقيب الأثري في وطني وتقع في جنوب خميس مشيط	أ جُرْش	ب الرَبْدَة	ج الفاو
٤	تهتم هيئة التراث في وزارة بالآثار في مناطق المملكة العربية السعودية وتعتني بها	أ الثقافة	ب التعليم	ج السياحة
٥	تفرض على ما يحصل عليه غير السعوديين من دخل غير الرواتب	أ ضريبة الدخل	ب ضريبة القيمة المضافة	ج ضريبة السلع المنتقاة
٦	تفرض على بعض السلع لتقليل استخدامها، والحد من أضرارها.	أ ضريبة السلع المنتقاة	ب ضريبة القيمة المضافة	ج ضريبة الدخل
٧	تفرض على السلع، والخدمات في مراحل البيع، والشراء	أ ضريبة القيمة المضافة	ب ضريبة السلع المنتقاة	ج ضريبة الدخل
٨	انتماء الإنسان إلى وطنه على أسس من القيم، والأخلاق، والمبادئ	أ المواطنة	ب الحقوق	ج الواجبات
٩	قول الحقيقة دون تغيير، وفعل ما هو صحيح	أ الصدق	ب الكذب	ج الإشاعة
١٠	سجل حضاري مهم للوطن؛ لأنها تعبر عن امتداد تاريخه، وتراثه	أ الآثار	ب المتاحف	ج السياحة
١١	خط الطول الرئيس هو خط	أ الاستواء	ب جرينتش	ج الجدي
١٢	تمكنا خطوط الطول من	أ تحديد المناخ	ب تحديد التوقيت	ج معرفة الظواهر الفلكية
١٣	قسم الوقت حسب المناطق الزمنية إلى منطقة زمنية	أ ٢٥	ب ٢٤	ج ٢٣
١٤	يبلغ عدد خطوط الطول	أ ٣٧٠	ب ٣٦٠	ج ٣٥٠
١٥	يكثر السكان في لوجود خدمات وفرص عمل	أ القرى	ب المدن	ج الهجر
١٦	يقع مدار في شمال خط الاستواء	أ الجدي	ب السرطان	ج المريخ
١٧	مناخ الربع الخالي	أ بارد صيفاً ترتفع فيه الرطوبة	ب حار صيفاً بارد شتاءً شديد الجفاف	ج معتدل
١٨	سبب انخفاض درجات الحرارة على المرتفعات الجبلية في غرب المملكة نتيجة	أ الامطار	ب الارتفاع	ج الانخفاض
١٩	تهطل الأمطار في المملكة العربية السعودية بقلة إلا في	أ الشمال	ب الجنوب الغربي	ج الشرق
٢٠	هو حصر شامل لكل الأفراد الوطن وجمع المعلومات عن خصائصهم	أ السكان	ب التعداد السكاني	ج الاقتصاد السكاني

انتهت الأسئلة ،،،، مع تمنياتي لكم بالتوفيق والنجاح ،،،،

معلم المادة /

المادة : الدراسات الاجتماعية
الصف : السادس
الزمن : ساعة
اليوم :
التاريخ : / / ١٤٤٦ هـ



المملكة العربية السعودية
وزارة التعليم
إدارة تعليم
مدرسة

اختبار مادة الدراسات الاجتماعية للصف السادس الابتدائي
الفصل الدراسي الثالث (الدور الأول) لعام ٤٤٦ هـ

نموذج الإجابة

اسم المدقق	١ س	٢ س
التوقيع	٢٠	٢٠

السؤال الأول: ضع علامة (√) أمام العبارة الصحيحة وعلامة (×) أمام العبارة الخاطئة :

م	العبارة	الإجابة
١	عالم الآثار يحلل المعلومات، ويربطها بالامتداد التاريخي.	√
٢	يستفاد من الآثار أنها مورد سياحي للوطن	√
٣	دعم المحتاجين من فوائد المشاركة في المجتمع	√
٤	يؤثر الموقع الفلكي في مناخ وطني المملكة العربية السعودية	√
٥	يتمتع مواطنو المملكة العربية السعودية بكامل حقوقهم .	√
٦	المواطن المسؤول هو: ذو الخلق الحميد، الملتزم بتعاليم دينه السمحة، والمنتمي لوطنه.	√
٧	خطوط الطول وهمية ترسم على الخرائط ومجسمات الكرة الأرضية	√
٨	تمكنا دوائر العرض من تحديد المواقع	√
٩	للضرائب وظائف عدة منها: اقتصادية، ومالية، واجتماعية.	√
١٠	يحتاج المجتمع إلى مشاركة المواطنين بما لديهم لخدمة الآخرين	√
١١	للمشاركة المجتمعية ضوابط مهمة لحماية الطلبة وتحقيق أثر كبير	√
١٢	من أنواع الصدق في القول تجنب الكذب	√
١٣	من فوائد الصدق كسب ثقة الآخرين	√
١٤	من مظاهر الأمانة حفظ حقوق الآخرين	√
١٥	المواطنة انتماء الإنسان إلى وطنه على أسس من القيم، والأخلاق، والمبادئ مع التمتع بالحقوق وأداء الواجبات .	√
١٦	السكان هم المواطنون في الوطن من ذكور وإناث	×
١٧	المحافظة على الممتلكات العامة، والخاصة من أبرز حقوق المواطن.	×
١٨	شهد وطني المملكة العربية السعودية حضارة واحدة فقط	×
١٩	الأمانة هي قول الحقيقة دون تغيير، وفعل ما هو صحيح.	×
٢٠	يجرى التعداد السكاني لتحديد عدد السكان	×

تابع بقية الأسئلة

١	من أمثلة أعمال التنقيب الأثري في وطني وتقع في وادي الدواسر	أ	<u>الفاو</u>	ب	الرَبْدَة	ج	جُرَش
٢	من أمثلة أعمال التنقيب الأثري في وطني وتقع في جنوب شرق المدينة المنورة	أ	<u>الرَبْدَة</u>	ب	جُرَش	ج	الفاو
٣	من أمثلة أعمال التنقيب الأثري في وطني وتقع في جنوب خميس مشيط	أ	<u>جُرَش</u>	ب	الرَبْدَة	ج	الفاو
٤	تهتم هيئة التراث في وزارة بالآثار في مناطق المملكة العربية السعودية وتعتني بها	أ	<u>الثقافة</u>	ب	التعليم	ج	السياحة
٥	تفرض على ما يحصل عليه غير السعوديين من دخل غير الرواتب	أ	<u>ضريبة الدخل</u>	ب	ضريبة القيمة المضافة	ج	ضريبة السلع المنتقاة
٦	تفرض على بعض السلع لتقليل استخدامها، والحد من أضرارها.	أ	<u>ضريبة السلع المنتقاة</u>	ب	ضريبة القيمة المضافة	ج	ضريبة الدخل
٧	تفرض على السلع، والخدمات في مراحل البيع، والشراء	أ	<u>ضريبة القيمة المضافة</u>	ب	ضريبة السلع المنتقاة	ج	ضريبة الدخل
٨	انتماء الإنسان إلى وطنه على أسس من القيم، والأخلاق، والمبادئ	أ	<u>المواطنة</u>	ب	الحقوق	ج	الواجبات
٩	قول الحقيقة دون تغيير، وفعل ما هو صحيح	أ	<u>الصدق</u>	ب	الكذب	ج	الإشاعة
١٠	سجل حضاري مهم للوطن؛ لأنها تعبر عن امتداد تاريخه، وتراثه	أ	<u>الآثار</u>	ب	المتاحف	ج	السياحة
١١	خط الطول الرئيس هو خط	أ	الاستواء	ب	<u>جرينتش</u>	ج	الجدى
١٢	تمكنا خطوط الطول من	أ	تحديد المناخ	ب	<u>تحديد التوقيت</u>	ج	معرفة الظواهر الفلكية
١٣	قسم الوقت حسب المناطق الزمنية إلى منطقة زمنية	أ	٢٥	ب	<u>٢٤</u>	ج	٢٣
١٤	يبلغ عدد خطوط الطول	أ	٣٧٠	ب	<u>٣٦٠</u>	ج	٣٥٠
١٥	يكثر السكان في لوجود خدمات وفرص عمل	أ	القرى	ب	<u>المدن</u>	ج	الهجر
١٦	يقع مدار في شمال خط الاستواء	أ	الجدى	ب	<u>السرطان</u>	ج	المريخ
١٧	مناخ الربع الخالي	أ	بارد صيفاً ترتفع فيه الرطوبة	ب	<u>حار صيفاً بارد شتاءً شديد الجفاف</u>	ج	معتدل
١٨	سبب انخفاض درجات الحرارة على المرتفعات الجبلية في غرب المملكة نتيجة	أ	الامطار	ب	<u>الارتفاع</u>	ج	الانخفاض
١٩	تهطل الأمطار في المملكة العربية السعودية بقلة إلا في	أ	الشمال	ب	<u>الجنوب الغربي</u>	ج	الشرق
٢٠	هو حصر شامل لكل الأفراد الوطن وجمع المعلومات عن خصائصهم	أ	السكان	ب	<u>التعداد السكاني</u>	ج	الاقتصاد السكاني

انتهت الأسئلة ،،،، مع تمنياتي لكم بالتوفيق والنجاح ،،،،

معلم المادة /

المادة: الدراسات الاجتماعية
الصف: السادس الابتدائي
الزمن: ساعة ونصف
عدد الأوراق: ٤
عدد الأسئلة: ٣



المملكة العربية السعودية
وزارة التعليم
الإدارة العامة للتعليم بالقصيم
ابتدائية المحيلاني

بسم الله الرحمن الرحيم

أسئلة اختبار مادة الدراسات الاجتماعية الصف السادس الابتدائي

للعام الدراسي

الفصل الدراسي الثالث (الدور الأول)

الاسم :

رقم الجلوس :

المراجعة		المصححة		الدرجة		رقم السؤال
التوقيع	الاسم	التوقيع	الاسم	كتابة	رقمًا	
						السؤال الأول
						السؤال الثاني
						السؤال الثالث
					٤٠	المجموع

التوقيع :

جمعه :

التوقيع :

راجعه :

السؤال الأول : ضع دائرة حول الحرف الذي يمثل الإجابة الصحيحة فيما يلي

١٥

1. ضريبة القيمة المضافة في المملكة العربية السعودية

أ 10% ب 15% ج 20% د 25%

2. هي الأماكن التي تعرض فيها الآثار وقصصها التاريخية

أ المستشفيات ب المتاحف ج المدارس د البيوت

3. من أهم الأمثلة لأعمال التنقيب الأثري في وطني

أ تبوك ب الفاو ج حائل د عرعر

4. من أنواع الصدق في القول

أ الغش والتزوير ب تجنب الكذب والمبالغة ج اتقان العمل د الامانة

5. الجهة التي تتولى تحصيل الضرائب في وطني

أ وزارة التعليم ب هيئة الزكاة والجمارك ج وزارة الثقافة د وزارة الصحة

6. العلم الذي يعنى بالمواقع التاريخية

أ الطب ب الهندسة ج الآثار د الفلك

7. ينتقل الناس من البلدات الصغيرة للإقامة في المدن الكبيرة بسبب

أ الوظائف ب الزراعة ج الرعي د الصناعة

8. توزيع السكان في جميع مناطق وطني

أ متساوي ب متغير باستمرار ج متفاوت د منتظم

9. أكثر فئة من السكان في وطني

أ صغار السن ب متوسطو السن ج كبار السن د الاطفال

10. واجبنا تجاه موظف الإحصاء وتعداد السكان هو

أ عدم الإجابة عن الاسئلة ب التعاون معه وتزويده بالمعلومات ج اعطاؤه إجابات غير صحيحة د تجنب التعاون معه

11. من فوائد المشاركة في المجتمع

أ دعم المحتاجين ب عدم الانتماء للوطن ج عدم الثقة د عدم تحمل المسؤولية

12. هو حصر شامل لكل الافراد في الوطن

أ التعداد السكاني ب المشاركة المجتمعية ج المواطنة د الضرائب

13. عدد خطوط الطول

أ 360 ب 180 ج 90 د 30

14. خط الطول الرئيسي ودرجته صفر

أ الاستواء ب جرينتش ج الجدي د السرطان

15. عدد دوائر العرض

أ 180 ب 360 ج 90 د 30

السؤال الثاني : ضع علامة ✓ أما العبارة الصحيحة و علامة × أما العبارة الخاطئة

١٥

()	١. الآثار هي سجل حضاري مهم للوطن لأنها تعبر عن امتداد تاريخ الوطن وتراثه
()	٢. من صور الأمانة المحافظة على اسرار الناس
()	٣. من واجبات المواطن التزام الأنظمة والقوانين
()	٤. المواطن المسؤول هو الانسان ذو الخلق الحميد الملتزم بتعاليم دينه
()	٥. كان الرسول صلى الله عليه وسلم يلقب بالصادق الامين
()	٦. غياب الصدق والامانه يؤدي الى الاستقرار والامن
()	٧. اهمال الأمانة يقود الى عقاب في الدنيا وعقاب في الآخرة
()	٨. خيانة الوطن مخالفة للامانة
()	٩. ضريبة القيمة المضافة في وطني ٢٥%
()	10. عندما اجد اثار قديمة ابليج الجهات المختصة عنها
()	١١. التعليم والصحة من حقوق المواطن
()	١٢. يقطع خط جرينيتش الكرة الأرضية من الشمال الى الجنوب
()	١٣. خطوط الطول هي دوائر كاملة
()	١٤. ينقص التوقيت ساعة واحدة كلما ابتعدنا ١٥ درجة غرب خط جرينيتش
()	١٥. تساعدنا دوائر العرض على معرفة التوقيت

السؤال الثالث : ضع الكلمات الموجودة في الجدول التالي في الفراغ المناسب

١٠

متساوية	الامن	التزام الانظمة	التعليم	المتحف
هيئة الزكاة والضريبة والجمارك	خط جرينيتش	تعزيز انتماء المواطنين	٣٦٠	السكان

١. تتصف خطوط الطول بأنها

٢. عدد خطوط الطول

٣. الخط الرئيسي لخطوط الطول هو

٤. الأمانة تحقق للوطن.

٥. من واجبات المواطن

٦. من حقوق المواطن

٧. تعرض فيه المقتنيات التاريخية.

٨. تتولى تحصيل الضرائب

٩. من فوائد المشاركة في المجتمع

١٠. هم المواطنون والمقيمون في الوطن من ذكور واناث

انتهت الأسئلة
دعواتي لكم بالتوفيق

المادة: الدراسات الاجتماعية
الصف: السادس الابتدائي
الزمن: ساعه ونصف
عدد الأوراق: ٤
عدد الأسئلة: ٣



المملكة العربية السعودية
وزارة التعليم
الإدارة العامة للتعليم بالقصيم
ابتدائية المحيلاني

بسم الله الرحمن الرحيم

أسئلة اختبار مادة الدراسات الاجتماعية الصف السادس الابتدائي

للعام الدراسي

الفصل الدراسي الثالث (الدور الأول)

الاسم :

رقم الجلوس :

المراجعة		المصححة		الدرجة		رقم السؤال
التوقيع	الاسم	التوقيع	الاسم	كتابة	رقمًا	
نموذج الإجابة						الـ
نموذج الإجابة						الـ
نموذج الإجابة						الـ
نموذج الإجابة						الـ
نموذج الإجابة						المجموع
نموذج الإجابة						٤٠

التوقيع :

جمعه :

التوقيع :

راجعه :

السؤال الأول : ضع دائرة حول الحرف الذي يمثل الاجابة الصحيحة فيما يلي

١٥

1. ضريبة القيمة المضافة في المملكة العربية السعودية

أ 10% ب 15% ج 20% د 25%

2. هي الأماكن التي تعرض فيها الآثار وقصصها التاريخية

أ المستشفيات ب المتاحف ج المدارس د البيوت

3. من اهم الأمثلة لآعمال التنقيب الاثري في وطني

أ تبوك ب الفاو ج حائل د عرعر

4. من أنواع الصدق في القول

أ الغش والتزوير ب تجنب الكذب والمبالغة ج اتقان العمل د الامانة

5. الجهة التي تتولى تحصيل الضرائب في وطني

أ وزارة التعليم ب هيئة الزكاة والجمارك ج وزارة الثقافة د وزارة الصحة

6. العلم الذي يعنى بالمواقع التاريخية

أ الطب ب الهندسة ج الآثار د الفلك

7. ينتقل الناس من البلدات الصغيرة للإقامة في المدن الكبيرة بسبب

أ الوظائف ب الزراعة ج الرعي د الصناعة

8. توزيع السكان في جميع مناطق وطني

أ متساوي ب متغير باستمرار ج متفاوت د منتظم

9. اكثر فئة من السكان في وطني

أ صغار السن ب متوسطو السن ج كبار السن د الاطفال

10. واجبنا تجاه موظف الإحصاء وتعداد السكان هو

أ عدم الإجابة عن الاسئلة ب التعاون معه وتزويده بالمعلومات ج اعطاؤه إجابات غير صحيحة د تجنب التعاون معه

11. من فوائد المشاركة في المجتمع

أ دعم المحتاجين ب عدم الانتماء للوطن ج عدم الثقة د عدم تحمل المسؤولية

12. هو حصر شامل لكل الافراد في الوطن

أ التعداد السكاني ب المشاركة المجتمعية ج المواطنة د الضرائب

13. عدد خطوط الطول

أ 360 ب 180 ج 90 د 30

14. خط الطول الرئيسي ودرجته صفر

أ الاستواء ب جرينتش ج الجدي د السرطان

15. عدد دوائر العرض

أ 180 ب 360 ج 90 د 30

السؤال الثاني : ضع علامة ✓ أما العبارة الصحيحة و علامة × أما العبارة الخاطئة

١٥

(✓)	١. الآثار هي سجل حضاري مهم للوطن لأنها تعبر عن امتداد تاريخ الوطن وتراثه
(✓)	٢. من صور الأمانة المحافظة على اسرار الناس
(✓)	٣. من واجبات المواطن التزام الأنظمة والقوانين
(✓)	٤. المواطن المسؤول هو الانسان ذو الخلق الحميد الملتزم بتعاليم دينه
(✓)	٥. كان الرسول صلى الله عليه وسلم يلقب بالصادق الامين
(×)	٦. غياب الصدق والامانه يؤدي الى الاستقرار والامن
(✓)	٧. اهمال الأمانة يقود الى عقاب في الدنيا وعقاب في الآخرة
(✓)	٨. خيانة الوطن مخالفة للامانة
(×)	٩. ضريبة القيمة المضافة في وطني ٢٥%
(✓)	10. عندما اجد اثار قديمة ابليج الجهات المختصة عنها
(✓)	١١. التعليم والصحة من حقوق المواطن
(✓)	١٢. يقطع خط جرينيتش الكرة الأرضية من الشمال الى الجنوب
(×)	١٣. خطوط الطول هي دوائر كاملة
(✓)	١٤. ينقص التوقيت ساعة واحدة كلما ابتعدنا ١٥ درجة غرب خط جرينيتش
(×)	١٥. تساعدنا دوائر العرض على معرفة التوقيت

السؤال الثالث : ضع الكلمات الموجودة في الجدول التالي في الفراغ المناسب

١٠

متساوية	الامن	التزام الانظمة	التعليم	المتحف
هيئة الزكاة والضريبة والجمارك	خط جرينيتش	تعزيز انتماء المواطنين	٣٦٠	السكان

١. تتصف خطوط الطول بأنها...**متساوية**.....

٢. عدد خطوط الطول**٣٦٠**.....

٣. الخط الرئيسي لخطوط الطول هو **خط جرينيتش**.....

٤. الأمانة تحقق **الامن**..... للوطن.

٥. من واجبات المواطن **التزام الانظمة**.....

٦. من حقوق المواطن **التعليم**.....

٧. **المتحف**..... تعرض فيه المقتنيات التاريخية.

٨. تتولى تحصيل الضرائب **هيئة الزكاة والضريبة والدخل**.....

٩. من فوائد المشاركة في المجتمع **تعزيز انتماء المواطنين**.....

١٠. هم المواطنون والمقيمون في الوطن من ذكور واناث **السكان**.....

انتهت الأسئلة
دعواتي لكم بالتوفيق

اختبار الفصل الدراسي الثالث (الدور الأول) لعام ١٤٤٥هـ

أسم الطالب :

اسم المراجع	اسم المصحح	الدرجة كتابة	الدرجة رقماً	س ٢	س ١
التوقيع	التوقيع	أربعون درجة فقط	٤٠	٢٠	٢٠

السؤال الأول: ضع علامة (√) أمام العبارة الصحيحة وعلامة (X) أمام العبارة الخاطئة :

م	العبارة	الإجابة
١	المواطن المسؤول هو: ذو الخلق الحميد، الملتزم بتعاليم دينه السمحة، والمنتمي لوطنه.	
٢	عالم الآثار يحلل المعلومات، ويربطها بالامتداد التاريخي.	
٣	يستفاد من الآثار أنها مورد سياحي للوطن	
٤	للضرائب وظائف عدة منها: اقتصادية، ومالية، واجتماعية.	
٥	خطوط الطول وهمية ترسم على الخرائط ومجسمات الكرة الأرضية	
٦	الأمانة هي قول الحقيقة دون تغيير، وفعل ما هو صحيح.	
٧	المحافظة على الممتلكات العامة، والخاصة من أبرز حقوق المواطن.	
٨	شهد وطني المملكة العربية السعودية حضارة واحدة فقط	
٩	السكان هم المواطنون في الوطن من ذكور وإناث	
١٠	يجرى التعداد السكاني لتحديد عدد السكان	

السؤال الثاني: اختر الإجابة الصحيحة:

٢٠

١	أ	الزكاة، والدخل	ب	الترفية	ج	السياحة
الجهة التي تتولى تحصيل الضرائب، ومتابعتها في وطني هي الهيئة العامة لـ.....						
٢	أ	المواطنة	ب	الحقوق	ج	الواجبات
انتماء الإنسان إلى وطنه على أسس من القيم، والأخلاق، والمبادئ						
٣	أ	الصدق	ب	الكذب	ج	الإشاعة
قول الحقيقة دون تغيير، وفعل ما هو صحيح						
٤	أ	عالم الآثار	ب	عالم التاريخ	ج	عالم الجغرافيا
المعلومات و يربطها بالامتداد التاريخي						
٥	أ	الفاو	ب	الرَبْدَة	ج	جُرْش
من أمثلة أعمال التنقيب الأثري في وطني وتقع في وادي الدَّوَّاسِر						
٦	أ	الجدى	ب	الاستواء	ج	جرينتش
خط الطول الرئيس هو خط						
٧	أ	معرفة الظواهر الفلكية	ب	تحديد المناخ	ج	تحديد التوقيت
تمكنا خطوط الطول من						
٨	أ	٢٦	ب	٢٥	ج	٢٤
قسم الوقت حسب المناطق الزمنية إلى منطقة زمنية						
٩	أ	٣٨٠	ب	٣٧٠	ج	٣٦٠
يبلغ عدد خطوط الطول						
١٠	أ	معتدل	ب	بارد صيفاً ترتفع فيه الرطوبة	ج	حار صيفاً بارد شتاءً شديد الجفاف
مناخ الربع الخالي						

انتهت الأسئلة ،،،، مع تمنياتي لكم بالتوفيق والنجاح ،،،، معلم المادة /

اختبار الفصل الدراسي الثالث (الدور الأول) لعام ١٤٤٥هـ

نهوذج الإجابة

س ١	٢٠	٢٠	٤٠	أربعون درجة فقط	التوقيع	التوقيع	التوقيع

السؤال الأول: ضع علامة (√) أمام العبارة الصحيحة وعلامة (X) أمام العبارة الخاطئة :

م	العبارة	الإجابة
١	المواطن المسؤول هو: ذو الخلق الحميد، الملتزم بتعاليم دينه السمحة، والمنتمي لوطنه.	<input checked="" type="checkbox"/>
٢	عالم الآثار يحلل المعلومات، ويربطها بالامتداد التاريخي.	<input checked="" type="checkbox"/>
٣	يستفاد من الآثار أنها مورد سياحي للوطن	<input checked="" type="checkbox"/>
٤	للضرائب وظائف عدة منها: اقتصادية، ومالية، واجتماعية.	<input checked="" type="checkbox"/>
٥	خطوط الطول وهمية ترسم على الخرائط ومجسمات الكرة الأرضية	<input checked="" type="checkbox"/>
٦	الأمانة هي قول الحقيقة دون تغيير، وفعل ما هو صحيح.	<input checked="" type="checkbox"/>
٧	المحافظة على الممتلكات العامة، والخاصة من أبرز حقوق المواطن.	<input checked="" type="checkbox"/>
٨	شهد وطني المملكة العربية السعودية حضارة واحدة فقط	<input checked="" type="checkbox"/>
٩	السكان هم المواطنون في الوطن من ذكور وإناث	<input checked="" type="checkbox"/>
١٠	يجرى التعداد السكاني لتحديد عدد السكان	<input checked="" type="checkbox"/>

السؤال الثاني: اختر الاجابة الصحيحة:

٢٠

الجهة التي تتولى تحصيل الضرائب، ومتابعتها في وطني هي الهيئة العامة لـ.....			
أ	ب	ج	د
<u>الزكاة، والدخل</u>	الترفيه	السياحة	
انتماء الإنسان إلى وطنه على أسس من القيم، والأخلاق، والمبادئ			
أ	ب	ج	د
<u>المواطنة</u>	الحقوق	الواجبات	
قول الحقيقة دون تغيير، وفعل ما هو صحيح			
أ	ب	ج	د
<u>الصدق</u>	الكذب	الإشاعة	
المعلومات و يربطها بالامتداد التاريخي			
أ	ب	ج	د
<u>عالم الآثار</u>	عالم التاريخ	عالم الجغرافيا	
من أمثلة أعمال التنقيب الأثري في وطني وتقع في وادي الدواسر			
أ	ب	ج	د
<u>الفاو</u>	الرَبْدَة	جُرْش	
خط الطول الرئيس هو خط			
أ	ب	ج	د
الجدى	الاستواء	<u>جرينتش</u>	
تمكنا خطوط الطول من			
أ	ب	ج	د
معرفة الظواهر الفلكية	تحديد المناخ	<u>تحديد التوقيت</u>	
قسم الوقت حسب المناطق الزمنية إلى منطقة زمنية			
أ	ب	ج	د
٢٦	٢٥	<u>٢٤</u>	
يبلغ عدد خطوط الطول			
أ	ب	ج	د
٣٨٠	٣٧٠	<u>٣٦٠</u>	
مناخ الربع الخالي			
أ	ب	ج	د
معتدل	بارد صيفاً ترتفع فيه الرطوبة	<u>حار صيفاً بارد شتاءً شديد الجفاف</u>	

انتهت الأسئلة ،،،، مع تمنياتي لكم بالتوفيق والنجاح ،،،، معلم المادة /