

المادة	الدراسات الاجتماعية	الصف	ثالث متوسط	الشعبة	١	٢	بالعلم تجذب العقول وبالأخلاق تجذب القلوب
اسم الطالبة							المعلمة
 							

السؤال الأول : أ / اكتب اسم المصطلح المناسب للمفاهيم التالية .		
١	هي الأشكال السطحية التي تتكون منها القشرة الأرضية من جبال وهضاب وسهول وغيرها .	التضاريس
٢	شكل بياني يساعد على فهم تركيبة السكان النوعي والعمري .	الهرم السكاني
٣	طفوح بازلتية تكونت من حمم الصخور البركانية المنصهرة .	الحرث
٤	تقسيم السكان إلى فئات وفق أعمارهم وبيان نسبة كل فئة عمرية إلى إجمالي عدد السكان .	التركيب العمري
٥	مجموعة من البشر المستقرين في مكان محدد وزمن معين .	السكان
٦	هي الفرق بين عدد المواليد والوفيات في مدة زمنية محددة وتحسب لكل ألف من السكان .	الزيادة الطبيعية
٧	هو الفرق بين قيمة صادرات الدولة وقيمة وارداتها .	الميزان التجاري
ب / قارني بين المياه السطحية والمياه الجوفية		
	المياه السطحية	المياه الجوفية
التعريف	هي المياه الجارية على سطح الأرض أو تجمعت في طبقات قريبة من سطح الأرض وقد حال دون انحدارها إلى أسفل وجود طبق غي مسامية .	هي المياه التي تجمعت في باطن الأرض منذ القديمة وتسررت هذه المياه الصخور المسامية واستمرت في تسربها حتى واجهت طبقة غير مسامية عملت لخزنها
كيفية الحصول عليها	عن طريق حفر الإنسان الآبار .	بالمضخات
أمثلة عليها	تهامة عسير .	طبقة الوجد / طبقة الدمام
ب / قارني بين أنماط السكان في المملكة العربية السعودية:		
من حيث	سكان المدن	سكان الريف
العدد	اعداد كبيرة وفي تزايد مستمر بسبب بزوح أهالي القرى المستمر والريف اليهم .	اعداد قليلة بسبب الهجرة الى المدن .
العمل	يعملون بالوظائف ومختلف الأنشطة الاقتصادية مثل التجارة الصناعة الزراعة العمل في الشركات	يعملون بالزراعة وصيد الأسماك و الرعي وتربية الحيوانات
سبب النزوح	لجودو فرص العمل و الرفاهية وتوفر الخدمات الصحية والاجتماعية والاقتصادية وغيرها من الخدمات .	قلة وجود فرص العمل وعدم تو فر الخدمات الجيدة وقلّة وسائل الترفيه
ج / قارني بين الساحل الشرقي والساحل الغربي في وطنك المملكة العربية السعودية كما هو مطلوب بالجدول :		
من حيث	الساحل الشرقي	الساحل الغربي
الموقع	يقع على ساحل الخليج	يقع على ساحل البحر الأحمر
الامتداد	يمتد من حدودها من دولة الكويت شمالاً , حتي حدودها مع دولة قطر .	يمتد من الشمال الى الجنوب حيث ينحصر بين البحر الأحمر والمرتفعات الغربية المجاورة له .
الطول	طوله مع تعاريجه أكثر من ١٠٠٠ كليو متر	طوله بتعاريجه القليلة ٢٤٠٠ كم
الطبيعة الجغرافية	١ - سهل منبسط قليل الارتفاع ٢- تغطية الرمال ٣- يخلو من الأودية ٤- بالقرب منه بعض الجزر تغمرها المياه ٥ - يخترن ثروة بلادي من النفط	١- يختلف اتساعه من مكان الى آخر ٢- تقطعه الأودية من الشرق الى الغرب ٣- يوجد بالقرب منه العديد من الجزر أهمها جزيرة فرسان .

**السؤال الثاني : أ / أكمل الفراغات التالية بما يناسبها من حقائق ومعلومات :**

١	تحتل المملكة العربية السعودية من حيث عدد السكان في الجزيرة العربية الترتيب <b>الأول</b> .
٢	تعتبر <b>حرة رهاط</b> أكبر حرات المملكة مساحة .
٣	من التكوينات الرملية في وطني <b>الربع الخالي و صحراء النفود و صحراء الدهناء</b> .
٤	ترتيب وطني عالمياً في مجال تحلية المياه هو المركز <b>الأول</b> .
٥	تقل الكثافة السكانية في المناطق <b>الصحراوية والجبلية الوعرة</b>
٦	أطول دولة لها حدود برية مع المملكة العربية السعودية جنوباً هي <b>الجمهورية اليمنية</b>
٧	يعرف السهل الساحلي على البحر الأحمر للمملكة العربية السعودية <b>بسهل تهامة</b> .
٨	يعرف السهل الساحلي على الخليج العربي للمملكة العربية السعودية <b>بسهل الأحساء</b> .
٩	يعد الغاز مادة أساسية في كثير من الصناعات <b>البتروكيميائية</b> .
١٠	تنقسم موارد المياه في وطني المملكة العربية السعودية إلى المياه السطحية والجوفية ومياه البحر المحلاة والصرف الصحي
١١	من مقومات السياحة في وطني أنها قبلة المسلمين وقلب العالم الإسلامي والشعب المضياف والتراث الحضاري العريق الاقتصاد <b>الكبير العالمي</b>
١٢	تهطل الأمطار في المملكة العربية السعودية بقلّة ما عدا في <b>جنوبها الغربي</b> .

ب / حددي على الخريطة كما هو مطلوب امامك



١	<b>الحدود الشمالية ؟</b> الكويت – العراق – الأردن
٢	<b>المرتفعات الغربية بمسمياتها الثلاثة ؟</b> جبال مدين شمالاً – بالوسط جبل الحجاز – بالجنوب جبال السروات
٣	<b>المسطحات المائية ؟</b> البحر الأحمر – الخليج العربي
٤	<b>أكبر هضبة في المملكة العربية السعودية ؟</b> هضبة نجد
٥	<b>اسم الوادي الذي يقع في منطقة الرياض ويسمى ( العارض قديماً ) ؟</b> وادي حنيفة
٦	صحراء الربع الخالي و الدهناء و صحراء النفود الكبير .
٧	وادي الرمة ( الباطن ) وادي السرحان
٨	حرة رهاط

**ج / برأيك كيف يسهم تعداد السكان في تلبية الاحتياجات الناس ؟**

لأن الدول تعتمد على التعداد السكاني لفهم المجتمع وحل مشكلاته والتخطيط لتطوره وتقديمه .

**ج / برأيك ما أثر تنوع التضاريس في تنوع المناخ في وطنك المملكة العربية السعودية؟**

بسبب تنوع التضاريس من جبال وهضاب وتلال وسهول وأودية وصحاري رملية أدى الى تنوع المناخ واختلافه ففي الجبال معتدل صيفا وشديد البرودة شتاءً وفي الصحاري حار صيفا بارد شتاءً والأمطار قليلة جدا ويختلف المناخ من منطقة لأخرى في وطني .

**ج / برأيك ما هو المناخ السائد في الجنوب الغربي من المملكة العربية السعودية بصفة عامة ؟**

معتدل صيفا , بارد شتاءً , والأمطار طول العام

السؤال الثالث : أ / علي لما يأتي :

١ هجرة سكان الريف إلى المدن ؟  
بحثنا عن فرص العمل وتوفير الخدمات كالمواصلات والمستشفيات والدوائر الحكومية .

٢ انتشار الغطاء النباتي الأخضر في جبال فيفا بجازان ؟  
بسبب مناخها المعتدل وتساقط الأمطار طول العام .

٣ العناية بتأهل الكوادر الوطنية وتدريبها في مختلف القطاعات ؟  
لرفع الكفاءة وتحسين الإنتاجية

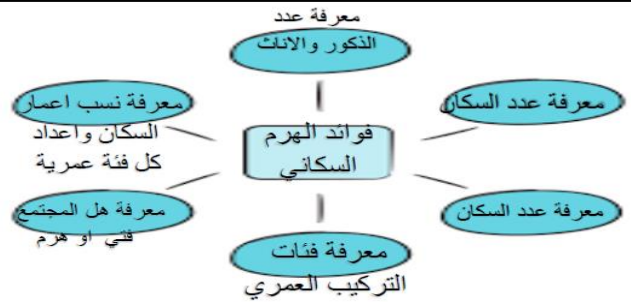
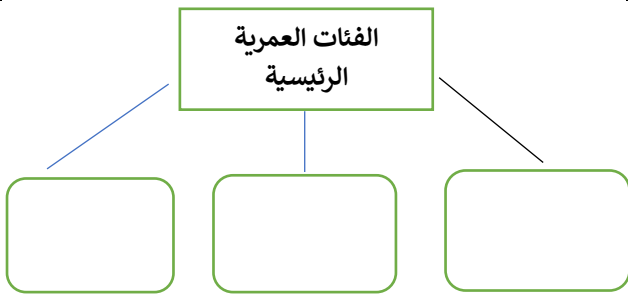
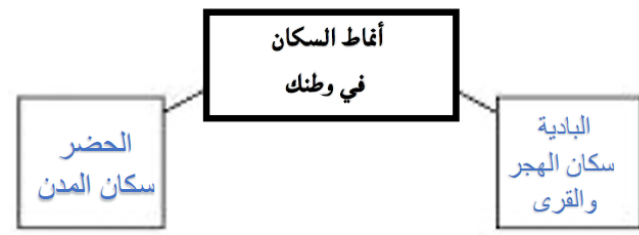
٤ إنشاء حكومة وطني محطات تحلية مياه البحر ؟  
لقله الموارد المائية من أمطار وأنهار وشد الطلب المتزايد على المياه العذبة والنمو السكاني

٥ خلو السهل الساحلي للخليج العربي من الأودية ؟  
لأنه يتسم بانبساطه وقلة ارتفاعه عن مستوي سطح البحر وتغطي الرمال أجزاء كبيرة منه .

٦ قاعدة الهرم عريضة (في الفئة العمرية من صفر إلى أربع سنوات ) عريضة ؟  
بسبب زيادة النمو السكاني والذي يرجع لتقدم الرعاية الصحية - وبذلك تكون الدولة فتية.

٧ النقص في قمة الهرم ؟  
بسبب ازدياد العمر حيث تمثل ٨٠ سنة فأكثر وهذا يدل ان الدولة هرمه أي عجوزة

٨ معظم صادرات وطني مواد خام (نفطية ) ؟  
لتوفر مواد الخام بكميات كبيرة إذ تعتبر المملكة من أكبر التي لديها احتياطي من المواد الخام النفطية .



ج / اختاري الرقم المناسب من المجموعة ( الأولى ) مع ما يناسبها من المجموعة ( الثانية ) ؟

المجموعة ( الأولى )	الرقم المناسب	المجموعة ( الثانية )	٤
١ يقل عدد السكان في المناطق الجبلية بسبب .	٤	التركيب النوعي	
٢ يمر بوسط المملكة العربية السعودية .	٢	مدار السرطان	
٣ كان النمو السكاني في وطني في الماضي بطيئاً بسبب.	٥	التركيب العمري	
٤ تقسيم السكان إلى ذكور وإناث .	١	وعورة التضاريس	
٥ تقسيم السكان حسب الفئات العمرية .	٣	قلة الموارد والهجرة للخارج وانعدام الصحة	
٦ تقع المملكة العربية السعودية في الجزء الجنوبي الغربي	٧	من قارة آسيا	
٧		مدار الجدي	

السؤال الرابع : أ / -:- ضعي كلمة صح امام العبارة الصحيحة وخطأ امام العبارة الخاطئة .

صح	١	استعمالي للمياه باعتدال يضمن استمرارها وتدفعها بإذن الله .
خطأ	٢	تهطل الامطار في المملكة العربية السعودية بقللة ماعدا شمالها الشرقي .
صح	٣	تقل الكثافة السكانية في المناطق الصحراوية والوعرة .
صح	٤	يقصد بالكثبان الرملية الصحاري .
صح	٥	أعلى قمة في وطني جبال السودة بالقرب من أبها .
صح	٦	يقع وطني المملكة العربية السعودية اقصى الجنوبي الغربي من قارة آسيا .
خطأ	٧	السهل الساحلي الغربي يخلو من الأودية .
صح	٨	السهل الساحلي الغربي أطول من السهل الساحلي الشرقي .
صح	٩	التوعية في وسائل الإعلام ضرورة في الحث على المحافظة على الموارد .
خطأ	١٠	من النتائج السلبية للزوح للريف الاهتمام بالأراضي الزراعية وزيادة الإنتاج الزراعي وقللة البطالة .
خطأ	١١	التركيب العمري للسكان هو تقسيمهم وتوزيعهم الى ذكور واناث.
صح	١٢	تعتبر حرة رهاط أكبر حرات المملكة مساحة.
صح	١٣	الموقع الفلكي هو الموقع بالنسبة لخطوط الطول ودوائر العرض .
خطأ	١٤	يتدرج سطح وطني في الارتفاع كلما اتجهنا ناحية الشرق .
خطأ	١٥	المحافظة على الموارد تكون بكثرة استغلالها .
صح	١٦	تمتد صحراء الدهناء على شكل قوس في الجهة الشمالية والشرقية من وطني .
صح	١٧	تقل المجاري المائية الموسمية في الجزء الجنوبي من المنطقة الشرقية
صح	١٨	من أشهر وديان وطني المملكة العربية السعودية وادي الرُّمَّة.
صح	١٩	تهب الرياح القارية الجافة على المملكة في فصل الصيف.
صح	٢٠	يوجد الغاز أحياناً في حقول مستقلة عن النفط.

وضحي النتائج الإيجابية والسلبية لنزوح وهجرة السكان من الريف ( القرى ) الى المدن ( نتيجة واحدة )

نتائج سلبية	نتائج إيجابية	نزوح السكان من الريف ( القرى ) الى المدن
-------------	---------------	--

من خلال دراستك عزيزتي الطالبة لأشكال التضاريس في وطننا ضعي عنوانا مناسباً للصور الموجودة ادناه مستعينة بالشكل المجاور

		هضبة الصمان
جبال السروات	صحراء الربع الخالي	جبال السروات
		صحراء الربع الخالي
هضبة الصمان	حرة الحرة	حرة الحرة

السؤال الخامس :- اختاري الإجابة الصحيحة فيما يلي .

١ / تحتل المملكة العربية السعودية في الاحتياطي العالمي للنفط المركز .

أ	الأول	ب	الثاني	ج	الثالث	د	الرابع
---	-------	---	--------	---	--------	---	--------

٢ / تستعمل مياه الصرف الصحي بعد معالجتها في .

أ	صناعة الأغذية	ب	ري الحدائق والمنتزهات	ج	مياه الشرب	د	جميع مما ذكر
---	---------------	---	-----------------------	---	------------	---	--------------

٣ / الوادي الذي يمتد من مدينة عمان حتى مدينة الجوف هو وادي .

أ	الرمة	ب	الدواسر	ج	السرхан	د	فاطمة
---	-------	---	---------	---	---------	---	-------

٤ / من الصناعات الأساسية في المملكة .

أ	صناعة العطور	ب	صناعة الملابس	ج	الصناعات الورقية	د	تكرير النفط
---	--------------	---	---------------	---	------------------	---	-------------

٥ / المياه التي تجمعت قديماً في باطن الأرض كونت .

أ	أودية	ب	شعبان	ج	عيون	د	طبقات
---	-------	---	-------	---	------	---	-------

٦ / يتركز معدن الفوسفات في منطقة .

أ	حزم الجلاميد	ب	رابغ	ج	الربع الخالي	د	مهد الذهب
---	--------------	---	------	---	--------------	---	-----------

٧ / وسيلة لقياس توزيع السكان في الدولة أو المنطقة .

أ	الزيادة الطبيعية	ب	الكثافة السكانية	ج	التركيب العمري	د	التركيب النوعي
---	------------------	---	------------------	---	----------------	---	----------------

٨ / الهرم السكاني .

أ	شكل نصي	ب	شكل طبيعي	ج	شكل فوتوغرافي	د	شكل بياني
---	---------	---	-----------	---	---------------	---	-----------

٩ / يسمى القسم الجنوبي من المرتفعات الغربية .

أ	جبال مدين	ب	جبال الحجاز	ج	جبال السروات	د	جبال طويق
---	-----------	---	-------------	---	--------------	---	-----------

١٠ / من مقومات الصناعة المتوفرة في المملكة .

أ	رأس المال	ب	الأسواق	ج	المواد الخام	د	جميع ما سبق
---	-----------	---	---------	---	--------------	---	-------------

١١ / هي الأشكال السطحية التي تتكون منها القشرة الأرضية .

أ	التضاريس	ب	المناخ	ج	الرياح	د	ليس مما ذكر
---	----------	---	--------	---	--------	---	-------------

١٢ / ترتيب وطني عالمياً في مجال تحلية المياه هو المركز .

أ	الأول	ب	الثاني	ج	الثالث	د	الرابع
---	-------	---	--------	---	--------	---	--------

١٣ / بتدرج سطح المملكة العربية السعودية في الارتفاع باتجاه .

أ	الغرب	ب	الشمال	ج	الشرق	د	الجنوب
١٤ / هي هضبة تقع وسط المملكة العربية السعودية وهي الأكبر مساحة .							
أ	الصمان	ب	حسمي	ج		د	الحماده
١٥ / تسقط الأمطار على وطني في فصل.							
أ	الشتاء	ب	الصيف	ج	الخريف	د	الربيع
١٦ / معدل الزيادة الطبيعية سنوياً لكل ألف من سكان وطني .							
أ	٢٥ ألف	ب	٢٤ ألف	ج	٢٠ ألف	د	١٥ ألف
١٧ / ترتيب وطني عالمياً في مجال تصدير النفط هو المركز .							
أ	الأول	ب	الثاني	ج	الثالث	د	الرابع
١٨ / الفئة العمرية من ١٥ - ٦٤ سنة هم.							
أ	صغار السن	ب	الشباب	ج	كبار السن	د	الشيخوخ
١٩ / أكبر أودية المملكة وأكثرها طولاً وادي.							
أ	الرمة	ب	فاطمة	ج	السرطان	د	الدواسر
٢٠ / العين التي أوقفها الملك عبد العزيز لسقيا سكان جدة.							
أ	الأفلاج	ب	الطائف	ج	العزيزية	د	زبيدة
٢١ / من المدن التي أنشئت بها محطات تحلية مياه البحر الأحمر .							
أ	الجبيل	ب	القطيف	ج	الدمام	ب	ينبع
٢٢ / من الصناعات التحويلية وطني المملكة العربية السعودية .							
أ	مواد البناء	ب	البتروكيماويات	ج	تكرير النفط	د	الحديد
٢٣ / من واردات وطني المملكة العربية السعودية .							
أ	المنتجات الحيوانية	ب	الحديد	ج	الحديد	د	تكرير النفط
٢٤ / يتمتع وطني بالعديد من مقومات السياحة منها							
أ	المصانع	ب	مناطق ساحلية	ج	النفط	د	مصادر الطاقة
٢٥ / من العناية بالموارد المائية .							
أ	استصلاح الأراضي	ب	تقديم القروض	ج	إقامة السدود	د	إنشاء المزارع

السؤال السادس :- عددي ثلاثة مما يأتي .

أهمية السياحة في وطني المملكة العربية السعودية ؟

- ١
- ٢
- ٣

مقومات الصناعة في المملكة العربية السعودية ؟

- ١
- ٢
- ٣

أكثر المناطق الإدارية كثافة سكانية في المملكة العربية السعودية ؟

أساليب محافظة الأفراد على الموارد الوطنية ؟

- ١
- ٢
- ٣

خصائص الموقع الجغرافي للمملكة العربية السعودية ؟

- ١
- ٢
- ٣

### فئات العمر الرئيسية

كبار السن ( الشيخوخة )

متوسطو السن ( الشباب )

صغار السن

من ٦٥ سنة فأكثر .

من ١٥ إلى ٦٤ سنة ..

أقل من ١٥ سنة

صحي العبارة الخاطئة التي تحتها خط فيما يأتي :

الحارة	تقع المملكة العربية السعودية في العروض المدارية <u>الباردة</u> .	١
عالية	المدن الكبرى تمتاز بكثافة سكانية <u>قليلة</u> .	٢
نحو الغرب	يتدرج سطح المملكة العربية السعودية في الارتفاع كلما اتجهنا <u>نحو الشمال</u> .	٣
هضبة نجد	هضبة <u>الحمادة</u> في وسط المملكة العربية السعودية .	٤
صحراء الدهناء	صحراء تمتد على شكل قوس في الجهة الشمالية الشرقية من وطني هي صحراء <u>الريح الخالي</u>	٥
الغربية الجنوبية	تسقط الامطار في جميع فصول السنة في المملكة فقط <u>على المناطق الوسطى</u> .	٦
الهرم السكاني	<u>التركيب السكاني</u> شكل بياني يساعد على فهم تركيب السكان النوعي والعمري .	٧
حرة رهاط	تعتبر <u>حرة كشب</u> أكبر حرات المملكة مساحة .	٨
تهامة عسير	من أغنى الجهات في وطني بالمياه السطحية <u>المنطقة الشمالية</u>	٩

انتهت الأسئلة

معلمة المادة :