
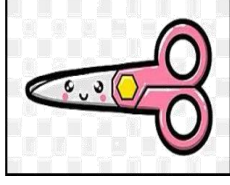


التاريخ:	 وزارة التعليم Ministry of Education	المملكة العربية السعودية
المادة: العلوم		وزارة التعليم
الصف: الأول الابتدائي		الإدارة العامة للتعليم بمنطقة
اسم الطالب/ة..... الفصل/.....		

تقويم ختامي لمهارات علوم الصف الأول – (الفصل الدراسي الثاني) عام ١٤٤٤

السؤال الأول: نضع علامة (صح) تحت الموارد الطبيعية الحية:



السؤال الثاني: نصل كل كلمة بالصورة المناسبة:



الترشيد

صلب

موارد الارض



مخلوط

غاز

السؤال الثالث: نحدد الصورة التي تشير الى تلوث الهواء والماء والتربة:



السؤال الرابع: نكتب تحت كل صورة حالة المادة (صلب , سائل , غاز):



.....
.....

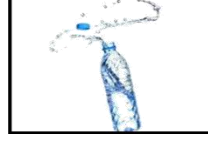
.....
.....

.....
.....


السؤال الخامس: نصل كل صورة من صور المواد بخصائصها:



سوائل تنساب بسرعة

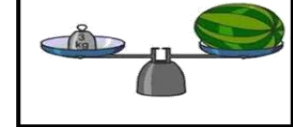


خفيف

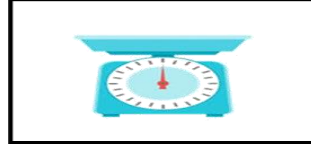


مصنوع من معدن

السؤال السادس: ١_ نستخدم لقياس طول الأشياء الصلبة:

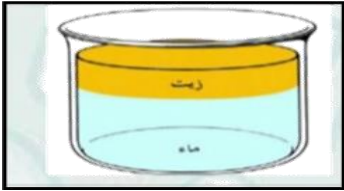


٢_ يمكن قياس كمية السائل ب.....؟



السؤال السابع:

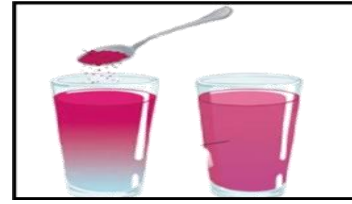
١_ أيهما مخلوط صلب:



.....



.....



.....



.....

٢_ نحدد طريقة فصل المخلوط (المغناطيس ، الطفو):

(.....)



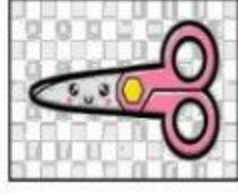
بالتوفيق يا صغاري


سكره الشمري

التاريخ:	 وزارة التعليم Ministry of Education	المملكة العربية السعودية
المادة: العلوم		وزارة التعليم
الصف: الأول الابتدائي		الإدارة العامة للتعليم بمنطقة
اسم الطالب/ة..... الفصل/.....		


تقويم ختامي لمهارات علوم الصف الأول – (الفصل الدراسي الثاني) عام ١٤٤٤

السؤال الأول: نضع علامة (صح) تحت الموارد الطبيعية الحية:





السؤال الثاني: نصل كل كلمة بالصورة المناسبة:



الترشيد

صلب

موارد الارض

مخلوط


غاز

السؤال الثالث: نحدد الصورة التي تشير الى تلوث الهواء والماء والتربة:





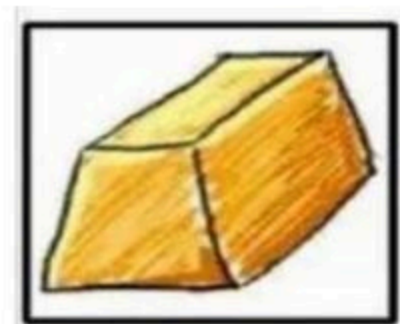
السؤال الرابع: نكتب تحت كل صورة حالة المادة (صلب , سائل , غاز):



سائل




غاز



صلب

السؤال الخامس: نصل كل صورة من صور المواد بخصائصها:



سوائل تنساب بسرعة


خفيف

مصنوع من معدن

السؤال السادس: ١_ نستخدم لقياس طول الأشياء الصلبة:

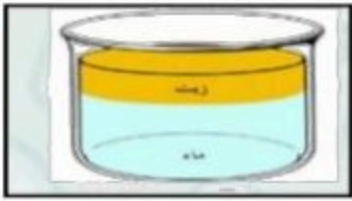


٢_ يمكن قياس كمية السائل ب.....؟



السؤال السابع: ١_ أيهما مخلوط صلب:

السؤال السابع:



.....



صلصال



.....



٢_ نحدد طريقة فصل المخلوط (المغناطيس ، الطفو):

الطفو

(.....)



بالتوفيق يا صغاري

سكره الشمري