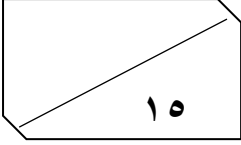


المادة: رياضيات  
الزمن: حصة دراسية



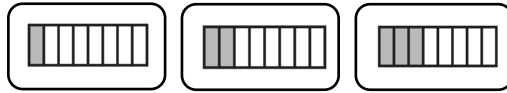
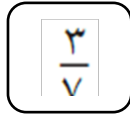
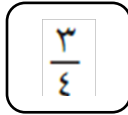
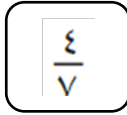
وزارة التعليم  
إدارة تعليم الرياض  
مدرسة عبد الله بن أنيس



اسم الطالب / : ..... الصف الثاني: .....

السؤال الأول: اختر الإجابة الصحيحة وأحوطها :

١ - مَا الْكَسْرُ الَّذِي يُمَثِّلُ عَدَدَ الْمُرَبَّعَاتِ الْمُظَلَّلَةِ؟



٢ - مَا الشَّكْلُ الَّذِي يُمَثِّلُ الْكَسْرَ «تُمْنٌ»؟

٣ - مَعَ مَرِيَمَ وَنَوَالَ فَطِيرَةٌ مِنَ النَّوْعِ نَفْسِهِ وَالْحَجْمُ نَفْسِهِ، إِذَا أَكَلَتْ مَرِيَمٌ نِصْفَ فَطِيرَتِهَا،

متساوين

نوال

مريم

بَيْنَمَا أَكَلَتْ نَوَالَ رُبْعَ فَطِيرَتِهَا، فَأَيُّهُمَا أَكَلَتْ أَكْثَرَ؟

٤ - قَسَمَ الْمُعَلِّمُ الطُّلَّابَ إِلَى مَجْمُوعَاتٍ، فَإِذَا كَانَ فِي كُلِّ مَجْمُوعَةٍ  $\frac{1}{4}$  طُلاَّبٍ

فَالِي كَمْ مَجْمُوعَةٍ قَسَمَ الْمُعَلِّمُ الطُّلَّابَ ؟

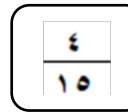
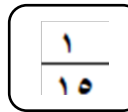
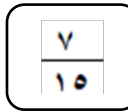
٦

٤

٢

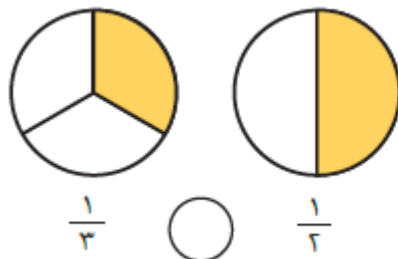
٥ - فِي الْفَصْلِ ١٥ طَالِبًا، غَادَرَ مِنْهُمْ ٤ طُلاَّبٍ، مَا الْكَسْرُ الدَّالُّ عَلَى عَدَدِ

الطُّلاَّبِ الْمُغَادِرِينَ؟



السؤال الثاني:

أَقَارِنْ بَيْنَ الْكَسْرَيْنِ، أَكْتُبْ < أو >:

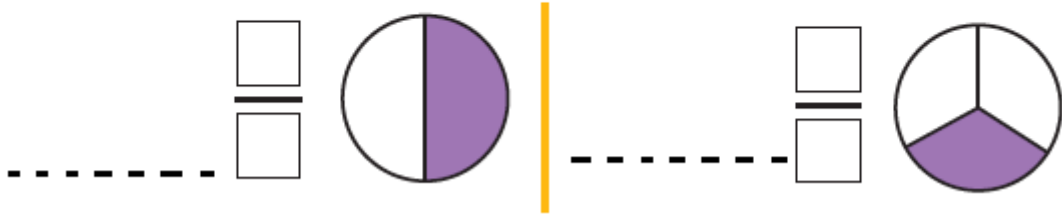


$\frac{1}{8}$  ○  $\frac{1}{4}$



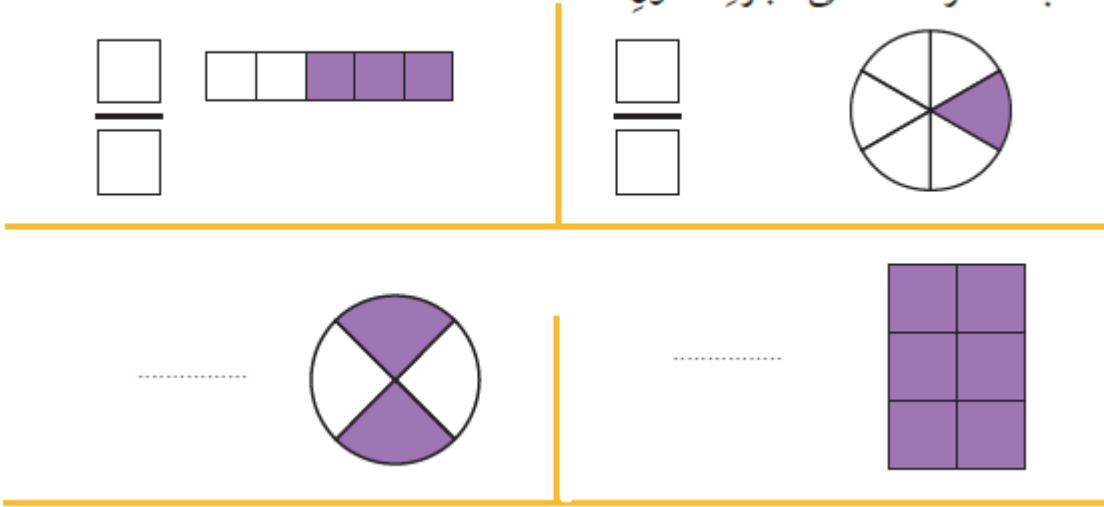
السؤال الثالث:

اكتب الكسر الدال على الجزء الملون، وأقرؤه:



السؤال الرابع:

اكتب الكسر الدال على الجزء الملون:



السؤال الخامس:

اختر خطة، ثم أحل المسألة:



وقفت 7 طيور على شجرة؛ منها 3 صغار، والباقي كبير، فما الكسر الدال على عدد الطيور الكبيرة؟

..... الطيور.

قسم فهد فطيرة إلى 6 أجزاء متطابقة، ثم أكل  $\frac{2}{3}$  الفطيرة،

فكم قطعة بقيت من الفطيرة؟

..... قطع

انتهت الاسئلة

معلمتك / ساره الشامري

