

جميع المنصف

3

كافي

(بدلاً من أن تلعب الظلام أوقد شمعة)

تجميع المنصف (٣)

١- إذا كان $\frac{٩٠ \text{ كلم}}{\text{ساعة}} = \frac{\text{س كلم}}{\text{دقيقة}}$ اوجد قيمة س

(ب) ٦٠

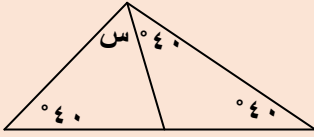
(أ) ١

(د) ١

(ج) ١,٥

٢-

في الشكل المجاور اوجد قيمة س



(ب) ٥٠

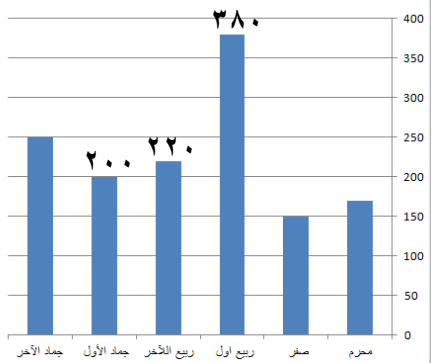
(أ) ٤٠

(د) ٧٠

(ج) ٦٠

٣-

ما الفرق بين مجموع شهر ربيع الاول و الآخر
وشهر جمادي الاول؟



(ب) ٤٠٠

(أ) ٣٠٠

(د) ٥٠٠

(ج) ٣٥٠

٤- اذا كان $ص = س^٢ - ٣$ قارن بين :

القيمة الاولى : قيمة $ص$ عندما $س = ٥$	القيمة الثانية: قيمة $ص$ عندما $س = ٥$
أ) القيمة الاولى أكبر	ب) القيمة الثانية أكبر
ج) القيمتان متساويتان	د) المعطيات غير كافية

٥- عدد اذا ربعته واضفت له مثليه كان الناتج $= ٢٤$
" تم تقفيل هذا السؤال عند طالبة عند مستر ايهاب عبد العظيم "

أ) ٤	ب) ٤-
ج) ٦-	د) ٦

٦- عدد لا يقبل القسمة على ٤ ولكنه يقبل القسمة على ٧

أ) ٣٢٠	ب) ٣٨٤
ج) ٣٨٥	د) ٣٨٣

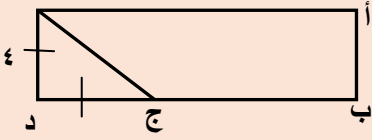
٧- أي مما يلي لا يمكن ان يكون حاصل ضرب عددين متتالين ؟

أ) ٣٠	ب) ٤٢
ج) ٥٦	د) ٦٤

٨- $س^٢ = ص^٢ + ٢٤$ و $س + ص = ٦$ فما قيمة $س - ص$

أ) ٣	ب) ٣-
ج) ٤	د) ٤-

٩- في الشكل المجاور ب ج = ٢ ج د
اوجد مساحة المستطيل

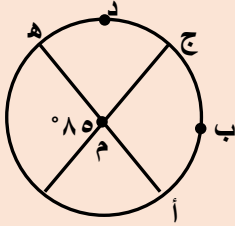


(ب) ٤٨

(أ) ٣٦

(د) ٦٠

(ج) ٢٤



١٠- قارن بين :

القيمة الثانية: طول القوس ج د هـ

القيمة الاولى : طول القوس ج ب أ

(ب) القيمة الثانية أكبر

(أ) القيمة الاولى أكبر

(د) المعطيات غير كافية

(ج) القيمتان متساويتان

$$\begin{array}{r} ٦٥ \\ - ٤٥ \\ \hline ٢٥ \end{array}$$

١١-

(ب) ٢٤-

(أ) ٢٤

(د) ٢٥

(ج) ٢٥-

١٢- سدس عدد صحيح = ثمن عدد صحيح آخر فإن احد هذين العددين؟

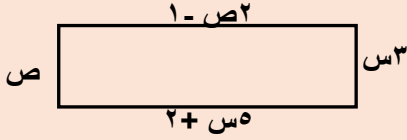
(ب) ٥٠

(أ) ٣٥

(د) ٥٤

(ج) ١٥

١٣- اوجد محيط المستطيل



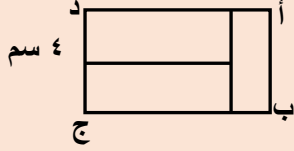
(ب) ٨٤

(أ) ٨٠

(د) ٩٦

(ج) ٥٢

١٤- مستطيل مقسم الى ٣ مستطيلات متطابقة



اوجد نسبة أ ب الى ب ج

(ب) ٢:٣

(أ) ٣:٢

(د) ١:٢

(ج) ١:٢

١٥- خزان وزنه وهو مملوء الى الربع ٢٠٠، اذا كان وزنه اذا ملأناه الى ثلاثة ارباعه ٣٠٠ اوجد وزن الخزان وهو فارغ؟

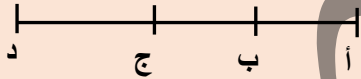
(ب) ٢٠٠

(أ) ١٥٠

(د) ٣٠٠

(ج) ٢٥٠

١٦- اذا كان أ ج = ٢٠ و ب د = ٢٠
و أ د = ٣٠ فما طول ب ج



(ب) ٩

(أ) ٨

(د) ١١

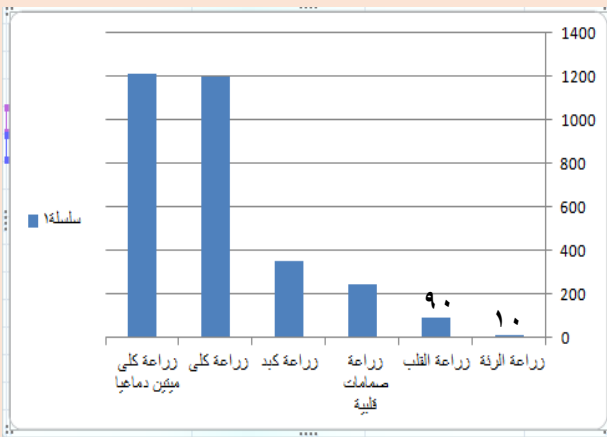
(ج) ١٠

١٧- في تجربة رمي مكعب الارقام قارن بين :

القيمة الاولى : احتمال ظهور عدد فردي	القيمة الثانية : احتمال ظهور عدد اولي
أ) القيمة الاولى أكبر	ب) القيمة الثانية أكبر
ج) القيمتان متساويتان	د) المعطيات غير كافية

١٨- قارن بين :

القيمة الاولى : ١	القيمة الثانية : (٠,١) -١
أ) القيمة الاولى أكبر	ب) القيمة الثانية أكبر
ج) القيمتان متساويتان	د) المعطيات غير كافية



١٩- بالاستعانة بالشكل المجاور اجب عما يأتي:

أ- ما نسبة زراعة الرنة الى مجموع زراعات الرنة والقلب؟

"يجيب الاعداد فوق الاعمدة في الاختبار"
"تم تقفيل السؤال ١٠٠%"

أ) ١٠%	ب) ١٥%
ج) ٢٠%	د) ٣٠%

٢٠- اذا كان تفصيل الثوب يحتاج ٣,٨ متر ولدينا ٣٢ متر من القماش فكم عدد الاثواب التي يمكن تفصيلها ؟

(ب) ٧

(أ) ٦

(د) ٩

(ج) ٨

٢١- اذا كان تفصيل الثوب يحتاج ٣,٥ متر ولدينا ٣٢ متر من القماش فكم عدد الاثواب التي يمكن تفصيلها ؟

(ب) ٧

(أ) ٦

(د) ٩

(ج) ٨

٢٢- اذا كان سعر الثلاثة دقائق الاولى في المكالمة ٣ ريال وسعر الدقيقة او جزء من الدقيقة بعد ذلك ريالين، إذا كانت مدة المكالمة ٣٠ دقيقة ونصف . ما تكلفة المكالمة ؟

(ب) ٦٢

(أ) ٥٩

(د) ٦٥

(ج) ٦٣

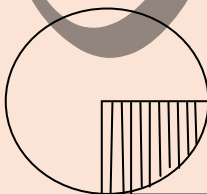
٢٣- اذا كان سعر الثلاثة دقائق الاولى في المكالمة ٣ ريال وسعر الدقيقة او جزء من الدقيقة بعد ذلك ريالين ما تكلفة المكالمة إذا أضفنا ٣٠ دقيقة ونصف ؟

(ب) ٦٢

(أ) ٥٩

(د) ٦٥

(ج) ٦٣



٢٤- اذا كانت مساحة الدائرة = مساحة المستطيل ومساحة الجزء المظلل = ١٠ اوجد مساحة المستطيل

(ب) ٤٠

(أ) ٦٠

(د) ٤٤

(ج) ٣٦

٢٥- قارن بين :

القيمة الاولى : ١	القيمة الثانية : (١,٢) -١
(أ) القيمة الاولى أكبر	ب (القيمة الثانية أكبر
ج) القيمتان متساويتان	د (المعطيات غير كافية

٢٦- س ص = ٨ ، ع- ص = ٣ ، ع٢ = ١٤ ، اوجد س + ص + ع

أ) ١٢	ب) ١٣
ج) ٢٥	د) ١٥

٢٧- اذا كانت هند تصنع الثوب في ١٨ دقيقة ، فكم ثوب تصنع في اول ٤ ساعات ؟

أ) ٢١	ب) ١٩
ج) ١٨	د) ١٣

٢٨- اذا كان نسبة الذكور الى الاناث ٢:٣ وكان عدد الاطفال ٣٥ كم يبلغ عدد الاناث ؟

أ) ٢١	ب) ١٤
ج) ٣٥	د) ١٨

٢٩- اذا كان ٥ مولدات تعمل بكفاءة متساوية تنتج ٦٠٠٠ واط فإذا تعطل أحد المولدات فكم يكون انتاج الطاقة ؟

أ) ٣٢٠٠	ب) ٥٠٠٠
ج) ٤٥٠٠	د) ٤٨٠٠

٣٠- اذا كانت الساعة الآن ٢ مساء كم تكون الساعة بعد ٥١ ساعة ؟

(ب) ٤ مساء

(أ) ٤ صباحا

(د) ٥ مساء

(ج) ٥ صباحا

٣١- اذا كان عمر محمد من مضاعفات ٧ وكان عمره قبل ٤ سنوات من مضاعفات ٦ وعمره لا يتجاوز ٣٠ فكم عمره الآن ؟

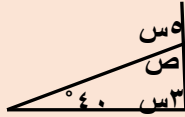
(ب) ٢٨

(أ) ٢١

(د) ٣٥

(ج) ١٤

٣٢- اوجد قيمة ص ؟

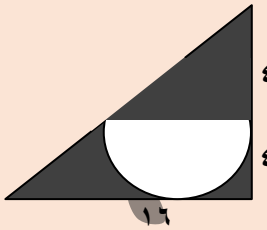


(ب) ٧٠

(أ) ٦٠

(د) ١٠٠

(ج) ٨٠



٣٣- في الشكل المجاور اوجد مساحة المظلل

" حسب كلام الزملاء الكرام تم تعديل السؤال

ولم يأت السؤال بهذه الاعداد أو بالاعداد

التي في المنصف ١ و ٢ خلال الفترة التالية لتجميع المنصف ١، ٢

عند طالب عندي "

(ب) $8(12 - \pi)$

(أ) $8(6 - \pi)$

(د) $8(12 - 2\pi)$

(ج) $8(8 - \pi)$

٣٤- اذا كانت النسبة بين عمر ولد و امه ٢:٥ وكان عمر الولد ١٢ فكم عمر الام؟

(ب) ٢٨

(أ) ٣٠

(د) ٣٥

(ج) ١٤

٣٥- مع محمد ٢٧ قطعة مستطيلة و ١٥ قطعة مربعة وليصنع صندوق واحد يحتاج ٤ قطع مستطيلة و ٢ قطعة مربعة فما اكبر عدد من الصناديق يمكنه صناعته؟

(ب) ٧

(أ) ٦

(د) ٩

(ج) ٨

٣٦- يريد احد المحسنين توزيع ٤٨ كيس سكر و ٧٢ كيس ارز على عائلات بحيث تأخذ العائلة ١ كيس سكر و ٢ كيس ارز فكم اكبر عدد ممكن من العائلات؟

(ب) ٣٦

(أ) ٤٨

(د) ٢٤

(ج) ١٨

٣٧- دائرة مساحتها ٣,١٤ فكم محيطها؟

(ب) ٦,٢٨

(أ) ٣,١٤

(د) ٣١,٤

(ج) ٠,٦٢٨

٣٨- غلاية مملوءة بالماء سعتها ٤,٢٥ فكم كوبا تملئه الغلاية اذا علمت ان سعة الكوب ٠,٣ لترا

(ب) ٧

(أ) ٦

(د) ١٤

(ج) ١٣

٣٩- اذا كان ٩٦ طالب يريدون ركوب الحافلة وكانت الحافلة تستوعب ٢٢ طالب فما اقل عدد من الحافلات يحتاجون؟

(ب) ٤

(أ) ٣

(د) ٦

(ج) ٥

٤٠- اذا ازداد ارتفاع اسطوانة الضعف فإن حجم الاسطوانة يزداد؟
" نموذج العادات والخدم ولا يوجد ضعف في الخيارات "

(ب) ٣ أضعاف

(أ) ضعفين

(د) ٥ أضعاف

(ج) ٤ أضعاف

٤١- اذا كان م عدد صحيح سالب أي الآتي أكبر؟

(ب) $١ + م$

(أ) $١ - م$

(د) $\frac{٥}{م}$

(ج) $٥ م$

٤٢- رجل وزنه ٧٠ يحرق ٦٥ سعر في ٨ دقائق فإذا كان يحرق بنفس النسبة فكم دقيقة يحتاج ليحرق فيها ٢٦٠ سعر؟

(ب) ٣٠

(أ) ٢٨

(د) ٣٥

(ج) ٣٢

٤٣- اذا كانت $٢ = س$ اوجد قيمة $س^٣ + س^٢ - ١٦ - ١$

(ب) -٥

(أ) ٥

(د) -٣

(ج) -١٣

٤٤- إذا كان س ، ص ، ع أعداد صحيحة وكان س = ص + ع و س = $\frac{1}{2}$ ص
 اوجد قيمة $\frac{3ع + 3ص}{ص + ٥,٥ص}$

(ب) ١-

(أ) ١

(د) ٣

(ج) ٢

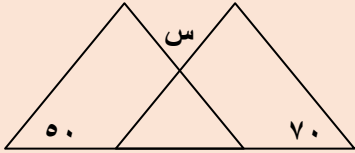
٤٥- متوسط ٥ مدارس ١٧٠ فما هو مجموعهم؟

(ب) ٧٠٠

(أ) ٨٠٠

(د) ١٠٠

(ج) ٨٥٠



٤٦- إذا كان المثلثان متطابقان اوجد قيمة س

(ب) ٦٠

(أ) ٥٠

(د) ٨٠

(ج) ٧٠

٤٧- إذا فتح محمد كتاب ووجد أن مجموع الصفحتين ٣٩ فما ناتج ضرب العددين؟

(ب) ٣٨٠

(أ) ٤٠٠

(د) ٤٢٠

(ج) ٣٦٠

٤٨- إذا كانت $\sqrt[3]{3^3 + 6} = \sqrt{2}$ س

(ب) ٣-

(أ) ٣

(د) ٩

(ج) ٣±

٤٩- كم عدد صحيح بين ١ و ٣٩ تحتوى خاناته على الرقم ٢ أو ٤

(ب) ١٨

(أ) ١٦

(د) ١٤

(ج) ٢٠

٥٠- اذا اشترى شخص جهاز بمبلغ ٦٠٠٠ ريال وباعها بربح ٣٥% فما سعره بعد الربح؟

(ب) ٨١٠٠

(أ) ٨٠٠٠

(د) ٨١٢٠

(ج) ٨٢٠٠

٥١- اذا كان مع محمد مبلغ صرف نصفه وتبرع بثلثه وبقي معه ٣٠٠٠ ريال فكم كان معه؟

(ب) ١٦٠٠٠

(أ) ١٨٠٠٠

(د) ١٤٠٠٠

(ج) ١٢٠٠٠

٥٢- غرفة مساحتها ٥٠ م^٢ اذا اردنا ان نفرشها بسجاد مربع الشكل طول ضلعه ٦م فمساحة الجزء الغير مفروش؟

(ب) ٢٠

(أ) ١٤

(د) ١٦

(ج) ١٥

٥٣- اذا كان طول المستطيل ١١ فما الطول الأقرب له؟

(ب) ١٠,٧

(أ) ١٠,٥

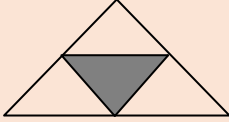
(د) ١١,٥

(ج) ١٠,٤

٥٤- كم عدد زوجي بين ٢ ، ٤٩

(أ) ٢٢	(ب) ٢٣
(ج) ٢٤	(د) ٢٥

٥٥- نسبة مساحة المظلل الي الشكل



(أ) ٤:١	(ب) ١:٤
(ج) ٢:١	(د) ١:٢

٥٦- عددين مجموعهما $\frac{5}{4}$ احدهما $\frac{1}{2}$ فما العدد الآخر ؟

(أ) $\frac{4}{5}$	(ب) $\frac{3}{10}$
(ج) $\frac{3}{4}$	(د) $\frac{4}{3}$

٥٧- أخذ ناصر وسعد كلا منهما مصروفهما فأعطى ناصر لسعد ٤٠ ريال ثم صرف سعد ٣٠ ريال فأصبح ما معهما متساوي اوجد الفرق بين مصروفهما ؟

(أ) ٨٠	(ب) ٥٠
(ج) ٧٠	(د) ٦٠

٥٨- اذا كان $٢س + ٢ = ٢٢$ قارن بين :

القيمة الاولى : ١٢	القيمة الثانية : $٢س + ٢$
--------------------	---------------------------

(أ) القيمة الاولى أكبر	(ب) القيمة الثانية أكبر
(ج) القيمتان متساويتان	(د) المعطيات غير كافية

٥٩- قارن بين :

القيمة الثانية : ١٥	القيمة الاولى : اكبر عامل اولي للعدد ١٣٠
(ب) القيمة الثانية أكبر	(أ) القيمة الاولى أكبر
(د) المعطيات غير كافية	(ج) القيمتان متساويتان

٦٠- اذا كان $٣س = ص$ اوجد قيمة $٣س+١$

(ب) $٣ص$	(أ) $١+ص$
(د) $١-ص$	(ج) $٣÷ص$

٦١- يوجد ٨ أعمدة في صف واحد وبين كل عمود الآخر ١٥ متر فكم المسافة بين اول عمود وآخر عمود؟

(ب) ١٢٠	(أ) ١٠٠
(د) ١٠٥	(ج) ٩٠

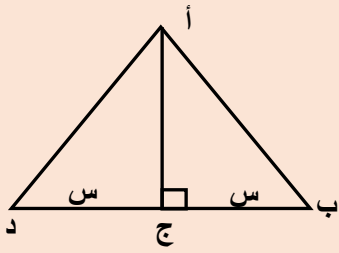
٦٢- عمر الأب ٧١ عام وعمر الابن ٣٦ عام فمتى يصبح عمر الاب مثلي عمر الابن

(ب) بعد عامين	(أ) بعد عام
(د) قبل عامين	(ج) قبل عام

٦٣- $س - (س - ١١) = \dots\dots\dots$

(ب) $س١٢$	(أ) $س١٢$
(د) $س١١$	(ج) $س١١$

٦٤- قارن بين :



القيمة الاولى : مساحة المثلث أ ب د	القيمة الثانية : ضعف مساحة المثلث أ ب ج
أ) القيمة الاولى أكبر	ب) القيمة الثانية أكبر
ج) القيمتان متساويتان	د) المعطيات غير كافية

٦٥- قارن بين : مجموعة من الاعداد الصحيحة من ١ الى ١٩

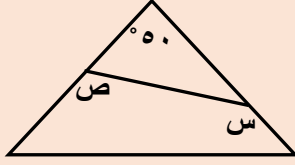
القيمة الاولى : عدد الأعداد الفردية	القيمة الثانية : عدد الاعداد الزوجية
أ) القيمة الاولى أكبر	ب) القيمة الثانية أكبر
ج) القيمتان متساويتان	د) المعطيات غير كافية

٦٦- ${}^7 1 + {}^7 7 = \dots$

أ) ٧	ب) ٧-
ج) ٨	د) ٩

٦٧- إذا كان $\sqrt{s-2} = 4$ اوجد قيمة س ؟

أ) ١٦	ب) ١٨
ج) ١٤	د) ٢٠



٦٨- اوجد س + ص

٣١٠ (ب)	١٣٠ (أ)
١٤٠ (د)	٢٣٠ (ج)

٦٩- شركة بها ٥ أماكن شاغرة تقدم لها ٣ أشخاص بكم طريقة يمكن ترتيبهم؟

١٥ (ب)	٢٠ (أ)
١٤٠ (د)	٦٠ (ج)

٧٠- إذا كان $٣ل + س = ٢٧$ قارن بين :

القيمة الاولى : ل	القيمة الثانية : ٢
(أ) القيمة الاولى أكبر	(ب) القيمة الثانية أكبر
(ج) القيمتان متساويتان	(د) المعطيات غير كافية

٧١- إذا كان ص عددا صحيحا قارن بين :

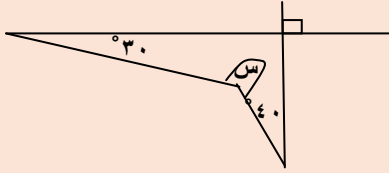
القيمة الاولى : $(\frac{1}{4} - \frac{1}{7} - \frac{1}{9}) \times ص$	القيمة الثانية : $ص (\frac{1}{4})$
(أ) القيمة الاولى أكبر	(ب) القيمة الثانية أكبر
(ج) القيمتان متساويتان	(د) المعطيات غير كافية

٧٢- إذا اشترى خالد ٥ دفاتر + ٤ أقلام وبقي معه ٣ ريال

واشترى محمد ٤ دفاتر + ٥ أقلام وبقي معه ٦ ريال قارن بين :

القيمة الاولى : قيمة القلم	القيمة الثانية : قيمة الدفتر
(أ) القيمة الاولى أكبر	(ب) القيمة الثانية أكبر
(ج) القيمتان متساويتان	(د) المعطيات غير كافية

٧٣- قارن بين :



القيمة الثانية : ١٩٠ °

القيمة الاولى : س

(ب) القيمة الثانية أكبر

(أ) القيمة الاولى أكبر

(د) المعطيات غير كافية

(ج) القيمتان متساويتان

٧٤- ما نسبة الرجال الذين يفضلون القراءة والسباحة؟

المجموع	مشي	سباحة	قراءة	
٣٠	٨	١٢	١٠	النساء
٢٠	٨	٧	٥	الرجال

"المفروض نحسب نسبة الرجال من الكل رجال ونساء ولكن لا توجد في الخيارات والطالبة ابغت المشرفة في الاختبار فقامت بوضع علامة على السؤال"

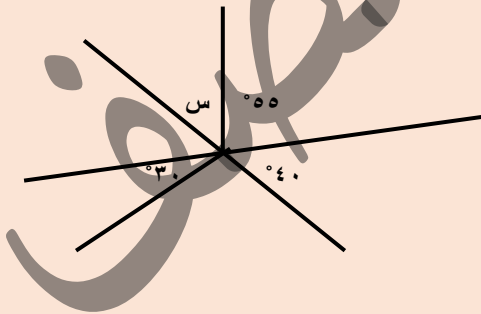
(ب) ٧٠%

(أ) ٦٠%

(د) ٥٠%

(ج) ٨٠%

٧٥- اوجد قيمة س



"دي الرسمة الصحيحة"

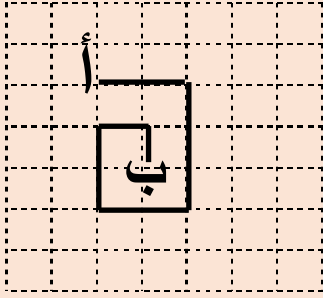
(ب) ٨٥

(أ) ٦٥

(د) ٧٠

(ج) ٧٥

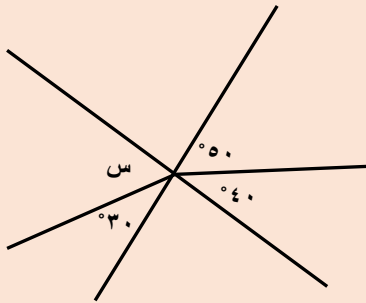
٧٦- اوجد المسافة من أ الى ب



"بيحدد من أ الى ب مش زي اللي في تجميع ٦٥ نموذج"

٩ (أ)	١٠ (ب)
١١ (ج)	١٢ (د)

٧٧- اوجد قيمة س



"دي الرسمة الصحيحة"

٦٥ (أ)	٨٥ (ب)
٧٥ (ج)	٧٠ (د)

٧٨- ما مجموع اول ٥٠ عدد زوجي في مجموعة الاعداد الطبيعية؟

٥١٠٠ (أ)	٢٤٠٠ (ب)
٦٢٥ (ج)	٢٥٥٠ (د)

٧٩- اذا كان عامل ينجز طاولة في ١٦ ساعة فإذا اراد ٤ عمال عمل نفس عدد الطاولات و بدأوا الساعة ٩ صباحا فمتى سينتهوا؟

١ صباحا (أ)	٢ مساءا (ب)
١٢ مساءا (ج)	١ مساءا (د)

٨٠- قارن بين :

القيمة الاولى : س	القيمة الثانية : صفر
أ) القيمة الاولى أكبر	ب) القيمة الثانية أكبر
ج) القيمتان متساويتان	د) المعطيات غير كافية

٨١- اذا كان $2س - ص = ٧$ وكانت $س = ٥$ فكم قيمة ص؟

أ) ٣	ب) -٣
ج) ٤,٥	د) ٤,٩

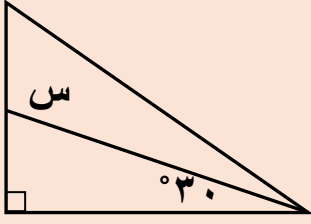
٨٢- اذا كان س عدد موجب زوجي و ص عدد موجب فردي فأی الآتي زوجي؟

أ) ص-٢س	ب) س ص
ج) ص ÷ س	د) س صفر

٨٣- ص عدد صحيح موجب ، س عدد صحيح سالب قارن بين :

القيمة الاولى : ص - س	القيمة الثانية : س - ص
أ) القيمة الاولى أكبر	ب) القيمة الثانية أكبر
ج) القيمتان متساويتان	د) المعطيات غير كافية

٨٤- ما قيمة س ؟



(أ) ٦٠°

(ب) ١٢٠°

(ج) ٣٠°

(د) ٢٧٠°

$$\frac{11-2}{8-2} = \frac{9}{6}$$

(أ)

(ب) $\frac{1}{8}$

(ج)

(د) $\frac{1}{8}$

٨٦- كم عدد اولي بين ١٨ ، ٣١

(أ) ٣

(ب) ٥

(ج) ٦

(د) ٤

٨٧- قارن بين :

القيمة الاولى : $(١-س)^٢(١+س)^٢$

القيمة الثانية : -٥

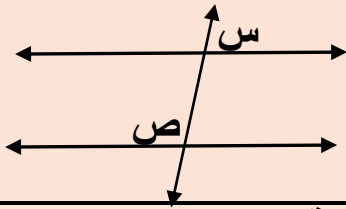
(أ) القيمة الاولى أكبر

(ب) القيمة الثانية أكبر

(ج) القيمتان متساويتان

(د) المعطيات غير كافية

قارن بين : اذا كان المستقيمان متوازيان

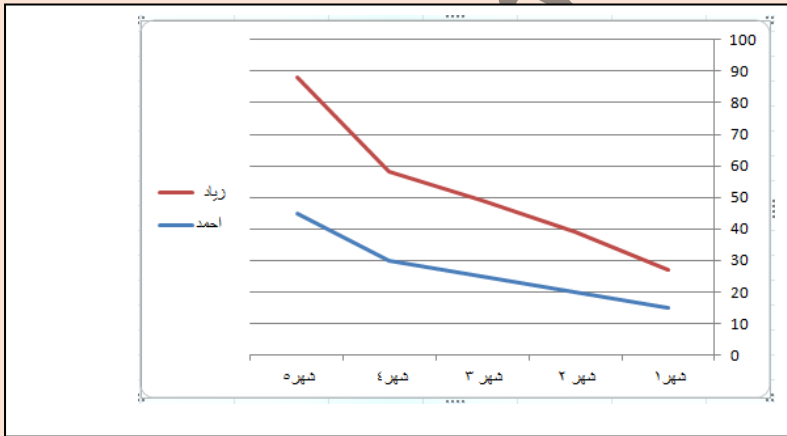


القيمة الاولى : س + ص	القيمة الثانية : 180°
أ) القيمة الاولى أكبر	ب) القيمة الثانية أكبر
ج) القيمتان متساويتان	د) المعطيات غير كافية

٨٨- سلك قسم الى قسمين متساويين صنع من الاول مثلث ومن الثاني مستطيل قارن بين :

القيمة الاولى : مساحة المثلث	القيمة الثانية : مساحة المستطيل
أ) القيمة الاولى أكبر	ب) القيمة الثانية أكبر
ج) القيمتان متساويتان	د) المعطيات غير كافية

٨٩- قارن بين :



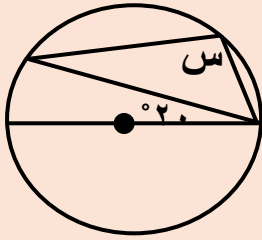
الشكل المجاور يمثل رواتب زياد واحمد في ٥ شهور

القيمة الاولى : متوسط راتب زياد	القيمة الثانية : متوسط راتب احمد
أ) القيمة الاولى أكبر	ب) القيمة الثانية أكبر
ج) القيمتان متساويتان	د) المعطيات غير كافية

٩٠- اذا كان يتم طلاء ٣٠% من الغرفة في ساعة ونصف قارن بين

القيمة الاولى : الزمن المستغرق في طلاء الغرفة كاملة	القيمة الثانية : ٦ ساعات
أ) القيمة الاولى أكبر	ب) القيمة الثانية أكبر
ج) القيمتان متساويتان	د) المعطيات غير كافية

٩١- في الشكل المجاور اوجد قيمة س



أ) ٩٠°	ب) ١١٠°
ج) ١٢٠°	د) ١٠٠°

٩٢- ضرب زلزال الساعة ٨ صباحا وبدأ تسونامي وكانت المسافة بين تسونامي ٥٠٠ كلم وكانت سرعته ٥٠ كلم /س فمتى يضرب تسونامي شواطئ اليابان

أ) ٦ صباحا	ب) ٦ مساء
ج) ٨ صباحا	د) ٨ مساء

٩٣- اوجد قيمة :

$$\frac{16}{4} - \frac{5}{14} + \frac{18,5}{7}$$

أ) ٢	ب) ٣-
ج) ٥	د) ١-

٩٤- ابو محمد قرر يعطي ابنه محمد ٨ ريال على كل ٨٠ ريال يجمعها ، فكم سيعطيه اذا جمع ٨٢٠ ريال ؟

(ب) ٨٢

(أ) ٨٠

(د) ٨٨

(ج) ٩٦

٩٥- اذا كان $9^a - 8^b = 1$ فقارن بين :

"لم تأت في المحوسب الفترة السابقة ولكن سؤال قديم"

القيمة الثانية : (ب)

القيمة الاولى : (أ)

(ب) القيمة الثانية أكبر

(أ) القيمة الاولى أكبر

(د) المعطيات غير كافية

(ج) القيمتان متساويتان

٩٦- اذا كان $9^k - 8^k = 1$ فقارن بين :

القيمة الثانية : (أ)

القيمة الاولى : (ك)

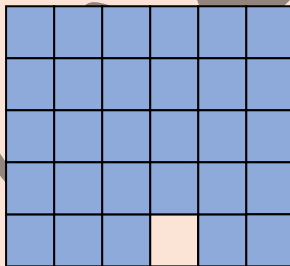
(ب) القيمة الثانية أكبر

(أ) القيمة الاولى أكبر

(د) المعطيات غير كافية

(ج) القيمتان متساويتان

٩٧- في الشكل المجاور



قارن بين :

القيمة الثانية : ٩٦%

القيمة الاولى : نسبة الجزء المظلل

(ب) القيمة الثانية أكبر

(أ) القيمة الاولى أكبر ✓

(د) المعطيات غير كافية

(ج) القيمتان متساويتان

٩٨- اذا كان س - ٤ أكبر من ص ب ٢ فإن س + ٥ أكبر من ص ب

ب (١٠)

أ (٩)

د (١٢)

ج (١١)

٩٩- اذا كان $\frac{9}{6} = \frac{9}{1 + \frac{س}{ص}}$ فـقارن بين :

القيمة الثانية : س

القيمة الاولى : ٥ ص

ب (القيمة الثانية أكبر)

أ (القيمة الاولى أكبر)

د (المعطيات غير كافية)

ج (القيمتان متساويتان)

١٠٠- اذا كان $\frac{9}{6} = \frac{9}{1 + \frac{س}{ص}}$ فـقارن بين :

القيمة الثانية : ص

القيمة الاولى : ٥ س

ب (القيمة الثانية أكبر)

أ (القيمة الاولى أكبر)

د (المعطيات غير كافية)

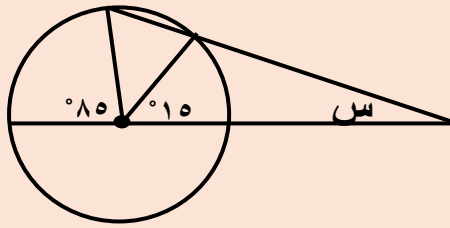
ج (القيمتان متساويتان)

$$\sqrt[4]{81 + 81 + 81 + 81}$$

٣ (ب)	٨١ (أ)
٣ ٢ (د)	٢ ٣ (ج)

١٠٢- اذا كان هناك ارض دائرية الشكل محيطها ٢٠٠ م فكارن بين :

القيمة الثانية : ٢٥ م	القيمة الاولى : نصف قطرها
ب (القيمة الثانية أكبر	أ (القيمة الاولى أكبر
د (المعطيات غير كافية	ج (القيمتان متساويتان



١٠٣- في الشكل المجاور
اوجد قيمة س

٣٥ (ب)	٣٠ (أ)
٤٥ (د)	٤٠ (ج)

بشكر كل الطلاب الذين ساعدوني في تجميع هذه الاسئلة

والشكر للطالب / محمد عماد مصمم الغلاف الجميل

تمنياتي لكم جميعا بـ ١٠٠%

لا تنسوا ←

الدعاء لوالدي بالرحمة وأن يجمعني به في الجنة