



مدونة المناهج السعودية

<https://eduschool40.blog>

الموقع التعليمي لجميع المراحل الدراسية

في المملكة العربية السعودية



DIMENSIONS

م / إبراهيم الزهراني
@Ibrahimm2030
@Dimensions72

تفسير البيانات

DIMENSIONS

م / إبراهيم الزهراني
@Ibrahimm2030
@Dimensions72





DIMENSIONS

م / إبراهيم الزهراني
@Ibrahimm2030
@Dimensions72

تجميعات الطلاب

هذه الشرائح يوجد بها : قسم الكمي / تفسير البيانات
الشروحات اجتهاد شخصي .
م/ إبراهيم الزهراني .

DIMENSIONS

م / إبراهيم الزهراني
@Ibrahimm2030
@Dimensions72





DIMENSIONS

م / إبراهيم الزهراني
@Ibrahimm2030
@Dimensions72

تفسير البيانات نوعين :

- ١- يكون على شكل رسم بياني
- ٢- يكون على شكل جداول

DIMENSIONS

م / إبراهيم الزهراني
@Ibrahimm2030
@Dimensions72





DIMENSIONS

م/ إبراهيم الزهراني
@Ibrahimm2030
@Dimensions72

السؤال الأول :

في أي سنة تساوى عدد طلاب المتوسط والثانوي؟

- (أ) ١٤٤٠ (ب) ١٤٣٨
(د) ١٤٣٧ (ج) ١٤٣٩

السؤال الثاني :

كم هو مجموع طلاب سنة ١٤٤٠؟

- (أ) ٦٥٠ (ب) ٦٧٥
(د) ٦١٥ (ج) ٥٩٠

السؤال الثالث :

كم هو مجموع طلاب المرحلة الابتدائية خلال الأربع سنوات؟

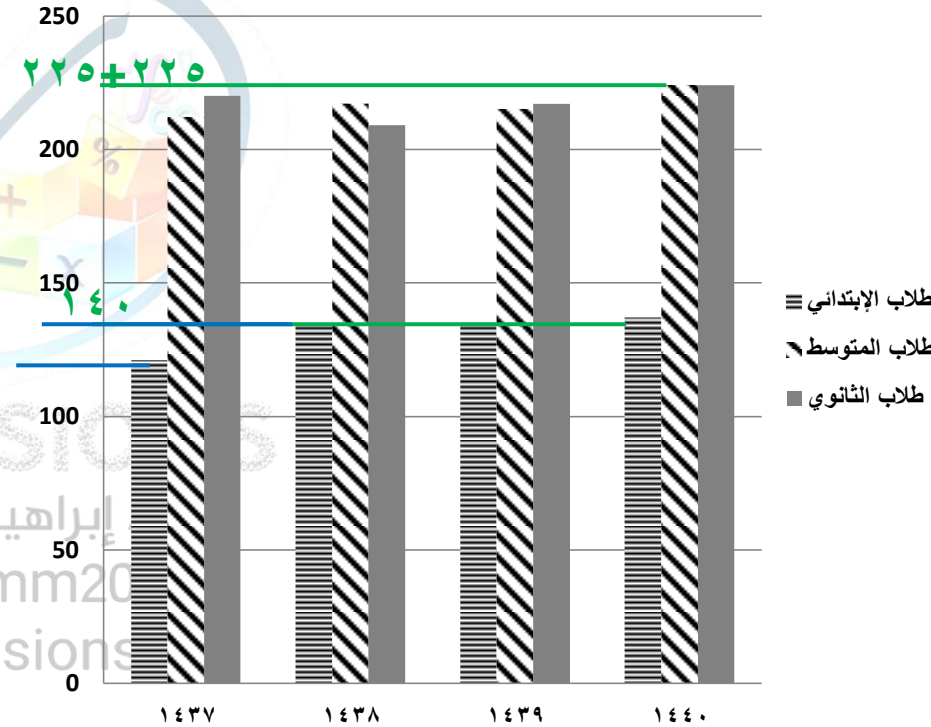
- (أ) ٥٠٠ (ب) ٥١٥
(د) ٥٣٠ (ج) ٥٥٥

السؤال الرابع :

في أي سنة كان مجموع الطلاب أكثر؟

- (أ) ١٤٣٧ (ب) ١٤٣٩
(د) ١٤٤٠ (ج) ١٤٣٨

عدد طلاب المراحل الثلاثة خلال أربع سنوات



$$٥٣٠ = ١٤٠ + ١٣٥ + ١٣٥ + ١٢٠$$

إجابة السؤال الثالث .





DIMENSIONS

م/ إبراهيم الزهراني
@Ibrahimm2030
@Dimensions72

السؤال الأول :

كم عدد الوفيات خلال الخمس سنوات ؟

- (أ) ٧٠٠
(ب) ٩٠٠
(ج) ١٠٠٠
(د) ٨٠٠

السؤال الثاني :

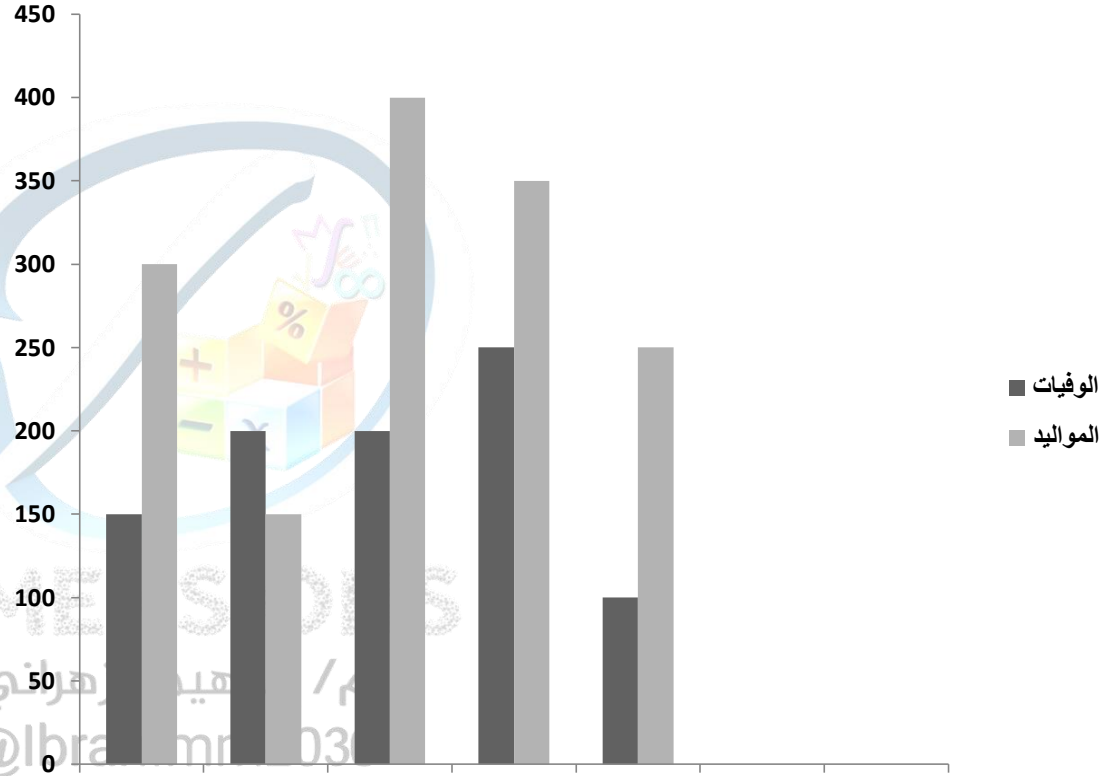
كم عدد المواليد خلال الثلاث سنوات الأولى ؟

- (أ) ٧٥٠
(ب) ٧٠٠
(ج) ٨٥٠
(د) ٨٠٠

السؤال الثالث :

كم عدد الوفيات والمواليد خلال السنة الثالثة ؟

- (أ) ٦٠٠
(ب) ٧٥٠
(ج) ٨٠٠
(د) ٦٥٠



$$٦٠٠ = ٤٠٠ + ٢٠٠$$

إجابة السؤال الثالث

$$٨٥٠ = ٤٠٠ + ١٥٠ + ٣٠٠$$

إجابة السؤال الثاني

$$٩٠٠ = ١٠٠ + ٢٥٠ + ٢٠٠ + ٢٠٠ + ١٥٠$$

إجابة السؤال الأول .



السؤال الأول :

ما هو المصرف الأكثر تطوراً خلال الخمس سنوات ؟

- (أ) مصرف الراجحي
(ب) مصرف الأهلي
(ج) مصرف الرياض
(د) مصرف البلاد

السؤال الثاني :

كم مجموع أرباح البنوك خلال سنة ٢٠٠٢ ؟

- (أ) ٩٥٠٠
(ب) ١١٠٠٠
(ج) ١٠٧٥٠
(د) ١٢٥٠٠

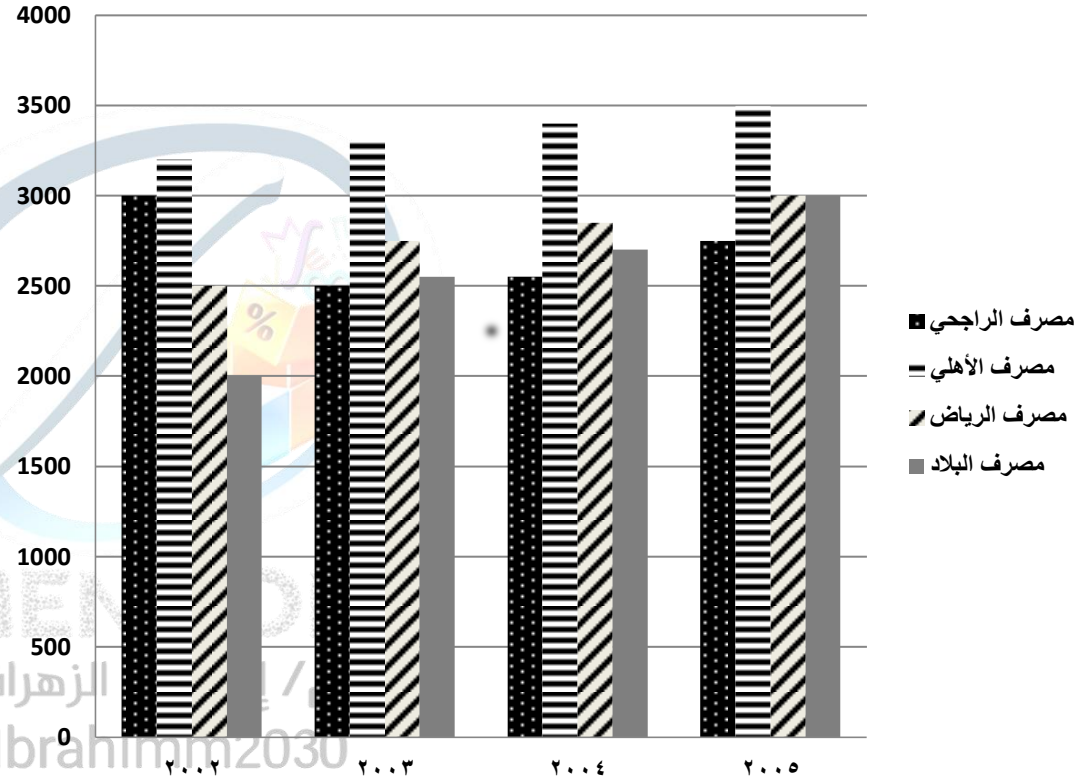
السؤال الثالث :

كم مجموع أرباح بنكي الأهلي والبلاد خلال سنة ٢٠٠٣ و ٢٠٠٥ ؟

- (أ) ١٢٣٠٠
(ب) ١١٧٥٠
(ج) ١٢٠٠٠
(د) ١١٥٠٠

$$١٢٣٠٠ = ٣٠٠٠ + ٣٥٠٠ + ٢٥٠٠ + ٣٣٠٠$$

إجابة السؤال الثالث



$$١٠٧٥٠ = ٢٠٠٠ + ٢٥٠٠ + ٣٢٥٠ + ٣٠٠٠$$

إجابة السؤال الثاني





DIMENSIONS

م / إبراهيم الزهراني
@Ibrahimm2030
@Dimensions72

دورة القدرة المعرفية. المذكرة رقم ٥
م / إبراهيم الزهراني

السؤال الأول :

كم مجموع طلاب العلمي خلال الأربع سنوات ؟

- (أ) ١١٠٠
(ب) ١١٥٠
(ج) ١٢٠٠
(د) ١٠٥٠

السؤال الثاني :

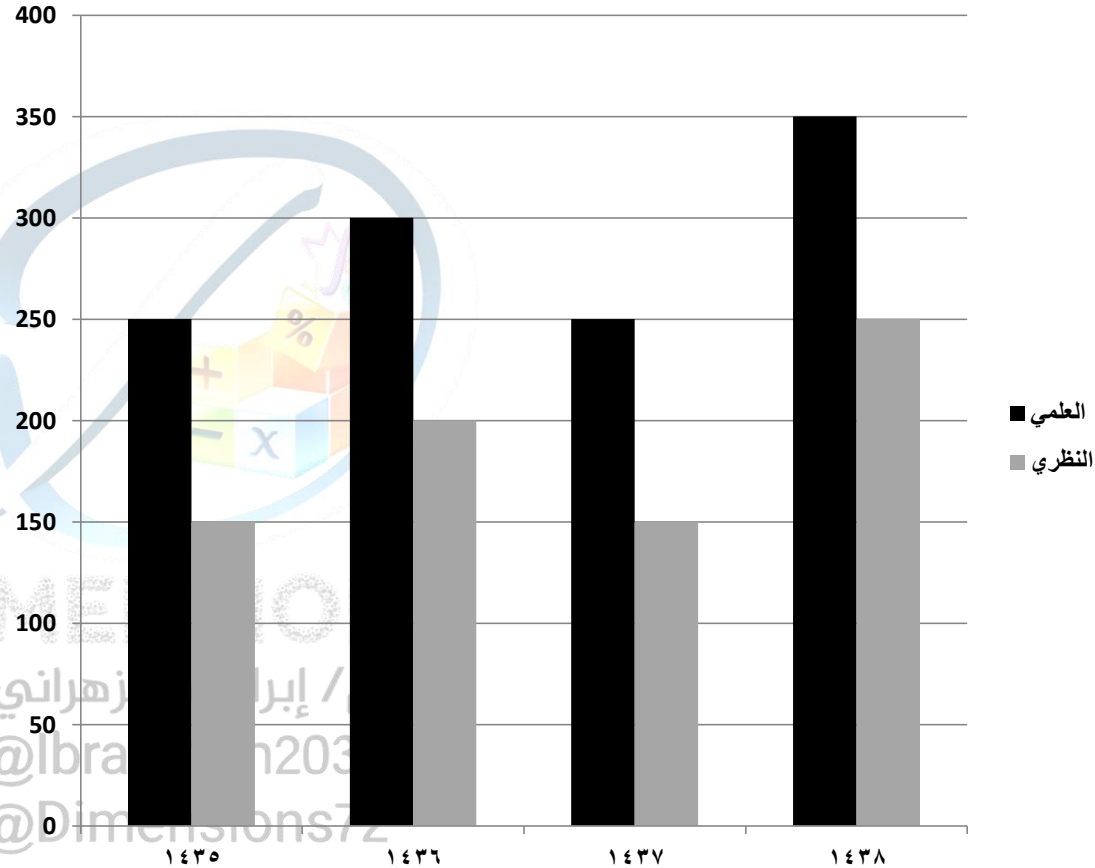
كم مجموع طلاب النظري خلال سنة ١٤٣٦ و ١٤٣٨ ؟

- (أ) ٥٠٠
(ب) ٥٥٠
(ج) ٤٥٠
(د) ٤٠٠

السؤال الثالث :

في أي سنة عدد الطلاب هو الأقل ؟

- (أ) ١٤٣٦
(ب) ١٤٣٤
(ج) ١٤٣٧
(د) ١٤٣٨



$$٤٥٠ = ٢٥٠ + ٢٠٠$$

إجابة السؤال الثاني

$$١١٥٠ = ٣٥٠ + ٢٥٠ + ٣٠٠ + ٢٥٠$$

السؤال الأول



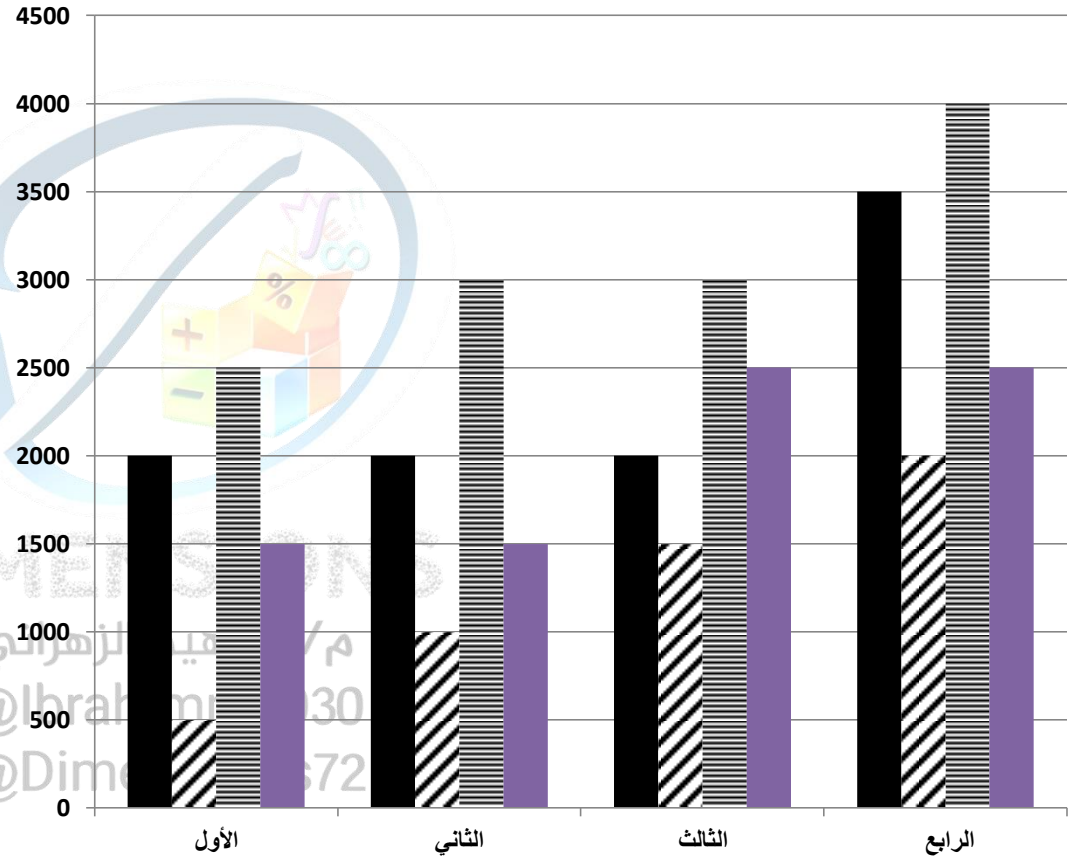


DIMENSIONS

م / إبراهيم الزهراني
@lbrahimm2030
@Dimensions72

دورة القدرة المعرفية. المذكرة رقم ٥
م / إبراهيم الزهراني

جامعة د ■ جامعة ب ▤ جامعة ج ≡ جامعة أ ■



السؤال الأول :

كم عدد الخريجين من العقود الأربعة من
الجامعة (أ) ؟

- (أ) ٧٠٠٠
(ب) ٧٥٠٠
(ج) ٨٠٠٠
(د) ٩٥٠٠

السؤال الثاني :

في أي عقد كان الفرق بين أعداد
خريجي أعلى جامعة وأقلها ١٥٠٠
طالب؟ ؟

- (أ) الأول
(ب) الثاني
(ج) الثالث
(د) الرابع

ننظر إلى أعلى ارتفاع وأقل ارتفاع ونطرح منهم
في كل عقد وننظر أي واحد منهم = ١٥٠٠ .
السؤال الثاني

$$٩٥٠٠ = ٣٥٠٠ + ٢٠٠٠ + ٢٠٠٠ + ٢٠٠٠$$

إجابة السؤال الأول



السؤال الأول :

DIMENSIONS

م / إبراهيم الزهراني
@Ibrahimm2030
@Dimensions72

حسب البيانات الأحدث . ما هو
القطاع الأكبر من حيث عدد
الوظائف ؟

- (أ) المصرفية المالية
(ب) البيع بالتجزئة
(ج) الإنشاءات والبناء
(د) التصنيع

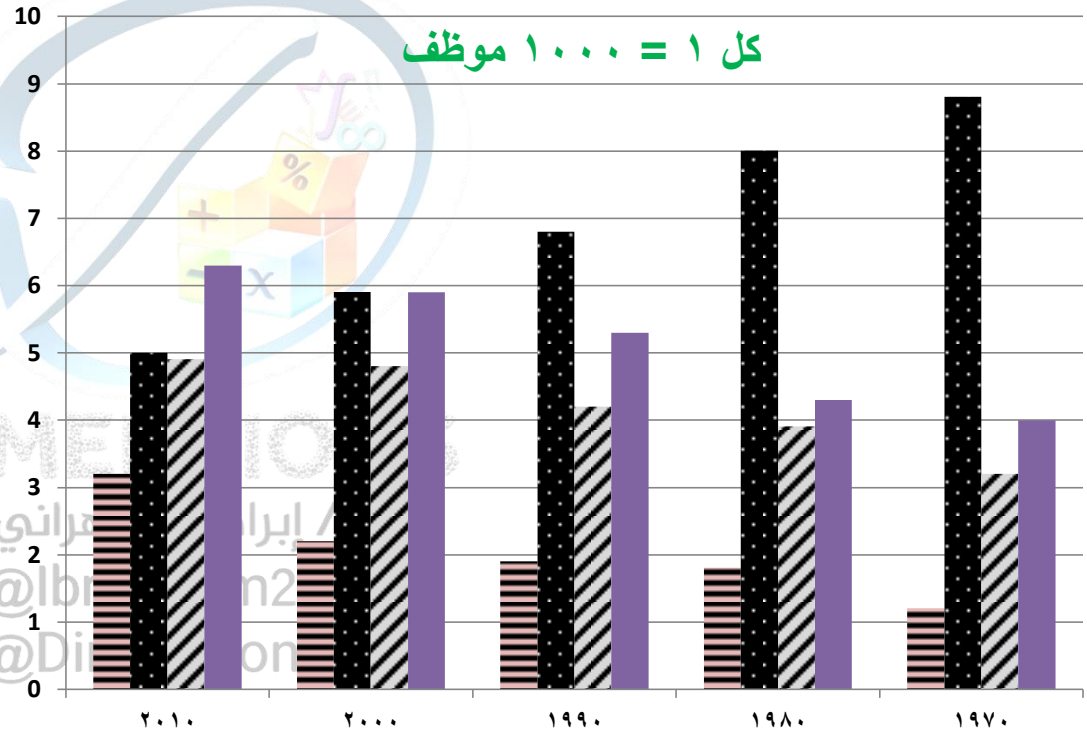
السؤال الثاني :

تبنت الحكومة سياسة دعم
القطاعات الأقل نمواً خلال الأعوام
الماضية .

ما هو القطاع الأكثر استحقاقاً
للدعم ؟

- (أ) المصرفية المالية
(ب) البيع بالتجزئة
(ج) التصنيع
(د) الإنشاءات والبناء

التصنيع ■ المصرفية المالية ■ البيع بالتجزئة ■ الإنشاءات والبناء ■





DIMENSIONS

م / إبراهيم الزهراني
@Ibrahimm2030
@Dimensions72

دورة القدرة المعرفية. المذكرة رقم ٥
م / إبراهيم الزهراني

الرسم البياني التالي يوضح مبيعات إحدى المحلات خلال أربعة أشهر .

السؤال الأول :

في أي شهر كانت مبيعات المحل أكبر ؟

أ) ربيع الأول (ب) جمادى أول

ج) ربيع الثاني (د) جمادى الثاني

السؤال الثاني :

ماهي نسبة مبيعات ملابس الأطفال إلى مبيعات

الرجال؟ **إجابة السؤال الثاني :** اجمع ملابس الأطفال على ملابس الرجال في كل الأشهر وبعدها اختصر الأصفار بسط ومقام .

$$\text{أ) } \frac{7}{9} \quad \text{ب) } \frac{8}{7} \quad \text{ج) } \frac{7}{8} \quad \text{د) } \frac{9}{8}$$

السؤال الثالث :

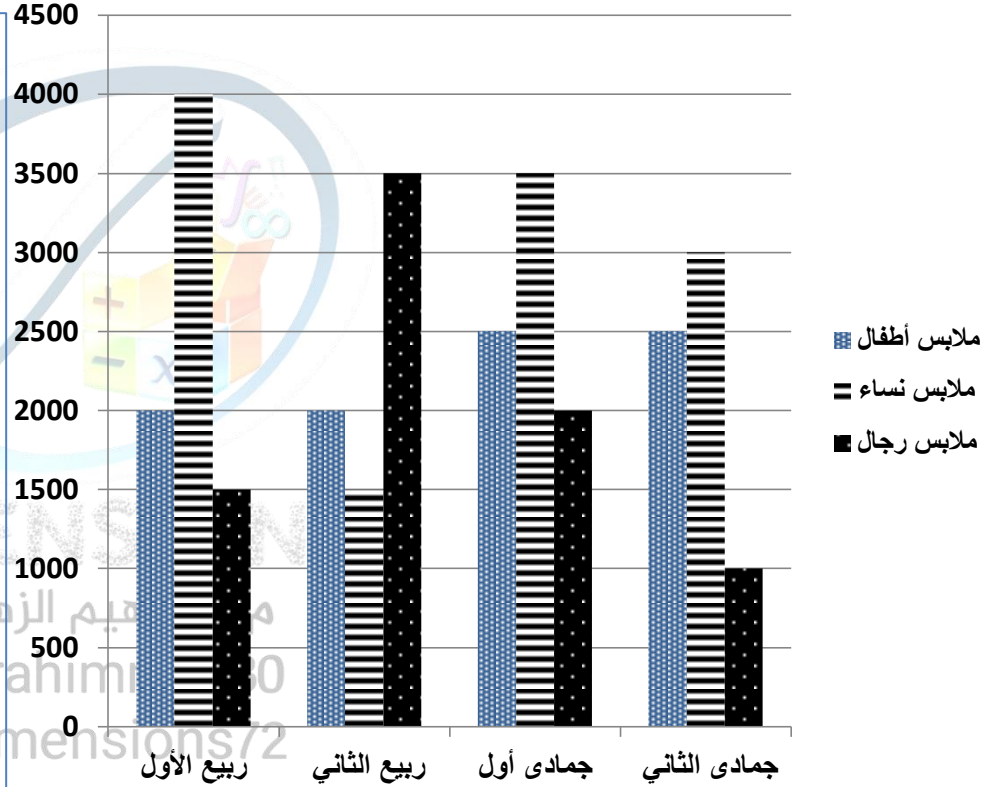
مجموع مبيعات النساء؟

أ) ٩١٠٠ (ب) ١٢٠٠٠ (ج) ١١٥٠٠ (د) ١٢٥٠٠

السؤال الرابع :

ماهي نسبة مبيعات الأطفال لشهر جمادى أول؟

أ) ٢٥% (ب) ٣٠% (ج) ٢٠% (د) ١٨%



إجابة السؤال الثالث : حاصل جمع ملابس النساء في كل شهر = ١٢٠٠٠ .





DIMENSIONS

م / إبراهيم الزهراني
@Ibrahimm2030
@Dimensions72

**السؤال الرابع : أعلى معدل بطالة
لغير السعوديين عام ؟
١٤١٣**

غير السعوديين			السعوديين			السنة
المجموع	إناث	ذكور	المجموع	إناث	ذكور	
٤,٤	١,٢	٣,٢	١٣,٢	٦,٣	٦,٩	١٤١٢
٤,٥	١,٦	٢,٩	١٣,٢	٥,٨	٦,٤	١٤١٣
٤,٢	١,٥	٢,٧	١٤,٣	٦,١	٨,٢	١٤١٥
٤,٣	١,٣	٣,٠	١٦,٦	٧,٢	٩,٤	١٤١٦

**الجدول السابق يبين أعداد البطالة في المملكة العربية السعودية .
أقل معدل بطالة للسعوديات عام ؟**

السؤال الأول :

١٤١٥ (أ) ١٤١٢ (ب) ١٤١٦ (ج) ١٤١٤ (د)

السؤال الثاني :

أعلى معدل بطالة للسعوديين هو ؟

٦,٤ (أ) ٦,٩ (ب) ٩,٤ (ج) ١٦,٦ (د)

السؤال الثالث :

مستوى البطالة للإناث الغير سعوديات ؟

أ) يتناقص (ب) يتزايد (ج) ثابت (د) يتذبذب





DIMENSIONS

م / إبراهيم الزهراني
@Ibrahimm2030
@Dimensions72

السؤال الأول : في أي سنة كانت نسبة التوظيف أكثر ؟

١٤٣٦(د)

١٤٣٥(ج)

١٤٣٤(ب)

١٤٣٣(أ)

السؤال الثاني :

كم عدد الموظفين من المرتبتين السابعة والسادسة خلال سنة ١٤٣٦ ؟

٢٥٠٠(د)

٢٤٥٠(ج)

٢٣٥٠(ب)

٢٤٠٠(أ)

السؤال الثالث : كم عدد الموظفين من المرتبة السادسة خلال السنوات : ١٤٣٦، ١٤٣٤، ١٤٣٨ ؟

٦٤٠٠(د)

٦١٠٠(ج)

٦٢٠٠(ب)

٦٠٠٠(أ)

السؤال الرابع : كم عدد الموظفين والموظفات من المرتبتين السابعة والسادسة خلال سنة ١٤٣٥ ؟

٧٨٠٠(د)

٧٧٠٠(ج)

٧٥٥٠(ب)

٧٥٠٠(أ)

المرتبة السادسة		المرتبة السابعة		المرتبة
رجال	نساء	رجال	نساء	السنة
٣٠٠٠	٢٣٠٠	٢٥٠٠	١٠٥٠	١٤٣٣
٣٥٠٠	٢٥٠٠	٢٤٠٠	١١٠٠	١٤٣٤
٢٥٠٠	٢٠٠٠	٢٠٠٠	١٢٠٠	١٤٣٥
١٨٠٠	١٦٠٠	١٥٠٠	٩٠٠	١٤٣٦
١٥٠٠	١٤٠٠	١٢٠٠	١١٠٠	١٤٣٧
١١٠٠	١٢٠٠	١٠٠٠	٨٠٠	١٤٣٨





DIMENSIONS

م / إبراهيم الزهراني
@Ibrahimm2030
@Dimensions72

دورة القدرة المعرفية. المذكرة رقم ٥
م / إبراهيم الزهراني

المنطقة	الاحد	الاثنين	الثلاثاء	الاربعاء
الرياض	القادمين	١٦٧	١٤٥	١٢٢
	المغادرين	١٧٧	١٧٤	١٤٢
الدمام	القادمين	١٥٧	١٧٨	١٢٢
	المغادرين	١١٥	٢٠٤	٢٢٣
جدة	القادمين	١٩١	١٩٨	١٨٨
	المغادرين	١٥٤	١٤٦	١٨٤
أبها	القادمين	١٩٤	١٤٦	١٥٢
	المغادرين	١٠٥	٨٨	٩٤
عرعر	القادمين	٩٥	١٠١	١١٠
	المغادرين	٩٤	٩١	٨٥

السؤال الثاني :

كم يبلغ عدد القادمين لمدينة الدمام خلال جميع الأيام ؟

الحل :

$$٥٦٢ = ١٠٥ + ١٢٢ + ١٧٨ + ١٥٧$$

السؤال الثالث :

كم يبلغ عدد القادمين والمغادرين لمدينتي الرياض وأبها يومي الأحد والثلاثاء ؟

الحل

$$+ ١٦٧ + ٩٤ + ١٥٢ + ١٥١ + ١٢٢ :$$

$$١١٦٢ = ١٠٥ + ١٩٤ + ١٧٧$$

السؤال الأول : كم عدد المغادرين في جميع مدن المملكة ليوم الاثنين؟

$$٧٠٣ = ٩١ + ٨٨ + ١٤٦ + ٢٠٤ + ١٧٤$$





DIMENSIONS

م/ إبراهيم الزهراني
@Ibrahimm2030
@Dimensions72

السؤال الثاني :

ماهي المادة التي تحسنت درجات الطلاب فيها واستفادوا من التدريب؟

العلوم

السؤال الثالث :

في أي مادة الفرق بين القبلي والبعدي هو الأقل؟

الرياضيات

السؤال الرابع :

ماهي المدرسة التي استفادت استفادة كبيرة من التدريب؟

المدرسة ٢

السؤال الخامس :

ماهي المدرسة التي حصلت على أعلى مجموع درجات؟

مدرسة ٤

المادة	مدرسة ١	مدرسة ٢	مدرسة ٣	مدرسة ٤
حاسب	قبلي	٧٧	٨١	٨٠
	بعدي	٩٤	٩٢	٩١
علوم	قبلي	٧٥	٧٤	٧٧
	بعدي	٩٠	٨٩	٩٢
احياء	قبلي	٨٦	٧٣	٨٦
	بعدي	٩٥	٩٠	٩٤
رياضيات	قبلي	٨١	٧٠	٨٧
	بعدي	٩٣	٨٨	٩٥

السؤال الأول : في أي مادة الفرق بين القبلي والبعدي هو الأكبر؟
الرياضيات

