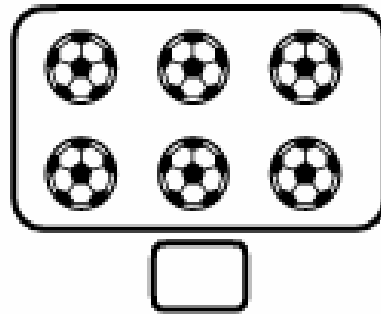
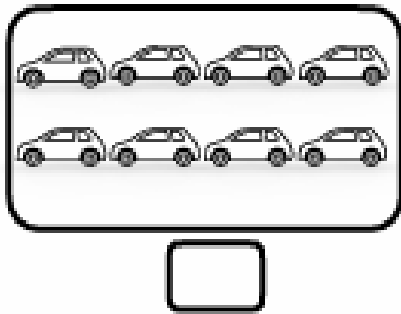

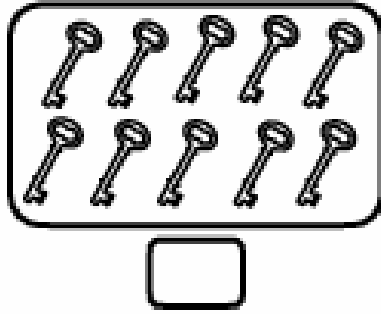
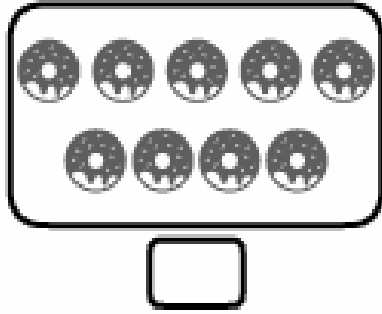



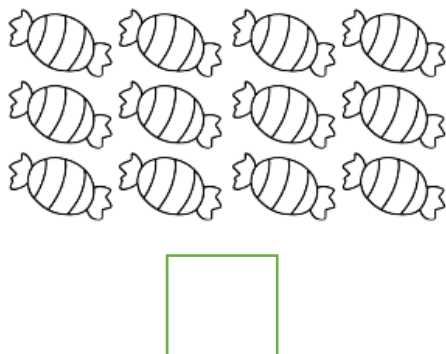
نماذج أسئلة للتدريب على الاختبارات






س١- أعد واكتب العدد المناسب لكل مجموعة :



	٤	٣		١
١٠				

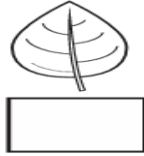
السؤال الأول / أعد الأشياء في كل من المجموعتين واكتب عددها :-





س٢/ اكتب العدد المفقود المغطى بورق الشجر في المربع المخصص له: -

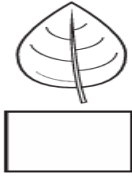
١٥



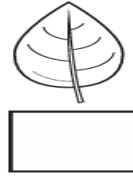
١٣

١٤

١١



١٩



١٧

١٦



أكثر من	جـ	أقل من	ب	يساوي	أ
---------	----	--------	---	-------	---



أكثر من	جـ	أقل من	ب	يساوي	أ
---------	----	--------	---	-------	---



عدد الوردات هو

أكثر من	جـ	٥	ب	٣	أ
---------	----	---	---	---	---



العدد القطط في الصندوق هو

أكثر من	جـ	٦	ب	٠	أ
---------	----	---	---	---	---



عدد الهدايا

أكثر من	جـ	٨	ب	٦	أ
---------	----	---	---	---	---



عدد الكرات

أكثر من	جـ	١٧	ب	٥	أ
---------	----	----	---	---	---

$$٠ + ٩$$

أكثر من	جـ	٩	ب	٠	أ
---------	----	---	---	---	---



$$٧ = ٥ + ٢$$

$$٧ = ٣ + ٤$$


$$٧ = ٦ + ١$$

أكثر من	جـ	٤	ب	١	أ
---------	----	---	---	---	---

$$٢ + ٢$$

السؤال الأول: اختار الإجابة الصحيحة فيما يلي :

٥

١- أحوط الشكل الذي يشترك مع  في الشكل والحجم؟



د



ج



ب



أ

٢- أكمل الفراغ: في الصورة المجاورة عدد الدفاتر عدد الأقلام.



د

يساوي

ج

أقل من

ب

أكثر من

أ

٣- عدد حبات الفراولة  هو :

٤

د

٣

ج

٢

ب

١

أ

٤- أي من هذه المجموعات يحتوي على ٥ برتقالات ؟



د



ج



ب



أ

٥- اكتب عدد السمكات في الوعاء :



٣

د

٢

ج

١

ب

٠

أ

٦- البالون الذي فوق الشجرة هو:



د



ج



ب



أ

٧- من هو الحيوان الذي يسير قبل الحيوانات الأخرى ؟



د



ج



ب



أ

٨- وحدة النمط الآتي هي :



د




ج



ب



أ

٩- ما العدد المفقود في  ؟



٩

د

٨

ج

٧

ب

٦

أ

١٠- ترتيب الولد المحاط بدائرة هو ؟



٩

د

٨

ج

٦

ب

٤

أ

أكمل الجدول التالي /

٥		٣		١
	٩		٧	
١٥			١٢	١١
		١٨		١٦