



بنك أسئلة مادة الرياضيات

للمصف الأول ابتدائي

الفصل الدراسي الأول



مقدمة

الحمد لله والصلاة والسلام على أشرف الأنبياء
والمرسلين سيدنا محمد وعلى آله وصحبه أجمعين

يطيب لي ويسعدني أن أقدم لكم هذا العمل

(بنك أسئلة لمقرر الرياضيات للصف الأول الابتدائي)

بحيث يشمل جميع مهارات الفصل الأول على أمل أن تجدوا
فيه الفائدة فيما يعود بالنفع على طلابنا وطالباتنا

وآخر دعوانا أن الحمد لله رب العالمين


المهارة المستهدفة :

تصنيف الأشياء وفق خاصية واحدة

فصل
المقارنة
والتصنيف

السؤال الأول

أضغ دائرة حول الشيء الذي له نفس الصفة :




المهارة المستهدفة :

حل مسائل رياضية باستخدام استراتيجيات ومهارات مناسبة

فصل
المقارنة
والتصنيف

السؤال الأول

صك بخط الأشياء الخضراء بالسلة الخضراء ، والأشياء البرتقالية بالسلة البرتقالية :



المعارة المستعرفة :

تصنيف الأشياء وفق أكتدمه خاصية

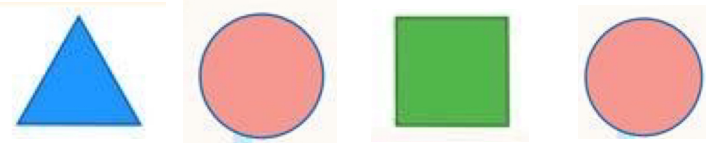
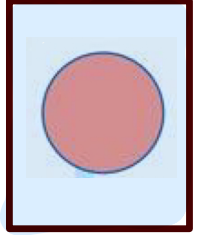
فصل

المقارنة

والتصنيف

السؤال الأول

صنف الشكل الملون داخل الإطار ثم حوط الشكل المماثل له :



السؤال الثاني

صنف حجم الشيء داخل الإطار وتعرف لونه ثم حوط الشيء المماثل له :



المهارة المستهدفة :

استعمال التقابل لتحديد المجموعات التي فيها العدد نفسه من الأشياء
المجموعة الأكثر أول الأقل من الأخرى

فصل
المقارنة
والتصنيف


السؤال الأول

صل بخط بين عناصر المجموعتين المتقابلتين :



السؤال الثاني

صل بخط بين الأشياء في المجموعتين ، ثم حوّل المجموعة التي عدد عناصرها أقل :









فصل
الأعداد
حتى ٥

المهارة المستهدفة :

عد الأعداد ضمن العدد (٢٠) وقراءتها وكتابتها وتمييزها باستخدام
أشياء ملموسة وسوم توضيحية .

السؤال الأول :

عد الأشياء ثم انطق العدد واكتبه :

.....	
.....	
.....	
.....	
.....	
.....	



المهارة المستهدفة :

حل مسائل رياضية باستعمال استراتيجيات ومهارات مناسبة

فصل
الأعداد
حتى 0

السؤال الأول

صِل بين الوردة ونحلة واحدة ، ثم حوِّط النحلّات المتبقية وأتب عددها :




فصل
الموقع
والنمط

المهارة المستهدفة :

استعمال المفردات (فوق، تحت، أعلى، أوسط، أسفل)
لوصف أو تحديد مواضع الأشياء بعضها بالنسبة إلى بعض .

السؤال الأول


حوظ البالون الذي يقع فوق الشجرة :



السؤال الثاني

أصل الكلمات (أعلى، أوسط، أسفل) بالصورة المناسبة :


أوسط



أعلى



أسفل



المهارة المستهدفة :

وصف ترتيب الحوادث والأشياء والأماكن باستخدام قبل وبعد

فصل
الموقع
والنمط

السؤال الأول

حوظ السيارة الواقعة قبل الشاحنة الحمراء ، وضع علامة X

على السيارة الواقعة بعد السيارة الرمادية :



السؤال الثاني

لون الطائر الذي قبل الطائر الأزرق باللون الأصفر ، ولون الذي بعده باللون الأحمر :





فصل
الموقع
والنمط

المهارة المستهدفة :

تحديد أنماط الأشياء وتوسيعها وإنشاؤها


السؤال الأول

حدد النمط، ثم لون النجوم ليكتمل النمط :



السؤال الثاني

اختر الفاكهة المناسبة للنمط :




فصل
الأعداد
حتى ١٠

المهارة المستهدفة :

عد الأعداد ضمن العدد (٢٠) وقراءتها وكتابتها وتمييزها باستخدام أشياء ملموسة وسوم توضيحية .

السؤال الأول

عد الأشياء ثم انطق العدد وأكتبه :



المهارة المستهدفة :

مقارنة الأعداد ضمن العدد (٢٠) وترتيبها باستخدام خط الأعداد

فصل
الأعداد
حتى ١٠


السؤال الأول

اكتب العدد المناسب وحوط المجموعة الأقل :



السؤال الثاني

عد الدوائر، ثم مدد قلمك على الأعداد المنقطة، و اكتب العدد المفقود :




المهارة المستهدفة :

فصل
الأعداد
حتى ١٠

استعمال الأعداد الترتيبية حتى العاشد لوصف موقع شيء في صف.


السؤال الأول

حوظ العربة الثانية، وذاق علامة X على العربة الرابعة :





السؤال الثاني



ذاق علامة X على الطائر الأول، وخطأ تحت الطائر الثالث :







مراجعة

عد الأشياء وأختار الإجابة الصحيحة :

		
٣	٥	١
		
٢	٧	٩

		
٣	٢	٤
		
٤	٦	٨

		
٩	٣	٤
		
٨	٢	٦

		
٢	٨	٦
		
٥	٣	٤



ألعاب

الأعداد من ١ إلى ١٠



٣	

٢	

١	

٧	

٥	

٦	

١٠	

٨	

٩	