



وزارة التعليم
Ministry of Education

المملكة العربية السعودية

وزارة التعليم ٢٨٠

الإدارة العامة للتعليم بمحافظة جدة

الشؤون التعليمية

إدارة أداء التعليم - قسم الإشراف التربوي

المادة/ (اللغة العربية/العلوم / الرياضيات)
الصف / السادس الابتدائي
الزمن / ٤٥ دقيقة

نموذج **إجابة** الاختبار المحاكي الأول للمواد التالية (اللغة العربية - العلوم - الرياضيات) للصف السادس الابتدائي

تعليم عام / تحفيظ القرآن الكريم للعام الدراسي ١٤٤٥هـ -

اسم الطالب/ة رابعياً
رقم الجلوس :
رقم القاعة
اليوم : التاريخ : / / ١٤٤٥هـ
السنة : الصف :

المادة	الدرجة رقماً	الدرجة كتابة	اسم المصحح/ة	التوقيع	اسم المراجع/ة	التوقيع
اللغة العربية	٨ درجات	ثمان درجات لا غير				
العلوم	٥ درجات	خمس درجات لا غير				
الرياضيات	٥ درجات	خمس درجات لا غير				
المجموع		١٨ درجة لا غير <hr/> <hr/> ١٨				

..... : راجعه/ته :

..... : جمعه/ته :

التوقيع :

التوقيع :

نموذج إجابة اختبار القراءة - الصف السادس الابتدائي - النموذج الأول

لكل فقرة درجة واحدة ماعدا الفقرة الأخيرة درجتان (المجموع ثمان درجات لاغير)

فاطمة الزهراء .. ربحانة رسول الله ﷺ

وُلدتْ فاطمةُ الزهراءُ رضوان الله عليها سنة بناء الكعبة قبل البعثة المحمدية بخمس سنين.

أما أمُّها فسيِّدةُ زَمانٍ جمعت العقلَ الحَصيفَ إلى النَّسبِ الشَّريفِ وضمَّتْ إلى ذلك الخلائقِ الفاضلة، والثروة الطائلة؛ فكانت تُدعى في الجاهلية بالطاهرة، وتُنعت بسيدة نساء قريش. أمنتُ بالرسول ﷺ إذ كَفَّر به الناسُ، وصدَّقتهُ إذ كَذَّبَهُ الناسُ، وواسَّتهُ بمالها إذ حَرَمَهُ الناسُ. وقد حبا الله هذه السيدةَ الوقورَ صباحةَ الوجه مع ما حباها به من الخُلُقِ الجميل، والحسبِ الأثيل، والمالِ الجزيل، هذه هي أمُّ فاطمة الزهراء. وأما أبوها فسيِّدُ المرسلين، وخاتمُ النبيين، وإمامُ المتقين، فأعْظَمَ بهذا النَّسبِ الكَريمِ نَسَبًا، وهذا الأبُ العَظيمُ أبًا.

كانت فاطمةُ الزهراءُ آخرَ أولادِ أبيها، وآخرُ الأولادِ يتقلَّبُ في أعطافِ الحنانِ والحَدَبِ، ويدرجُ في أكنافِ الحفاوةِ والحبِّ؛ لذا كانت فاطمة ربحانة رسول الله ﷺ، يرضى إذا رضيتُ ويسخطُ إذا سخطتُ. ولكن حنان الأبوين لم يحلْ دونَ تعهِّدِ المحبوبةِ الأثيرةِ بالتربيةِ وإعدادها لتحملِ المسؤوليات. فقد روي أنها كانت تقوم وحدها بصنِّيعِ بيتها لا يُعينها في أكثرِ أيامها أحدٌ، وأنها كانت تُضَعِّدُ جراحَ أبيها صلوات الله عليه في غزوة أحد. وكان النبي ﷺ إذا قدمَ من سَفَرٍ بدأَ بالمسجدِ فصلَّى فيه ركعتين ثم يُتَيَّبُ ببيتِ فاطمةَ ويَطيِّلُ عندها المكثُ، ثم يأتي بيوت نساءه.

ثم إن بيتَ فاطمةَ الزهراء ما لَبِثَ أن سَعِدَ بالدَّرَجَةِ الصالحةِ فقد رُزِقَ الأبوانِ الكَريمانِ كُلاً من الحَسَنِ، والحُسَيْنِ، ومُحسِنٍ، وزينبٍ، وأمِّ كلثومٍ. كانت فرحةُ الرسولِ الكَريمِ ﷺ بهم كبيرةً، فقد رُوِيَ أَنَّهُ لما وُلِدَ الحَسَنُ سَمَّاهُ والِداهُ " حَرَبًا "، فجاء رسول الله ﷺ فقال: أُرُونِي ابني، ما سَمَّيْتُموه؟ قالوا: حَرَبًا. قال: بل هو حَسَنٌ.

وكان الرسول ﷺ يُدَلِّلُ أولادَ فاطمة رضي الله عنها ويستأنسهم ويرقصهم، وربما ركب الواحد منهم على كتفيه وهو يصلي، فيتأثَّرُ في صلاته ويَطيِّلُ سُجودَهُ لكي لا يُزَحِّجَهُ عن مَرَكِبِهِ.

وقد كان من عادته ﷺ أن يبيتَ في بيتِ فاطمةَ حيناً بعد حين، ويتولَّى خِدمةَ أطفالها بنفسه وأبواهم قاعدان. ففي إحدى الليالي سمع الحَسَنُ يَسْتَسْقِي؛ فقام صلوات الله عليه إلى قرية فجعل يعصرها في القَدَحِ فَمَدَّ الحُسَيْنُ يَدَهُ لِيَتَنَاوَلَ المَاءَ؛ فَتَحَّاهُ عنه وبتدأَ بالحَسَنِ، فقالت فاطمة: كأنه أحبُّ إليك؟ فقال عليه السلام: (إنما استسقى أولاً).

بعد قراءتك للنص السابق أجب عن الأسئلة التالية (من ١- ٦)، وذلك باختيار الإجابة الصحيحة، وكتابة الإجابة للسؤال السابع في المكان المحدد

١- معنى "استسقى": درجة واحدة							
أ	طلب الماء	ب	طلب الأكل	ج	طلب النوم	د	طلب المال
٢- يقصد بعبارة " كانت تقوم وحدها بصنِّيع بيتها لا يعينها في أكثر أيامها أحد " أنها: درجة واحدة							
أ	تخدم بيتها	ب	تصنع بيوتًا	ج	تجلس في بيتها	د	تخرج من بيتها
٣- ضد كلمة " حباه ": درجة واحدة							
أ	أعطاه	ب	وهبه	ج	منحه	د	منعه
٤- ضد كلمة " رضيت " من النص : درجة واحدة							
أ	غضبت	ب	جزعت	ج	سخطت	د	كرهت
٥- المرادف لكلمة " الحنان " من النص : درجة واحدة							
أ	الحذب	ب	العطف	ج	الشفقة	د	الأمان
٦- ما الكلمة التي وردت في النص وتدل على هذا المعنى " الوجه المشرق " درجة واحدة							
أ	واضحة الوجه	ب	كبيرة الوجه	ج	مضيئة الوجه	د	صبَّاحة الوجه






س٧- ويَطِيلُ سُجودَهُ لكي لا يُزَحِّجَهُ عن مَرَكِبِهِ. استخدم كلمة يزحج في جملة جديدة وسياق جديد. درجتان

كل جملة مفيدة صحيحة المعنى تُعد مقبولة.

انتهت الأسئلة...

نموذج إجابة اختبار العلوم - الصف السادس الابتدائي - النموذج الأول

لكل فقرة درجة واحدة (المجموع خمس درجات لاغير)

في حديقة الحيوان لاحظت سارة اختلاف مناقير الطيور وألوانها رغم أنها تعيش في قفص واحد. ما سبب اختلاف مناقير الطيور؟								١
درجة واحدة								
أ	اختلاف ألوانها	ب	اختلاف غذائها	ج	اختلاف حجمها	د	اختلاف تكاثرها	
أي العبارات الآتية تصف ما تحتاجه الحيوانات؟ درجة واحدة								
أ	المكان - التربة	ب	المكان - الغذاء الماء - ثاني أكسيد الكربون	ج	المكان - الغذاء الماء - الأكسجين	د	المكان - الماء الغذاء - التربة	٢
عندما أزرع بذرة نبات في التربة وتكون الظروف ملائمة وتبدأ البذرة في النمو. بماذا أسمي هذه العملية؟ درجة واحدة								
أ	الإنبات	ب	التلقيح	ج	الإخصاب	د	التحلل	٣
الدب القطبي والفقمة مختلفان في الشكل لكن كلاهما يستطيع التكيف للبقاء في المناطق ذات البرودة الشديدة. ما الذي يساعد الفقمة على البقاء دافئة في بيئتها حيث أنها تفتقر للفقرو الكثيف؟ درجة واحدة								٤
								
أ	الأنياب	ب	حجمها الضخم	ج	الشارب	د	الطبقات الدهن	
أي الحيوانات التالية يكثر احتمال عيشها في الصحراء؟ درجة واحدة								
أ		ب		ج		د		٥

انتهت الأسئلة...

نموذج إجابة اختبار الرياضيات - الصف السادس الابتدائي - النموذج الأول

لكل فقرة درجة واحدة (المجموع خمس درجات لاغير)

إذا كانت كتلة ٣ خراف في مزرعة ٤٥ كيلوجراما ، فما كتلة ٤ خراف من هذه المزرعة؟ درجة واحدة								١
٦٠	د	٤٥	ج	٣٠	ب	٢٥	أ	

يحتوي ١٢ كوبًا من العصير على ١٠ ملاعق من السكر، إذا عمل سعد ٢٤ كوبًا من العصير، فكم ملعقة من السكر يكون قد استهلك؟ درجة واحدة								٢
٢٠	د	١٥	ج	١٠	ب	٥	أ	

استأجر خمس أشخاص قاربًا بحريًا بمبلغ ٢٠٠ ريالاً، إذا تقاسموا هذا المبلغ بالتساوي بينهم، فكم يدفع كل منهم؟ درجة واحدة								٣
٥٠	د	٤٥	ج	٤٠	ب	٣٥	أ	

لدى أحمد ٨ دجاجات و١٢ حمامة . فما نسبة عدد الحمام إلى عدد الدجاج؟ درجة واحدة								٤
$\frac{3}{2}$	د	$\frac{2}{3}$	ج	$\frac{1}{3}$	ب	$\frac{1}{2}$	أ	

المعدل (١٢٠ ريال مقابل ١٢ آلة حاسبة) في صورة معدل وحدة يساوي.... درجة واحدة								٥
١٠ آلات حاسبة	د	١٢٠ ريالاً ١٢ آلة حاسبة	ج	١٠ آلات حاسبة ١٢ ريالاً	ب	١٠ ريالات ١ آلة حاسبة	أ	

انتهت الأسئلة...

انتهت الأسئلة
نسأل الله التوفيق والسداد