

بنك الوحدة السادسة جبر

أولاً أحب من السؤالين اللذين:

السؤال الأول: في كل ما يأتي إجابة صهيية واحدة من بين ثلاث إجابات مقترحة أكتبها:
(1 ادلب 2018): في بيان إحصائي لدينا 6 مفردات متوسطها الحسابي 22 فإن مجموعها:

A	132	B	142	C	122
---	-----	---	-----	---	-----

(2) (اللاذقية 2018): وسط العينة 14, 13, 12, 11, 9, 7, 6, 4, 3 هو:

A	12	B	5	C	9
---	----	---	---	---	---

(3) (حلب 2018): وسط العينة 18, 15, 11, 9, 7, 4 هو:

A	10	B	11	C	9
---	----	---	----	---	---

(4) (حصص 2018): تجربة عشوائية لها نتيجتان فقط، احتمال آمد نتائجها هو 18% فإن احتمال النتيجة الأخرى

A	50%	B	18%	C	82%
---	-----	---	-----	---	-----

(5) (درعا 2018): وسط العينة من الأعداد: 30, 24, 22, 20, 18, 14, 12, 11, 10 ياوي:

A	14	B	18	C	20
---	----	---	----	---	----

(6) (تكميل 10 2018): الربع الأول للعينة 7, 9, 9, 12, 17, 19, 23, 25 هو:

A	23	B	12	C	9
---	----	---	----	---	---

(7) (تكميل 20 2018): عينة إحصائية 5, 5, 5, 5, 3, 3, 2, 2 فإن وسطها ياوي:

A	4	B	3	C	5
---	---	---	---	---	---

(8) (ادلب 2019): مدى العينة: 110, 90, 25, 19, 14, 12, 7 ياوي:

A	117	B	103	C	110
---	-----	---	-----	---	-----

(9) (السويداء 2019): الوسط في العينة الإحصائية: 8, 9, 12, 14, 20, 25, 29 هو العدد:

A	20	B	17	C	14
---	----	---	----	---	----

(10) (القطيف 2019): وسط العينة 1, 2, 2, 3, 3, 4, 6, 7, 8 ياوي:

A	4	B	$\frac{7}{2}$	C	3
---	---	---	---------------	---	---

(11) (دير الزور 2019) : وسط العينة الإحصائية 7, 9, 12, 14, 16, 20 هو العدد:

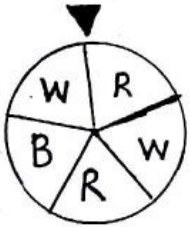
A	14	B	13	C	2
---	----	---	----	---	---

السؤال الثاني: في كل ما يأتي أجب بكلمة صح أو خطأ:

- (1) (السويداء 2018): الربع الأول للعينة 5, 6, 7, 8, 10, 11, 12, 14 هو 6.5.
- (2) (حصص 2018): احتمال حدث بسيط هو عدد محصور بين الصفر والواحد.
- (3) (حصص 2018): في تجربة رمي قطعة نقود متجانسة فإن احتمال ظهور الشعار ياي احتمال ظهور الكتابة دياوي 0.5.
- (4) (دمشق 2018): الربع الأول Q للعينة 5, 6, 7, 8, 10, 11, 12, 14 هو 6.5.
- (5) (ريف دمشق 2018): وسط مفردات العينة الإحصائية 3, 5, 7, 9, 10, 11, 12 هو 10.
- (6) (التحصيل 2018): في تجربة رمي قطعة نقود متجانسة فإن احتمال ظهور الشعار ياي احتمال ظهور الكتابة ياي $\frac{1}{2}$.

ثانياً حل التمارين الآتية:

1. التمرين الأول: (ادلب 2018) صندوق يحوي 6 بطاقات متماثلة كتبت عليها الأرقام: 2, 2, 3, 3, 3, 7. سحب عشوائياً من الصندوق بطاقة واحدة فقط وسجل رقمها وطلوب:
 - (1) ارسم شجرة الإمكانيات لهذه التجربة معلاً فروعها باحتمال ظهور أي رقم من الأرقام السابقة.
 - (2) الحدث A ظهور بطاقة تحمل رقماً أصفر تماماً من 4. احسب $P(A)$.
 - (3) إذا كانت الأعداد 2, 2, 3, 3, 3, 7. تمثل عينة إحصائية عين مدى هذه العينة ووسيطها.
2. التمرين الثاني: (الرقعة 2018): في الشغل الجوار دولاب متجانس مقسم إلى خمسة أقسام متساوية اثنين منها باللون الأحمر (R) واثنان منها باللون الأبيض (W) وواحد باللون الأزرق (B) نذور الدولاب ونشاهد اللون الذي يستقر عنده المعلم:



- (1) ارسم شجرة الإمكانيات مزوداً فروعها بالاحتمالات الموافقة.
- (2) نفترض الحدث A أن يستقر اللون الأحمر عند المعلم احسب $P(A)$.
- (3) نفترض الحدث C أن يستقر اللون الأبيض أو الأزرق عند المعلم احسب $P(C)$.

التمرين الثالث: (السويداء 2018) يحوي صندوق 6 كرات متماثلة كتبت عليها الأرقام:

- 2, 2, 2, 3, 3, 4. سحب من الصندوق عشوائياً كرة ونقرأ رقمها. الحدث A ظهور كرة تحمل عدد فردي، الحدث B ظهور كرة تحمل عدد زوجي، C حدث ظهور كرة تحمل عدد أولي:

- (1) جد الاحتمالات $P(A)$, $P(B)$, $P(C)$.
- (2) هل الحدتان A, B متنافيتان؟ ولماذا؟
- (3) إذا كانت الأعداد (2, 2, 2, 3, 3, 4) تمثل عينة إحصائية جد الوسيط ومدى العينة.

التمرين الرابع: (القيطرة 2018): صندوق يحوي 6 كرات متماثلة كتبت عليها الأرقام:

- 0, 1, 1, 1, 2, 2.
- (1) ارسم شجرة الاحتمالات وزود فروعها بالاحتمالات النتائج الممكنة.
 - (2) الحدث A هو ظهور كرة رقمها أكبر أو يساوي 1. احسب $P(A)$.

التدريب الخامس (الحلقة 2018): اثنى عشر فرد متباين مرآ واحدة أو صيغة {1, 2, 3, 4, 5, 6} ونعرف الأحداث: A حدث ظهور عدد زوجي و B حدث ظهور عدد فردي و C حدث ظهور عدد أكبر تعاقباً من 4. عين حدثين متنافيين من الأحداث السابقة.

(2) اصعب احتمالات كل من الأحداث A, B, C.

(3) عين الحدث \bar{C} المعاكس للحدث C ثم أوجد $P(\bar{C})$

التدريب السادس (اللاذقية 2018): صندوق فيه 6 بطاقات متماثلة كتبت عليها الأعداد 1, 2, 2, 3, 3, 4. نسيب من الصندوق عشوائياً بطاقة واحدة ونعرف الأحداث الآتية:

A: حدث ظهور بطاقة تحمل عدد فردي, B: حدث ظهور بطاقة تحمل عدد زوجي

C: حدث ظهور بطاقة تحمل عدداً وكي. والمطلوب:

(1) اصعب الاحتمالات الآتية: $P(A)$, $P(B)$, $P(C)$

(2) هل الحدثان A, B متعاكسان؟ ولماذا؟

(3) إذا كانت الأعداد والآتية: 2, 2, 3, 3, 3, 4. تحمل عيناً إحصائية جد وسيطها والربيع الثالث

التدريب السابع (ملعب 2018): صندوق يحوي 5 كرات متماثلة كتبت عليها الأرقام:

1, 1, 1, 2, 2, 2, 3, 3, 4. نسيب من الصندوق عشوائياً كرة واحدة ونقرأ رقمها.

(1) ارسم شجرة الاحتمالات وزود فروعها بالاحتمالات المناسبة.

(2) إذا كان الحدث A سحب كرة رقماً أصفر أو يساوي 2، اصعب $P(A)$

(3) إذا كانت الأعداد والآتية: 1, 1, 1, 2, 2, 2, 3, 3, 4. تحمل عيناً إحصائية، أوجد

وسيط هذه العينة والربيع الثالث لها.

التدريب الثامن (عمارة 2018): مغلف يحوي 5 بطاقات متماثلة كتبت عليها الأرقام: 2, 2, 3, 3, 4.

نسيب من المغلف عشوائياً بطاقة واحدة ونسجل رقمها:

(1) ارسم شجرة الاحتمالات وزود فروعها باحتمالات النتائج الممكنة.

(2) الحدث A هو ظهور بطاقة تحمل رقماً أصغر تماماً من 4، اصعب $P(A)$

(3) الحدث \bar{A} هو الحدث المعاكس للحدث A، اصعب $P(\bar{A})$

التدريب التاسع (درعا 2018): صندوق يحوي سبع كرات متماثلة تحمل كلاً من رقمين، من 1 إلى 4 كرات

سواء أرقامها: 1, 1, 2, 3, 3, 4. نسيب عشوائياً كرة، للمطلوب:

(1) حدث A سحب كرة من الصندوق تحمل رقم 3، اصعب $P(A)$

(2) حدث B سحب كرة من الصندوق سواء رقمها أصغر تماماً من 3، اصعب $P(B)$.

التدريب العاشر (دمشق 2018): في الشكل الجدار وولاب متباين مقسم إلى خمسة أقسام متساوية

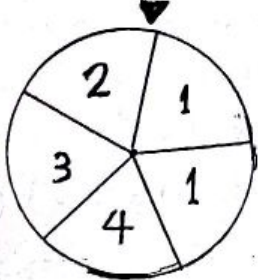
نذور هذا الدولاب وبعد أن يتقرر نقرأ العدد المكتوب الذي يتقرر عليه المعلم:

A حدث ظهور العدد 1، B حدث ظهور عدد زوجي

(1) ارسم شجرة الاحتمالات وزود فروعها باحتمالات النتائج الممكنة

(2) اصعب احتمال الحدث A ثم احتمال الحدث B

(3) هل الحدثان A و B متنافيان مبرراً إحصائياً؟



التعريف الحادي عشر (ديزورد 2018): العينة اللاتية: 9, 8, 7, 7, 7, 5, 5, 4, 3, 2 تمثل درجات عشرة طلاب في اختبار ما (درجته العظمى 10) والمطلوب:

(1) احسب المتوسط الحامى والمدى والوسيط لهذه العينة.

(2) إذا كانت A حدث يمثل اختيار درجة أحد الطلاب العشرة العينة السابقة الذي نال الدرجة أكبر تماماً من 7.

(3) احسب $P(A)$ و $P(\bar{A})$: (A الحدث العكس لـ A)

التعريف الثاني عشر: (ريف دمشق 2018): صندوق يحتوي على 5 كرات متماثلة كراتين حمراوين وثلاث كرات زرقاء وخمس كرات صفراء) نحب عشوائياً من الصندوق كرة واحدة.

(1) ارسم شجرة الامكانيات لهذه التجربة وزود فروعا باحتمالات النتائج الممكنة.

(2) الحدث A سحب كرة (حمراء أو صفراء) احسب $P(A)$ واستنتج $P(\bar{A})$: (A الحدث العكس للحدث A)

التعريف الثالث عشر (طرطوس 2018): صندوق يحتوي على 8 بطاقات متماثلة، تحمل كل منها رقماً، منها خمس بطاقات حمراء أرقامها: 1, 2, 1, 1, 1 وثلاث بطاقات زرقاء أرقامها: 1, 2, 3. سحب من الصندوق عشوائياً بطاقة واحدة فقط والمطلوب:

(1) حدث A سحب بطاقة من الصندوق تحمل الرقم 2 احسب $P(A)$

(2) حدث B سحب بطاقة حمراء من الصندوق احسب $P(B)$

(3) إذا كانت الأعداد (1, 1, 1, 1, 2, 2, 3) تمثل عينة إحصائية، احسب المتوسط

الحامى لإتم احسب وسيطاً.

التعريف الرابع عشر (تكميلية 2018): صندوق يحتوي سبع كرات متماثلة منها أربع كرات حمراء اللون مرقمة بالأرقام 1, 2, 1, 1 وثلاث كرات سوداء مرقمة بالأرقام 3, 3, 2. سحب عشوائياً كرة واحدة من الصندوق، المطلوب

(1) إذا كانت B حدث ظهور كرة سوداء وتحمل الرقم 2 احسب $P(B)$

(2) إذا كانت A حدث ظهور كرة تحمل الرقم 2 احسب $P(A)$

التعريف الخامس عشر (همص 2019): نضع في صندوق 6 كرات متماثلة رُصت بالأرقام اللاتية: 9, 6, 6, 4, 4, 4. نحب عشوائياً كرة واحدة ونقرأ رقمها، المطلوب:

(1) ارسم شجرة الامكانيات وزود فروعا باحتمالات النتائج الممكنة

(2) إذا كانت A حدث: سحب كرة تحمل رقماً زوجياً احسب $P(A)$

(3) احسب كلاً من المدى والوسيط للعينة 9, 6, 6, 4, 4, 4

التعريف السادس عشر: (طرطوس 2019): مغلف يحتوي على 6 بطاقات مرقمة كما يلي:

18, 12, 12, 10, 10, 10 والمطلوب:

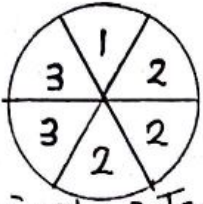
(1) أوجد المتوسط الحامى والوسيط لأرقام البطاقات

(2) نحب من المغلف عشوائياً بطاقة واحدة، ارسم فطط شجري يعبر عن التجربة

وزود فروعا باحتمالات المناسبة

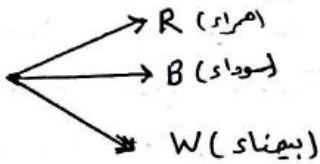
(3) احسب احتمال سحب بطاقة تحمل عدداً يقبل القسمة على 3

التدريب السابع عشر (ادلب 2019) في الشكل المجاور دولاب مقانس مقسم إلى ستة أقسام متساوية وكتب عليها الأرقام 3, 3, 2, 2, 2, 1. اذور هذا الدولاب ونقرأ الرقم الذي يتقر عنده المعلم والمطلوب :



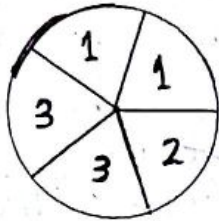
- (1) ارسم الشغل التجري للتجربة وزود فروعا بالاحتمالات الممكنة
- (2) إذا كانت A حدث: ظهور رقم أصغر تماماً من 3، اصب $P(A)$
- (3) اصب $P(\bar{A})$: (\bar{A} الحدث المعاكس للحدث A)

التدريب الثامن عشر (المسكة 2019) المخطط التجري الآتي يعبر عن تجربة سحب كرة واحدة فقط من صندوق يحتوي على 8 كرات متماثلة، منها 3 كرات سوداء، و 3 حمراء و 2 كرات بيضاء والمطلوب :



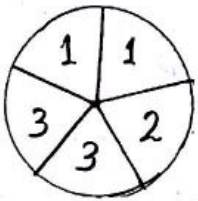
- (1) ارسم الشغل التجري على ورقة إجابتك وزود فروعا بالاحتمالات الموافقة .
- (2) إذا كانت R حدث سحب كرة حمراء، اصب $P(R)$
- (3) إذا كانت C حدث سحب كرة حمراء أو سوداء اصب $P(C)$

التدريب التاسع عشر (الرقعة 2019) في الشكل المجاور قرص مقانس مقسم إلى خمسة أقسام متساوية ومرقعة بالأرقام 1, 1, 2, 3, 3. اذور هذا القرص ونقرأ الرقم الذي يتقر عنده المؤشر، والمطلوب :



- (1) ارسم شجرة الاحتمالات مزوداً فروعا بالاحتمالات الموافقة
- (2) نقرض من الحدث C أن يتقر المؤشر عند عدد فردي، اصب $P(C)$
- (3) اصب الوسيط للعينة 1, 1, 2, 3, 3

التدريب العشرون (الويداي 2019) في الشكل المجاور قرص مقانس مقسم إلى خمسة أقسام متساوية ومرقعة بالأرقام 3 و 3 و 2 و 1 و 1. اذور هذا القرص ونقرأ الرقم الذي يتقر عنده السهم، والمطلوب :



- (1) ارسم شجرة الاحتمالات مزوداً فروعا بالاحتمالات الموافقة
- (2) نقرض من A حدث الحصول على عدد أصغر تماماً من 3، اصب $P(A)$
- (3) نقرض من الحدث C الحصول على عدد فردي، اصب $P(C)$

التدريب الواحد والعشرون (القيظرة 2019) يحتوي كيس 15 كرات متماثلة رصمت بالأرقام الآتية: 4, 4, 4, 4, 3, 3, 3, 3, 2, 2, 1. اصب عشوائياً كرة واحدة ونقرأ رقماً، والمطلوب :

- (1) ارسم شجرة الاحتمالات وزود فروعا بالاحتمالات الناتجة الممكنة .
- (2) إذا كانت A حدث سحب كرة تحمل رقم فردي، اصب $P(A)$
- (3) إذا كانت B حدث سحب كرة تحمل رقماً أكبر تماماً من 2، اصب $P(B)$

التدريب الثاني والعشرون (اللاذقية 2019) اضع في صندوق 8 كرات متماثلة رصمت بالأرقام الآتية: 4, 4, 3, 3, 3, 3, 1, 1. اصب عشوائياً كرة واحدة ونقرأ رقماً، والمطلوب :

- (1) ارسم شجرة الاحتمالات وزود فروعا بالاحتمالات الناتجة الموافقة .
- (2) إذا كانت A حدث: سحب كرة تحمل رقماً أكبر تماماً من 3 و \bar{A} هو الحدث المعاكس للحدث A اصب كلاً من: $P(A)$ و $P(\bar{A})$
- (3) عين الوسيط في العينة 4, 4, 3, 3, 3, 3, 1, 1

التجربة الثالثة والعشرون (حلب 2019): نتأمل حجر زرد متوازناً كتب على كل وجه من أوجهه الستة أحد الأرقام: 1, 2, 3, 4, 5, 6. نلقي الحجر الزرد ونسجل نتيجة التجربة رقم الوجه العلوي للحجر الزرد. المطلوب:

(1) ارسم شجرة الاحتمالات وزود فروعها باحتمالات النتائج.

(2) الحدث A: الحصول على عدد فردي، احبب احتمال A

(3) الحدث B: الحصول على عدد أكبر تماماً من 2 احبب احتمال B

التجربة الرابعة والعشرون (حماة 2019): يحوي كيس 6 كرات متماثلة رصفت بالأرقام الآتية:

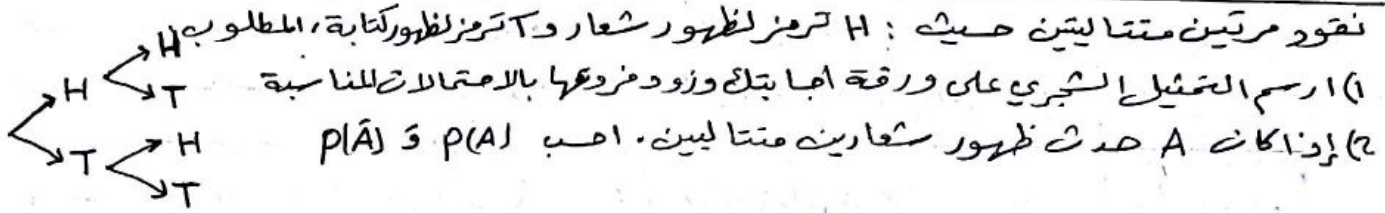
1, 2, 3, 4, 1, 1, 1. نسحب عشوائياً كرة واحدة ونقرأ رقماً. المطلوب:

(1) ارسم شجرة الاحتمالات وزود فروعها باحتمالات النتائج الممكنة.

(2) إذا كان A: حدث سحب كرة رقماً زوجياً احبب $P(A)$

(3) احبب وسط العينة 1, 1, 1, 2, 3, 4

التجربة الخامسة والعشرون (درعا 2019): التمثيل الشجري المجاور يمثل تجربة القار قطعة



التجربة السادسة والعشرون (دمشق 2019): كيس يحوي عشر كرات متماثلة رصفت بالأرقام:

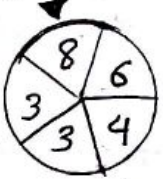
1, 1, 1, 1, 2, 2, 2, 2, 3, 4. سحبته منه عشوائياً كرة واحدة. والمطلوب:

(1) ارسم شجرة الاحتمالات وزود فروعها باحتمالات النتائج العواقبة

(2) الحدث A: سحب كرة تحمل أحد الرقمين 3 أو 4 احبب احتمال A

(3) احبب وسط العينة الإحصائية 1, 1, 1, 1, 2, 2, 2, 2, 3, 4

التجربة السابعة والعشرون (دير الزور 2019): في الشكل المجاور قرص مقبلس مقسم إلى



هذه أقسام متساوية ومرفقة بالأرقام 8, 6, 4, 3, 3, 4, 6, 8. ندير هذا القرص ونقرأ الرقم الذي يتقرر عند السهم والمطلوب:

(1) ارسم شجرة الاحتمالات وزود فروعها بالاحتمالات العواقبة

(2) نفترض الحدث A: أن يتقرر القرص عند عدد زوجي احبب $P(A)$

(3) نفترض الحدث C: أن يتقرر القرص عند عدد من قواسم العدد 2، احبب $P(C)$

التجربة الثامنة والعشرون (ريف دمشق 2019): يحوي كيس 7 كرات متماثلة رصفت

بالأرقام الآتية: 1, 1, 2, 4, 5, 5, 5. نسحب عشوائياً كرة واحدة ونقرأ رقماً. المطلوب:

(1) ارسم شجرة الاحتمالات وزود فروعها باحتمالات النتائج الممكنة.

(2) إذا كان A: حدث سحب كرة تحمل رقماً أصغر تماماً من 4 احبب $P(A)$

(3) عين وسط العينة 1, 1, 2, 4, 5, 5, 5

التجربة التاسعة والعشرون (القيسية في لبنان 2019): في تجربة القار قطعة نقوم بمقارنة مرتين متتاليتين:

(1) ارسم شجرة الاحتمالات لهذه التجربة عملاً فزود فروعها باحتمالات النتائج الممكنة

(2) حدث A: الحصول على كرتين (T, T) احبب $P(A)$