

تم تحميل وعرض المادة من



Google



موقع حصتي

موقع حصتي هو موقع تعليمي يعمل على تسهيل العملية التعليمية بطريقة بسيطة وسهلة وتوفير كل ما يحتاجه المعلم والطالب لكافة الصفوف الدراسية كما يحتوي الموقع على طول جميع المواد مع الشروح المتنوعة للمعلمين.

اختبار مادة الرياضيات للصف الأول الابتدائي (الفترة 2 - الفصل الدراسي الثاني 1447 هـ)

اسم الطالب	الصف	أول /
------------	-------	------	-------------

9

السؤال 1



أ اكتب العدد في صورة آحاد وعشرات :

1 ٧٥ آحادًا = آحادٍ و عَشْرَاتٍ .

2 ٩٢ آحادًا = آحادٍ و عَشْرَاتٍ .

ب اكتب العدد بطرائق مختلفة :

عَشْرَاتٍ	آحادٍ


عَشْرَاتٍ	آحادٍ
	

..... آحادٍ و عَشْرَاتٍ

ج أحوط 10 أشياء ، وأقدر العدد ، ثم أعد لأجد العدد الحقيقي :

التقدير:

العدد الحقيقي:



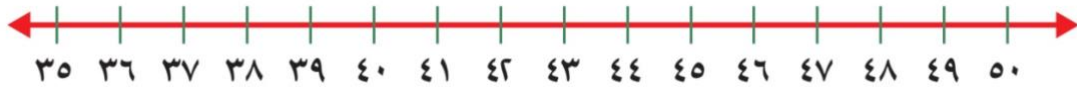
د اكتب < أو > أو = في ○ :

7 ٨٢ ○ ٨٦

6 ٣٧ ○ ٣٧

5 ٨٥ ○ ٦٥

اقلب الورقة



أ اكتب العدد الذي يلي مباشرة :

8 37 ، 9 39 ، 10 41 ،

ب اكتب العدد الذي يسبق مباشرة :

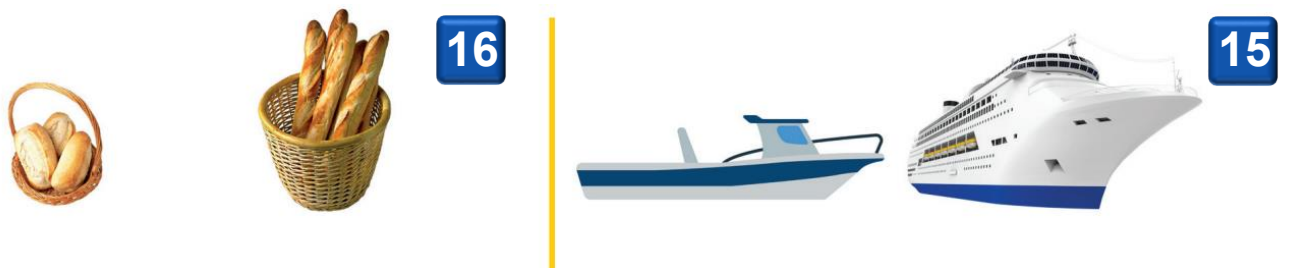
11 36 ، 12 50 ، 13 46 ،

أ ارتب الأشياء من الأقصر إلى الأطول ، وأكتب الأرقام 1 أو 2 أو 3 مبتدئاً بالأقصر :



14

ب أحوط الشيء الأخف :



ج أحوط الشيء الذي سعته أقل :



اليوم	
التاريخ	
المادة	رياضيات
الفترة	الأولى

اختبار مادة الرياضيات للصف الأول الابتدائي (الفترة الثانية) الفصل الدراسي (الثاني) للعام ١٤٤٧ هـ

اسم الطالب / ة
الصف:	أولى /
الدرجة المستحقة	٢٠

<p>السؤال الأول: اكتب عدد الآحاد والعشرات ثم اكتب العدد</p> <table border="1"> <tr> <th>عَشْرَات</th> <th>آحَاد</th> </tr> <tr> <td> <input type="checkbox"/><input type="checkbox"/><input type="checkbox"/><input type="checkbox"/><input type="checkbox"/><input type="checkbox"/><input type="checkbox"/><input type="checkbox"/><input type="checkbox"/><input type="checkbox"/><input type="checkbox"/> <input type="checkbox"/><input type="checkbox"/><input type="checkbox"/><input type="checkbox"/><input type="checkbox"/><input type="checkbox"/><input type="checkbox"/><input type="checkbox"/><input type="checkbox"/><input type="checkbox"/> <input type="checkbox"/><input type="checkbox"/><input type="checkbox"/><input type="checkbox"/><input type="checkbox"/><input type="checkbox"/><input type="checkbox"/><input type="checkbox"/><input type="checkbox"/><input type="checkbox"/> </td> <td> <input type="checkbox"/> <input type="checkbox"/> <input type="checkbox"/> </td> </tr> </table> <p>_____ آحَادٍ _____ عَشْرَاتٍ _____ أَرْبَعَةٌ وَثَلَاثُونَ</p>	عَشْرَات	آحَاد	<input type="checkbox"/> <input type="checkbox"/> <input type="checkbox"/> <input type="checkbox"/> <input type="checkbox"/> <input type="checkbox"/> <input type="checkbox"/> <input type="checkbox"/> <input type="checkbox"/> <input type="checkbox"/> <input type="checkbox"/> <input type="checkbox"/> <input type="checkbox"/> <input type="checkbox"/> <input type="checkbox"/> <input type="checkbox"/> <input type="checkbox"/> <input type="checkbox"/> <input type="checkbox"/> <input type="checkbox"/> <input type="checkbox"/> <input type="checkbox"/> <input type="checkbox"/> <input type="checkbox"/> <input type="checkbox"/> <input type="checkbox"/> <input type="checkbox"/> <input type="checkbox"/> <input type="checkbox"/> <input type="checkbox"/> <input type="checkbox"/>	<input type="checkbox"/> <input type="checkbox"/> <input type="checkbox"/>	<p>السؤال الثاني: قدر عدد المكعبات، ثم أوجد العدد الحقيقي</p> <p>التقدير: _____</p> <p>العدد الحقيقي: _____</p>
عَشْرَات	آحَاد				
<input type="checkbox"/> <input type="checkbox"/> <input type="checkbox"/> <input type="checkbox"/> <input type="checkbox"/> <input type="checkbox"/> <input type="checkbox"/> <input type="checkbox"/> <input type="checkbox"/> <input type="checkbox"/> <input type="checkbox"/> <input type="checkbox"/> <input type="checkbox"/> <input type="checkbox"/> <input type="checkbox"/> <input type="checkbox"/> <input type="checkbox"/> <input type="checkbox"/> <input type="checkbox"/> <input type="checkbox"/> <input type="checkbox"/> <input type="checkbox"/> <input type="checkbox"/> <input type="checkbox"/> <input type="checkbox"/> <input type="checkbox"/> <input type="checkbox"/> <input type="checkbox"/> <input type="checkbox"/> <input type="checkbox"/> <input type="checkbox"/>	<input type="checkbox"/> <input type="checkbox"/> <input type="checkbox"/>				

<p>السؤال الثالث: أجب عما يلي</p> <p>(أ) اكتب العدد الذي يسبق مباشرة العدد المعطى</p> <p>30, 31, 32, 33, 34, 35</p> <p>32, _____</p>	<p>(ب) اكتب العدد الذي يلي مباشرة العدد المعطى</p> <p>40, 41, 42, 43, 44, 45</p> <p>42, _____</p>
<p>(ج) اكتب العدد الذي يقع بين العددين</p> <p>90, 91, 92, 93, 94, 95, 96</p> <p>92, _____, 94</p>	

<p>السؤال الرابع: استخدم العد القفزي لحل مايلي</p> <p>٢، ٤، ٦، ٨، ١٢، ١٦</p> <p>٥، ١٠، ١٥، ٢٠، _____، _____، ٣٥</p>	<p>١٠، ٢٠، _____، _____، ٥٠</p>
---	---------------------------------

اليوم	
التاريخ	
المادة	رياضيات
الفترة	الأولى

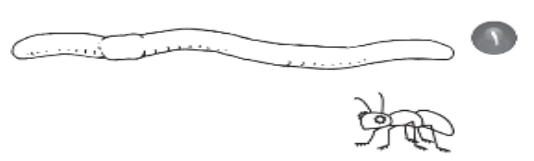

السؤال الخامس: أجب عما يلي

١- أكتب < أو > أو = في ○ :

٩٤ ○ ٧٤

٤٨ ○ ٥١

٢- حوِّط الكلمة المناسبة (أطول من ، أقصر من) للمقارنة بين الأطوال




قَلَمُ التَّخْطِيطِ (أَطْوَلُ مِنْ ، أَقْصَرُ مِنْ) قَلَمُ الرَّصَاصِ.

النَّمْلَةُ (أَطْوَلُ مِنْ ، أَقْصَرُ مِنْ) الدُّوْدَةِ.



٣- أيها الأخف



٤- أيها الأثقل:

٥- حوِّط الأكثر سرعة



٦- لدى كل من عمرو و بدر ١٠ ريالات ، فكم ريالاً لديهما ؟

.....

٧- اكتب الأعداد في المسألة التالية بالترتيب

لدى ماهر ١٠ ريالات ولدى فهد ٣٥ ريالاً ولدى بدر ١٦ ريالاً

..... ، ،

اليوم	
التاريخ	
المادة	رياضيات
الفترة	الأولى

اختبار مادة الرياضيات للصف الأول الابتدائي (الفترة الثانية) الفصل الدراسي (الثاني) للعام ١٤٤٧ هـ

نموذج الاجابة

السؤال الثاني: قدر عدد المكعبات، ثم أوجد العدد الحقيقي

التقدير: $\frac{40}{100}$

العدد الحقيقي: $\frac{32}{100}$

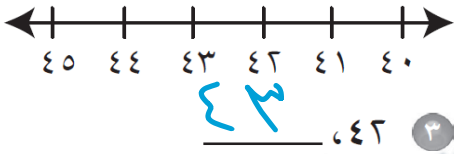
السؤال الأول: اكتب عدد الآحاد والعشرات ثم اكتب العدد

عشرات: ٣
آحاد: ٤
أربعة وثلاثون: ٣٤

عشرات	آحاد
□□□□□□□□	□
□□□□□□□□	□
□□□□□□□□	□

السؤال الثالث: أجب عما يلي

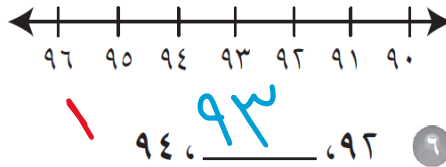
(ب) اكتب العدد الذي يلي مباشرة العدد المعطى



(أ) اكتب العدد الذي يسبق مباشرة العدد المعطى




(ج) اكتب العدد الذي يقع بين العددين




السؤال الرابع: استخدم العد القفزي لحل ما يلي



٢ ، ٤ ، ٦ ، ٨ ، ١٠ ، ١٢ ، ١٤ ، ١٦



٥ ، ١٠ ، ١٥ ، ٢٠ ، ٢٥ ، ٣٠ ، ٣٥



١٠ ، ٢٠ ، ٣٠ ، ٤٠

اليوم	
التاريخ	
المادة	رياضيات
الفترة	الأولى


السؤال الخامس: أجب عما يلي

١- أكتب < أو > أو = في ○ :

٩٤ > ٧٤

٤٨ < ٥١

٢- حوِّط الكلمة المناسبة (أطول من ، أقصر من) للمقارنة بين الأطوال

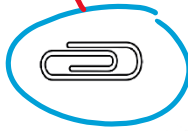


قَلَمُ التَّخْطِيطِ (أَطْوَلُ مِنْ) ، أَقْصَرُ مِنْ قَلَمِ الرَّصَاصِ.




النَّمْلَةُ (أَطْوَلُ مِنْ) ، أَقْصَرُ مِنْ الدُّوْدَةِ.

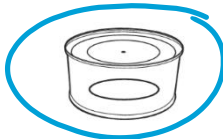
٣- أيها الأخف



٤- أيها الأثقل:



٥- حوِّط الأكثر سعة



٦- لدى كل من عمرو و بدر ١٠ ريالات ، فكم ريالاً لديهما ؟

٢٠

٧- اكتب الأعداد في المسألة التالية بالترتيب

لدى ماهر ١٠ ريالات ولدى فهد ٣٥ ريالاً ولدى بدر ١٦ ريالاً

٣٥ ، ١٦ ، ١٠

