

(وما توفيقي إلا باللهم)

أوراق عمل مادة  
الدراسات الاجتماعية

للصف الأول ثانوي

الإسم /..... الشعبة

## إرشادات أساسية للتعلم

تذكر-ي- يجب عليك التحلي بروح الأخوة  
والإحترام والتعاون  
مع الأصدقاء .

استخدم مفاتيح المعرفة لكسب العلم النافع.

تصفح الدرس وحول كل عنوان رئيسي إلى سؤال باستخدام أحد  
هذه المفردات ( كم ؟.....متى ؟..من ؟.....ما ؟.... كيف ؟.. )  
استخدم الكتاب

حددي أهداف درسك بالإستفادة من أسئلتك السابقة.

نفذ الأنشطة المطلوبة في ورقة العمل بالترتيب لتحقيق  
أهدافك.

اسئلي الزميل (نقاش) ..... اسئلي المعلم (نقاش)

أوجد رابطاً مناسباً للدرس ( ديني - حياتي - وطني 2030 )

إن استخدام هذا الملف ليعني الإستغناء عن الكتاب أبداً.



عبر عن مشاعرك .



أدهشني



أحزنتني



أعجبني

## الاستراتيجية رقم (١) : استراتيجية نموذج فراير " نشاط جماعي "

باستخدام نموذج فراير تعاوني مع مجموعتك بكتابة ما تعرفينه عن مقومات الدولة القوية والمؤثرة :

خصائصه :	المفهوم :
الأمثلة غير الدالة عليه :	الأمثلة الدالة عليه :

مقومات الدولة القوية والمؤثرة

استراتيجية (٢) صمم - ي خارطة مفاهيم إبداعية بمفردك لمقومات الدولة القوية

السؤال الأول: ضع كلمة ( صح ) أمام العبارة الصحيحة وكلمة ( خطأ ) أمام العبارة الخطأ:

- ١- تحدد مكانة الدولة حسب مقوماتها التي تقودها الى التأثير في الساحة الدولية . ( )
- ٢- يعد الموقع الجغرافي للدولة من المؤثرات الحضارية ( )
- ٣- المقومات السياسية تتمثل في تمتع الدولة بنظام سياسي مستقر ( )
- ٤- تعد العملة والاستثمار من المقومات الاقتصادية ( )
- ٥- من مقومات الدول القوية والمؤثرة المقومات التقنية ( )
- ٦- تمثل القدرات العسكرية بجميع انواعها قوة واضحة للدولة ( )
- ٧- الامن مهم لأي دولة لحماية استقرارها ومصالحها ( )

السؤال الثاني : أكمل -ى الفراغات بما يناسبها .

- ١- تتمثل المقومات الدينية في وجود.....ترتبط بعدد كبير من سكان العالم .
- ٢- من المقومات الحضارية للدولة الموقع .....والعمق .....والجانب .....من حيث عدد السكان وحجم .....
- ٣- من الأمثلة في المجال التقني .....والفضاء.....
- ٤- يزيد قوة الدولة العسكرية فرض سيطرتها في المجال .....وأسلحة.....و.....

السؤال الثالث : اختار-ي الإجابة الصحيحة :

- ١- تتمثل المقومات السياسية بتمتع الدولة بنظام سياسي ( متززع - مستقر - متقلب - جميع ماسبق )
- ٢- من جوانب الاقتصاد (النظام المالي - العملة والإستثمار - التبادل التجاري - الناتج المحلي - جميع ماسبق )
- ٣- تمثل عامل جذب سياحي يسهم في قوة الدولة ( المواقع التاريخية - المعالم الطبيعية - جميع ماسبق )

## نشاط فردي

أمل حسب الطلب؟

المقومات الحضارية    المقومات الاقتصادية    المقومات الوطنية    المقومات الجغرافية    المقومات السياسية    المقومات الدينية

تحتضن الأماكن المقدسة وتعتمد في نظامها على كتاب الله وسنة رسوله

تقع بين ثلاث قارات ويحيط بها أكبر العابر المائية أهمية في العالم

نظام سياسي مستقر والتاريخ العربي الاصيل

أكبر دول العالم في إنتاج النفط ومن الدول القيادية في منظمة الاوبك

قامت على أرضها حضارات قديمة ولتأثر وشواهد وممالك

توحيد المملكة العربية السعودية ونشر الاسلام والامان

اعداد فنون  
تيلجرام  
taanal3

Windows تنشيط  
انتقل إلى الإعدادات لتنشيط

LIVEWORKSHEETS

## نشاط جماعي

أمامك خارطة بلدي الغالي -المملكة العربية السعودية - بالتعاون مع مجموعتك حددي عليها أهم المقومات الجغرافية .



١- الموقع

.....

٢- البحار التي تشرف عليها

.....

٣- أهم المضائق والمعابر المائية

.....

٤- فائدة هذا الموقع الإستراتيجي

.....

السؤال الأول: ضع كلمة ( صح ) أمام العبارة الصحيحة وكلمة ( خطأ ) أمام العبارة الخطأ:

- ١- تعد مدينة مكة المكرمة العاصمة السياسية للملكة العربية السعودية ( )
- ٢- اعتمدت رؤية المملكة ٢٠٣٠ على خصائص تبرز مكانتها العالمية ( )
- ٣- الموقع الجغرافي للمملكة العربية السعودية جعلها من الدول الحبيسة ( )
- ٤- النظام الأساسي للحكم أكد حرص الدولة على تحقيق الآمال الإسلامية ( )
- ٥- اعتمد النظام الملكي على البيعة وهو مبدأ إسلامي أصيل ( )
- ٦- المملكة العربية السعودية من أكبر الدول إنتاجاً للبتترول ( )
- ٧- كانت أرض المملكة العربية السعودية محور لطريق الحرير ( )
- ٨- لا تمتلك المملكة العربية السعودية أي مصدر للطاقة غير النفط ( )
- ٩- تقع منطقة العلا في المملكة العربية السعودية جنوب المدينة المنورة ( )
- ١٠- شهدت منطقة شبه الجزيرة العربية البدايات الأولى للإنسان ( )
- ١١- عاش قوم عاد في شمال الربع الخالي في المملكة ( )
- ١٢- قامت على أرض المملكة العربية السعودية ممالك قديمة ( )

السؤال الثاني: اختر الإجابة الصحيحة فيما يلي:

- ١- عاش قوم ثمود في المملكة العربية السعودية في منطقة (الربع الخالي - جيزان - نجران - العلا)
- ٢- من الأقوام الذين عاشوا في الربع الخالي قوم (ثمود - عاد - شعيب - يونس)
- ٣- من الحضارات القديمة التي عاشت على أرض المملكة (دومة الجندل - بابل - سبأ - معين)
- ٤- كانت عاصمة الدولة في عهد النبي ﷺ (مكة المكرمة - المدينة المنورة - الرياض - الطائف)
- ٥- استمرت فترة توحيد البلاد (ثلاثين سنة - أربعين سنة - عشرين سنة - خمسين سنة)
- ٦- تعد المملكة من الأعضاء المؤسسين للأمم المتحدة عام (١٩٤٦م - ١٩٤٥م - ١٩٤٧م - ١٩٤٨م)
- ٧- يعتبر الملك عبد العزيز مؤسس الدولة السعودية (الأولى - الثانية - الثالثة - الرابعة)

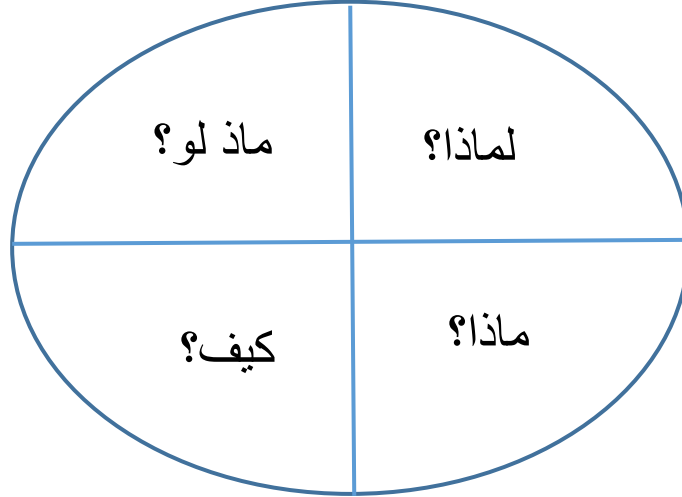
السؤال الثالث

أكتب الرقم المناسب من المجموعة ( أ ) أمام العبارة المناسبة في المجموعة ( ب ):

( أ )	( ب )
١ المقومات الدينية	المملكة العربية السعودية حلقة ربط بين قارات العالم القديم
٢ مقومات المملكة العربي السعودية	الحكم على كتاب الله وسنة رسوله ﷺ
٣ مقومات اقتصادية	الانضمام للهيئات الدولية
٤ المقومات الجغرافية	الممالك والحضارات القديمة
٥ مقومات سياسية	وجود كثير من المعادن في المملكة العربية السعودية
٦ مقومات حضارية	توثيق أواصر الأسرة السعودية
٧ المقومات الاجتماعية	

## نشاط جماعي (مفاتيح المعرفة)

- استعمل - ي مفاتيح المعرفة لبيان دور بلادي في دعم القضية الفلسطينية



## نشاط فردي

## دعم المملكة العربية السعودية لقضية فلسطين

س١ / ضعي صور ملوك المملكة العربية السعودية التالية امام اعمالها؟



رفض وعد بلفور والانتداب على البلاد العربية

استعمال النفط سلاحا فاعلا ضد الدول التي تساند العدو الصهيوني

ذكر ان الصراع العربي الاسرائيلي هو قضيتنا الاولى في مؤتمر القمة

الاسلامي الثالث

في عهده بنيت سفارة خاصة لدولة فلسطين في الرياض

انشاء صندوقين صندوق الاقصى وانتفاضة القدس

اطلق على القمة العربية التاسعة والعشرين قمة القدس

السؤال الأول: اختر الإجابة الصحيحة فيما يلي:

- ١ - رفضت المملكة العربية السعودية قرار هيئة الأمم المتحدة الخاص بـ  
( تقسيم فلسطين .- نصره فلسطين .- دعم اليهود .- تقسيم اسرائيل )
- ٢- كانت القوات ( السودانية \_ السعودية - المغربية ) في طليعة الجيوش التي انضمت لحرب عرب فلسطين ضد اليهود عام ١٩٤٨م
- ٣- من الحملات التبرعية التي قدمتها المملكة العربية السعودية لدعم الشعب الفلسطيني حملة  
( شارك ترح - لمستقبل أفضل . ادفع ريالاً تنقذ عربياً )

السؤال الثاني: أكتب -ي الرقم المناسب من المجموعة ( أ ) أمام العبارة المناسبة في المجموعة ( ب ):

العمود أ	العمود ب
١ - استنجد اليهود في الحرب الفلسطينية بـ	فرانكلين روزفلت
٢ - من أساليب التشوية التي تعرضت لها بلادي في دعم القضية الفلسطينية .	امريكا
٣- كانت الرسالة التاريخية من الملك عبدالعزيز للرئيس الأمريكي	تزيروثائق تزعم أن الملك عبدالعزيز باع أرض فلسطين للصهاينة !!؟
٤ - قامت المملكة العربية السعودية بتمويل مشاريع المحافظة على الهوية العربية الاسلامية لمدينة القدس بإنشاء	١٤٣٩ هـ
٥ - أقيمت قمة القدس	صندوق الاقصى



نشط جماعي صنف – ي الأحداث التاريخية حسب الدولة التابعة لها.

القضية اللبنانية	أستقلال الجزائر	الدفاع عن مصر	أسم القضية
.....			.....
.....			.....

حرب ١٣٩٣هـ امر الملك فيصل بقطع امدادات النفط عن الدول المتعاونة مع اسرائيل

العدوان الثلاثي عام ١٣٧٦هـ

استقلت عام ١٣٨٢هـ

بلاد المليون شهيد

الحرب الاهلية عام ١٣٩٥هـ

١٤٠٩هـ  
اتفاق الطائف

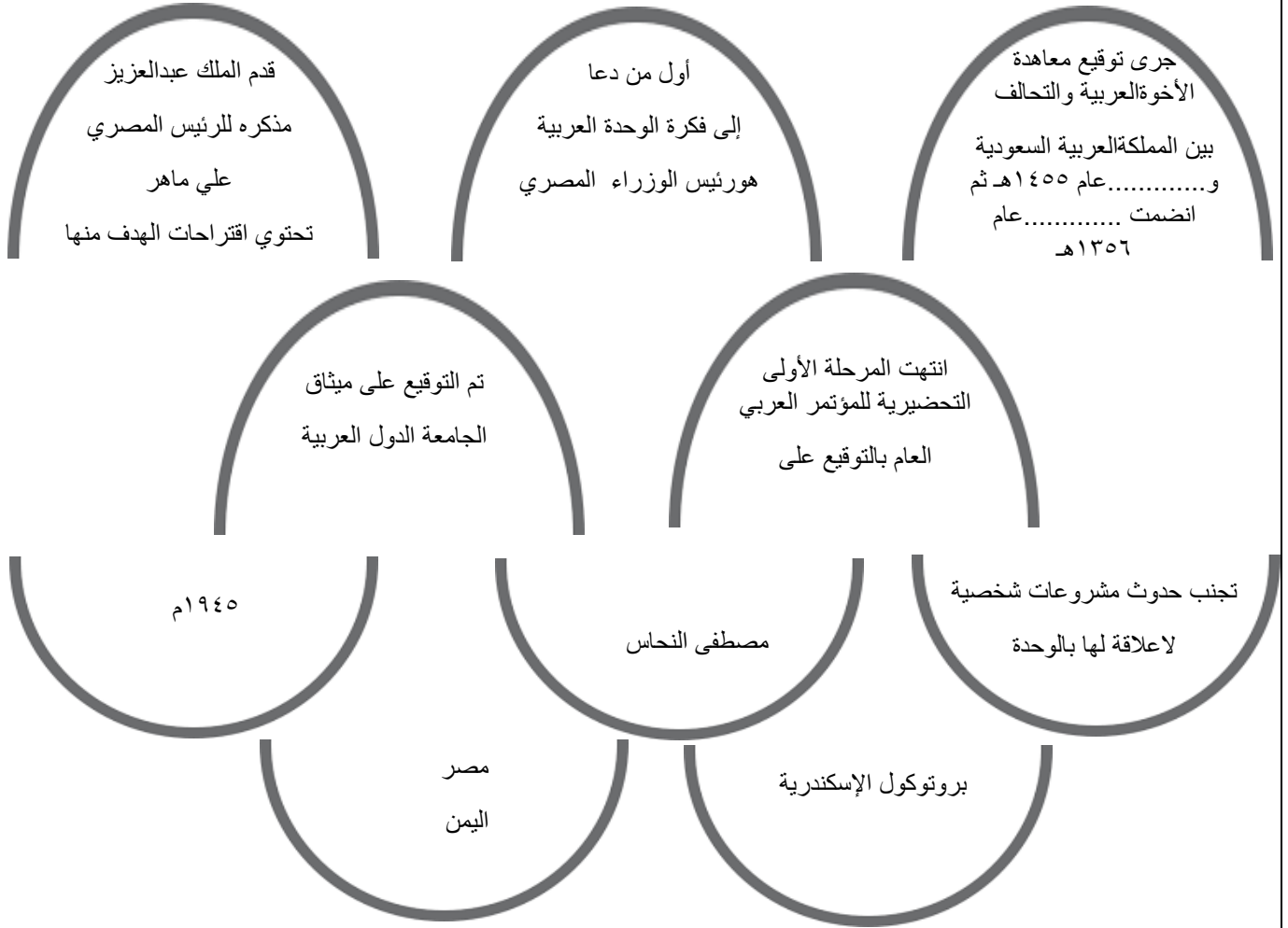
## السؤال الأول: أكمل الفراغات الآتية بكلمات مناسبة:

- يعيش على أرض لبنان طوائف مختلفة منهم .....و.....و.....  
يرجع السبب في اشعال الحرب الأهلية في لبنان إلى نزوح الكثير من .....إلى.....  
٣- من مشاريع المملكة العربية السعودية في مصر إنشاء جامعة الملك سلمان في .....  
٤- اثناء العدوان الثلاثي قدمت المملكة لمصر .....طائرة  
٥- هيئة التحرير الوطنية في الجزائر قاومت المستعمر .....  
٦- استمر الكفاح الجزائري ضد المستعمر لمدة .....

## السؤال الثاني: ضع كلمة ( صح ) أمام العبارة الصحيحة وكلمة ( خطأ ) أمام العبارة الخطأ:

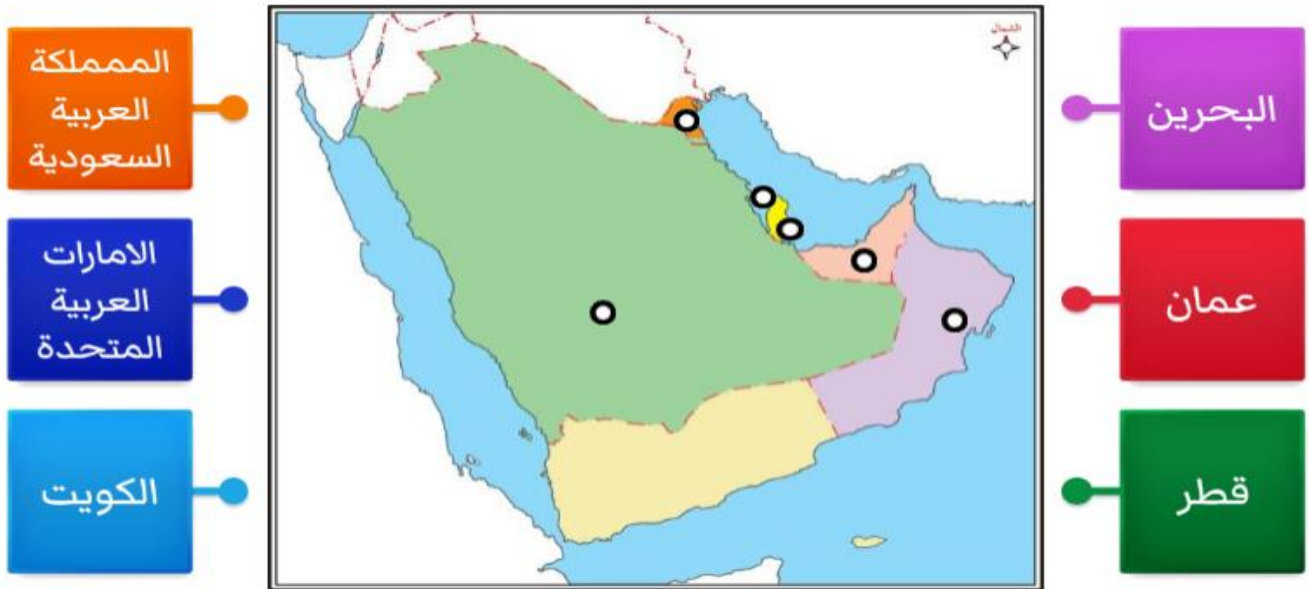
- ١- نجحت الانتفاضة الجزائرية في تحقيق الاستقلال ( )  
٢- شارك الشعب السعودي في الاحتفال بتحرير الجزائر من الاستعمار ( )  
٣- تخلت المملكة العربية السعودية عن مصر اثناء العدوان الثلاثي عليها ( )  
٤- أمر الملك فيصل بقطع النفط عن الدول المتعاون مع العدو الإسرائيلي ( )  
٥- تم توقيع اتفاقية بين مصر والسعودية لإنشاء جسر يربط بين البلدين ( )  
٦- شارك الشعب السعودي في الاحتفال بتحرير الجزائر من الاستعمار ( )  
٧- حصلت الجزائر على استقلالها من الاستعمار الفرنسي عام ١٩٦٢م ( )  
٨- الكفاح الجزائري ضد المستعمر سقط فيه أكثر من مليون ونصف شهيد ( )

نشاط جماعي : أكمل - ي النصف الآخر للتعرف على دعم بلادي لتأسيس جامعة الدول العربية .



نشاط فردي أمامك - ي خارطة الجزيرة العربية

حدد - ي عليها دول مجلس التعاون الخليجي



السؤال الأول: ضع كلمة ( صح ) أمام العبارة الصحيحة وكلمة ( خطأ ) أمام العبارة الخطأ:

- ١- وقعت المملكة العربية السعودية على ميثاق الجامعة العربية في عهد الملك عبد العزيز ( )
- ٢- انضمت اليمن إلى معاهدة الإخوة والتحالف بين المملكة العربية السعودية والعراق ( )
- ٣- تجنب الملك عبد العزيز إنشاء كيانات صغيرة لا تخدم الأمة العربية ( )
- ٤- عقد أول اجتماع لمجلس التعاون الخليجي في مدينة أبو ظبي ( )
- ٥- ١- جميع دول مجلس التعاون تطل على الخليج العربي ( )
- ٦- دول مجلس التعاون الخليجي بينها روابط وعادات مشتركة ( )

السؤال الثاني : اختار - ي الإجابة الصحيحة.

- ١- وقت المملكة على ميثاق الجامعة العربية عام (١٩٤٤م - ١٩٤٥م - ١٩٤٣م - ١٩٤٦م)
- ٢- من الدول المشاركة في تأسيس الجامعة العربية (تونس - الكويت - موريتانيا - سورية)
- ٣- عدد الدول الأعضاء في مجلس التعاون الخليجي (خمسة - أربع - سبع - ست)
- ٤- أعلن قيام مجلس التعاون لدول الخليج العربي عام (١٤٠٠هـ - ١٤٠١هـ - ١٤٠٢هـ - ١٤١٠هـ)
- ٥- ١- تم إنشاء مجلس التعاون الخليجي في عهد الملك (خالد - فهد - فيصل - عبد الله)
- ٦- ٤- مقر الأمانة العامة لمجلس التعاون مدينة (مكة المكرمة - الرياض - جدة - الدمام)
- ٧- من الدول الأعضاء في مجلس التعاون الخليجي (اليمن - العراق - الكويت - الأردن)



## نشاط جماعي : من أنا

دولة أقع في وسط آسيا طبيعتي جبلية ، ووعرة وأفتقر إلى المنفذ البحري ، اجتاحني الإتحاد السوفييتي عام ١٤٠٠ هـ وبعد تحريري كانت المملكة العربية السعودية أول دولة تعترف بي ، وقدمت لي مساعدات اقتصادية وإنسانية ، ديانتني الإسلام ، وعاصمتي وأكبر مدني كابل .



٢ - من خلال مهارة قرأت الصورة .  
ماهي سياسة الأرض المحروقة ؟



نشاط فردي : صنع - أسئلة الإجابة عليها البوسنة والهرسك .

السؤال الأول: اختر الإجابة الصحيحة فيما يلي:

- ١- تعرضت أفغانستان لاحتلال عسكري من (أمريكا - الاتحاد السوفيتي - فرنسا - إنجلترا)
- ٢- البوسنة والهرسك من البلاد الإسلامية في قارة (آسيا - أوروبا - أفريقيا - أمريكا الجنوبية)
- ٣- دخل الإسلام إلى البوسنة والهرسك في القرن الهجري: (٨/6 - 5 - 7)
- ٤- تعرضت البوسنة والهرسك للهجوم من القوات (الروسية - الأمريكية - الصربية - الفرنسية)
- ٥- هيئة جمع تبرعات للبوسنة والهرسك كانت برئاسة الملك (خالد - سلمان - عبد الله - فيصل)

السؤال الثاني: ضع كلمة ( صح ) أمام العبارة الصحيحة وكلمة ( خطأ ) أمام العبارة الخطأ:

- ١- تسهم المملكة العربية السعودية في حل قضايا المسلمين ( )
- ٢- استسلم الشعب الأفغاني للهجوم الشيوعي الغاشم ( )
- ٣- واجه الاتحاد السوفيتي المقاومة الأفغانية بطرق وحشية ( )
- ٤- اضطر المحتل السوفيتي للانسحاب من أفغانستان بسبب المقاومة ( )
- ٥- لم يتعرض الاتحاد السوفيتي لأي خسائر أثناء احتلال أفغانستان ( )
- ٦- اجتمع الفرقاء الأفغان في مكة المكرمة عام ١٤١٣ هـ بدعوة الملك خالد ( )
- ٧- البوسنة والهرسك من الدول التي تقع في منطقة البلقان ( )
- ٨- المملكة العربية السعودية أول دولة اعترفت باستقلال البوسنة ( )

السؤال الثالث: أكمل الفراغات الآتية بكلمات مناسبة:

- ١- أقامت المملكة العربية السعودية مسكرات إيواء للأفغان في .....
- ٢- كانت القوات الصربية تهدف لإزالة الوجود ..... من البلقان

## نشاط فردي

اسم الاستراتيجية/ التفكير الناقد مهارة كشف المغالطات

## عزيزي الطالب - ة

فيما يلي تعرض حقائق ومغالطات مأخوذة من معطيات فقرة دول عدم الإنحياز والمطلوب تمييز الحقائق من المغالطات ، بوضع إشارة (√) أو ( × ) في الحقل المناسب، مع ذكر السبب .

المعطيات	الحقائق	المغالطات	التبرير
ظهرت حركة عدم الانحياز بعد نهاية الحرب العالميه الثانية			
أول تأسيس لحركة عدم الانحياز كان بحضور ٣٠ دولة .			
من أهداف حركة عدم الانحياز احترام حقوق الانسان في ظل ما عانتته الشعوب في الحربين العالميتين الاولى والثانية فقط			
المملكة لها دور فعال في حركة عدم الانحياز			

## نشاط جماعي :

أمامك - ي عدد من الشعارات حدد الجهات التابعة لها .



- أبدى رأيك في الجهود التي تبذلها بلادنا في جميع القضايا والمجالات العربية والإسلامية والعالمية؟

.....

.....

.....

.....



السؤال الأول: السؤال الأول: اختر الإجابة الصحيحة فيما يلي:

- ١- يبلغ عدد اعضاء حركة عدم الانحياز ( ١٨ دولة - ٢٨ دولة - ٣٨ دولة - ٤٨ دولة )
- ٢- كان اول انعقاد لحركة عدم الانحياز في (الرياض - برلين - بلجراد - باندونغ)
- ٣- عُقد مؤتمر باندونج لدول عدم الانحياز في (إندونيسيا - اليابان - ماليزيا - الصين)
- ٤- التحالف الإسلامي لمكافحة الإرهاب يضم ( ٢١ دولة - ٤ دولة - ٢٠ دولة - ٤١ دولة )
- ٥- تشكل التحالف الإسلامي لمكافحة الإرهاب عام ( ١٤٣٧هـ - ١٤٣٥هـ - ١٤٣٦هـ - ١٤٣٤هـ )

السؤال الثاني: ضع كلمة ( صح ) أمام العبارة الصحيحة وكلمة ( خطأ ) أمام العبارة الخطأ:

- ١- من أهداف حركة عدم الانحياز احترام حقوق الإنسان ( )
- ٢- ظهرت حركة عدم الانحياز بعد نهاية الحرب العالمية الأولى ( )
- ٣- عقد اول اجتماع الدول المؤسسين حركة عدم الانحياز في اندونيسيا ( )
- ٤- حركة عدم الانحياز تحقق العدالة بين الدول بغض النظر عن حجمها ( )
- ٥- يدعو الدين الإسلامي إلى الغلو في العبادة والفكر ( )
- ٦- ظهر الخوارج في عهد الخليفة عمر بن الخطاب ( )
- ٧- دافع الخوارج عن الخليفة عثمان بن عفان رضى الله عنه ( )
- ٨- من أهداف تحالف محاربة الإرهاب التصدي للفكر المتطرف ( )
- ٩ - تم افتتاح المركز العالمي لمكافحة الفكر المتطرف (اعتدال) عام ١٤٣٧هـ ( )
- ١٠- تقدم المملكة المساعدات للدول الإسلامية منذ عهد الملك المؤسس ( )
- ١١- كانت قضية فلسطين محور اهتمام ملوك المملكة العربية السعودية منذ القدم ( )
- ١٢- تم إنشاء مركز الملك سلمان للإغاثة عام ١٤٤٠هـ ( )
- ١٣- يوجد تنسيق بين مركز الإغاثة الإنسانية والمنظمات الدولية ( )
- ١٤- الإغاثة السعودية تقتصر على الدول الإسلامية فقط ( )
- ١٥- ترأس الملك سلمان لجان الإغاثة منذ سبعينات القرن الميلادي ( )
- ١٦- مساعدات مركز الملك سلمان للإغاثة لا تشمل كافة القطاعات ( )
- ١٧- عدد الدول التي استفادت من المساعدات السعودية أكثر من ٥٩ دولة ( )





## نشاط جماعي : من أنا

عربي مسلم تمكنت من اكتشافت منابع النيل حيث حددت تلك المنابع بوضوح.  
فقد تحدث عن النيل وبحيرة فكتوريا في عام ٥٥٥ هـ / ١١٦٠ م.  
ومن مؤلفاتي (نزهة المشتاق في علم الآفاق)؟

**نشاط فردي :** أمامك خارطة العالم حدد- ي - عليها الكشوف الجغرافية الجديدة وروادها .



كريستوفر  
كولومبس أكتشاف  
جزر الهند الغربية

جون كابوت  
اكتشاف جزر  
فوند لاند

جيمس هوك  
اكتشاف استراليا

هنري الملاح  
اكتشاف  
الرأس الاخضر

فاسكو دي جاما  
اكتشاف طريق  
رأس الرجاء الصالح

نشاط Windows

..... هل توافق - ي - على العبارة التالية ..  
الاستعمار و الكشوف الجغرافية وجهين لعملة واحدة؟؟ ما أوجه الشبه بينهما ؟



السؤال الأول: اختر الإجابة الصحيحة فيما يلي:

- ١- من ابرز الرحالة في الكشوف البرتغالية ( امريكو فيسبوتشي - جون كابوت - ماجلان - هنري الملاح )
- ٢ - قاموا برحلات بحرية اكتشفوا خلالها طرقا واماكن لم تكن معروفة من قبل ( البحارة الروسين - البحارة العرب - البحارة الاوروبيين - البحارة اليابانيين )
- ٣- كانت الكشوف الجغرافية قى القرنين ( الخامس عشر - السابع عشر - الحادي عشر - الثالث عشر )
- ٤ - من الكشوف الجغرافية البرتغالية اكتشاف ( امريكا - استراليا - البرتغال - طريق راس الرجاء الصالح -
- ٥- في الكشوف الجغرافية الاسبانية اصبحت كروية الارض ( مجرد توقع - خيال - حقيقة علمية - فرضية )
- ٦ - كان كرستوفور كولمبس بحارا ( امريكا - اسبانيا - فرنسا - ايطاليا )
- ٧ - من الكشوف الجغرافية البريطانية اكتشاف ( امريكا - استراليا - الهند - انجلترا )
- ٨ - تقدم المعرفة الجغرافية والفلكية من نتائج ( الكشوف الجغرافية - الاستعمار - التنصير - الحرب العالمية )

السؤال الثاني: ضع كلمة ( صح ) أمام العبارة الصحيحة وكلمة ( خطأ ) أمام العبارة الخاطئة:

- ١- كان فاسكو داجاما بحارا برتغاليا ( )
- ٢- كان هنري الملاح ملكا للبرتغال ( )
- ٣- من نتائج الكشوف الجغرافية محاصرة الفرنسيين لبعض الشواطئ العربية ( )
- ٤- البحار الذي اكتشف امريكا هو كرستوفر كولومبس ( )
- ٥- من دوافع الكشوف الجغرافية رغبة الأوربيين في نشر تعاليمهم الدينية ( )
- ٦- طريق البخور هو طريق التجارة العالمي الذي كان العرب في شبه الجزيرة يسيطرون عليه منذ قبل الاسلام ( )

السؤال الرابع: أكتب الرقم المناسب من المجموعة ( أ ) أمام العبارة المناسبة في المجموعة ( ب ):

العمود ب	الترقيم	العمود ا
الرأس الأخضر		١- استفاد البحارة الاوربيون من المصادر المكتوبة التي سطرها
البحارة العرب		٢- وصل الرحالة جمس كوك الى سواحل
ابن ماجد		٣- وصلت رحلات الأمير هنري الملاح إلى
استراليا		٤- بحار عربي لقب بأسد البحار .

**نشاط جماعي:** أكمل -ي- النصف الآخر للتعرف على الوضع السياسي في العالم قبيل الحرب العالمية الأولى .

هيمنت عليها  
الولايات المتحدة الأمريكية  
متبعة سياسة العزلة من أجل  
إبعاد النفوذ الأوروبي  
المتنامي .

خضعت أجزاء  
منها للإستعمار الأوروبي ،  
وظهرة فيها مبراطورات  
عظمية نافست أوروبا  
كالدولة العثمانية  
واليابان والصين

مثلت بلدانها ميدان  
التنافس الأوروبي  
الرامي إلى السيطرة  
واستغلال ثرواتها  
الطبيعية

كانت المسرح  
الرئيسي لأحداث  
الحرب العالمية الأولى .

القارة الأفريقية

القارة الآسيوية

القارة الأمريكية

القارة الأوروبية

[https://www.youtube.com/watch?v=nD1H\\_FvHsw8&t=3s](https://www.youtube.com/watch?v=nD1H_FvHsw8&t=3s)

**نشاط فردي :** شاهد-ي- دون

من خلال الفيديو التالي تعرف على صاحبي هذه الصورة والمناسيه التي جمعتهما !



السؤال الأول: اختر الإجابة الصحيحة فيما يلي:

١-ظهرت الازمات الدولية نتيجة لـ

( التنافس على السيطرة والاستعمار - نقص الغذاء - كثرة الحروب - انتشار التنصير )

٣-ادت الثورة الصناعية الى تقدم دول وروبا ( اقتصاديا- سياسيا - دينيا - ثقافيا )

٤-قامت النمسا بضم البوسنة والهرسك الى سيطرتها عام:(١٩٠٧م - ١٩٠٨م-١٩٠٩م - ١٩١٠م)

٥-اي مما يلي لم يكن من التحالفات الدولية :

( تحالف عصبة الابطارة - تحالف دول الوسط - التحالف الاوروي - تحالف الوفاق الثلاثي )

٦- اغتيل ولي عهد النمسا في سراييفو عاصمة البوسنة والهرسك عام:

( ١٣٣٠هـ - ١٣٣١هـ - ١٣٣٢هـ - ١٣٣٣هـ )

٧-بلغت الخسائر البشرية في الحرب العالمية الاولى ( ١٠ - ٩ - ٦ - ٥ ) مليون قتيل.

٨-تفككت بعد الحرب العالمية الاولى ( دول اوروبا - الدول العربية - الدولة العثمانية - الدولة العباسية )

٩-قرر بتشجيع من بريطانيا اعلان الثورة العربية عام: ١٣٣٤هـ - ١٩١٦م

( الشريف علي بن احمد - الشريف حسين بن علي - الشريف خالد بن عون - الشريف علي بن حسين )

١٠-من نتائج الحرب العالمية الاولى:

تنشيط

( الازمات الدولية - إنشاء بعض المنظمات الدولية - تفكك الدولة العباسية - قيام التحالفات الدولية )

السؤال الثاني: ضع كلمة ( صح ) أمام العبارة الصحيحة وكلمة (خطأ) أمام العبارة الخاطئة:

١-اعلنت النمسا بعد اغتيال ولي عهدها حربا على فرنسا ( )

٢-انتهت الحرب العالمية الاولى بهزيمة المانيا وحلفائها ( )

٣-من اهم المنظمات التي انشئت بعد الحرب العالمية الاولى منظمة عصبة الامم ( )

٤-لم تنكث بريطانيا عهدها مع الشرف حسين بتنصيبه ملكا على العرب ( )

السؤال الرابع: أكتب الرقم المناسب من المجموعة ( أ ) أمام العبارة المناسبة في المجموعة ( ب ):

العمود ب	الترقيم	العمود ا
١٩١٨ م		١- بلغ عدد الدول الداخلة في الحرب العالمية الاولى
ثلاثة وثلاثون دولة		٢- انتهت الحرب العالمية الاولى عام
١٣٢٦هـ / ١٩٠٨م		٣- معركة المارن الثانية
١٣٣٧هـ		٤- الإطاحة بالسلطان عبدالحميد الثاني





نشط فردي :

أمامك -ي خارطتي آسياوأوروبا السياسية  
صل-ي بين الحدث السياسي والدولة التي وقع فيها لمعرفة  
الوضع السياسي قبيل الحرب العالمية الثانية

انتشر  
الحزب  
الفاشي  
الذي قاده  
موسوليني  
في  
.....

زادت  
قوتها  
العسكرية  
مما دفعها  
لإحتلال  
إقليم  
منشوريا  
الغنية  
بالفحم  
.....

ظهرت  
الثورة  
الشيوعية  
بزعامة  
لينين  
في  
.....

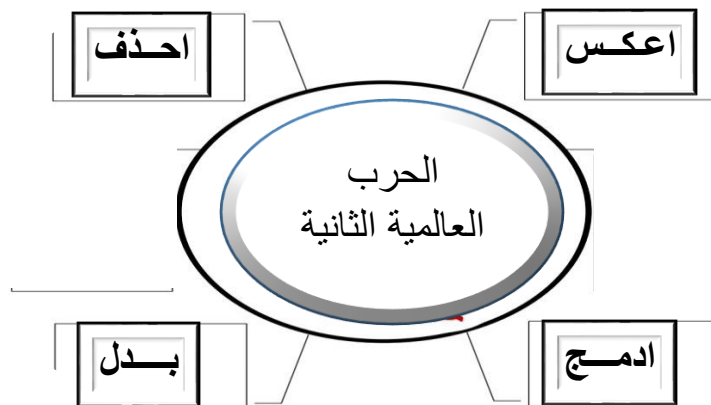
تمكن  
الحزب  
النازي  
بقايدته  
هتلر من  
تسلم الحكم  
في  
.....

نشاط جماعي :

لتناول أحداث الحرب العالمية الثانية .



استخدم استراتيجيات سكامبر



السؤال الأول: اختر الإجابة الصحيحة فيما يلي:

- ١-قاد الثورة الشيوعية في روسيا ( البلاشفة - الروسيين - البولنديين - الشيوعيون )
- ٢-اصبح مستشارا لالمانيا قبيل الحرب العالمية الثانية ( موسوليني - لينين - هتلر - الفاشي )
- ٣-من القوى المشاركة في الحرب العالمية الثانية ( عصبة الامم - دول المحور - الاتحاد الاوروي - البرتغال )
- ٤-من دول الحلفاء ( رومانيا - بلغاريا - اليابان - الاتحاد السوفيتي )
- ٥-للحرب العالمية الثانية ( اربعة مراحل - خمسة مراحل - ثلاثة مراحل - مرحلتان )
- ٦-من نتائج الحرب العالمية الثانية تقسيم المانيا الى جزئين:
- (جنوبي وشرقي - شرقي وغربي - جنوبي وشمالي - شمالي وشرق )
- ٧-قسم العالم بعد الحرب العالمية الثانية الى معسكرين اشتراكي و ( تفصيلي - سياسي - راسمالي - تقسيمي )
- ٨-انتهت الحرب العالمية الثانية باستسلام ( دول البلقان - دول الحلفاء - الاتحاد السوفيتي - دول المحور )

السؤال الثاني: ضع كلمة ( صح ) أمام العبارة الصحيحة وكلمة (خطاء) أمام العبارة الخطأ:

- ١-قاد الثورة الشيوعية في روسيا البلاشفة بزعامة لينين ( )
- ٢-ايطاليا من دول المحور ( )
- ٣-انشاء هيئة الامم المتحدة بدلاً عن عصبة الامم بعد الحرب العالمية الثانية ( )
- ٤-عام ١٩٩٣م شن الجيش الالمانى على مدينة دانزنج البولندية ( )

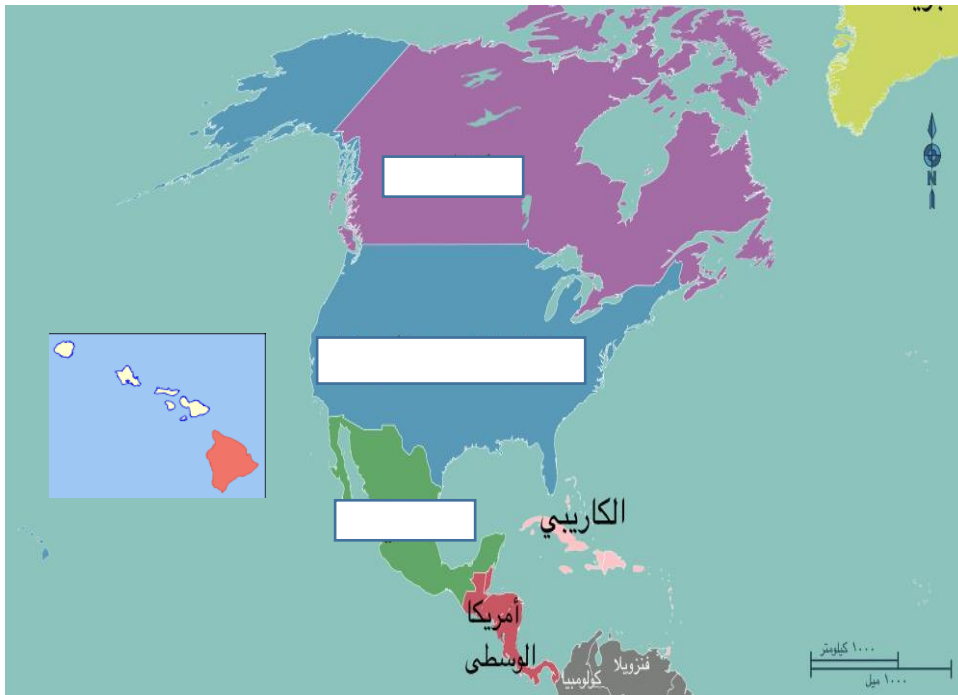
السؤال الرابع: أكتب الرقم المناسب من المجموعة ( أ ) أمام العبارة المناسبة في المجموعة ( ب ):

العمود ب	الترقيم	العمود ا
١٣٦٤هـ		١- من الاسباب الغير مباشرة للحرب العالمية الثانية
ضعف عصبة الامم		٢- الحرب العالمية الثانية
١٩٤١م		٣- قامت الولايات المتحدة الامريكية بإلقاء القنبلة الذرية الاولى على مدينة هيروشيما اليابانية
١٩٤٥م		٤- تحطيم الاسطول الامريكي في بيرل هاربر

## نشاط جماعي :

أمامك مجموعة من الأحداث الأصلية التي تكونت منها الولايات المتحدة الأمريكية حاول -ي مع المجموعة ترتيب الخط الزمني لتكوين الولايات المتحدة الأمريكية .

## نشاط فردي : أمامك خارطة الولايات المتحدة الأمريكية حقق عليها التالي .



- ١ - سم الحدود البرية والبحرية .
- ٢ - حدد موضع جبال الأبالاش
- ٣ - جبال الروكي
- ٤ - حدد موقع العاصمة .
- ٥ - حدد البحيرات الخمس العظمى.
- ٦ أكبر ولاية - أصغر ولاية



السؤال الأول: ضع علامة ( √ ) أمام العبارة الصحيحة و ( x ) أمام العبارة الخطأ :

- ١ أكبر الولايات المتحدة الأمريكية ولاية هاواي ( )
- ٢ أصغر الولايات المتحدة الأمريكية ولاية ألاسكا ( )
- ٣ يعد النمو السكاني بطيئا في الولايات المتحدة الأمريكية ( )
- ٤ تعد الولايات المتحدة الأمريكية مثالا للتنوع العرقي والثقافي ( )
- ٥ تعد الولايات المتحدة الأمريكية من أغنى دول العالم بثرواتها المعدنية ( )
- ٦ أكبر المجموعات العرقية في الولايات المتحدة الأمريكية البيض من أصل أوروبي ( )

السؤال الثاني / اختر الإجابة الصحيحة مما بين القوسين:

١. أعلى قمة في الولايات المتحدة الأمريكية (سيرانيفادا- الروكي - ماكنلي - الأبلش)
٢. تأتي الولايات المتحدة الأمريكية من حيث المساحة في المركز (الأول- الثاني - الثالث - الرابع)
٣. من المرتفعات الشرقية للولايات المتحدة الأمريكية جبال ( الأبلش- الروكي - سيرانيفادا-كالكيد)
٤. أول جنس بشري استوطن أراضي أمريكا (الإسبان - الأفغان - الهنود الآسيوي - المغول الآسيوي)
٥. في البداية تأسست الولايات المتحدة الأمريكية من (١٠ ولايات - ١٣ ولاية - ١٦ ولاية - ١٩ ولاية)
٦. أول الولايات التي تكونت منها الولايات المتحدة الأمريكية ( هاواي - ألاسكا - فرجينيا - واشنطن)
٧. أعلنت الولايات المتحدة الأمريكية الاستقلال عن بريطانيا عام (١٧٣٠ - ١٧٥٥ - ١٧٦٠ - ١٧٧٦)
٨. أول استعمار أوروبي لأراضي أمريكا هو الاستعمار ( الإسباني- البرتغالي- الإنجليزي- الهولندي)
٩. تقع الولايات المتحدة الأمريكية بين محيطين (الأطلسي والهندي - الهادئ والهندي - الأطلسي والهادئ - الهندي والقطبي)
١٠. أول حرب استعمارية ناجحة تحصل على الاستقلال (الحرب الباردة - الحرب العالمية الأولى - حرب الاستنزاف - الحرب الأمريكية)



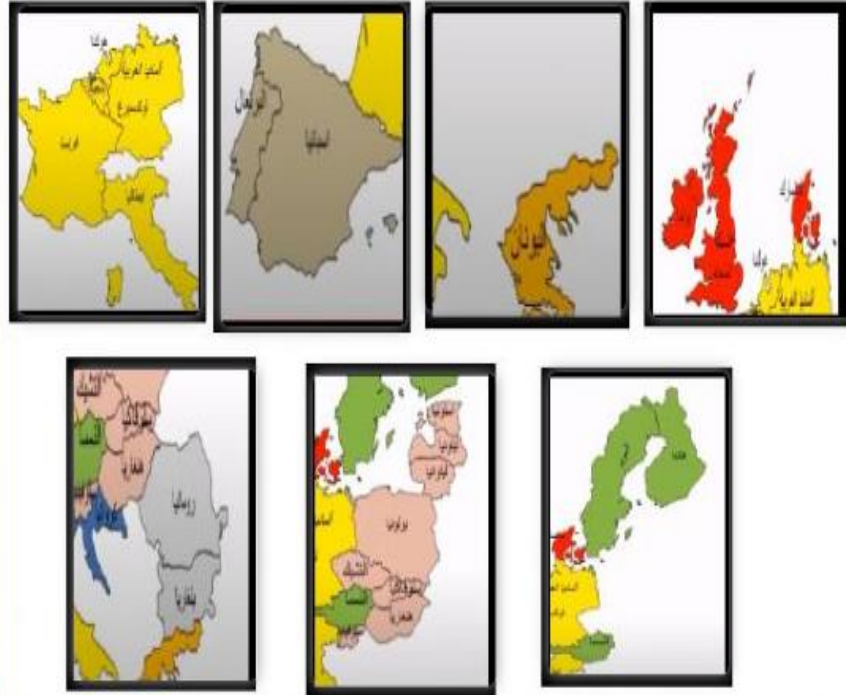
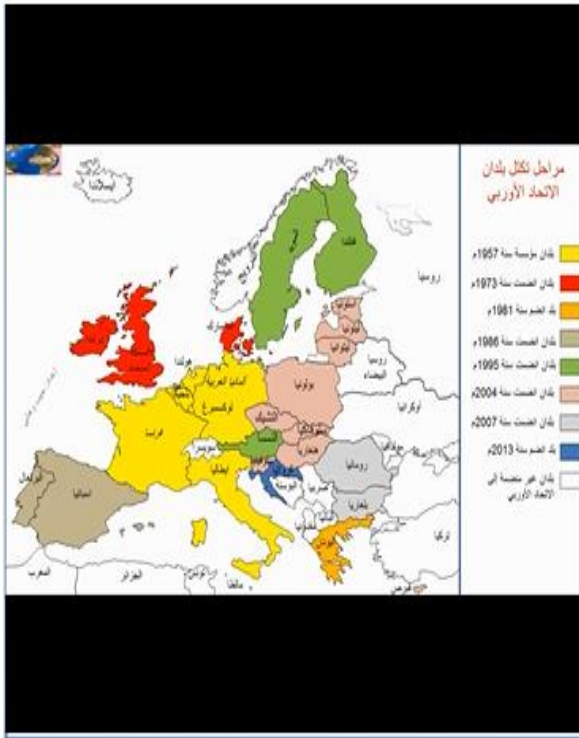
## نشاط فردي :

س١/ مبر بين الأهداف والشروط التي تخص الإتحاد الأوروبي في العبارات التالية بسحب الكلمة المناسبة أمام العبارة المناسبة

هدف	شروط	
هدف	شروط	١- ضمان الحرية والأمن والعدل (التعاون في الشؤون الداخلية والعدل)
هدف	شروط	٢- تقوية دور أوروبا في العالم (سياسة خارجية وأمنية موحدة).
هدف	شروط	٣- وجود نظام اقتصادي فعال قادر على المنافسة
هدف	شروط	٤- تأسيس المواطنة الأوروبية (الحقوق الأساسية، حرية التنقل، الحقوق المدنية والسياسية)
هدف	شروط	٥- تعديل التشريعات والقوانين بما يناسب التشريعات والقوانين الأوروبية

## نشاط جماعي:

س١/ بعد مشاهدة الفيديو رتب التاريخ الزمني لنشأة الإتحاد الأوروبي



٢٠٠٧م	٢٠٠٤م	١٩٩٥م	١٩٨٦م	١٩٨١م	١٩٧٣م	١٩٥٧م

ورقة عمل

<https://www.liveworksheets.com/2-sq85835pv>

## السؤال الأول / ضع علامة ( √ ) أمام العبارة الصحيحة و ( x ) أمام العبارة الخطأ :

- ١ يبلغ عدد دول الاتحاد الأوروبي ٢٠ دولة ( )
- ٢ يتأثر مناخ الاتحاد الأوروبي بالمنطقة المعتدلة الشمالية ( )
- ٣ من أهداف الاتحاد الأوروبي تأسيس المواطنة الأوروبية ( )
- ٤ يمتلك التكتل الاقتصادي الأوروبي أقل دخل قومي في العالم ( )
- ٥ تعد المفوضية الأوروبية هي الجهاز التنفيذي للاتحاد الأوروبي ( )

## السؤال الثاني / اختر الإجابة الصحيحة مما بين القوسين :

١. أقصى توسع للاتحاد الأوروبي كان عام (٢٠٠٥-٢٠٠٧ - ٢٠٠٩-٢٠١١م)
٢. الدولة الأقل سكانا في الاتحاد الأوروبي هي (ألمانيا - فرنسا - مالطة - إيطاليا)
٣. الدولة الأكثر سكانا في الاتحاد الأوروبي هي (ألمانيا - فرنسا-بريطانيا -هولندا)
٤. أعلى قمة جبلية في الاتحاد الأوروبي هي (بافاريا- إفرست - البرانس - مونت بلانك)
٥. يعد نهر الدانوب أطول أنهار أوروبا وينبع من دولة(فرنسا- ألمانيا - بريطانيا -إيطاليا)
٦. تم تأسيس المجموعة الأوروبية للفحم والصلب عام (١٩٤١-١٩٥١ - ١٩٦١ - ١٩٧١م)
٧. يقع جبل مونت بلانك بين دولتي: (بريطانيا وألمانيا - بريطانيا وفرنسا - بريطانيا وإيطاليا - فرنسا وإيطاليا)

السؤال الثالث/

بم تفسر؟

- قلة السكان في دولة مالطة .....



## نشاط جماعي :

س١/ بعد مشاهدة الخريطة جيدا حدد موقع كلا من الآتي من حيث كتابة احدى الكلمات التالية في الفراغ /

( الوسط - الجنوب - الجنوب الغربي - الغرب - الشرق )

١- تقع هضبة التبت في .....

٢- هضبة سيبيريا تقع في .....

٣- مرتفعات سيبيريا تقع في .....

٤- بحر قزوين يقع في .....

٥- جبال الأورال تقع في .....



## نشاط فردي :

س١/ ميز بين الخصائص الطبيعية والبشرية التي تخص روسيا الاتحادية في العبارات التالية بسحب الكلمة المناسبة امام

العبارة المناسبة

بشرية	طبيعية	١- عاشر دولة من حيث عدد السكان حيث يبلغ عدد السكان في روسيا الاتحادية أكثر من ١٤٤,٠٠٠,٠٠٠ نسمة
بشرية	طبيعية	٢- تعتبر من أطول دول العالم حدوداً بحرية ومن أكثر دول العالم حدوداً برية
بشرية	طبيعية	٣- تشتهر روسيا بشتائها القارس حيث تغطي إقليم موسكو الثلوج مدة خمسة أشهر في السنة
بشرية	طبيعية	٤- تمتلك روسيا أكبر احتياطي من الموارد المعدنية والطاقة في العالم
بشرية	طبيعية	٥- معظم أراضي روسيا تتكون من مساحات شاسعة من السهول في الجنوب وغابات التندرا في الشمال

ورقة عمل

<https://www.liveworksheets.com/2-mp94248sj>

## السؤال الأول / ضع علامة ( √ ) أمام العبارة الصحيحة و ( x ) أمام العبارة الخطأ:

- ١ تقع روسيا الاتحادية في شمال أوروبا ( )
- ٢ تشتهر روسيا بشتائها الطويل القارس ( )
- ٣ تبلغ مساحة روسيا أكثر من ١٧ مليون كم ( )
- ٤ تعد روسيا الاتحادية الوريث للاتحاد السوفيتي ( )
- ٥ معظم سكان روسيا يعيشون في روسيا الأوروبية ( )
- ٦ تمتلك روسيا أكبر احتياطي من الموارد المعدنية والطاقة في العالم ( )
- ٧ سقطت معظم أراضي إمارة كييف روس في أيدي الغزو الصليبي ( )
- ٨ تولت إمارة دوقية موسكو الإرث السياسي والثقافي لكييف روس ( )
- ٩ تشكل جبال الألب الحدود التقليدية بين روسيا الأوروبية وروسيا الآسيوية ( )
- ١٠ تأسست إمارة كييف روس على يد المحاربين الإفرنج في القرن التاسع الميلادي ( )

تنشيد  
انتقل إل

## السؤال الثاني / اختر الإجابة الصحيحة مما بين القوسين:

١. تفكك الاتحاد السوفيتي عام ( ١٩٩١ - ١٩٩٧ - ٢٠٠١ - ٢٠٠٧ )
٢. أكبر بلد في العالم من حيث المساحة ( الصين - كندا - الولايات المتحدة - روسيا )
٣. أكبر مسطح مائي داخلي في العالم بحر ( بارنتس - البلطيق - قزوين - الأسود )
٤. تأتي روسيا من حيث عدد السكان في الترتيب ( الرابع - السادس - الثامن - العاشر )
٥. يصب نهر الأوب في المحيط ( الهندي - الهادئ - القطبي الشمالي - القطبي الجنوبي )
٦. أول دولة دستورية اشتراكية معترف بها في العالم ( ألمانيا - روسيا - الولايات المتحدة - الصين )
٧. تأتي روسيا من حيث إنتاج الطاقة الكهربائية عالميا في الترتيب ( الأول - السادس - الثامن - الثالث )

## السؤال الثالث / بم تفسر؟

١. تنوع المناخ في روسيا بشكل كبير  
.....
٢. ضعف الاقتصاد الروسي  
.....

## السؤال الرابع: أكتب الرقم المناسب من المجموعة ( أ ) أمام العبارة المناسبة في المجموعة ( ب ):

العمود أ	العمود ب
١- تشكل الحدود التقليدية بين قارتي آسيا وأوروبا	السهل الأوروبي
٢- يكون الجزء الأعظم من روسيا الأوروبية	سهل سيبيريا الغربية
٣- من أبرز الأقاليم المنبسطة السطح في العالم	جبال الأورال

نشاط جماعي :

## ١- صنف الظاهرات الجغرافية الآتية :

الهمالايا	سهل الصين	جوبي	يانجستي	التبت
صحاري	احواض انهار	سهول رسوبية	هضاب	سلاسل جبلية

نشاط فردي :

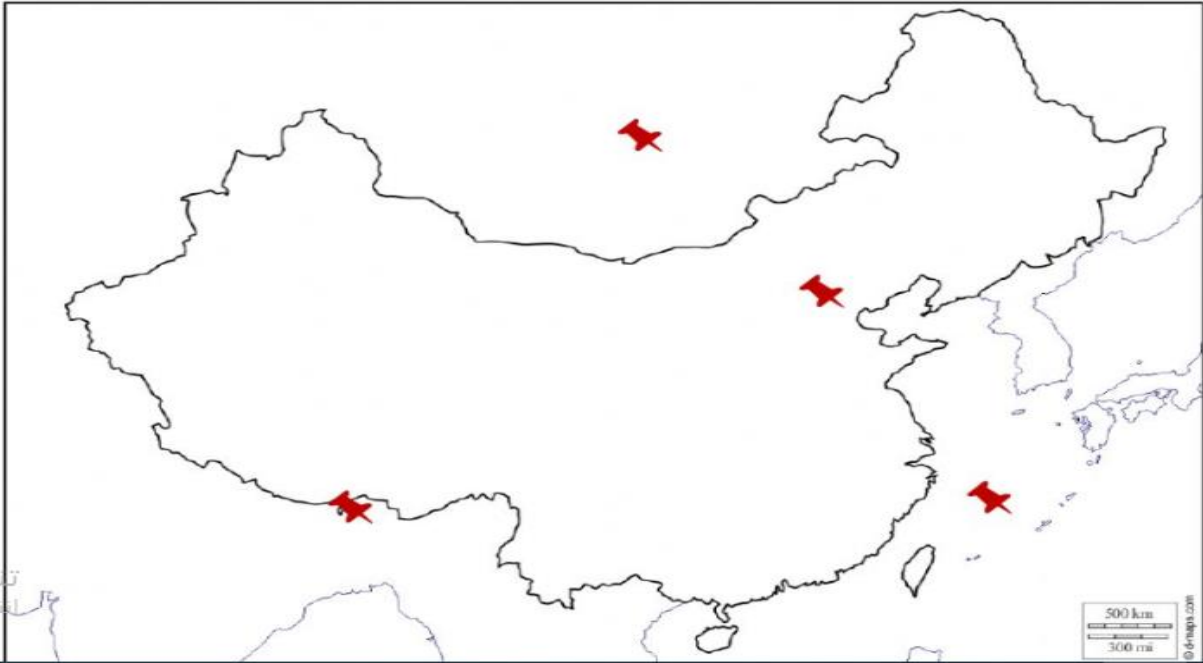
## ٢- اوصل بين المصطلح ومكانه على الخريطة

بحر الصين الجنوبي

بكين

جبال الهمالايا

منغوليا


<https://www.liveworksheets.com/2-ix143881sf>

ورقة عمل



**السؤال الأول / ضع علامة ( √ ) أمام العبارة الصحيحة و ( x ) أمام العبارة الخطأ :**

- ١ اللغة الرسمية للبلاد في الصين هي اللغة الفرنسية ( )
- ٢ تمثل الديانة البوذية نسبة ٣٠٪ من سكان الصين ( )
- ٣ توجد في غرب الصين تضاريس وعرة ( )
- ٤ يبلغ طول الحدود البرية للصين ١٢٥ ألف كيلو متر ( )
- ٥ تمتلك الصين أكبر ميزانية للبحوث والتنمية في العالم ( )
- ٦ تمتلك الصين أول أكبر ميزانية للبحوث والتنمية في العالم ( )

**السؤال الثاني / اختر الإجابة الصحيحة مما بين القوسين :**

١. أكبر دول العالم من حيث عدد السكان (روسيا – الصين – الهند – كندا)
٢. تأسست جمهورية الصين عام (١٩١١م – ١٩٢١م – ١٩٣١م – ١٩٤١م)
٣. تقع جمهورية الصين في (غرب آسيا – شرق أوروبا – جنوب آسيا – شرق آسيا)
٤. تتألف جمهورية الصين من (١٢ مقاطعة – ١٤ مقاطعة – ٢٤ مقاطعة – ٢٢ مقاطعة)
٥. تأتي جمهورية الصين من حيث المساحة في المركز (الأول – الثاني – الثالث-الرابع)

**السؤال الثالث / أكمل ما يأتي بكلمات مناسبة :**

١. تشترك حدود الصين مع ..... دولة
٢. يحتل اقتصاد الصين المرتبة ..... عالمياً
٣. توجد المراعي الوفيرة في الصين على حواف هضبة .....

**السؤال الرابع / بما تفسر؟**

١. اتباع الصين سياسة الطفل الواحد لكل أسرة

.....

٢. توجد الغابات الصنوبرية شرق الصين

.....

## نشاط جماعي : ميز - ي - بين الرأي والحقيقة بكتابة كلمة رأي - حقيقة

اسهمت جامعة الدول العربية في دعم السلم العربي والدولي

انشأت جامعة الدول العربية عام ١٩٤٤م ومقرها القاهرة

جامعة الدول العربية قرارتها حاسمة فيما يتعلق الامر بمصير الشعوب العربية

القضية الفلسطينية مجرد قضية من قضايا جامعة الدول العربية

من أهم القضايا التي تتبناها جامعة الدول العربية القضية الفلسطينية

اقيمت قمة القدس في مدينة الظهران عام ١٤٢٩هـ

الجامعة العربية تضم جميع البلاد العربية من الأعداء إلى الضارحة نولاً وعملاً

المملكة العربية السعودية عضو أصيل في جامعة الدول العربية

السؤال الأول: اختر الإجابة الصحيحة فيما يلي:

- ١- بلغ عدد الدول المؤسسة لجامعة الدول العربي:(٥دول -٦دول -٧دول - ٨دول).
- ٢- الحكومة التي دعت لإنشاء جامعة الدول العربية: (المصرية – الفلسطينية – السعودية – السورية)
- ٣- لجامعة الدول العربية ( ثلاث اجهزة – جهازين – جهاز واحد – اربعة اجهزة )
- ٤- يقع مقر جامعة الدول العربية في ( القاهرة القدس مكة المكرمة الرياض )
- ٥- الاسهام في دعم السلم والامن العربي والدولي من اهداف ( جامعة الدول العربية – منظمة اوبك – منظمة التعاون الاسلامي – منظمة التجارة العالمية )

السؤال الثاني: ضع كلمة ( صح ) أمام العبارة الصحيحة وكلمة (خطأ) أمام العبارة الخطأ:

- ١- تضم جامعة الدول العربية جميع الدول العربية منذ تأسيسها ( )
- ٢- يعد مجلس الجامعة اعلى سلطة داخل جامعة الدول العربية ( )
- ٣- عقدت قمة القدس في مدينة الظهران تحت رعاية الملك سلمان بن عبدالعزيز يحفظه الله عام ١٤٣٩هـ ( )

السؤال ٣- أكتب الرقم المناسب من المجموعة ( أ ) أمام العبارة المناسبة في المجموعة ( ب ):

العمود ا	الترقيم	العمود ب
١- نشأت جامعة الدول العربية قبل انشاء هيئة الامم المتحدة بحوالي		١٩٤٥ م
٢- صدر بروتوكول اتفاقية تأسيس جامعة الدول العربية عام		ستة اشهر



نشاط فردي : طابق بين كل كلمة والتعريف المناسب لها.

نشأتها

أهدافها

تعريفها

هيئات الرابطة  
ومجالسهامقر رابطة  
العالم الإسلامي

تطوير أساليب نشر الدعوة بما يتفق

مع القرآن والسنة ولا يخالفهما

المجلس الأعلى، المؤتمر الإسلامي

العام، المجمع الفقهي الإسلامي

في مكة المكرمة

أنشئت بموجب قرار صدر عن المؤتمر الإسلامي

العام الذي عقد بمكة المكرمة في عام ١٣٨١ هجري

منظمة إسلامية شعبية عالمية مقرها مكة المكرمة بالمملكة

العربية السعودية، وتعنى بإيضاح حقيقة الدعوة الإسلامية

السؤال الأول: اختر الإجابة الصحيحة فيما يلي:

- ١- يقع مقر رابطة العالم الإسلامي في: ( جدة - المدينة المنورة - الرياض - مكة المكرمة )
- ٢- أنشئت رابطة العالم الإسلامي بموجب قرار صدر عن المؤتمر الإسلامي العام الذي عقد عام ١٣٨١هـ ١٩٦٢م في: ( جدة - المدينة المنورة - الرياض - مكة المكرمة )
- ٣- لرابطة العالم الإسلامي ( ٣٤ مكتبا - ٤٤ مكتبا - ٢٤ مكتبا - ١٤ مكاتب ) تشرف على ١٣ مركزاً ثقافياً إسلامياً في العالم.
- ٤- أي مما يلي ليست من الهيئات التابعة لرابطة العالم الإسلامي:  
( هيئة الاغاثة الإسلامية - المجمع الفقهي الإسلامي - الهيئة العالمية للكتاب والسنة - منظمة التعاون الإسلامي )

السؤال الثاني: ضع كلمة ( صح ) أمام العبارة الصحيحة وكلمة ( خطأ ) أمام العبارة الخاطئة:

- ١- من أهداف رابطة العالم الإسلامي تطوير أساليب نشر الدعوة بما يتفق مع القرآن والسنة ( )
- ٢- تنسيق جهود القائمين بالعمل الإسلامي في العالم من أهداف رابطة العالم الإسلامي ( )
- ٣- رابطة العالم الإسلامي منظمة شعبية عالمية مقرها مكة المكرمة بالمملكة العربية السعودية ( )
- ٤- تعنى رابطة العالم الإسلامي بإيضاح حقيقة الدعوة الإسلامية ومد جسور التعاون الإسلامي والإنساني مع الجميع. ( )

**السؤال الثالث / فسر العبارات التالية :**

١. رابطة العالم الإسلامي عالمية العضوية

.....

٢. نشر اللغة العربية بين الشعوب الإسلامية

.....

نشاط جماعي :

اربط - ي بين العبارة وماينسبها لجمع المعلومات عن منظمة العالم الإسلامي .

تعزير اواصر الاخوة والتضامن

مؤتمر القمة الاسلامي

57

جدة

تامين رقي شعوبها ورفاهيتهم

من اجهزة المنظمة

تضم.....عضو

من اهداف المنظمة

تعمل المنظمة على

مقر منظمة  
التعاون الاسلاميمن اهداف المنظمة  
التعاون الاسلاميتضم منضمه التعاون  
الاسلامي ستون دولة اسلاميةتاسست منظمة التعاون  
الاسلامي في الرابطمن اجهز منظمة  
التعاون الاسلاميالامانة العامة هي البيئة التنظيمية  
الثالثة لمنظمة التعاون الاسلامي

صح

عام 1389

خطاء

احترام حق تقرير المصير

مؤتمر القمة الاسلامية

## السؤال الأول: ضع علامة ( / ) أمام العبارة الصحيحة و ( x ) أمام العبارة الخطأ:

- ١ يقع مقر منظمة التعاون الإسلامي في مدينة جدة ( )
- ٢ تضم منظمة التعاون الإسلامي ستون دولة إسلامية ( )
- ٣ تأسست منظمة التعاون الإسلامي في الرباط بالمملكة المغربية ( )
- ٤ الأمانة العامة هي الهيئة التنظيمية الثالثة لمنظمة التعاون الإسلامي ( )
- ٥ لم تكن لمنظمة التعاون الإسلامي لتعزيز اواصر الاخوة بين الدول الأعضاء ( )

## السؤال الثاني / اكمل الفراغات الآتية بكلمات مناسبة:

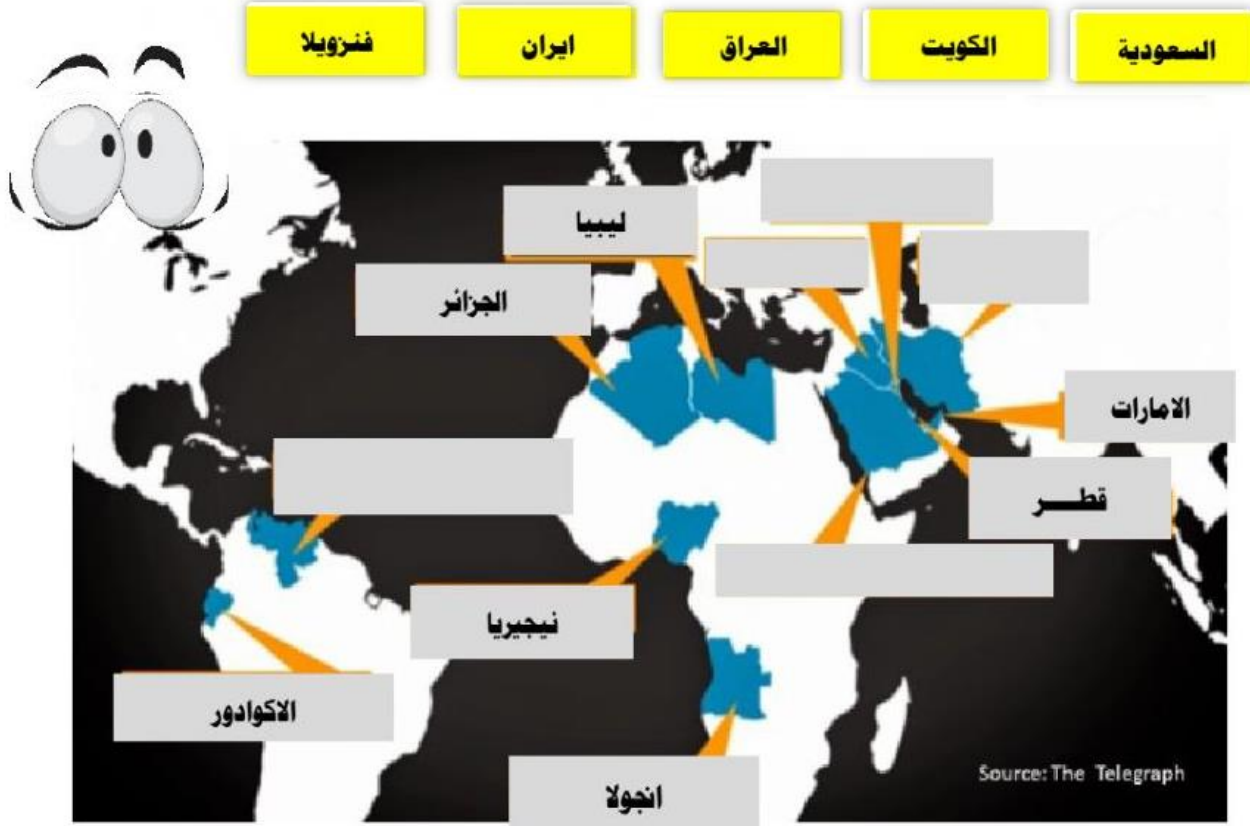
١. تأسست منظمة التعاون الإسلامي في الرباط عام .....هـ.
٢. أجهزة منظمة التعاون الإسلامي .....و.....و.....

## السؤال ٣ اختر الإجابة الصحيحة فيما يلي:

- ١- تأسست منظمة التعاون الإسلامي في الرباط في المملكة المغربية عام: (١٣٨٩هـ - ١٣٩٠هـ - ١٣٩١هـ - ١٣٩٢هـ)
- ٢- تضم منظمة التعاون الإسلامي في عضويتها ( ٤٥ دولة - ٢٥ دولة - ٧٥ دولة - ٥٧ دولة )
- ٣- من ابرز الاعضاء المؤسسين لمنظمة التعاون الإسلامي ( فلسطين - ماليزيا - المملكة العربية السعودية - مصر )
- ٤- حماية صورة الاسلام الحقيقية والدفاع عنها والتصدي لمحاولات تشويهها من اهداف ( جامعة الدول العربية - منظمة التعاون الإسلامي - رابطة العالم الإسلامي - منظمة اوبك )

## نشاط جماعي :

س١ / اسحب أسماء الدول المؤسسة لمنظمة أوبك الخمسة وضعها مكانها المناسب على الخريطة :



## نشاط فردي :

س٢ / اكمل العبارات التالية بما يناسب :

- ١- تأسست منظمة أوبك سنة ١٣٨٠هـ / ..... م
- ٢- اتخذت الأوبك في بادئ الأمر من مدينة ..... بسويسرا مقرا لها؛ وذلك لموقع المدينة المتوسط. ثم نقلت مقرها إلى ..... عاصمة .....

س٣ / ضع علامة صح امام العبارة الصحيحة فقط :

<input type="checkbox"/>	النفط سلعة إستراتيجية ناضبة (غير متجددة) يرتبط بها سعر كثير من السلع.
<input type="checkbox"/>	ارتفاع أسعار النفط يؤدي إلى انخفاض أسعار كثير من السلع الاستهلاكية
<input type="checkbox"/>	منظمة الدول المصدرة للنفط (أوبك) تجمعاً أنشئ بغرض ضمان حقوق الدول المنتجة في صناعة النفط، وتوفير النفط للدول المستهلكة بأسعار معقولة.

<https://www.liveworksheets.com/2-rm222371vb>

ورقة عمل



السؤال الأول: اختر الإجابة الصحيحة فيما يلي:

- ١- ارتفاع اسعار النفط يؤدي الى زيادة الاسعار وارتفاع تكاليف السلع والخدمات وينتج عنه ما يعرف ب:  
( الدستور - الغلاء - التضخم - السيولة )
- ٢- تستحوذ منظمة اوبك على نسبة كبيرة من احتياطات العالم النفطية تقرب ( ٦٠% - ٧٠% - ٨٠% - ٩٠% )
- ٣- يقع مقر منظمة اوبك في ( فرنسا - امريكا - فيينا - الجزائر )
- ٤- يعد النفط سلعة استراتيحية ( متجددة - غير متجددة - غير مهمة - غير مطلوبة )

السؤال الثاني: ضع كلمة ( صح ) أمام العبارة الصحيحة وكلمة (خطأ) أمام العبارة الخطأ:

- ١- يأتي دور منظمة اوبك في الحفاظ على معدلات نمو الاقتصاد العالمي ( )
- ٢- ارتفاع اسعار النفط لا يؤثر في اسعار السلع ( )
- ٣- من اهداف منظمة الدول المصدرة للنفط (اوبك) تنسيق وتوحيد السياسات النفطية للبلدان الأعضاء ( )
- ٤- تأسست منظمة الدول المصدرة للنفط (اوبك) عام ١٣٨٠هـ/١٩٦٠م ( )
- ٥- عدد الدول الاعضاء في منظمة اوبك ١٢ دولة ( )

## نشاط جماعي :

س١ / اسحب المصطلحات التالية وضعها في مكانها المناسب على المنظم :



## نشاط فردي :

س٢ / اربط بين العامودين بما يناسب :

الأمانة العامة	■	ال جهاز القضائي الرئيس لهيئة الأمم المتحدة.	■
مجلس الأمن	■	يرأسها الأمين العام الذي يتولى التوجيه الإداري العام.	■
محكمة العدل الدولية	■	يعهد ميثاق الأمم المتحدة إليه بالمسؤولية الرئيسية لحفظ السلام الدولي	■
مجلس الوصاية	■		

<https://www.liveworksheets.com/2-ib222679t>

ورقة عمل

السؤال الأول: اختر الإجابة الصحيحة فيما يلي:

- ١- يبلغ عدد أعضاء الأمم المتحدة: ( ١٩٠ بلداً - ١٩١ بلداً - ١٩٢ بلداً - ١٩٣ بلداً )
- ٢- تقع محكمة العدل الدولية في ( نيوزيلاندا - باريس بفرنسا - لاهاي بهولندا - جزر المالديف )
- ٣- من اهداف هيئة الامم المتحدة ( تحقيق التعاون الدولي - تنسيق وتوحيد السياسات النفطية - تنسيق جهود القائمين بالعمل الاسلامي - النظر في النزاعات بين الدول الاعضاء )

السؤال الثاني: ضع كلمة ( صح ) أمام العبارة الصحيحة وكلمة ( خطأ ) أمام العبارة الخطأ:

- ١- يقع مقر هيئة الامم المتحدة في نيويورك بالولايات المتحدة الامريكية ( )
- ٢- اشترك الدول في اي قضية مرفوعة امام محكمة العدل الدولية امر اجباري ( )
- ٣- يتكون مجلس الامن من خمسة عشر عضواً ( )

السؤال الثالث: أكتب الرقم المناسب من المجموعة ( أ ) أمام العبارة المناسبة في المجموعة ( ب ):

العمود ا	الترقيم	العمود ب
١- محكمة العدل الدولية هي		الأمانة العامة
٢- الاعمال الفنية والادارية		الجهاز القضائي للأمم المتحدة



## نشاط فردي :

## س١ / شاهد الفيديو الموجود امامك واختار الإجابة الصحيحة فيما يأتي



١- تضم المجموعة ١٩ دولة بالإضافة إلى

الإتحاد الآسيوي	الإتحاد الأوروبي	الإتحاد الأفريقي	الإتحاد الأمريكي
-----------------	------------------	------------------	------------------

٢- من أهداف مجموعة العشرين

توفير فرص العمل	تنمية التجارة الحرة	تنمية الاقتصاد العالمي	جميع الإجابات صحيحة
-----------------	---------------------	------------------------	---------------------

٣- عقدت القمة عام ٢٠١٩ في

الأرجنتين	الرياض	فرنزويلا	اليابان
-----------	--------	----------	---------

## نشاط جماعي :

## س٢ / اقرأ العبارات التالية وحدد إن كانت صحيحة أو خاطئة فيما يأتي :



اختارت المملكة السدو ليكون شعار قمة دول مجموعة العشرين هذا العام لأن الخيمة رمز للكرم وتعبر عن تاريخنا وثقافتنا

✓	✗
---	---

تأسست دول المجموعة عام ١٩٩٩م بسبب الأزمات السياسية

✓	✗
---	---

تم اختيار المملكة لتكون عضو في دول مجموعة العشرين بسبب مكانتها الدينية

✓	✗
---	---

رئيس المجموعة يتم اختياره من بين الدول الأعضاء في اللقاء السنوي

✓	✗
---	---

<https://www.liveworksheets.com/2-et49585ov>

ورقة عمل

السؤال الأول: اختر الإجابة الصحيحة فيما يلي:

١- استضافت المملكة العربية السعودية اجتماع مجموعة العشرين عام ١٤٤٢هـ ٢٠٢٠م في مدينة: ( جدة - الظهران - الرياض - تبوك )

٢- تم انشاء مجموعة العشرين عام (١٩٨٩م - ١٩٩٩م - ٢٠١٠م - ٢٠٢٠م)

السؤال الثاني: ضع كلمة ( صح ) أمام العبارة الصحيحة وكلمة (خطأ) أمام العبارة الخطأ:

- ١- جاء اختيار المملكة ضمن مجموعة العشرين دليلاً على مكانتها الاقتصادية وأهميتها السياسية ( )
- ٢- تم انشاء مجموعة العشرين نتيجة للآزمات المالية في التسعينات الميلادية ( )
- ٣- من اهداف مجموعة العشرين التقليل من اثار الازمات المالية في الاقتصاد العالمي ( )
- ٤- من ابر إنجازات مجموعة العشرين الاتفاق على سياسات النمو ( )
- ٥- عقدة قمة G٢٠ الافتراضية عام ٢٠٢٠م في المملكة برئاسة خادم الحرمين الملك سلمان بن عبد العزيز ( )

السؤال الثالث: أكتب الرقم المناسب من المجموعة ( أ ) أمام العبارة المناسبة في المجموعة ( ب ):

العمود ا	الترقيم	العمود ب
١- شارك الملك عبدالله بن عبدالعزيز يرحمه الله في قمة العشرين عام		٢٠١٩هـ ١٤٤٠م
٢- شارك الملك سلمان بن عبدالعزيز يحفظه الله في قمة العشرين عام		٢٠٠٨هـ ١٤٢٩م
٣- شارك الامير محمد بن سلمان يحفظه الله في قمة العشرين عام		٢٠١٥هـ ١٤٣٦م