

أسلة مراجعة الاقتصاد الكلي

ملف محدث ١٤٣٩ هـ



إعداد : بيشوو ، Esraa ✨

{إن اصبنا فمن الله وان اخطأنا فمن انفسنا ومن الشيطان }

س١/هوالارتفاع المستمر والملموس في المستوى العام للأسعار:

- ١ ■ البطالة
 - ٢ ■ التضخم
 - ٣ ■ الاقتصاد الكلي
 - ٤ ■ الطلب الكلي
-

س٢/هي تعطل لجزء من قوة العمل الراغبة والقادرة على العمل عند الاجر السائد :

- ١ ■ العرض
 - ٢ ■ الدخل
 - ٣ ■ البطالة
 - ٤ ■ الرصيد
-

س٣/يمكن قياس معدل البطالة من خلال الصيغة التالية :

- ١ ■ عدد العاطلين عن العمل ÷ اجمالي القوة العاملة
 - ٢ ■ اجمالي القوة العاملة ÷ عدد العاطلين عن العمل
 - ٣ ■ اجمالي القوة العاملة - اجمالي القوة العاملة
-

س٤/يكون هناك عجز في الميزان التجاري عندما :

- ١ ■ يكون العرض الكلي أكبر من الطلب الكلي
- ٢ ■ تكون قيمة الصادرات X أكبر من قيمة المستوردات M
- ٣ ■ تكون قيمة الصادرات X أقل من قيمة المستوردات M

٤ ■ تكون قيمة الصادرات \times مساوية لقيمة المستوردات M

س٥/ إذا علمت ان الناتج المحلي الإجمالي بالأسعار الجارية لسنة
مايساوي 100 مليون ريال، وأن الناتج المحلي بالأسعار الثابتة يساوي 80 مليون
ريال ، فيكون الرقم القياسي للأسعار أو المخفض الضمني يساوي :

١ ■ 150

٢ ■ 125

٣ ■ 100

٤ ■ 80


توضيح الحل :

الناتج القومي او المحلي بالاسعار الثابتة

= الناتج القومي أو المحلي الاسمي الجارية

$\times 100$

الرقم القياسي للاسعار أو المخفض
الضمني



١٠٠

١٠٠ \times —

٨٠

١٢٥ =

س٦/ من العوامل التي تؤدي إلي ارتفاع معدل النمو الاقتصادي :

١ ■ زيادة الرصيد من الذهب

٢ ■ انخفاض قيمة العملة الوطنية

٣ ■ ارتفاع أسعار الأراضي

٤ ■ توظيف جميع عناصر الإنتاج

توضيح: من العوامل التي تؤدي إلى ارتفاع معدل النمو الاقتصادي :


• توظيف جميع عناصر الإنتاج أي عدم وجود بطالة

• زيادة التراكمات الرأسمالية

• التوظيف

• الاستثمار في الموارد البشرية

• الاستفادة من اقتصاديات الحجم

س٧/ الدخل الشخصي - الضرائب المباشرة على الدخل الاقتصادي 

١ ■ الدخل الخارجي

٢ ■ الدخل المتاح

٣ ■ الدخل الإضافي

٤ ■ الدخل النقدي

توضيح: السؤال متكرر بالنماذج

الدخل الشخصي: هو عبارته عن الدخل القومي بعد خصم العوائد التي لم يستلمها
العنصر الانتاجي وهو

يساوي: (الدخل القومي + مدفوعات التحويل - ضرائب أرباح الشركات - الأرباح
المحتجزة - أقساط معاشات التقاعد)

الدخل الشخصي المتاح: هو الدخل الشخصي بعد خصم الضرائب المباشرة منه وهو
: يساوي

(الدخل الشخصي - الضرائب المباشرة على الدخل)

س٨/ التوازن في الاقتصاد لايحقق عندما يتساوي الطلب الكلي مع العرض الكلي:

١ ■ صح

٢ ■ خطأ

التصحيح: التوازن في الاقتصاد يتحقق عندما الطلب الكلي مع العرض الكلي

س٩/ الادخار يتعبّر ظاهرة سيئة في الاقتصاد

١ ■ صحيح

٢ ■ خطأ

التصحيح: يعتبر ظاهرة صحية لأنه عندما يدخر المال فهو في الحقيقة يوظف لكي يستفيد منه المستثمرون والقطاع الانتاجي

س١٠/ يقدم القطاع الحكومي خدمات عناصر الانتاج من عمل ، ارض ، رأس مال تنظيم للقطاع الأنتاجي

١ ■ خطأ

٢ ■ صحيح

التصحيح: يقدم القطاع العائلي خدمات عناصر الإنتاج من عمل ، أرض ، رأس مال ، تنظيم للقطاع الانتاجي

س١١/ عندما تكون قيمة الصادرات X تساوي 50 مليار دولار وقيمة المستوردات M تساوي 40 مليون دولار فهذا يعني :

- ١ ■ وجود فائض في الحساب التجاري بقيمة 15 مليار
- ٢ ■ وجود فائض في الحساب التجاري بقيمة 10 مليار
- ٣ ■ وجود عجز في الحساب التجاري بقيمة 10 مليار
- ٤ ■ وجود عجز في الحساب التجاري بقيمة 20 دولار

توضيح: عندنا هنا يقول قيمة
X الصادرات

مليار دولار يعني هنا قيمة الصادرات اكثر واكبر من المستوردات 50


M وقيمة المستوردات

مليار دولار يعني هنا قيمة المستوردات اقل من صادرات 40

$$(X-M)=(40-50)=10$$

يعني هنا الجواب سيكون وجود فائض في الحساب التجاري

... لان قيمة الصادرات اكبر من قيمة المستوردات

شرح مبسط الحساب التجاري: 

■ هو صافي التجارة الخارجية بمعنى قيمة صادرات البلد مطروحا منها قيمة
المستوردات من الخارج (X-M) وله ثلاث حالات:

يكون الحساب متوازن في حالة كانت قيمة الصادرات = قيمة الواردات

•• يعني هنا متساويه قيمة الصادرات وقيمة الواردات ••

يكون هناك عجز في الحساب التجاري عندما قيمة الصادرات > قيمة الواردات

•• يعني هنا قيمة الصادرات اقل من قيمة الواردات ••

يكون هناك فائض في الحساب التجاري
عندما قيمة الصادرات < قيمة الواردات

•• يعني هنا قيمة الصادرات اكثر من قيمة الواردات ••

سؤال السابق وضع لكم كيف يمكن سؤال عليها وبكل نموذج جايب عليها سوا

.....

س١٢/ ارباح الوليد بن طلال المتأتية من استثماراته في امريكا تدخل في
الحساب :

- ١ ■ الناتج المحلي الاجمالي السعودي
- ٢ ■ الناتج القومي الاجمالي السعودي
- ٣ ■ الناتج القومي الاجمالي الياباني
- ٤ ■ الناتج القومي الامريكي

س١٣/ الدخل القومي-ضرائب ارباح الشركات- الارباح المحتجزة - اقساط
= معاشات التقاعد + مدفوعات التحويلات

- ١ ■ الضرائب المباشرة
- ٢ ■ الدخل الشخصي
- ٣ ■ الدخل القومي
- ٤ ■ الدخل المتاح

توضيح:

الدخل الشخصي: هو عباره عن الدخل القومي بعد خصم العوائد التي لم يستلمها
العنصر الانتاجي وهو

يساوي: (الدخل القومي+مدفوعات التحويل -ضرائب أرباح الشركات -الأرباح
المحتجزه -أقساط معاشات التقاعد)

الدخل الشخصي المتاح: هو الدخل الشخصي بعد خصم الضرائب المباشرة منه وهو
: يساوي
(الدخل الشخصي -الضرائب المباشرة على الدخل)

س١٤/الادخارات تعتبر ايداعات
في شريان التدفق النقدي الدائري للدخل Injections

١ ■ صحيحة

٢ ■ خطأ

التصحيح: الخط الأخضر ايداعات في شريان التدفق النقدي الدائري للدخل
(صادرات .استثمارات ،انفاق حكومي)

س١٥/هو b- : -


b-1

١ ■ مضاعف النقود

٢ ■ مضاعف الادخار

٣ ■ مضاعف الضريبة

٤ ■ مضاعف الانفاق


س١٦/دالة الادخار هيا : 

١ ■ $S = -10 + 0.90y$

٢ ■ $S = -10 + 0.10y$

٣ ■ $S = 50 + 0.25y$

٤ ■ $S = 10 - 0.25y$

س١٩/في دالة الاستهلاك $C = 10 + 0.9$ فأن مقدار 0.9 يمثل : 

١ ■ الميل الحدي للادخار

٢ ■ الميل الحدي للاستثمار

٣ ■ الاستهلاك الثابت

٤ ■ الميل الحدي للاستهلاك

س٢٠/افترض ان النموذج الكينزي موضحاً بلمعادلات التالية : 

$C = 10 + 0.9y$

$I = 30$


((للإجابة عن الاسئلة من ٢٠ الى ٢٣...)) :

س٢٠/مقدار مضاعف الانفاق يساوي :

١ ■ 10

٢ ■ 6


٣ ■ 8




■ شرح للتوضيح :

1

$$10 = \frac{\quad}{0.9-1}$$

س٢١/ مقدار الدخل التوازني : 



١ ■ 200 مليار

٢ ■ 150 مليار

٣ ■ 400 مليار

٤ ■ 100 مليار

■ شرح للتوضيح :

1

$$(Ca+I) = \frac{\quad}{b-1}$$

1

$$400 = (10+30) \frac{\quad}{0.9-1}$$

س٢٢/ اذا كانت دالة الاستهلاك هيا $S=50+(1-0.75)y$ فأن دالة الادخار 

هيا :

١ ■ $S=-50+0.25y$

٢ ■ $S=-10+0.20y$

$$S=50-0.25y \quad \blacksquare \quad ٣$$

$$S=10+0.9 \quad \blacksquare \quad ٤$$

■ شرح للتوضيح :

في السؤال اوجد لنا دالة الاستهلاك ومطلوب دالة الادخار نقوم باستخراجها عن طريق
دالة الاستهلاك 📌

قانون دالة الادخار 📌 $s=-ca+(1-b)y$


$$S=-50+(1-0.75)y$$

ال 50- تبقى كما هيا ننزلها بدون اي تغيير ونقوم بطرح ما بين الاقواس فتصبح 📌



$$S=-50+0.25y$$

س ٢٣ / اذا علمت ان الناتج المحلي الحقيقي في سنة 2016 م هو 200 مليار
ريال وفي سنة 2017 م اصبح 220 مليار دولار فأن نسبة النمو في الناتج المحلي
الاجمالي الحقيقي في سنة 2017 يساوي :



$$١ \quad \blacksquare \quad 3\%$$

$$٢ \quad \blacksquare \quad 8\%$$

$$٣ \quad \blacksquare \quad 5\%$$

$$٤ \quad \blacksquare \quad 10\%$$