



اختبار الفصل

أ.أحمد الأحمديني

@ahmad9963



أَخْتَارُ الْوَحْدَةَ الْأَنْسَبَ (الْمِلِّمِترَ، السَّنْتِمِترَ، المِترَ،
الْكِيلُومِترَ) لِقِيَاسِ كُلِّ مِمَّا يَأْتِي:

٤ طُولِ غُرْفَةِ نَوْمِي.

٥ طُولِ أَصْبُعِي.

٦ المَسَافَةَ بَيْنَ الرِّيَاضِ وَالْمَنَامَةِ.

أَضَعُ عَلامَةَ (✓) أَمَامَ العِبَارَةِ الصَّحِيحَةِ، وَعَلامَةَ (✗)
أَمَامَ العِبَارَةِ غَيْرِ الصَّحِيحَةِ:

١ المِسَاحَةُ هِيَ طُولُ المَسَافَةِ حَوْلَ الإِطارِ
الخَارِجِيِّ لِشَكْلِ مُعَيَّنٍ.

٢ تُسْتَعْمَلُ الوَحْدَاتُ المُكعَّبَةُ لِقِيَاسِ الحَجْمِ.

٢ أقيسُ الفُرْشَةَ إِلى أَقْرَبِ سَنْتِمِترٍ:



أ.أحمد الأحمديني

@ahmad9963

أَخْتَارُ الْوَحْدَةَ الْمُنَاسِبَةَ (الْجِرَامَ، الْكِيلُو جِرَامَ)
لِقِيَاسِ الْكُتْلَةِ:



١١



١٠

١٢ أَخْتِيَارُ مِنْ مُتَعَدِّدٍ: مَا حَجْمُ الْمَجْسَمِ أَذْنَاهُ؟



(أ) ٧ وَحَدَاتٍ مُكَعَّبَةٍ (ج) ٨ وَحَدَاتٍ مُكَعَّبَةٍ

(ب) ١٠ وَحَدَاتٍ مُكَعَّبَةٍ (د) ١٦ وَحَدَةَ مُكَعَّبَةٍ

٧ أَخْتِيَارُ مِنْ مُتَعَدِّدٍ: أَخْتَارُ الْعَدَدَ الْمُنَاسِبَ

لِقِيَاسِ طُولِ قَلَمٍ جَبْرٍ؟

(ج) ١٠ م

(أ) ١٠ ملم

(د) ١٠ كلم

(ب) ١٠ سم

أَحَدُ الْوَحْدَةِ الْمُنَاسِبَةَ (الْكَغْرَامَ، الْمِيلِيْغْرَامَ) لِقِيَاسِ سَعَةِ:

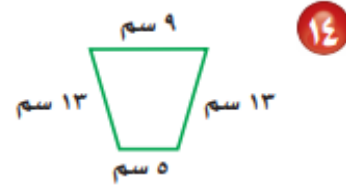
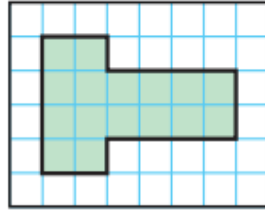
٩ عُلْبَةِ عَصِيرٍ.

٨ سَلَّةِ قُمَامَةٍ.

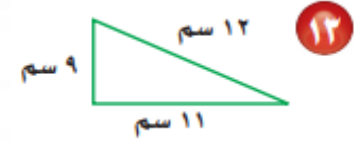
أ.أحمد الأحمديني

@ahmad9963

١٥ الجزء المظلل من الشكل أدناه يوضح
شكل غُرْفَةٍ، أجد مساحتها:



أجد مُحِيطَ كُلِّ شَكْلِ مِمَّا يَأْتِي:



أ. أحمد الأحمديني

@ahmad9963



١٧ **اُخْتَبِ** هَلْ يُمَكِّنُنِي أَنْ أَجِدَ مُحِيطًا
سَطْحِ طَاوِلَتِي إِذَا لَا حَظَّتْ طُولَهَا وَعَرَضَهَا؟
أَوْضِحْ إِجَابَتِي.

١١ **اِخْتِيَارٌ مِنْ مُتَعَدِّدٍ**: بَدَأَتْ حِصَّةُ التَّرْبِيَةِ
الْفَنِيَّةِ السَّاعَةَ الـ ١١:٤٥، وَانْتَهَتْ بَعْدَ
٤٥ دَقِيقَةً، فِي أَيِّ سَاعَةٍ انْتَهَتْ الْحِصَّةُ؟
(أ) ١٢:٣٠ (ب) ١١:٣٠
(ج) ١:١٥ (د) ١:٤٥

أ.أحمد الأحمديني
@ahmad9963