

2021



الخرائط الجغرافية لمادة التاريخ

لطلاب الثالث الثانوي الأدبي



إعداد المدرّس

عبدالله رحال



0996352604

تطلب النسخة الأصلية من مكتبة الآداب

الخريطة الأولى : أزمات المسألة الشرقية

عدت قضايا البلاد العربية السياسية طوال القرن التاسع عشر والعقدين الأولين من القرن العشرين فرعاً من فروع المسألة الشرقية ، فكل دولة من الدول الأوروبية تطمح ببعض المناطق وتسعى إلى تقوية نفوذها فيها، كما كانت تسعى في الوقت نفسه للحيلولة دون توسع نفوذ منافسها فرجح مبدأ: « بقاء ما كان على ما كان » أي: بقاء تلك الأماكن تحت إدارة الدولة العثمانية الضعيفة أفضل من انتقالها إلى أيدي دولة أوروبية قوية، ولم تتفق الدول الأوروبية على هذه السياسة رغبة في الحفاظ على كيان الدولة العثمانية بل إنها اتفقت تحاشياً من اصطدام بعضها ببعض، بانتظار الفرصة المناسبة لتحقيق مطامعها من غير مجازفة عن طريق المفاوضات والمساومة على أساس التعويضات المتقابلة، وكانت البلاد العربية من أئمن تلك المساومات.

1- ضع عنوان مناسب للخريطة ؟

- أزمات المسألة الشرقية

2- ما سبب ظهور المسألة الشرقية ؟

- بسبب ضعف الدولة العثمانية وتوسعات محمد علي باشا وحملة نابليون على مصر والتنافس بين الدول الأوروبية

3- ما المناطق التي ظهرت فيها المسألة الشرقية ؟

- مصر- بلاد الشام - شبه الجزيرة العربية

4- فسر قيام فرنسا بشن حملة على مصر ؟

- من اجل تقوية نفوذها وضعف الدولة العثمانية وتوسعات محمد علي في بلاد الشام وبلاد الحجاز

5- ما اثر توسعات محمد علي على المنطقة العربية؟

- سلبية ؟ لانها اشعلت التنافس الاستعماري وجعلت فرنسا ترسل حملة الى مصر

6- ما اثر المسألة الشرقية على المنطقة العربية ؟

- سالية ؟ لانها كانت بداية للسيطرة الدول الغربية على المنطقة العربية

7- فسر استمرار الدولة العثمانية رغم ضعفها ؟

رغبة الدول الأوروبية في إبقاء الوضع كما هو عليه ريثما تتفق فيما بينها بشكل سلمي ومن اجل تقسيم أملاك الدولة العثمانية فيما بينها بشكل سلمي دون نزاعات

8- بم تفسر بقاء ما كان على ما كان وما التعميم الذي توصلت اليه ؟

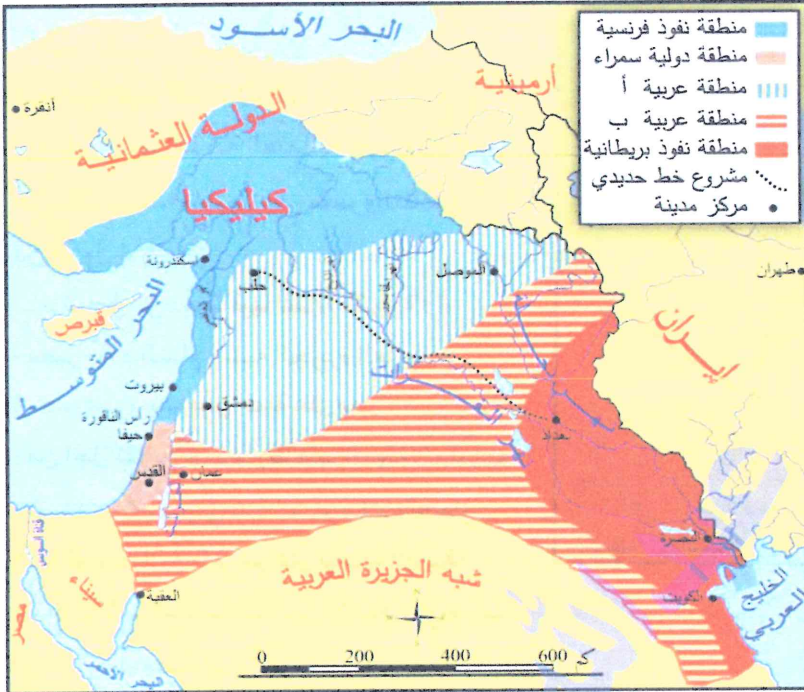
رغبة الدول الأوروبية في إبقاء الوضع كما هو عليه ريثما تتفق فيما بينها بشكل سلمي ومن اجل تقسيم أملاك الدولة العثمانية فيما بينها بشكل سلمي دون نزاعات

9- حول الخريطة الجغرافية الى نص تاريخ

ان أزمات المسألة الشرقية في الوطن العربي تتمثل بمحورين أساسيين المحور الأول مرتبط بأطماع الدول الأوروبية وخاصة فرنسا وبريطانيا في السيطرة على الوطن العربي وتبين لنا ذلك من خلال حملة نابليون بونابرت على مصر والمحور الثاني هو سعي الولاة المحليين (ولاة الدولة العثمانية) بالاستقلال عنها مستغلين ضعف الدولة العثمانية أهمها كانت حملات محمد علي في بلاد الشام والحجاز

الخريطة الثانية : اتفاقية سايكس بيكو

اشتداد المنافسة بين الدول الأوروبية ورغبتها بتوزيع مناطق النفوذ فيما بينها بشكل مرض لكل الأطراف دون الدخول في نزاعات عسكرية دفعها للتفاوض فيما بينها، انتهى هذا التفاوض بداية القرن العشرين بتوقيع اتفاقية (سايكس - بيكو) عام 1916م، التي أعطت الإطار الخارجي للخريطة المستقبلية لدول المشرق العربي ، جاءت الاتفاقية على شكل مذكرات دبلوماسية تبادلتها حكومات الدول الثلاث (بريطانيا وفرنسا وروسيا القيصرية) تألفت هذه المذكرات من 12 مادة، شملت فيها تقسيم المناطق العربية (سورية الطبيعية والعراق وعدن وشبه الجزيرة العربية والجزائر) بالإضافة لتقاسم بعض المناطق غير العربية، والاتفاق على إنشاء (كيان صهيوني) والاعتراف ببقاء التعرّف الجمركية التركية لمدة 20 عاماً ، وعدم إنشاء جمارك داخلية بين المناطق المقسمة، وانشاء خط حديدي ماربواي الفرات بين حلب وبغداد، بقيت الاتفاقية سرية إلى أن كشفت عنها الثورة البلشفية في روسيا عام 1917م.



1. ضع عنوان مناسب للخريطة ؟

اتفاقية سايكس بيكو أو تقسيم المنطقة العربية

2. استخلص من الخريطة قرارات اتفاقية سايكس بيكو؟

- منطقة زرقاء تحت النفوذ الفرنسي تشمل كيليكية والساحل السوري حتى رأس الناقورة
- منطقة حمراء تحت النفوذ البريطاني تشمل بغداد والبصرة والكويت
- منطقة سمراء دولية تشمل فلسطين
- منطقة عربية (أ) و (ب) اتحاد دول عربية

3. فسر وضع فلسطين منطقة دولية ؟

- بسبب أهميتها الاستراتيجية على البحر المتوسط وأهميتها الدينية لكل من المسلمين واليهود والمسيح ولأن بريطانيا كانت تفكر بمنحها لليهود وبسبب التنافس الاستعماري عليها

4. ما دلالة وضع المنطقة العربية داخلية ؟

لان هذه المنطقة فقيرة بالموارد ومن اجل حصارها الاقتصادي ولحرمان العرب من المنافذ البحرية

5. ما دلالة اهتمام بريطانيا بالعراق ؟

- بسبب موقعه الاستراتيجي على الطرق التجارية الى الهند وقربه من الخليج العربي ووجود نهر دجلة والفرات

6. ما الدليل على اهتمام فرنسا بالساحل السوري ؟

- وضعت الساحل السوري تحت نفوذها

7. ما الدليل على اهتمام بريطانيا بالعراق ؟

وضعت بغداد والبصرة والكويت تحت نفوذها

8. ما اثر وجود هذه الاتفاقية على بلاد الشام اليوم ؟

- سلبي ؟ لانها جزئت بلاد الشام وثبتت الكيان الصهيوني في بلاد الشام وحالت دون قيام دولة عربية موحدة فوضي اضطرابات اضعاف المنطقة العربية - عدم استقرار المنطقة العربية

9. ما التعميم الذي توصلت اليه ؟

خداع الدول الغربية للعرب ومحاولاتهم في السيطرة على المنطقة العربية والعمل على تحقيق مصالحهم بشتى الطرق

10. حول الخريطة الجغرافية الى نص تاريخي :

في حين كان العرب يقاتلون في الحرب العالمية الأولى الى جانب الحلفاء كان الحلفاء يتآمرون على العرب ويقسمون مناطق النفوذ فيما بينهم فكانت اتفاقية سايكس - بيكو عام 1916م حيث اقسمت المنطقة العربية الى منطقة نفوذ فرنسية تشمل كيليكية والساحل السوري ومنطقة نفوذ بريطانية تشمل جنوب ووسط العراق (بغداد - البصرة) ومنطقة دولية سمراء تشمل فلسطين ومنح العرب المنطقة الداخلية لحصارها وحرمانهم من المنافذ البحرية

الخريطة الثالثة : مؤتمر سان ريمو

اجتمع الحلفاء بعد الحرب العالمية الأولى في باريس عام 1919م لصياغة معاهدات إنهاء الحرب، وجهدوا أن تكون تلك الحرب خاتمة الحروب، لكن مؤتمر الصلح الذي عقد في باريس من أجل السلام كان افتتاحية لسلسلة من الحروب والثورات في المشرق، لم يعط المؤتمر اهتماماً لمطالب العرب التي قدّمها الأمير فيصل بالحصول على الاستقلال وتأسيس مملكة عربية، بل ساعد الدول الأوروبية لإحكام مؤامراتها على المشرق العربي بابتداعها فكرة الانتداب (الاحتلال) الذي تأخر تطبيقه حتى عقد اتفاق سان ريمو (Saintrimo) عام 1920م، فوضعت سورية ولبنان تحت الانتداب الفرنسي ووضع العراق وشرق نهر الأردن وفلسطين تحت الانتداب البريطاني، مع التزام بريطانيا بتنفيذ مطالب الصهيونية بعد إطلاقها وعد بلفور عام 1917م.

1- ضع عنوان مناسب للخريطة ؟

- تقسيمات مؤتمر سان ريمو في بلاد الشام والعراق
او تقسيم المنطقة العربية

2- استخلص من الخريطة مقررات مؤتمر سان ريمو ؟

- وضع سورية ولبنان تحت الانتداب الفرنسي
- وضع العراق وشرق الأردن وفلسطين تحت الانتداب البريطاني مع تنفيذ وعد بلفور في فلسطين

3- ما التغييرات التي طرأت على اتفاقية سايكس بيكو في مؤتمر سان ريمو ؟

- الغيت المنطقة العربية - وضعت الموصل وشرق الأردن تحت الانتداب البريطاني - وضع فلسطين تحت الانتداب البريطاني مع تنفيذ وعد بلفور

4- فسر وضع فلسطين تحت الانتداب البريطاني ؟

- من أجل تنفيذ وعد بلفور وبسبب أهمية موقعها الاستراتيجي على البحر المتوسط وأهميتها الدينية

5- لماذا برايك ابتدع الحلفاء نظام الانتداب ؟

لايجاد مبررات لاحتلال المنطقة العربية - وتقاسم مناطق النفوذ فيما بينها بالتفاهم

6- بم تفسر ربط وعد بلفور بالانتداب / حرص بريطانيا على تنفيذ وعد بلفور في فلسطين ؟

وحدة المصالح - تلاقى مصالح الاستعمار مع الصهيونية - منع وحدة العرب

7- ما أثر تقسيمات مؤتمر سان ريمو واتفاقية سايكس بيكو على المنطقة العربية ؟

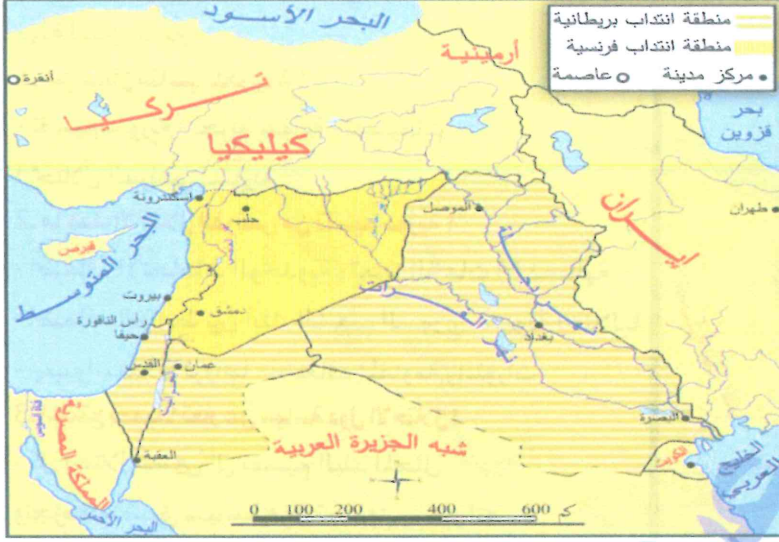
- سلبى ؟ لأنها جزئت بلاد الشام وثبتت الكيان الصهيوني في بلاد الشام وحالت دون قيام دولة عربية موحدة فوضي اضطرابات اضعاف المنطقة العربية - عدم استقرار المنطقة العربية

8- ما التعميم الذي توصلت اليه ؟

تأمر الدول الاستعمارية على المنطقة العربية والسيطرة عليها باي طريقة كانت وتجزئة البلاد العربية واضعافها ونهب ثرواتها

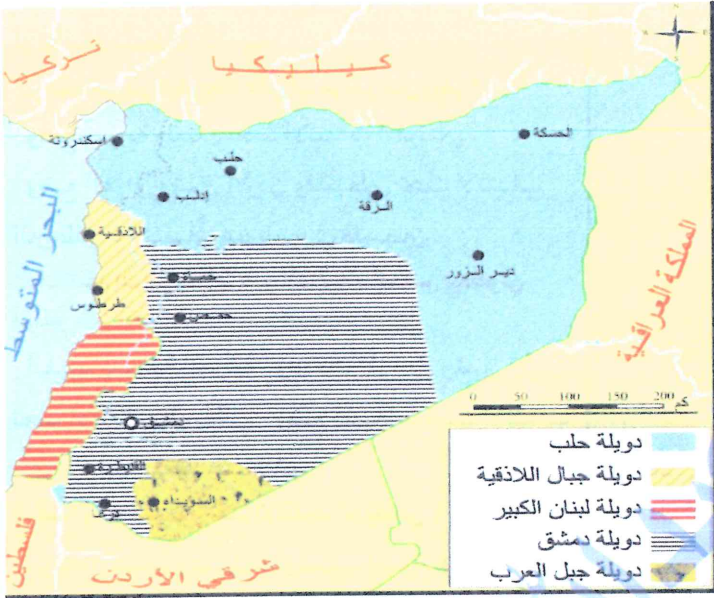
9- حول الخريطة الجغرافية الى نص جغرافي :

استكمالاً لسلسلة المؤتمرات الاستعمارية على المنطقة العربية قامت الدول الاستعمارية وتنفيذاً لما جاء في مؤتمر الصلح كان مؤتمر سان ريمو الاستعماري عام 1920م الذي طبق الانتداب وقسم المنطقة العربية الى منطقة انتداب فرنسية تشمل سورية ولبنان ومنطقة انتداب بريطانية تشمل العراق وشرق الأردن وفلسطين مع تطبيق وعد بلفور في فلسطين



الخريطة الرابعة : تجزئة سورية

مارست فرنسا سياسة التجزئة في سورية تطبيقاً لمبدأ (فرق تسد) لضعاف الاتجاهات الوحدوية والوطنية وتمزيق وحدة الشعب العربي السوري واضعاف الثورات والسيطرة على البلاد واستغلال مواردها والحصول على مركز متميز في شرق البحر المتوسط فقسمتها الى ست دويلات فقد استبعد دوكاي مستشار المفوضية العليا في سورية أي صيغة للملكية موحدة في سورية اقترح تجزئة سورية جاء في رسالته / فدرالية سورية / (انه من الضروري ان نجعل لسورية ملكاً يحقق وحدة البلاد وبحسب رأي اعتقد ان ذلك سيكون تديراً رديئاً بان حالة الارتباك لدى الأوساط الشعبية تشكل بدورها سبباً لتوجه الأفكار نحو السياسة الفدرالية واني لاعتقد مثل هذا التدبير من شأنه ان يبعث الارتياح لدى قسم كبير من وجهاء البلاد فكان اول عمل قام به المندوب السامي غورو عام 1920م تشكيل دولة لبنان الكبير



1. ضع عنوان مناسب للخريطة ؟

- تقسيم سورية - تجزئة سورية - تقسيمات الاحتلال الفرنسي لسورية

2. ما هدف الاحتلال الفرنسي من تقسيم سورية ؟

- اضعاف الاتجاهات الوحدوية - تعزيز النزعات الانفصالية - اضعاف الترابط بين أبناء الشعب السوري - سهولة احتلالها - نهب واستغلال ثرواتها - اضعاف المقاومة والثورات

3. استنتج تعميماً تعبر عن سياسة دول الاحتلال ؟

- كل احتلال يسعى الى تقسيم البلد المحتل وتجزئته وتطبيق سياسة فرق تسد ونهب خيراته

4. ما الدولة العربية التي أكدت على مبدأ فرق تسد ؟

دولة لبنان الكبير

5. حول الخريطة الجغرافية الى نص تاريخي :

عمدت فرنسا بعد احتلال سورية عام 1920م الى اتباع سياسة استعمارية تعتمد على مبدأ فرق تسد والتجزئة فقسمت سورية الى خمس دويلات وهي دويلة حلب ودويلة لبنان الكبير ودويلة جبال اللاذقية ودويلة دمشق ودويلة جبل العرب

الخريطة الخامسة : الثورات في المنطقة الغربية في سورية

بعد الحرب العالمية الأولى احتلت فرنسا السواحل السورية عام 1918م، فكان على الرجال الوطنيين أن يقاوموا الاحتلال الفرنسي ، وأخذ كل السبل والأساليب الممكنة لإجلائه، واستكمال أسباب استمرار الحكومة العربية في دمشق، لكن لا سبيل إلى مقاومة الاحتلال إلا بقوة الثورة التي اندلعت في جبال اللاذقية عام 1918م بقيادة الشيخ صالح العلي، وفي شمال سورية، ومن جبل الزاوية بقيادة إبراهيم هنانو، فكانت تلك الثورات جبهة دفاع موحدة حمت السهل الساحلي الغربي الشمالي والداخلي الشرقي، وحالت دون مرور الجيوش الفرنسية للمدن الداخلية، ونتيجة للهزائم المتوالية التي مني بها الجيش الفرنسي كهزيمته في معركة وادي ورور عام 1920م، طلبت فرنسا الصلح من الشيخ صالح العلي.



1. ضع عنوان مناسب للخريطة ؟

- الثورات السورية ضد الاحتلال الفرنسي / قيام ثورتي الساحل والشمال ضد الاحتلال الفرنسي

2. ما الدليل على انتشار الثورات السورية في المنطقة الغربية ؟

- احتلال فرنسا للمنطقة الغربية (الساحل السوري) قبل غيرها

3. ما أهمية معركة وادي ورور ؟

- موقعها الاستراتيجي بالقرب من ساحل البحر المتوسط
- وشكلت خط دفاع اول عن المناطق الداخلية

4. ما دلالة قيام الثورات ضد الفرنسيين ؟

- حب الوطن والدفاع عنه - وكره المستعمر

5. ما التعميم الذي توصلت اليه من قيام الثورات ؟

- كل الشعوب التي تقع تحت الاحتلال يجب عليها مقاومة هذه الاحتلال وإعلان الثورات ضده والتضحية من اجل الوطن

6. ما اثر قيام ثورتي الساحل والشمال في نفس التوقيت ؟

- إيجابي ؟ لانه ساهم في حماية الساحل والداخل والشمال والتعاون والتنسيق بين الثورتين زاد الصعوبة في وجه الاحتلال الفرنسي ومنع تقدم القوات الفرنسية نحو الداخل

7. ما الدليل على مقاومة الاحتلال الفرنسي ؟

قيام كل من ثورتي الساحل والشمال

8. ما الدليل على انتصارات الثورتين ضد الاحتلال الفرنسي ؟

- المعارك المتتالية

معارك ثورة الساحل (وادي ورور)

معارك ثورة الشمال (حارم - ادلب - جسر الشغور - لواء اسكندرونة)

9. ما دلالة احتلال فرنسا للمنطقة الغربية (الساحلية) من سورية ؟

- بسبب موقعها الاستراتيجي على ساحل البحر المتوسط وغناها بالثروات

10. حول الخريطة الجغرافية الى نص تاريخي :

ما ان قامت فرنسا باحتلال الساحل السوري هام 1918م حتى ثار الشعب السوري ونادى بمقاومة الاحتلال فاشتعلت ثورة في منطقة الساحل بقيادة الشيخ صالح العلي وكانت اهم معاركها معركة وادي ورور واشتعلت في نفس الوقت ثورة الشمال بقيادة إبراهيم هنانو وكانت اهم معاركها (حارم وادلب وحسر الشغور وجبل الزاوية) حيث كبدت هاتين الثورتين الفرنسيين خسائر فادحة ومنعت الفرنسيين من التوغّل نحو الداخل

الخريطة السادسة : الثورة السورية الكبرى :

انطلقت الثورة السورية الكبرى ضد الاحتلال الفرنسي في 20 تموز عام 1925م، عندما أسقط الثوار طائرة للاحتلال الفرنسي وأسروا طيارها، ثم استولوا على دار الحكومة في صلخد، ليُرسل الاحتلال الفرنسي حملة عسكرية مؤلفة من 13 ألف جندي (إلى السويداء، فكانت معركة الكفر ثم معركة المزرعة، إذ اندحرت الحملة الفرنسية وتبعثرت بعد هذه المعارك، وانتشرت أخبار الانتصارات في جميع أنحاء سورية، فأذاع سلطان باشا الأطرش بياناً نشر في الصحف العربية جاء فيه: «يا أحفاد العرب الأمجاد فلتنهض من رقادنا ولنبدد ظلام التحكم الأجنبي عن سماء بلادنا، ...

ونطالب بوحدة البلاد السورية، والاعتراف بدولة سورية عربية واحدة مستقلة، وقيام حكومة شعبية تجمع المجلس النيابي لوضع قانون أساسي على مبدأ سيادة الأمة، وتأليف جيش وطني وفي أثناء معارك المسيفرة أبدت قيادات وطنية تعاونها على نشر معارك الثورة في كل مناطق سورية، فالضابط رمضان شلاش في بادية تدمر ودير الزور، بينما نشرها في تلكلخ حسن الطعان الدندشي، وحسن الخراط في غوطة دمشق، وتوفيق هولو حيدر في بعلبك والمهمل، وفي حماة فوزي القاوقجي، بينما تزعم الحركة الوطنية في حلب إبراهيم هنانو.



1- ضع عنوان مناسب للخريطة ؟

- الثورة السورية الكبرى / معارك الثورة السورية ضد الاحتلال الفرنسي

2- ما اثر امتداد الثورة السورية على كامل الأراضي السورية ؟

- إيجابي ؟ دليل على الوحدة الوطنية - الوقوف في صف واحد - رفض الاحتلال الفرنسي والتخلص منه - الحصول على الاستقلال

3- ما التعميم الذي توصلت اليه ؟

- كل الشعوب الواقعة تحت الاحتلال الأجنبي يجب ان توحد الصفوف وتتعاون للتخلص من هذه الاحتلال

4- ما دلالة امتداد الثورة السورية الكبرى الى بعلبك والمهمل ؟

- الوحدة الوطنية - التلاحم القومي - التضامن العربي - رفض التجزئة

5- ما الدليل على الانتصارات التي حققتها الثورة السورية الكبرى ؟

- امتداد الثورة في كل أنحاء سورية والمعارك المتتالية / دير الزور - حماه - تل كلخ - تل عمار..... /

6- بم تفسر انتشار معارك الثورة السورية الكبرى في كل أنحاء سورية ؟

- التلاحم والوحدة الوطنية - تخفيف الضغط عن جبل العرب

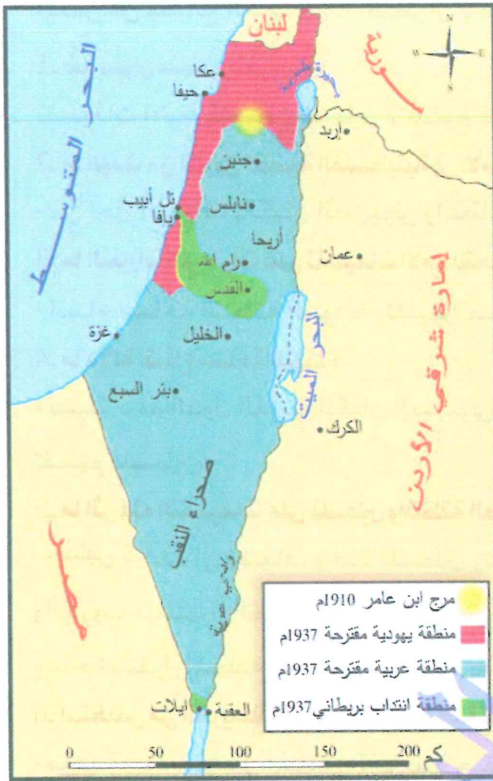
7- حول الخريطة الجغرافية الآتية الى نص تاريخي :

ما ان اعلن سلطان باشا الأطرش الثورة السورية الكبرى في جبل العرب والتي كانت ضد سياسة فرنسا الاستعمارية وفصل جبل العرب عن الوطن الام سورية حتى انتشرت الثورات في جميع الانحاء السورية دعما لسلطان باشا الأطرش ولتخفيف الضغط عن جبل العرب فاشتعلت الثورة في دير الزور وتدمر بقيادة رمضان شلاش وفي دمشق وغوطة وفي حلب والساحل السوري وصولا الى لبنان

الخريطة السابعة : لجنة بيل الملكية عام 1937م

انتقلت مظاهر الإضراب الفلسطيني إلى المدن في البلدان العربية فبدأت تقوم مظاهرات التأييد للإضراب الفلسطيني في كل العالم العربي ، كما عقد مؤتمر في الهند لتأييد فلسطين، حضره الزعيم الهندي نهرو وأيد المطالب الفلسطينية، وصمم الهنود على مقاطعة الإنكليزي في الشراء والبيع، وقرروا العصيان المدني حتى تتغير السياسة البريطانية في فلسطين. أما بريطانيا فقد لجأت إلى إرسال « لجنة بيل » للتحقيق في الشأن الفلسطيني، وفي عام 1937م قدمت

اللجنة توصياتها في قسمين الأول: (المسكنات) لامتناص غضب العرب، انطوى على تحديد الهجرة باثني عشر ألفاً في السنة لمدة خمس سنين، ومنع انتقال الأراضي العربية لليهود، والاهتمام بالعرب وانشاء مجلس وتحسين اقتصادهم، تشريعي، وسي القسم الثاني: بالعملية الجراحية، تضمن تقسيم فلسطين إلى ثلاثة أقسام: منطقة عربية، ومنطقة يهودية، ومنطقة خاضعة للانتداب البريطاني



1. ضع عنوان مناسب للخريطة ؟

- تقسيمات لجنة بيل / تقسيم فلسطين / تجزئة فلسطين

2. استخلص من الخريطة تقسيمات لجنة بيل ؟

- منطقة يهودية تشمل عكا وحيفا ورافا على ساحل البحر المتوسط
- منطقة بريطانية تشمل القدس - منطقة عربية تشمل باقي فلسطين

3. فسر وضع القدس تحت النفوذ البريطاني ؟

- بسبب أهمية موقعها الاستراتيجي وأهميتها الدينية ومن أجل تسليمها لليهود

4. فسر أهمية المنطقة اليهودية ؟

- وقوعها على ساحل البحر المتوسط وخصوبة أراضيها وغناها بالثروات

5. ما أثر هذه اللجنة على فلسطين ؟

- سلبي ؟ أدت إلى إضعاف وحدة فلسطين وتقسيمها وتجزئتها وانتشار الفوضى

والحروب واستمرار الصهاينة بالأعمال التخريبية وسلب الأراضي والهجرة والتشرد

6. ما التعميم الذي توصلت إليه ؟

- أن سياسة الخداع والتسويق والمماطلة هي سياسة استعمارية يلجأ إليها المستعمر

لتهديئة العرب وتسكينهم وخاصة بعد إعلانهم للثورات ضدهم وأن بريطانيا واليهود

وجهان لعملة واحدة وأن مصالحهما واحدة

7. حول الخريطة الجغرافية إلى نص تاريخي

ما إن أعلن الشعب الفلسطيني العصيان المدني حتى سارعت بريطانيا بإرسال لجنة بيل الملكية عام 1937م حيث قدمت توصيات بتقسيم فلسطين إلى ثلاث مناطق هي منطقة يهودية تشمل عكا وحيفا ورافا على ساحل البحر المتوسط ومنطقة بريطانية تشمل القدس ومنطقة عربية تشمل باقي فلسطين وأوصت اللجنة أيضاً بتحديد الهجرة باثني عشر ألفاً في السنة لمدة خمس سنين، ومنع انتقال الأراضي العربية لليهود، والاهتمام بالعرب وانشاء مجلس تشريعي وتحسين اقتصادهم

الخريطة الثامنة : تقسيمات الأمم المتحدة بشأن فلسطين :

تذرعت بريطانيا بأن زمام الأمور قد أفلت من يدها في فلسطين، فوجهت وزارة الخارجية البريطانية رسالة إلى هيئة الأمم المتحدة في نيويورك عام 1947 م، طلبت فيها إحالة القضية الفلسطينية إلى الجمعية العمومية التي قررت تقسيم فلسطين إلى دولتين إحداهما عربية والأخرى يهودية على أن تبقى القدس دولية، يذكر فارس الخوري الذي كان آنذاك ممثلاً لسورية في مجلس الأمن: «إن هيئة الأمم المتحدة أقرت مشروع التقسيم بأغلبية صوتين اثنين، وان المعركة بلغت أشدها في اليوم الأول الذي سبق قرار التقسيم، إوان معظم الدول كانت تؤيد العرب في وجهة نظرهم، لولا تدخل الولايات المتحدة الأمريكية، إذ راحت هذه تؤثر في مندوب الفلبين بعد أن وعد بتأييدنا واضطر إلى الهرب حتى لا ينقض بوعده استجابة للضغط الأمريكي، إوان مندوب (هايتي) بكى أمامي لأن مصالح بلاده مع أمريكا أقدس من مصالح العرب ولهذا اضطر أن ينقض بوعده.»



1. ضع عنوان مناسب للخريطة ؟

تقسيمات الأمم المتحدة لفلسطين / تقسيم فلسطين حسب تقسيمات الأمم المتحدة

2. ما الهدف من تدويل القضية الفلسطينية في الأمم المتحدة ؟

- من اجل الاعتراف بالكيان الصهيوني واعطائه صفة شرعية

3. ما التغيرات التي طرأت على تقسيمات الأمم المتحدة بعد تقسيمات لجنة بيل ؟

- اتساع مساحة المنطقة اليهودية وتقليص مساحة العرب ووضع القدس منطقة دولية

4. ما دلالة اتساع مساحة اليهود ؟

- بسبب دعم الدول الغربية للكيان الصهيوني واضعاف المنطقة العربية والتأكيد على تقسيم فلسطين

5. ما اثر هذه التقسيمات على فلسطين والمنطقة العربية اليوم ؟

- سلبي ؟ أدت الى اضعاف وحدة فلسطين وتقسيمها وتجزئتها - انتشار الفوضى

والحروب - استمرار الصهاينة بالأعمال التخريبية وسلب الأراضي والهجرة والتشرد

وعدم استقرار المنطقة العربية - عدم قيام دولة عربية موحدة

6. استخلص من الخريطة تقسيمات الأمم المتحدة لفلسطين عام 1947م ؟

- منطقة يهودية تشمل المناطق الساحلية حيفا ويافا بالإضافة الى صحراء النقب

وميناء ايلات

- منطقة دولية تشمل القدس

- منطقة عربية تشمل ما بقي من فلسطين

الخريطة التاسعة : أهمية البحر المتوسط الاستراتيجية :

تظهر قوة وتأثير المصالح السياسية للاحتلال في سيطرتها على أكبر قدر ممكن من الدول، فمع بداية القرن العشرين تطورت الرأسمالية إلى الإمبريالية العالمية التي لم تكن السيطرة عندها نابعة من رغبتها في سد حاجة اقتصادية، إنما من أجل السيطرة حياً بالسيطرة، وقد اتضحت هذه المصالح بشكل كبير في المشرق العربي، فورد في تقرير عام 1907م للإستراتيجية البريطانية في الشرق: « إن البحر المتوسط شريان حيوي لمصالح بريطانيا، وكل حماية ناجحة للمصالح الأوروبية المشتركة لا بد لها من السيطرة عليه، وعلى شطآنه الجنوبية والشرقية، وكل من يسيطر على هذه المنطقة يسيطر على العالم. » بينما أخذت فرنسا تحيي فكرة استعادة الأمجاد الفرنسية في سورية، فخطب رئيس الوزراء الفرنسي ريمون بوانكاريه في مجلس النواب عام 1912م قائلاً: « نحن مصممون على الدفاع عن حقوقنا ومصالحنا في سورية، ونحن عازمون على المحافظة على تقاليد فرنسا الوحيدة في الشرق. »

1. ضع عنوان مناسب للخريطة :

- الأهمية الاستراتيجية للبحر المتوسط

2. ما دلالة اهتمام الدول الغربية بالمنطقة العربية؟

- أهمية الموقع الاستراتيجي على ساحل البحر المتوسط وغناه بالثروات

3. ما اثر سيطرة الدول الغربية على المناطق المطلة على البحر المتوسط ؟

- سلبي ؟ لان ذلك سوف يؤدي الى السيطرة على المنطقة العربية

4. هل ما زال الوطن العربي يتمتع بذات الأهمية ؟
ما الدليل ؟

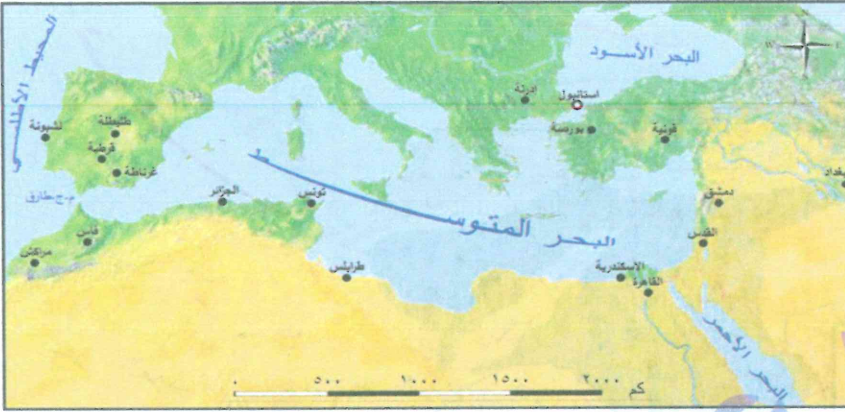
- نعم ؟ وقوعه على ساحل البحر المتوسط

5. ما دوافع الدول الغربية للسيطرة على المنطقة العربية ؟

- السيطرة على ساحل البحر المتوسط واستغلال الثروات

6. حول معلومات الخريطة الى نص تاريخي ؟

يتمتع الوطن العربي بأهمية استراتيجية بسبب وقوعه على ساحل البحر المتوسط بالإضافة الى غناه بالثروات مما أدى الى طمع الدول الغربية بالسيطرة على المنطقة العربية بسبب موقعه المهم من اجل التحكم بالمنطقة العربية سياسياً واقتصادياً لان من يسيطر على البحر المتوسط يسيطر على العالم

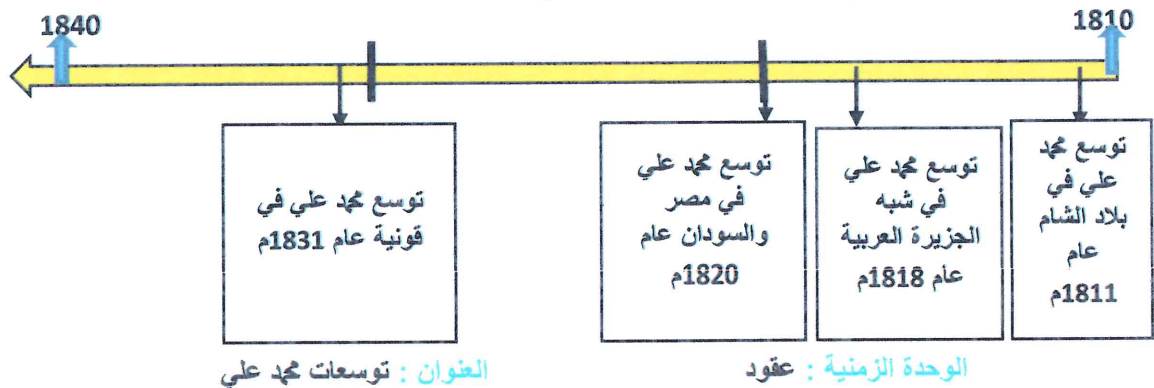


الخريطة العاشرة : دولة محمد علي

بعد تشكيل دولة في مصر تحول البحر الأحمر في عهده إلى بحيرة مصرية، ثم وصلت قواته إلى الخليج العربي والأناضول في أراضي الدولة العثمانية ذاتها، الأمر الذي يبشر بظهور دولة كبيرة ناشئة في منطقة المشرق العربي تمتلك مقومات الدولة الحديثة، فبدأت الدول الأوروبية بتطبيق سياسة الاحتلال في القرن التاسع عشر. اعتمد محمد علي نظام الإدارة المركزية، وطور الجيش والأسطول على النمط الأوروبي، وأقام المصانع الحديثة كالنسيج والأسلحة، واهتم بالتعليم وجعله إلزامياً، وأرسل البعثات العلمية إلى أوروبا، مما هدد مصالح الدول الأوروبية، فكانت حملة بريطانيا على عمان وتوقيعها معاهدات السلام العامة عام 1820م مع مشيخات الخليج العربي، بينما احتلت فرنسا الجزائر عام 1830م، لتندعم بريطانيا سياستها باحتلال عدن عام 1839م، ثم احتلت مصر عام 1882م.

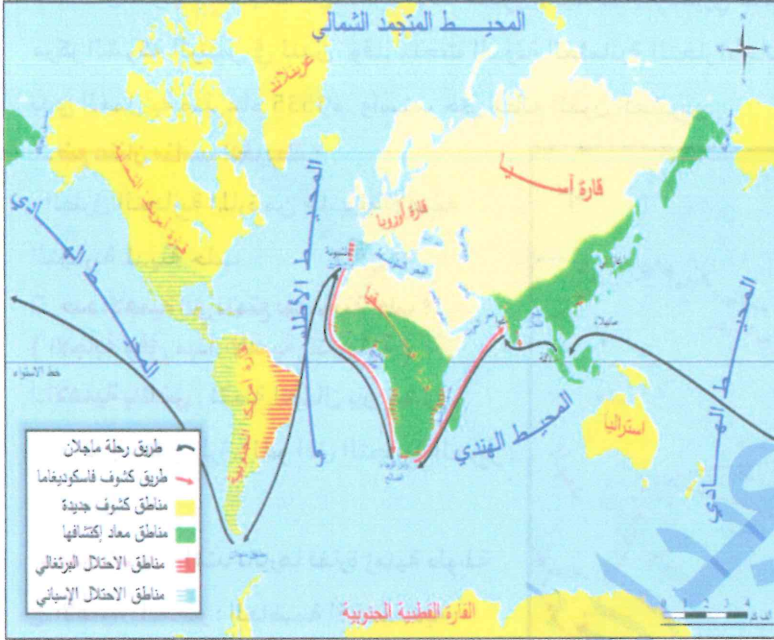


- 1- ضع عنوان مناسب للخريطة ؟ توسعات محمد علي في المنطقة العربية
 - 2- فسر تحول البحر الأحمر إلى بحيرة مصرية ؟ بسبب توسعات محمد علي
 - 3- ما دوافع قيام محمد علي من توسعاته في المنطقة العربية ؟ رغبته في تشكيل دولة عربية موحدة
 - 4- ما أثر توسعات محمد علي على الدول الغربية ؟ سلبى ؟ لانه هدد مصالح الدول الغربية في المنطقة العربية
 - 5- ما دوافع محمد علي في التوسع في شبه الجزيرة العربية ؟ الوصول إلى الخليج العربي والسيطرة على طريق تجارة الهند
 - 6- حول معلومات الخريطة إلى نص تاريخي ؟
- قام محمد علي بتوسعات انطلقت من مصر وذلك من أجل إقامة دولة عربية موحدة وشملت هذه التوسعات كل من بلاد الشام عام 1811م وشبه الجزيرة العربية عام 1818م والسودان عام 1820م وصولاً إلى قونية عام 1831م مما هدد مصالح الدول الغربية
- 7- حول معلومات الخريطة إلى خط زمني مراعي شروط تصميم الخط الزمني ؟



الخريطة الحادية عشر : الكشوفات الجغرافية

ليست كل معرفة جديدة يمكن أن تكون اكتشافاً، ربما تكون إعادة اكتشاف، أو إعادة معرفة، أو تأكيداً لمعرفة سابقة، أو نضجاً لها، وينطبق هذا الكلام على المغامرة الاستكشافية (الكشوف الجغرافية الأوروبية) التي كانت بالنسبة لزمانها ومن قام بها إنجازات علمية جديدة، أثارت دهشة الناس وفضولهم، لذلك عدّها بعض المؤرخين الحدث التاريخي الفاصل بين العصور التاريخية الوسطى والحديثة في أوروبا، ولأنها مثلت إحدى العوامل الحاسمة لهذا الانتقال بسبب ما صاحبها من تغييرات تجارية، وتغلغل أوروبي في آسيا و إفريقيا وأمريكا، ولأنها دعمت الاقتصاد الأوروبي بالوصول إلى أماكن التوابل والذهب، وترسيخ القوة السياسية بتحطيم السيطرة التجارية للبنديقية وللمماليك، ثم السيطرة على أكبر رقة من الممتلكات في أوروبا وخارجها



1. ضع عنوان مناسب للخريطة ؟

الكشوف الجغرافية أو اكتشاف طريق رأس الرجاء الصالح أو اكتشاف مناطق جديدة من العالم

2. ما الدليل على تراجع الدور التجاري للمنطقة العربية ؟

اكتشاف طريق رأس الرجاء الصالح لأنه حول حركة التجارة العالمية إليه دون المرور بالأراضي العربية

3. ما أثر الكشوف الجغرافية على أوروبا والمنطقة العربية ؟

- على أوروبا : إيجابي ؟ بسبب ازدهار النشاط التجاري لأوروبا ولأنها دعمت اقتصادها وسيطرة على أكبر رقة من الممتلكات

- على المنطقة العربية : سلبي ؟ بسبب تراجع الدور

التجاري للبحر المتوسط

4. حول معلومات الخريطة لتشكّل نصاً تاريخياً ؟

قام الأوروبيون برحلات استكشافية عرفت باسم الكشوف الجغرافية من خلال اكتشاف طريق رأس الرجاء الصالح حيث تحولت طرق التجارة العالمية إليه دون المرور

بالأراضي العربية فاثراً إيجابياً على أوروبا وسلباً على المنطقة العربية مما أدى إلى تراجع الأوضاع الاقتصادية في المنطقة العربية

الخريطة الثانية عشر : دور حلب التجاري

تمتعت مدينة حلب بموقع تجاري ممتاز في القرنين (16-17م) إذ انفتحت أمامها أسواق الإمبراطورية العثمانية خاصة مناطق الأناضول، وإيران، وبين المتوسط لتصبح حلب مركزاً مهماً لتجارة المرور بين أوروبا والعراق والخليج العربي، ويشهد على ذلك نشاط أسواقها وخاناتها(كخان الشونة) وحركة ميناها الطبيعي (اسكندرونة) مما تطلب مراعاة الحفاظ على القانون التجاري، فعين مراقبين للموازين والمكاييل المستخدمة وملاحقة الغش، ونظراً للدور التجاري الذي أدته حلب محلياً ودولياً أقامت إنكلترا وفرنسا ممثلين تجاريين فيها، واتخذ هؤلاء الصفة السياسية

كقناصل لدولهم، فأقيمت فيها شركة بلاد المشرق (ليفانت) الإنكليزي عام 1581م، وكان لهذه المراكز مراسلات تجارية ودبلوماسية مع مركز الشركة الرئيس في لندن، وقد منحت الدولة العثمانية التجار الأجانب امتيازات تجارية وقانونية بموجب نظام الامتيازات، الذي بدأ العمل به منذ عام 1535م، واستمر حتى مطلع القرن العشرين.



1. ضع عنوان مناسب للخريطة ؟

- الطرق التجارية المارة من حلب أو الأهمية التجارية لمدينة حلب

2. حدد الأهمية التي تتمتع بها مدينة حلب ؟ (الإجابة وفق مبدأ الأهمية التاريخية)

أ- الأهمية بالماضي : نقطة اتصال بين الشرق والغرب وملتقى طرق القوافل التجارية الحرير والتوابل

ب- مدى التأثير : امتد تأثيرها لفترة زمنية طويلة

ج- الأهمية بالحاضر : العاصمة الاقتصادية

للجمهورية العربية السورية

د- المجال الذي أثرت فيه : اقتصادي

3- برأيك هل ما زالت حلب تتمتع بنفس الأهمية؟

ما الدليل ؟

- نعم الدليل الموقع التجاري لمدينة حلب بين

الشرق والغرب

4- حول معلومات الخريطة لتشكّل نصاً تاريخياً ؟

تمتعت حلب بأهمية تجارية بسبب موقعها على الطرق التجارية البرية والبحرية (الحرير والتوابل) ونقطة اتصال تجاري بين الشرق والغرب

الخريطة الثالثة عشر: سلخ لواء اسكندرونة

خشيت الحكومة التركية أن يؤدي زوال الانتداب الفرنسي في سورية إلى بقاء لواء اسكندرونة مع سورية فطلبت بحث مسألة الحدود، وأدركت السلطات الفرنسية أن التوصل إلى اتفاق مع تركيا في المجال العسكري أمر مرغوب به في حال قيام حرب عالمية سيكون باستطاعة فرنسا المرور عبر المضائق لتأمين صلاتها مع الدول الأخرى، وازدياد قلق فرنسا من المخططات الإيطالية المتعلقة بشرقي المتوسط، ففكرت بأن وجود تركيا صديقة يكون سداً في وجه أي اختراق إيطالي، رفعت القضية إلى عصبة الأمم التي أقرت بالاستقلال الذاتي للواء، على أن تكون اللغتين التركية والعربية رسميتين فيه، وعلى أن يشترك مع الوطن الأم سورية في الإدارة والنقد، وفي اتفاقية أنقرة الثانية عام 1939م سلخ اللواء نهائياً عن الوطن الأم سورية.

1. ضع عنوان مناسب للخريطة ؟

أهمية لواء اسكندرونة او سلخ لواء اسكندرونة عن سورية او احتلال لواء اسكندرونة

2. ما دلالة قيام تركيا بسلخ لواء اسكندرونة عن سورية ؟

أهمية موقعه الاستراتيجي على ساحل البحر المتوسط - صلة الوصل بين اسيا وأوروبا - غناه بالأنهار العذبة - وغناه بالثروات

3. ما دلالة تأمر فرنسا وتركيا على سلخ لواء اسكندرونة ؟

تلاقي المصالح المشتركة بين تركيا وفرنسا - ومن أجل اضعاف سوريا

4. ما اثر سلخ اللواء عن سوريا اليوم ؟

سلبي ؟ اضعاف الروابط الوطنية مع الوطن الام سوريا - اضعاف وحدة سورية - تكريس التجزئة - استمرار احتلال فرنسا لسوريا



الخريطة الرابعة عشر:

تبلور الصراع العالمي بعد الحرب العالمية الثانية (1939-1945 م) بظهور الحرب الباردة بين المعسكر الرأسمالي المتمثل بالولايات المتحدة الأمريكية، والمعسكر الاشتراكي المتمثل بالاتحاد السوفيتي، ترافق ذلك مع تنامي حركة الاعتراف بحق الدول في الحصول على استقلالها السياسي ولتأمين الدول الغربية سيطرتها على تلك البلاد، واستمرار تبعيتها الاقتصادية والثقافية، لجأت إلى ذرائع جديدة، فكانت فكرة الأحلاف العسكرية التي تمثل هدفها الحقيقي الوقوف بوجه الاتحاد السوفيتي ودمج الكيان الصهيوني بالمنطقة العربية، فكان حلف بغداد عام 1955م، ومبدأ أيزنهاور عام 1957م.



- 1- ضع عنوان مناسب للخريطة الجغرافية؟ سياسة الاحلاف العسكرية على المنطقة العربية او فرض الدول الغربية السيطرة السياسية والعسكرية على المنطقة العربية او حلف بغداد
- 2- ما هدف الدول الغربية من ضم العراق الى حلف بغداد - اضعاف الروابط الوطنية والقومية العربية - تكريس مبدأ التجزئة بين الدول العربية - عدم قيام وحدة عربية شاملة - تكريس الخلافات بين الدول العربية - اضعاف المقاومة والقضية الفلسطينية - الضغط على سوريا - بداية احتلال جديد
- 3- استنتج تعميمياً من الخريطة الجغرافية؟ سعي الدول الغربية على استمرار سيطرتها واحتلالها للمنطقة العربية وابقائها ضعيفة باي طريقة وخاصة بعد حصول الدول العربية على استقلالها
- 4- برأيك ما موقف سورية تجاه الاخلاف معلل اجابتك؟ الرفض والدليل؟ عدم دخول سورية في الاحلاف العسكرية
- 5- ما دلالة رفض سورية الدخول بسياسة الاحلاف العسكرية؟ وعي شعبي - موافقها القومية والعربية - تطلعها للوحدة العربية - ادراكها مدى خطورة هذه الاحلاف
- 6- ما اثر سياسة الاحلاف على المنطقة العربية اليوم؟ سلبي؟ اضعاف الروابط الوطنية والقومية العربية - تكريس مبدأ التجزئة بين الدول العربية - عدم قيام وحدة عربية شاملة - تكريس الخلافات بين الدول العربية - اضعاف المقاومة والقضية الفلسطينية -
- 7- حول معلومات الخريطة الى نص تاريخي؟ حاولت الدول الغربية فرض سياسة الاحلاف العسكرية على بعض الدول العربية ومنها سورية والعراق بهدف اضعاف الروابط الوطنية والقومية العربية وتكريس مبدأ التجزئة بين الدول العربية وعدم قيام وحدة عربية شاملة و تكريس الخلافات بين الدول العربية و اضعاف المقاومة والقضية الفلسطينية والضغط على سوريا لكن سوريا رفضت الدخول في هذه الاحلاف بفضل وعي شعبي و موافقها القومية والعربية و تطلعها للوحدة العربية و ادراكها مدى خطورة هذه الاحلاف

الخريطة الخامسة عشر



1. ضع عنوان مناسب للخريطة ؟

احتلال الكيان الصهيوني الجولان السوري او الأهمية الاستراتيجية للجولان السوري المحتل

2. فسر احتلال الكيان الصهيوني الجولان السوري ؟

أهمية موقعه الاستراتيجي - قربه من فلسطين - غناه بالانهار العذبة مثل بحيرة طبريا - خصوبة أراضيه - غناه بالثروات

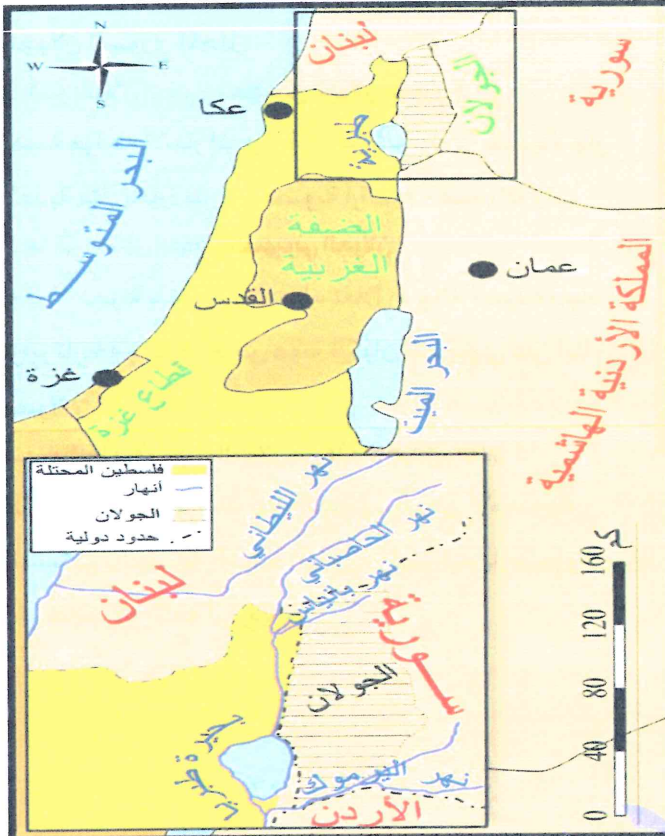
3. ما اثر احتلال الكيان الصهيوني الجولان ؟

سلبى ؟ تجزئة سورية - هب واستغلال ثرواته - سرقة المياه تزوير تاريخه واثاره - فرض هوية الكيان الصهيوني على أبناء الجولان

4. برأيك ما موقف أبناء الجولان من هذه الإجراءات معللا ؟

الرفض ؟ الدليل تمسك أبناء الجولان بالوطن الام سورية وتمسكهم بالجنسية العربية السورية وتمسكهم بارضهم والحفاظ على لغتهم الام اللغة العربية

الخريطة السابعة عشر السيطرة على المياه العربية



الخريطة السادسة عشر عدوان الخامس من حزيران عام 1967م



1. ضع عنوان مناسب للخريطة ؟

مصادرة المياه العربية او استغلال المياه في البلاد العربية او الاستحواذ على المياه في المنطقة العربية

2. ما دلالة قيام الكيان الصهيوني باحتلال أراضي عربية جديدة ؟

بسبب موقعه الاستراتيجي على ساحل البحر المتوسط وغناه بالثروات ومنها الأنهار العذبة والبحيرات

3. ما هدف الصهاينة من السيطرة على منابع المياه ؟

من اجل التحكم بها وقطعها عن الأراضي العربية وحرمانهم منها والضغط على المنطقة العربية بها والاستمرار بالاعمال العدوانية والتوسعية والقيام بمشاريع اقتصادية لدعم اقتصاده واستنزاف المياه الصالحة

4. ما اثر السيطرة على المياه من قبل الكيان الصهيوني على المنطقة العربية ؟

سلبي ؟ استغلال المياه والتحكم بها مما يؤدي الى تدهور الاقتصاد وتدني الإنتاج الزراعي والفقر والمجاعة والبطالة

1. ضع عنوان مناسب للخريطة ؟

عدوان الخامس من حزيران او الاعمال التوسعية والعدوانية للكيان الصهيوني على المنطقة العربية

2. ما دلالة قيام الكيان الصهيوني باعمال عدائية على المنطقة ؟

وحشيته - احتلال أراضي عربية جديدة - كيان عنصري توسعي اضعاف المقاومة العربية - تصفية القضية الفلسطينية

3. ما اثر هذا العدوان على المنطقة العربية ؟

سلبي ؟ لان الكيان الصهيوني احتل القدس الشرقية وقطاع غزة والضفة الغربية وسيناء ومرتفعات الجولان وزاد من عدم الاستقرار بالمنطقة العربية

4. استنتج من معلومات الخريطة تلميحا ؟

طبيعة الكيان الصهيوني العدوانية والتوسعية وتلاقي مصالح الاستعمار الصهيونية ودعم الدول الغربية للكيان الصهيوني