

المادة: علوم	 <p>رؤية VISION 2030 وزارة التعليم</p> <p>أسئلة الاختبار النهائي (الفصل الدراسي الثاني) للعام الدراسي ١٤٤٤هـ</p>	المملكة العربية السعودية.
الصف: رابع الابتدائي		وزارة التعليم.
التاريخ: / / ١٤٤٤هـ		إدارة تعليم
اليوم:		مكتب تعليم
عدد الصفحات: ٣		مدرسة
الزمن: ساعة ونصف.		
https://t.me/Sciences_203 قناتي		اسم الطالب: نموذج الإجابة رقم الجلوس: : قناتي

المدققة	المراجعة	المصححة	الدرجة التي حصلت عليها الطالبة		رقم السؤال
			رقمًا	كتابة	
			١٠	فقط لا غير	الأول
			١٠	فقط لا غير	الثاني
			١٠	فقط لا غير	الثالث
			١٠	فقط لا غير	الرابع
			٤٠	فقط لا غير	المجموع

♥ السؤال الأول: (أ) أمامك مجموعة من المصطلحات ضعها في مكانها المناسب:

١٠

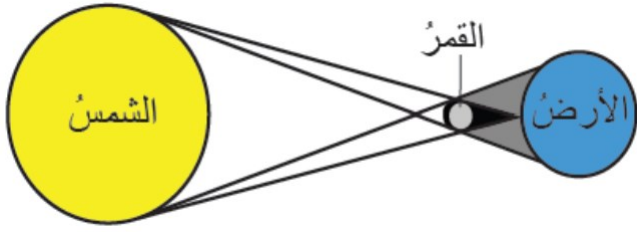
(الصحة - البئر - المرض - المعدن - الكوكب)

المرض	١. حالة غير طبيعية تؤثر على جسم المخلوق الحي.
الصحة	٢. هي حالة اكتمال السلامة جسدياً وعقلياً ونفسياً.
المعدن	٣. مادة طبيعية غير حية صلبة، توجد في قشرة الأرض.
البئر	٤. حفرة في باطن الأرض تصل إلى المياه الجوفية.
الكوكب	٥. جرم كروي كبير يدور حول الشمس.

♥ (ب) صنفى الأمراض إلى (معدي أو غير معدي): -

		
مرض غير معدي	مرض معدي	مرض معدي

♥ (ج) أجب عن الأسئلة التالية: -



١- ما اسم الظاهرة الكونية التي أمامك؟

ظاهرة كسوف الشمس

٢- ما سبب حدوث هذه الظاهرة؟

بسبب وقوع القمر بين الشمس والأرض.

١٠

السؤال الثاني: اختاري الإجابة الصحيحة لكل فقرة من الفقرات التالية؟

١	الخلايا المسؤولة عن حماية الجسم ومحاربة الأمراض والجراثيم هي خلايا	الدم البيضاء	الدم الحمراء	البلازما
٢	درجة حرارة جسم الإنسان الطبيعية هي:	٣٧° س	٢٨° س	٤٠° س
٣	من طرق انتقال العدوى؟	السعال	لبس الكمامة	غسل اليدين
٤	من العادات الغير صحية؟	تناول الحلويات	النوم المبكر	الإكثار من شرب الماء
٥	اللون والبريق والقساوة من الخصائص التي تميز؟	التربة	المعدن	الأحافير
٦	أي المعادن التالية أكثر ليونة وطراوة؟	الألماس	التلك	الكوارتز
٧	أكبر الكواكب في المجموعة الشمسية؟	الأرض	المشتري	عطارد
٨	كرة من الغازات الساخنة ينبعث منها الضوء والحرارة؟	الأرض	الشمس	القمر
٩	تتكون المناعة عن طريق أخذ التطعيم أو اللقاحات.	الطبيعية	الاصطناعية	الآلية
١٠	معظم المياه المالحة على سطح الأرض توجد في	الجليديات	البحار	الأنهار

اقلبي الصفحة

♥ السؤال الثالث: (أ) ضع علامة (✓) أمام العبارة الصحيحة و (X) أمام العبارة الخاطئة:

١٠

(✓)	١. الري هو عملية توصيل الماء إلى التربة الزراعية
(X)	٢. يدور القمر حول الأرض دورة كاملة في ٢٠ يوم.
(✓)	٣. أقرب الكواكب إلى الشمس هو عطارد.
(X)	٤. الصخور النارية تتكون من صخور أخرى بفعل الضغط والحرارة.
(✓)	٥. عدد كواكب المجموعة الشمسية ثمانية كواكب
(X)	٦. يكون القمر مظلم كامل في طور البدر.
(✓)	٧. الفيروسات مخلوقات مجهرية ضارة بجميع أنواعها.
(X)	٨. تتكون النيازك من الصخور والجليد والغبار.

♥ (ب) أعطى مثال واحد لكل مما يلي:

١- من النواقل الحيوية: الكلاب ، الفئران ، الطيور ، البعوض ، الذباب

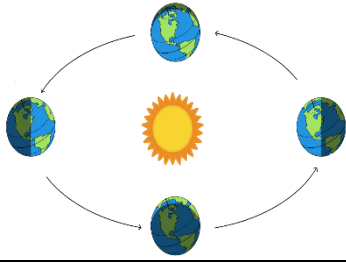
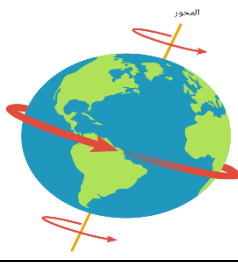
٢- مصادر المياه العذبة: البرك ، الأنهار ، الجداول ، الآبار ، المياه الجوفية ، القمم الجليدية.

♥ السؤال الرابع: (أ) اختاري الرقم الصحيح للعمود ب من العمود أ :

١٠

(ب)	الرقم	(أ)
يشكل تُثني جسم الإنسان ويساعد على الهضم.	٤	١. الكربوهيدرات
تساعد الجسم على النمو وتعويض الخلايا التالفة.	٣	٢. الدهون
تعطي الجسم الدفء وتخزن الفيتامينات.	٢	٣. البروتينات
المصدر الرئيسي للطاقة في أجسامنا.	١	٤. الماء

♥ (ب) أكمل الجدول حسب المطلوب منك:

	
▪ دورة الأرض حول الشمس	▪ دورة الأرض حول محورها
▪ تستغرق في الدوران مدة ٣٦٥, ٢٥ يوم أو سنة ميلادية كاملة.	▪ تستغرق في الدوران مدة ٢٤ ساعة أو يوم كامل
▪ ينتج عن الدوران الفصول الأربعة	▪ ينتج عن الدوران الليل والنهار

انتهت الأسئلة والله الحمد
دعواتي لكم بالتوفيق والنجاح
معلمة المارة: