



موقع اجاباتكم

Google

للمزيد اكتب
في جوجل



موقع اجاباتكم

موقع اجاباتكم التعليمي كل ما يحتاجه الطالب والمعلم من
ملفات تعليمية، حلول الكتب، توزيع المنهج. بوربوينت.
اختبارات ملخصات اختبارات إلكترونية. أوراق عمل
والكثير....

أوراق عمل

الصف الرابع الابتدائي

(الفصل الدراسي الثالث)

موقع اجاباتكم
Google للمزيد اكتب
في جوجل



موقع اجاباتكم



موقع اجاباتكم
www.ajabatkum.com



ورقة عمل

الدرس : الصيدلية المنزلية

الصف : الرابع

السؤال الأول

ضعي علامة (صح) أو (خطأ) أمام العبارات التالية :

- ١ / يجب أن تكون الصيدلية المنزلية ذات حجم مناسب ()
- ٢ / لإيقاف نزف الجرح نحتاج إلى ترك الدم يسيل منه حتى يتوقف ()
- ٣ / وضع الصيدلية في المطبخ والحمام يعرضها للحرارة والرطوبة ()
- ٤ / لا بأس إذا تم وضع الصيدلية المنزلية بالقرب من الأطفال ()

السؤال الثاني

أي الأدوات التالية ينبغي أن تكون من محتويات الصيدلية المنزلية ؟



شاش طبي



ميزان حرارة



قلم رصاص



ضمادات لاصقة

السؤال
الأول

ضعي علامة (صح) أو (خطأ) أمام العبارات التالية :

- ١ / لا بأس من التحدث مع الآخرين أثناء الأكل ()
- ٢ / من أسباب الغصص وضع بعض الأدوات الصغيرة في الفم ()
- ٣ / لتجنب حدوث الغصص يجب مضغ الطعام بسرعة ()
- ٤ / إذا رأيت شخص يمسك حنجرته بيديه مع عدم القدرة على الكلام و يجد صعوبة في التنفس فهو يعاني من الغصص ()

السؤال
الثاني

اخترى الإجابة الصحيحة :

- ١ / لتجنب حدوث الغصص ينبغي علينا :
(مضغ الطعام جيداً ، سرعة البلع ، اللعب أثناء تناول الطعام)
- ٢ / أسباب الغصص هي :
(الحر الشديد ، مضغ الطعام جيداً ، التحدث و الضحك أثناء تناول الطعام)
- ٣ / إذا حاولت إسعاف المصاب بالغصص و لكنه لم يستجب لي فإني :
(أتركه ، أتصل بالإسعاف ، لا أهتم للأمر)

السؤال الأول

ضعي علامة (صح) أو (خطأ) أمام العبارات التالية :

- ١ / من صور البر بالوالدين طاعتها و تقبلُ نصحتها ()
- ٢ / الأسرة غير المتحابية هي التي يحب أفرادها بعضهم بعضا ()
- ٣ / يجب مساعدة الأخ الصغير و العطف عليه ()

السؤال الثاني

اخترى الإجابة الصحيحة :

- ١ / سمعت أحد إخوتك يرفع صوته على والدته ، فمن واجبك أن :
(تتجاهل تصرفه ، لا تنصحه ، تجعله يعتذر لوالدته)
- ٢ / من صور حسن معاملة الأقارب :
(معاملتهم بإحترام و تقدير ، الانقطاع عنهم ، زجر الصغير و إخافته)
- ٣ / من صور حسن التعامل مع الخدم :
(معاقبتهم ، رحمتهم و الشفقة عليهم ، الصراخ عليهم)

ورقة عمل

الصف / الرابع الابتدائي

المادة / التربية الأسرية.

الموضوع / ترشيد الاستهلاك

اختر الإجابة الصورة التي تدل على ترشيد استهلاك الماء في كل مما يأتي :



الاستحمام. ■

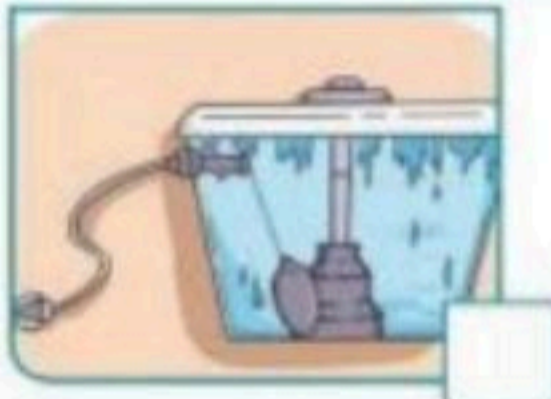


I

تنظيف الفواكه والخضراوات. ■



تنظيف الأسنان. ■



صندوق الطرد. ■

صلي بين الأداة ومكان تركيبها في الجدول الآتي:

مكان تركيبها	الأداة
	
	
	


المادة للتربية الأسرية
الصفحة
الخامس الابتدائي

ورقة عمل



اسم الطالبة:

الموضوع: ترشيد استهلاك
الكهرباء.




أحيطي رقم الإجابة المناسبة:



الوقت الذي يزداد فيه استعمال الكهرباء:

- (١) وقت الصباح.
- (٢) وقت المساء.
- (٣) وقت الذروة.



أجيب بـ صح أو خطأ =
الهدف من ترشيد استهلاك الكهرباء:



إيصال التيار الكهربائي لمستخدمين جدد.

استخدام أكثر قدر ممكن من الكهرباء.

عدم انقطاع التيار.