



# تم تحميل الملف من موقع **بداية**



للمزيد اكتب  
في جوجل



بداية التعليمي ⌚

موقع بداية التعليمي كل ما يحتاجه الطالب والمعلم  
من ملفات تعليمية، حلول الكتب، توزيع المنهج،  
بوربوينت، اختبارات، ملخصات، اختبارات إلكترونية،  
أوراق عمل، والكثير...

حمل التطبيق






## تقويم ختامي لمهارات علوم الصف الثاني\_ الفصل الدراسي الاول لعام ١٤٤٥ هـ

\* / نضع علامة ( ✓ ) تحت الأجوبة الصحيحة :

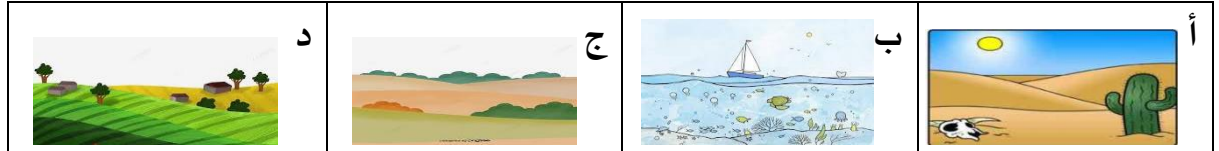
١ / أي المراحل التالية تمثل بداية السلسلة الغذائية :



٢ / كيف تختلف النباتات عن باقي المخلوقات ؟

أ	تحتل مكان صغير	ب	تحتاج للهواء لتنمو	ج	تحتاج للماء لتعيش	د	تنتج غذاءها من الشمس
---	----------------	---	--------------------	---	-------------------	---	----------------------


٣ / أي من هذه المواطن تعيش فيها السحلية :



٤ / ما الخاصية التي ساعدت الدب القطبي على العيش في المنطقة القطبية :

أ	الفرو السميك	ب	العيون الحادة	ج	الحراشيف	د	الاسنان الحادة
---	--------------	---	---------------	---	----------	---	----------------

٥ / المرحلة الأخيرة من دورة حياة الفراشة هي :



• نرتب دورة حياة الفاصولياء



\* نرتب حيوانات السلسلة الغذائية من ١ - ٤



\* كيف نعرف أن الشيء مخلوق حي؟

١- ..... ٢- ..... ٣- ..... ٤- .....

نضع كل كلمة تحت مكانها الصحيح:

تعيش الحيوانات التالية في المواطن (صحراء - غابة - صحراء باردة - غابة مطيرة)



سكرة الشمري



انتهت الاسئلة ...