

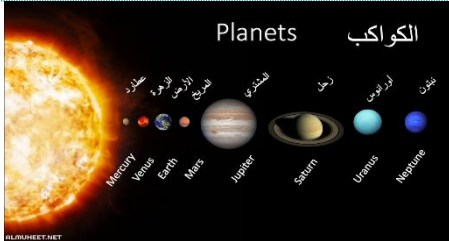
تجميعات أسئلة الرخصة المهنية الجغرافيا



تجميعات الجغرافيا

1 علم يدرس أشكال سطح الأرض:

- a البتروجرافيا b البيدولوجيا c الجيوبوليتيكا d الجيومورفولوجيا



2 حزام الكويكبات تقع بين:

- a الأرض والمريخ b المريخ والمشتري
c المشتري وزحل d زحل وأورانوس

3 حركة تكونت في العصر السيلوري والديفوني ونتج عنها مرتفعات شمال إسكتلندا وإسكندناوه:

- a الهرسينية b الهيرونية c الكالدونية d الألبية

4 تكونت جبال الإنديز نتيجة:

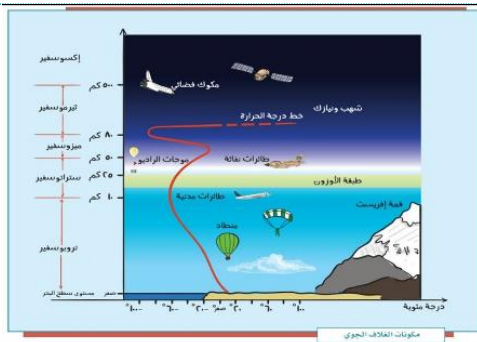
- a عدم التقاء صفائح مع بعضها b التقاء صفيحة قارية مع أخرى محيطية
c التقاء صفيحة محيطية مع أخرى محيطية d التقاء صفيحة قارية مع أخرى قارية

5 العلاقة الطردية بين:

- a الحرارة والضغط b الحرارة والارتفاع c الحرارة ونسبة الرطوبة d الحرارة ودائرة العرض

6 قاس محيط الكرة الأرضية:

- a فيدال دي لابلاش b هيكاتيوس c ايراتوستينس d ابن حوقل



7 طبقة مهمة للحياة:

- a التروبوسفير b طبقة الأيونوسفير
c الأوزون d الميزوسفير

8 تمتد الصحاري الحارة:

- a ٥-٥ شمالا وجنوبا b ٣٠-١٨ شمالا وجنوبا
c ٤٠-٣٠ شمالا وجنوبا d ٢٣,٥-٥ شمالا وجنوبا





9 أشجار استوائية تنمو في المناطق الساحلية وتتميز بتحمل نسبة ملوحة

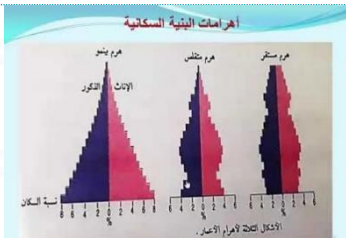
مرتفعة:

- a الأرز
b المانجروف
c الماهوجني
d الأبنوس



10 رتب المحيطات من الأكبر إلى الأصغر:

- a الأطلسي - الهندي - الهادي
b الأطلسي - الهادي - الهندي
c الهادي - الأطلسي - الهندي
d الهندي - الأطلسي - الهادي

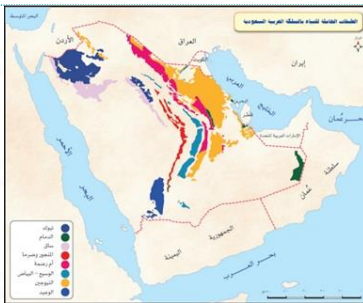


11 إجمالي السكان على إجمالي مساحة الأرض:

- a النمو السكاني
b الزيادة الطبيعية
c كثافة سكانية
d التركيب النوعي

12 جميعها تصنف مجموعة ما عدا:

- a البترول
b الغاز
c الفحم
d الرصاص



13 سبب قلة إنتاج القمح في المملكة:

- a نضوب المياه الجوفية
b بسبب الاكتفاء منه
c سبب زراعة الأرض الأعلاف
d لزراعة الأرز

14 له علاقة بجغرافيا السكان، علم:

- a الهيدروغرافية
b الديموغرافية
c طبوغرافية
d البتروغرافية

15 نظرية التوطن الصناعي:

- a راتزل
b كريستلر
c ألفريد فيبر 1909 م
d فون ثونن

16 مدينة صناعية:

- a أكسفورد
b مكة المكرمة
c لندن
d ديترويت



17 الرأسمالية تتحكم فيها:

- a تتيح المملكة الخاصة وتسمح بالتجارة للأفراد والشركات
b تحديد البضائع والأسعار وتوزيع البضائع
c ملكية الموارد للدولة
d إدارة الموارد بالكامل للدولة

18 أكبر دولة عربية في المساحة:

- a مصر
b السعودية
c السودان
d الجزائر

19 يمر الوطن العربي بدوائر عرض مهمه، هم:

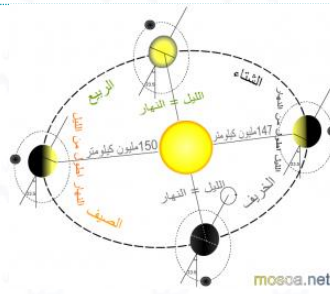
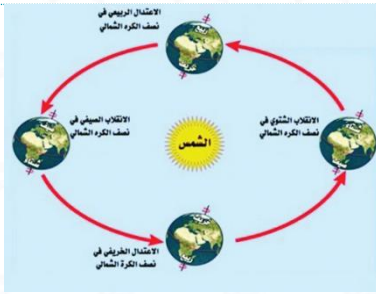
- a خط الاستواء ومدار السرطان
b مدار الجدي ومدار السرطان
c مدار السرطان والدائرة القطبية الشمالية
d خط الاستواء ومدار الجدي ومدار السرطان

20 أكبر حقول النفط في المملكة العربية السعودية في الياض:

- a الغوار
b السفانية
c بقيق
d الشيبه

21 أقصى تعامد للشمس في الجنوب على:

- a مدار السرطان
b خط الاستواء
c مدار الجدي
d الدائرة القطبية الجنوبية



22 دوران الأرض حول الشمس يؤدي إلى حدوث:

- a انحراف الرياح
b انبعاث الأرض عند خط الاستواء
c تعاقب الليل والنهار
d تعاقب الفصول الأربعة

انواع الاجهزه التي تستخدم لمعرفة المناخ



بارومتر



الهيجرومتر



الانيمومتر

جهاز التيرمومتر وهو مقياس درجة الحرارة.
جهاز البارومتر وهو مقياس للضغط الجوي.
جهاز الانيمومتر وهو مقياس سرعة الرياح.
الهيجرومتر وهو مقياس رطوبة.

23 جهاز الأنيمومتر يستخدم في قياس:

- a سرعة الرياح
b الضغط الجوي
c درجة الحرارة
d الرطوبة

العوامل المؤثرة في مناخ المملكة

24 مناخ المملكة يتأثر بـ:

الموقع بالنسبة لدوائر العرض

اتجاه الرياح

التضاريس

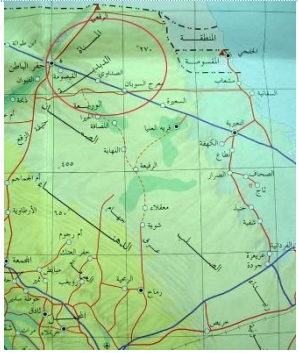
القرب والبعد من المسطحات المائية

- a الموقع بالنسبة للمسطحات المائية
b موقع المحميات الطبيعية
c توزيع السكان
d توزيع النفط



الركائز المعدني تعني: 25

- a إنتاج المعدن
b نسبة المعدن أو صافي المعدن
c تصدير المعدن
d استيراد المعدن



وادي الباطن يمتد ويخترق هضبة حصوية: 26

- a هضبة حسمي
b هضبة الحجر
c هضبة الدبدبة
d هضبة الصمان

عناصر الخريطة:
للخريطة عناصر أساسية توضح المعلومات فيها:

التي تمثل اتجاه الشمال فالخريطة: 27

- a إطار الخريطة
b إحداثيات الخريطة
c مصدر الخريطة
d الموقع بالنسبة للأرض

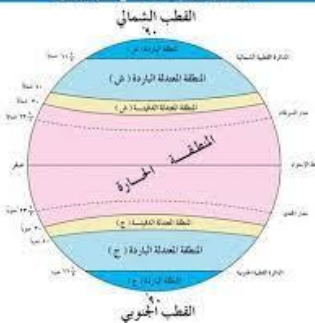
أن يرسم الطالب خريطة للمملكة: 28

- a فهم
b تحليل
c تطبيق
d تركيب

خرائط المفاهيم موجودة في هرم المعرفي: 29

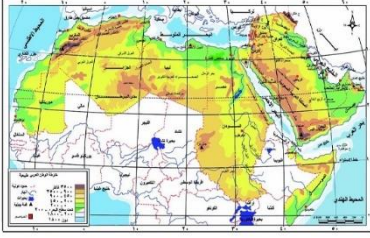
- a المعرفي لبيابيه
b البنائي لبيابيه
c السلوكي بافلوف
d ذات المعنى الأوزبل

المناطق المدارية على سطح الكرة الأرضية



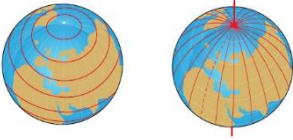
يقع الإقليم المداري بين: 30

- a صفر: ٥ شمالا وجنوبا
b ٢٣,٥ : ٤٠ شمالا وجنوبا
c ٥ : ٢٣,٥ شمالا وجنوبا
d ٤٠ : ٦٠ شمالا وجنوبا



31 يمر خط غريتشس بـ:

- a تونس
b الجزائر
c المغرب
d موريتانيا



32 دوائر العرض تستخدم في تحديد:

- a الزمن
b الأماكن بدقة
c الأقاليم المناخية
d شروط الشمس وغروبها

33 من الملوثات الخطيرة في المدن:

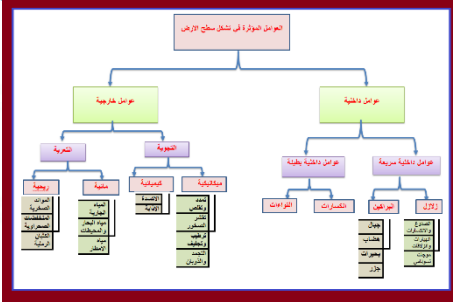
- a نيتريد الألمنيوم
b الهيدروجين
c الفورسيات
d الرصاص

34 متوسط النمو السكاني للمملكة سنة ٢٠١٩ كان

- a ٠,٤
b ٢,٤
c ٤,٤
d ٦,٠

35 أجهزة التصوير في القمر الصناعي يصور الشريط لمساحة ٦٠ كم:

- a لاندسات
b جيرس
c إكسبلور
d سبوت



36 من الحركات الباطنية البطيئة التي تعمل على تشكيل سطح الأرض:

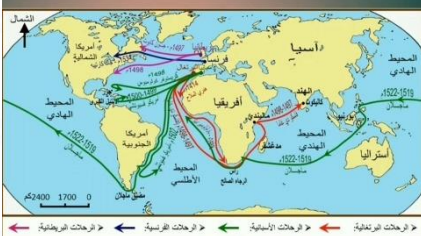
- a الزلازل
b البراكين
c التجوية
d الالتواءات



37 مدن متنوع نشاطها وعدد سكانها كثير:

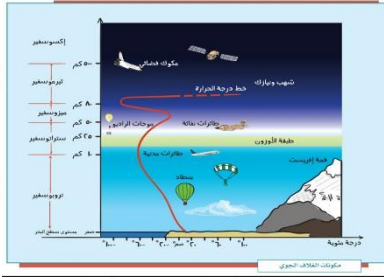
- a مدن صناعية
b تجارية
c كبيرة
d بحرية

خريطة الاكتشافات الجغرافية خلال القرنين 15 و 16م



38 ساعد على ظهور وتطور الجغرافيا في أوروبا:

- a حركة الترجمة
b اختراع البوصلة
c السفن التجارية
d الكشوفات الجغرافية



39 الطبقة التي يفضلها الطيارين الستراتوسفير:

- a برودتها
b فيها غاز الأوزون
c ارتفاع حرارتها
d خلوها من العواصف والسحب

40 عندما ندرس أنشطة السكان يدرس قبلها موضوع:

- a العمران
b العمالة
c تعداد السكان
d الصادرات

41 يكمل القمر دورته في يوم:

- a ٣٠
b ٢٩
c ٢٨
d ٢٧

42 ازدهرت بسبب طرق النقل بأنواعها المختلفة:

- a رفحاء
b تبوك
c جازان
d بريده

43 من أهم النباتات المحلية التي تنمو في بيئة السبخات:

- a الأراك
b العكرش
c الصدر
d العرعر

44 يوجد في غربي القارات بين درجتي عرض ٣٠ و ٤٠ شمال وجنوب خط الاستواء

- a إقليم البحر المتوسط
b الإقليم الصيني
c الإقليم السوداني
d الإقليم الموسمي

45 الأشجار المتسلقة في أي الغابات توجد:

- a إقليم البحر المتوسط
b الإقليم الصيني
c الإقليم السوداني
d الاستوائية

46 أوسع مدارات الكواكب حول الشمس هو مدار (اختبار كفايات قبل ١٤٣٩)

- a المشتري
b المريخ
c نبتون
d زحل

47 يبلغ عدد دوائر العرض التي تحيط بالكرة الأرضية (اختبار كفايات قبل ١٤٣٩)

- a ١٨٠
b ٩٠
c ٢٧٠
d ٣٦٠

48 الدرجة الفلكية هي المسافة بين كل خطي طول متتاليين وتساوي (اختبار كفايات قبل ١٤٣٩)

- a ١١ كم
b ١١١ كم
c ١١١١ كم
d ١٠٠ كم

49 أهمية خطوط الطول (اختبار كفايات قبل ١٤٣٩)

- a تحديد الموقع الفلكي
b معرفة الفرق الزمني بين الأماكن
c معرفة المناطق الحرارية
d b + a

50 يزداد طول الليل في فصل الشتاء الشمالي كلما اتجهنا إلى

- a الشمال
b الجنوب
c الشرق
d الغرب



(اختبار كفايات قبل ١٤٣٩ + اختبار عام ١٤٤٠)

51 نسبة الهيدروجين في الشمس

- a ٥٣٪ b ٧٣٪ c ٦٣٪ d ٨٣٪

(اختبار كفايات قبل ١٤٣٩)

52 حزام الكويكبات تقع بين

- a الأرض والمريخ b المشتري وزحل c المريخ والمشتري d زحل وأورانوس

53 نظرية يؤمن أصحابها بقدرة البيئة في التحكم في أنشطة الانسان

- a الاقليمية b الامكانية c التوافقية d الحتمية

54 دراسة المكان في الفكر الجغرافي المعاصر الحديث:

- a المتحددة والمتغيرة b المتشابهة في التضاريس c المحدودة بمساحة d المتنوعة في مظاهر البشرية

55 تكون الأرض أبعد ما تكون عن الشمس في فصل

- a الربيع الشمالي b الخريف الشمالي c الصيف الشمالي d الشتاء الشمالي

(اختبار كفايات قبل ١٤٣٩)

56 يتساوى الليل والنهار في كل بقاع الأرض

- a ١٢ / ٢١ b ١ / ٢١ c ٢ / ٢١ d ٣ / ٢١

57 متى يحدث الخسوف:

- a إذا كان القمر بدر b إذا كان القمر محاق c إذا كان القمر هلال d إذا كان القمر تربيع أول

58 العلاقة بين الديموغرافية وجغرافية السكان:

- a المواليد b الوفيات c المواليد والوفيات d الهجرة

59 عدد السكان مقسوم على الأراضي الصالحة للزراعة:

- a الكثافة الفلسفية b الكثافة الحسابية c الكثافة الفيزيولوجية d الكثافة الاقتصادية

60 عدد السكان مقسوم على مساحة الأراضي للزراعة:

- a الكثافة الفيزيولوجية b الكثافة الحسابية c الكثافة الفلسفية d الكثافة الاقتصادية

61 على أي من الأفكار استند (توماس مالتوس) في بناء افكاره في علم السكان:

- a الإنتاج يتناقص بسعادة الانسان
b تقل المواليد بالارتفاع الطبقي
c يقل المواليد بزيادة الانتاج
d إنتاجية الغذاء يزيد بمتواليه حساسية وزيادة السكان بمتواليه هندسية

62 قياس النسبة بين الهجرة الوافدة والنازحة :

- a هجرة موسمية b هجرة سنوية c هجرة مناوبة d الهجرة الصافية



63 إذا كان النمو السكاني في دولة ١ % سنويا بعد كم سنة يتضاعف العدد:

- a ٣٠ b ٥٠ c ٦٠ d ٧٠

64 انتقال الإنسان واستقراره داخل الدولة:

- a هجرة موسمية b هجرة سنوية c هجرة داخلية d الهجرة الصافية

65 من الظواهر المرتبطة بالعمران المدني الحديث في المدينة جعل السكان خارجها في أماكن، تسمى:

- a أحياء b قرى c ضواحي d تجمعات

66 من مشاكل المدن كل ما يلي ما عدا:

- a الأحياء العشوائية b تلوث c الجريمة d ارتفاع مستوى المعيشة

67 لا يتأثر في حالة التكبير والتصغير

- a مقياس الرسم الخطي b مقياس الرسم الكتابي c مقياس الرسم البياني d مقياس الرسم الكسري

68 أصغر مقياس الرسم:

- a ٥٠,٠٠٠:١ b ٥٠٠,٠٠٠:١ c ٥,٠٠٠,٠٠٠:١ d ٥٠,٠٠٠,٠٠٠:١

69 مسقط ترسم به المملكة خرائطها:

- a بون b مولفيدي c المستوي d مركيتور

70 في أي مرحلة دراسية يدرس GIS

- a حضانة b ابتدائي c متوسط d الثانوي

71 أشكال هندسية، أو رسوم تمثل قراءة الخريطة:

- a إطار الخريطة b مقياس الخريطة c عنوان الخريطة d مفتاح الخريطة

72 أي من الخيارات لا تعتبر من فوائد الخريطة:

- a تحديد الأماكن b تحديد الظواهر c تحديد الاتجاه d وسيلة تسلية

73 نسبة التداخل الطولي في الصور الجوية

- a %١٠ b %٢٠ c %٣٠ d %٦٠

74 لجمع معلومات دقيقة عن مساحات واسعة من الأرض أو ظواهر طبيعية وبشرية معينة - دون ملامستها بواسطة الأقمار

الصناعية نستخدم:

- a GPS b GIS c نظام الاستشعار عن بعد RS d DEM

75 تبين الأحياء والشوارع على الخرائط:

- a النقطي b الهندسي c النصوص d المضلعات



76 انقطاع الاستشعار عن بعد

- a تجمع b تفرق c انعكاس d تشتت

77 القمر سبوت هو قمر يستخدم في:

- a التصوير الجوي b الأرصاد الجوية c استشعار عن بعد d لا توجد اجابة

78 يمثل اللون الأحمر في الصور الفضائية:

- a الغابات b المباني c الطرق d المياه العميقة.

79 متى بدأت نظم الاستشعار عن بعد؟

- a الأربعينات b الخمسينات c الستينات d الثمانينات

80 من أدوات الاستشعار عن بعد:

- a بيانات b مواسح c مرئيات d مستخدم

81 عند تنظيم وترتيب المعلومات في جداول بمفتاح key يكون:

- a شبكي b هرمي c ترابطي d لا توجد اجابة

82 أقمار الأرصاد:

- a NOAA b orbit c SPOT d NIMBUS7

83 تعد أقمار الاستشعار عن بعد:

- a ثابتة في مكانها b تدور حول الأرض c ثابتة فوق نقطة وتدور معها d متحركة وثابته حسب التوجيه

84 القمر لاندسات يقيس المستشعر له مساحة تقدر بـ:

- a ١٤٠ كم b ١٥٥ كم c ١٨٥ كم d ٢٥٠ كم

85 عندما يريد معلم الجغرافيا نقل الصور الجوية في الاستشعار عن بعد الى رسوم توضيحية في الخريطة يتم استخدام:

- a الاستريو ميتر b الاسكتش ماستر c الاستريوسكوب d الاناجليف

86 الصورة المرفقة تعبر عن:

- a الطيف الكهربائي b الطيف المغناطيسي c الطيف الكهرومغناطيسي d الطيف الاشعاعي





87 الصورة المرفقة تعبر عن:

- a نظم تحديد المواقع
b الطيف المغناطيسي
c التصوير الجوي
d الاستشعار عن بعد

88 عند تمثيل العصور الجيولوجية القديمة بالخرائط الكنتورية تستخدم خطوط الكنتور:

- a المميزة
b العادية
c المسطحة
d الإضافية

89 مساقط الخرائط تهدف إلى تحقيق العناصر الآتية ما عدا:

- a الأحجام الصحيحة
b المسافات الصحيحة
c المساحة الصحيحة
d الأشكال الصحيحة

90 خطوط وهمية ترسم على الخرائط تصل بين المناطق المتساوية الارتفاع

- a الهاشور
b الكنتور
c الطول
d العرض

91 تسمى الخطوط الصغيرة المتجاورة التي ترسم على الخريطة وتكون متجاورة الانحدار ويتناسب سمكها وكثافتها مع شدة انحدار سطح الأرض

- a الكنتور
b التظليل
c الهاشور
d التماس

92 تمتد المملكة العربية السعودية بين خطوط الطول:

- a ٣٤ غرباً - ٥٦ شرقاً
b ٣٤ شرقاً - ٥٦ غرباً
c ٣٤ غرباً - ٥٦ غرباً
d ٣٤ - ٥٥ شرقاً

93 تمتد المملكة العربية السعودية بين دائرتي عرض:

- a ١٦ شمالاً - ٣٢ جنوباً
b ١٦ - ٣٢ شمالاً
c ١٦ جنوباً - ٣٢ شمالاً
d ١٦ - ٣٢ جنوباً

94 نسبة مساحة الحارات في المملكة:

- a ٤,٦%
b ٧%
c ١٠%
d ٢٠%

95 أكبر العيون في المملكة:

- a عين الضلع في الخرج
b عين سمحة
c عين أم خيسة
d عين خفس

96 أكبر المناطق بالمملكة من حيث المساحة:

- a الرياض
b القصيم
c مكة المكرمة
d الشرقية

97 أصغر المناطق بالمملكة من حيث المساحة:

- a الشرقية
b الرياض
c القصيم
d الباحة

98 أطول حدود برية مع المملكة هي الحدود المشتركة:

- a اليمن
b الأردن
c العراق
d عمان



99 تبلغ مساحة الدرع العربي

- a %١٠ b %٣٢ c %٢٠ d %٤٠

100 تبلغ مساحة الرف العربي

- a %٢٠ b %٣٢ c %٦٨ d %٤٠

101 سبخة داخلية بالمملكة تشترك حدودها مع عمان:

- a سبخة الحمر b سبخة أبحر c سبخة مطي d سبخة أم السميم

102 أعلى نقطة بالمملكة:

- a جبال مدين b جبال الحجاز c جبال طويق d جبل السود

103 هضبة الصمان تقع:

- a شرق الدهناء b شمال غرب المملكة c غرب الدهناء d جنوب شرق المملكة

104 أكبر حقول النفط في العالم على اليابس

- a الغوار b السفانية c بقيق d الشيبه

105 السكك الحديدية بين الرياض والدمام من الجهة التي أنشأتها:

- a أرامكو b c d

106 المرتفعات الغربية في المملكة العربية السعودية هي جبال نشأة:

- a التوائية b انكساريه c تعريه d بركانيه

107 أكبر حقول النفط في المملكة العربية السعودية في الماء

- a الغوار b السفانية c بقيق d الشيبه

108 ما الذي يزيد من دافعية الطالب؟

- a التعليم المبرمج b التعلم بالإتقان c الاكتشاف d بناء المعرفة

109 نتج عن دمج التاريخ والجغرافيا:

- a تشتت b تعارض c تكامل d اختلاف

110 طالب لديه عمى ألوان لا يتعرف على الخرائط:

- a التوزيعات b التضاريسية c السياسية d الاقتصادية

111 لكي يحقق المعلم هدف سلوكي؟

- a يعيد شرح المعلومة b يذكر الطالب المعلومة c عدم ربطها بالبيئة d ربط بالبيئة

112 المنهج الذي نستخرج منه تعميمات ومبادئ:

- a التفكير الناقد b حل المشكلات c الاستقراء d الاستكشاف



113 لكي يحقق معلم أهداف التدريس يركز على الجانب:

- a التقني b النظري c التطبيقي d النظري والتطبيقي

114 أشجار تنمو في الإقليمي الاستوائي:

- a الماهوجني b الصنوبر c الفلين d الأرز

115 الطرق المعبدة ولونها أحمر تكون على شكل:

- a نقط b نقطة وشرطة c شرط متعددة d خط متصل

116 توجد الفضة في المملكة في:

- a جازان b الجوف c الدمام d الدوادمي

117 يوجد الفوسفات في المملكة في:

- a جلاميد طريف b جازان c الجوف d الدمام



مفاتيح الإجابة

10	9	8	7	6	5	4	3	2	1
c	b	b	a	c	c	b	c	b	d
20	19	18	17	16	15	14	13	12	11
a	a	d	a	d	c	b	a	d	c
30	29	28	27	26	25	24	23	22	21
c	d	b	b	c	b	a	a	d	c
40	39	38	37	36	35	34	33	32	31
c	d	d	c	d	d	b	d	c	b
50	49	48	47	46	45	44	43	42	41
a	d	b	a	c	d	a	b	a	d
60	59	58	57	56	55	54	53	52	51
a	a	d	a	d	c	a	d	c	b
70	69	68	67	66	65	64	63	62	61
d	d	d	a	d	c	c	d	d	d
80	79	78	77	76	75	74	73	72	71
b	c	a	c	d	c	c	d	d	d
90	89	88	87	86	85	84	83	82	81
b	a	c	d	c	b	c	d	a	c
100	99	98	97	96	95	94	93	92	91
c	b	a	d	d	a	a	b	d	c
110	109	108	107	106	105	104	103	102	101
b	c	a	b	b	a	a	a	d	d
			117	116	115	114	113	112	111
			a	d	d	a	d	c	d