



أوراق عمل

الدراسات الاجتماعية

الصف الخامس الابتدائي

الفصل الدراسي الثاني

الاسم /

الفصل /



أضع علامة (✓) أمام العبارة الصحيحة، وعلامة (x) أمام العبارة الخاطئة فيما يلي:

- المؤسسات العامة هي المؤسسات التجارية.
- مؤسسات الدولة هي الأجهزة الحكومية المكلفة بمهام خدمة الوطن والمواطن.
- المؤسسات الخاصة هي المؤسسات الحكومية.

ما وظائف مؤسسات الدولة؟

.....

.....

.....

.....

أختار الإجابة الصحيحة:

من أمثلة المؤسسات العامة		
أ- وزارة	ب- شركة	ج- بنك
من مؤسسات الدولة		
أ- وزارة الصحة	ب- وزارة التعليم	ج- أ و ب معاً
من أمثلة المؤسسات الخاصة		
أ- وزارة	ب- هيئة حكومية	ج- شركة



أضع علامة (✓) أمام العبارة الصحيحة، وعلامة (×) أمام العبارة الخاطئة فيما يلي:

- تتولى الإدارة العامة للمرور تنظيم السير وسلامة السائقين والركاب داخل المدن.
- من مهام المديرية العامة لمكافحة المخدرات توعية المواطنين بأخطارها على الصحة والوطن.
- تتولى وكالة الوزارة للأحوال المدنية المحافظة على الأمن وتطبيق الأنظمة.

أصل المجموعة (أ) بما يناسبها من المجموعة (ب):

(ب)
الإشراف على السجون وملاحظتها.
المحافظة على الأمن وتطبيق الأنظمة.
إصدار الجوازات للمواطنين ومتابعتها وشؤون المقيمين.

(أ)
المديرية العامة للجوازات
المديرية العامة للسجون
الشُرطة

أكمل الفراغات التالية بما يناسبها مما بين القوسين: (حرس الحدود - الأعمال - الدفاع المدني)

- تتولى المديرية العامة ل..... تنفيذ إجراءات السلامة وإطفاء الحرائق.
- من مهام حماية حدود الوطن حدود الوطن ومساعدة العابرين.
- الخدمات الحكومية هي التي تقوم بها الدولة من خلال مؤسساتها لمصلحة المجتمع وأفراده داخل الوطن.



- أضع علامة (✓) أمام العبارة الصحيحة، وعلامة (x) أمام العبارة الخاطئة فيما يلي:
- تقدم هيئة الهلال الأحمر السعودي الخدمات الطبية الإسعافية الطارئة والعاجلة للمواطنين والمقيمين والزائرين.
 - من أبرز المدن الطبية السعودية مدينة الملك فهد الطبية بمكة المكرمة.
 - تقوم وزارة الموارد البشرية والتنمية الاجتماعية بحماية النساء والأطفال الذين العنف والإيذاء.

ما أبرز مهام مركز الرعاية الصحية الأولية؟

.....
.....
.....

أختار الإجابة الصحيحة:

تقوم وزارة الموارد البشرية والتنمية الاجتماعية ب.....		
أ- حماية النساء	ب- مكافحة التسول	ج- أ و ب معاً
من أبرز المدن الطبية مدينة الملك		
أ- سعود الطبية	ب- فيصل الطبية	ج- أ و ب معاً
تقدم وزارة خدمات عديدة للمحافظة على صحة المواطنين والمقيمين.		
أ- التنمية الاجتماعية	ب- الصحة	ج- الموارد البشرية



بسم الله الرحمن الرحيم

ورقة عمل درس (تاريخ الخرائط وتطورها)

اسم الطالب : الصف : خامس /

س / ما المقصود بالخريطة ؟

ج /

س / ضع علامة (√) أمام العبارة الصحيحة وعلامة (×) أمام العبارة الخاطئة فيما يلي :

- ١ - يذكر المؤرخون أن الإنسان عرف الخرائط قبل معرفة الكتابة
- ٢ - كان البابليون في العراق والفرعون في مصر من أوائل من رسم الخرائط
- ٣ - أنشأ العالم المسلم محمد الإدريسي أول خريطة عالمية صحيحة مبنية وفق الأصول العلمية

س / اذكر اثنين من الفروق بين الخريطة الورقية والخريطة الرقمية :

- ١-
- ٢-



بسم الله الرحمن الرحيم

ورقة عمل درس (تاريخ الخرائط وتطورها)

اسم الطالب : الصف : خامس /

س / ما المقصود بالخريطة ؟

ج /

س / ضع علامة (√) أمام العبارة الصحيحة وعلامة (×) أمام العبارة الخاطئة فيما يلي :

- ١ - يذكر المؤرخون أن الإنسان عرف الخرائط قبل معرفة الكتابة
- ٢ - كان البابليون في العراق والفرعون في مصر من أوائل من رسم الخرائط
- ٣ - أنشأ العالم المسلم محمد الإدريسي أول خريطة عالمية صحيحة مبنية وفق الأصول العلمية

س / اذكر اثنين من الفروق بين الخريطة الورقية والخريطة الرقمية :

- ١-
- ٢-



بسم الله الرحمن الرحيم

ورقة عمل درس (السكان)

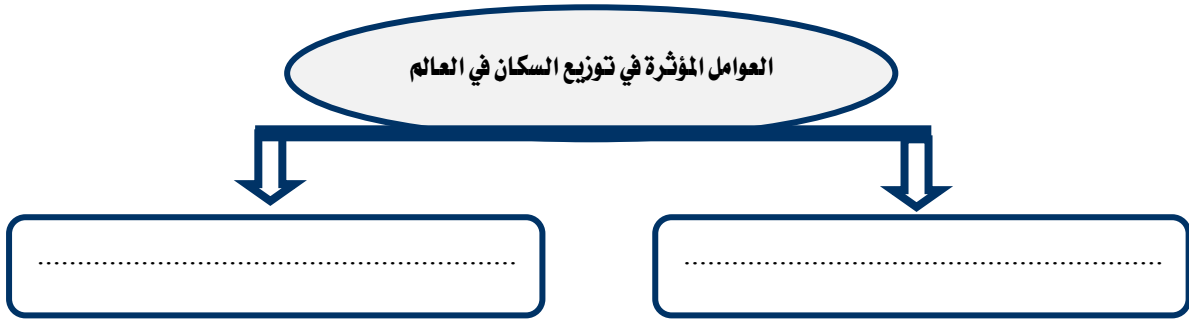
اسم الطالب : / الصف : خامس /

س / اختر الاجابة الصحيحة من بين الأقواس فيما يلي :

- (منتظماً - متفاوت - متساوي)
(أفريقيا - آسيا - أوروبا)
(آسيا - استراليا - افريقيا)

- ١ - يتوزع السكان توزيعاً
٢ - أكثر سكان العالم يسكن في قارة
٣ - يقل عدد السكان في قارة

س / اذكر العوامل المؤثرة في توزيع السكان في العالم ؟



بسم الله الرحمن الرحيم

ورقة عمل درس (السكان)

اسم الطالب : / الصف : خامس /

س / اختر الاجابة الصحيحة من بين الأقواس فيما يلي :

- (منتظماً - متفاوت - متساوي)
(أفريقيا - آسيا - أوروبا)
(آسيا - استراليا - افريقيا)

- ١ - يتوزع السكان توزيعاً
٢ - أكثر سكان العالم يسكن في قارة
٣ - يقل عدد السكان في قارة

س / اذكر العوامل المؤثرة في توزيع السكان في العالم ؟



سم الله الرحمن الرحيم

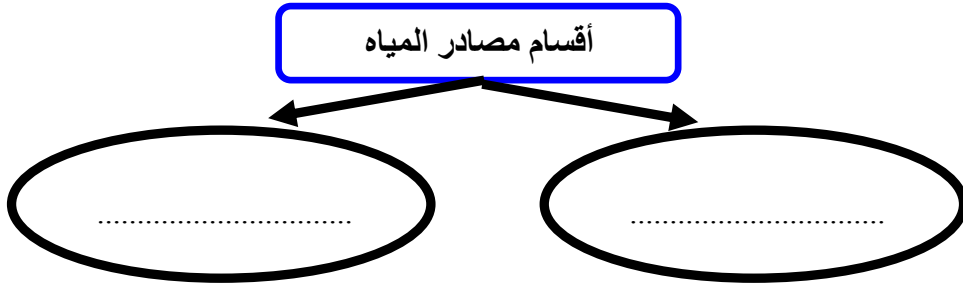
ورقة عمل درس (توزيع السكان – العوامل الطبيعية : التضاريس والمياه)

اسم الطالب : الصف : خامس /

س / اكمل الفراغات التالية بما يناسب ؟

- يكثر السكان في و غير الوعرة ، في حين وجود السكان
كلما زاد التضاريس وزادت وعورتها .

س / تنقسم مصادر المياه إلى قسمين اذكرها؟



س / اذكر ثلاثاً من المدن القريبة من المناطق المائية الجاذبة لسكان في وطني المملكة العربية السعودية ؟

ج /

سم الله الرحمن الرحيم

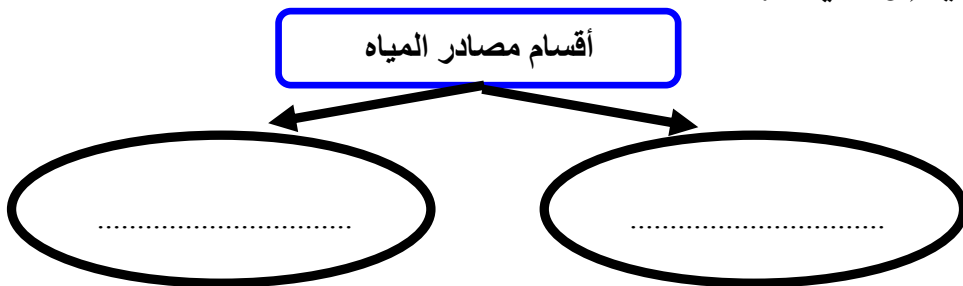
ورقة عمل درس (توزيع السكان – العوامل الطبيعية : التضاريس والمياه)

اسم الطالب : الصف : خامس /

س / اكمل الفراغات التالية بما يناسب ؟

- يكثر السكان في و غير الوعرة ، في حين وجود السكان
كلما زاد التضاريس وزادت وعورتها .

س / تنقسم مصادر المياه إلى قسمين اذكرها؟



س / اذكر ثلاثاً من المدن القريبة من المناطق المائية الجاذبة لسكان في وطني المملكة العربية السعودية ؟

ج /



بسم الله الرحمن الرحيم

ورقة عمل درس (توزيع السكان – العوامل الطبيعية : المناخ والموارد)

اسم الطالب : الصف : خامس /

س / ضع علامة (√) أمام العبارة الصحيحة وعلامة (×) أمام العبارة الخاطئة فيما يلي :

- ١ – تزداد الكثافة السكانية في المناطق القطبية
- ٢ – تنقل الكثافة السكانية في الصحارى الحارة
- ٣ – يبتعد الإنسان عن المناطق الاستوائية بسبب ارتفاع رطوبة الجو

س / تنقسم الموارد الطبيعية إلى قسمين أذكرها؟

..... / ١

..... / ٢



بسم الله الرحمن الرحيم

ورقة عمل درس (توزيع السكان – العوامل الطبيعية : المناخ والموارد)

اسم الطالب : الصف : خامس /

س / ضع علامة (√) أمام العبارة الصحيحة وعلامة (×) أمام العبارة الخاطئة فيما يلي :

- ١ – تزداد الكثافة السكانية في المناطق القطبية
- ٢ – تنقل الكثافة السكانية في الصحارى الحارة
- ٣ – يبتعد الإنسان عن المناطق الاستوائية بسبب ارتفاع رطوبة الجو

س / تنقسم الموارد الطبيعية إلى قسمين أذكرها؟

..... / ١

..... / ٢

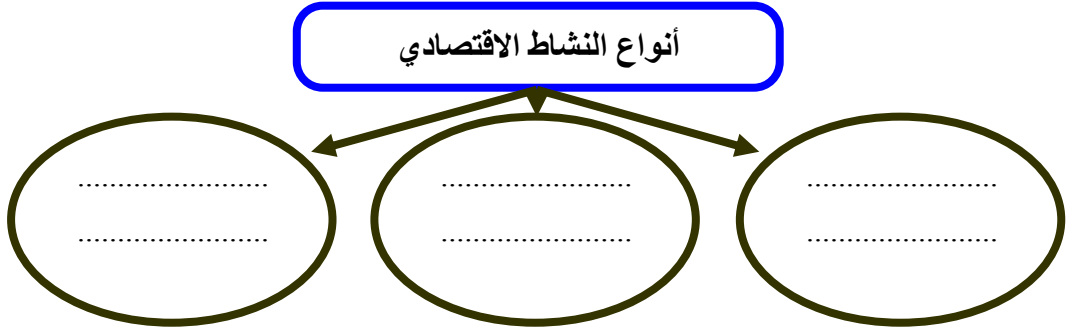


بسم الله الرحمن الرحيم

ورقة عمل درس (توزيع السكان – العوامل البشرية)

اسم الطالب : الصف : خامس /

س / ينقسم النشاط الاقتصادي الى ثلاثة أنواع اذكرها ؟



س / ضع علامة (√) أمام العبارة الصحيحة وعلامة (×) أمام العبارة الخاطئة فيما يلي :

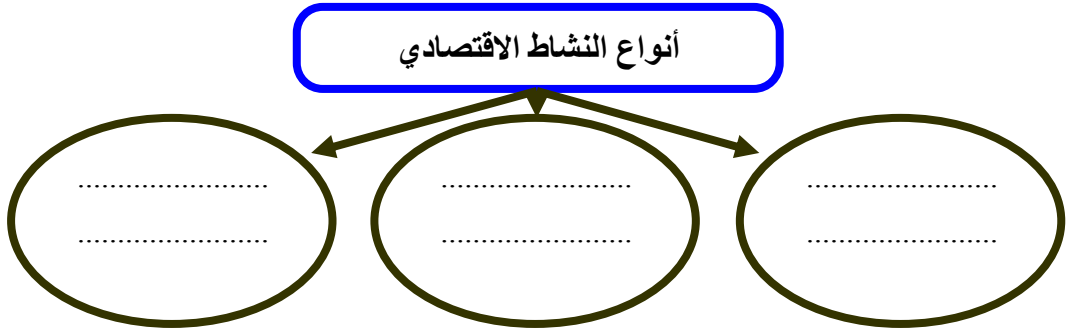
- ١ – النشاط الاقتصادي هو الاعمال والمجهودات التي يؤديها الإنسان ؛ لتلبية احتياجاته الأساسية
- ٢ – تعد النزاعات والحروب أحد أهم العوامل المؤثرة في توزيع السكان
- ٣ – الأمن سبب رئيسي في استقرار السكان وجذبهم

بسم الله الرحمن الرحيم

ورقة عمل درس (توزيع السكان – العوامل البشرية)

اسم الطالب : الصف : خامس /

س / ينقسم النشاط الاقتصادي الى ثلاثة أنواع اذكرها ؟



س / ضع علامة (√) أمام العبارة الصحيحة وعلامة (×) أمام العبارة الخاطئة فيما يلي :

- ١ – النشاط الاقتصادي هو الاعمال والمجهودات التي يؤديها الإنسان ؛ لتلبية احتياجاته الأساسية
- ٢ – تعد النزاعات والحروب أحد أهم العوامل المؤثرة في توزيع السكان
- ٣ – الأمن سبب رئيسي في استقرار السكان وجذبهم

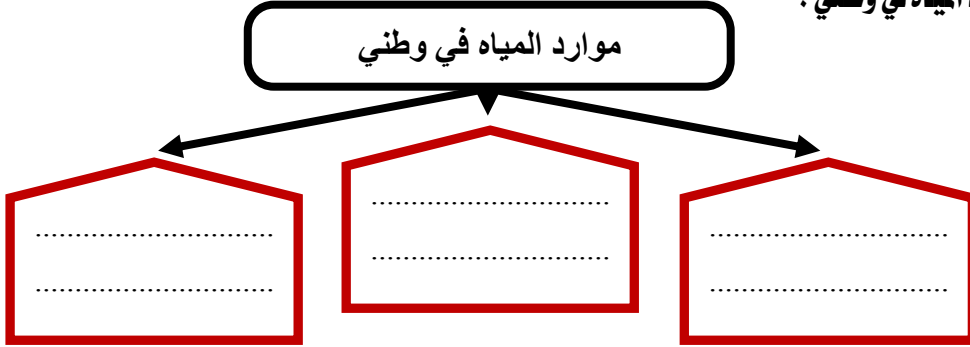


بسم الله الرحمن الرحيم

ورقة عمل درس (المياه)

اسم الطالب : الصف : خامس /

س / اذكر موارد المياه في وطني ؟



س / لماذا لجأت حكومة وطني إلى تحلية مياه البحر ؟

ج /

س / كيف نحافظ على الثروة المائية :

١-

٢-

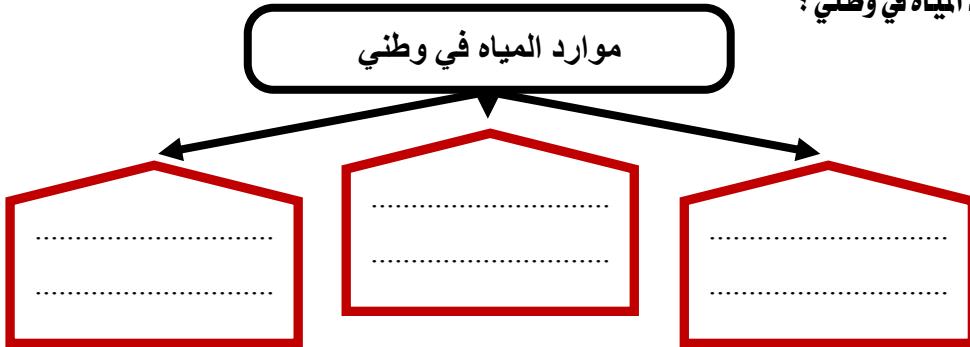


بسم الله الرحمن الرحيم

ورقة عمل درس (المياه)

اسم الطالب : الصف : خامس /

س / اذكر موارد المياه في وطني ؟



س / لماذا لجأت حكومة وطني إلى تحلية مياه البحر ؟

ج /

س / كيف نحافظ على الثروة المائية :

١-

٢-

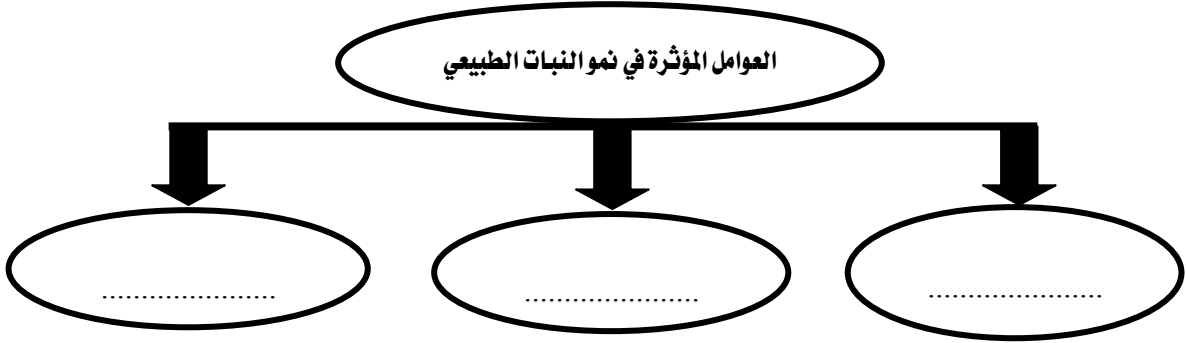


بسم الله الرحمن الرحيم
ورقة عمل درس (النباتات الطبيعي)

اسم الطالب : الصف : خامس /

س / تتأثر النباتات الطبيعية في وطني المملكة العربية السعودية بأحواله المناخية ؛ لذا تتنوع إلى نوعين اذكرهما :

س / اذكر العوامل المؤثرة في نموالنبات الطبيعي :



س / لماذا نحتاج إلى تحديد المحميات الطبيعية في وطني المملكة العربية السعودية ؟

ج /

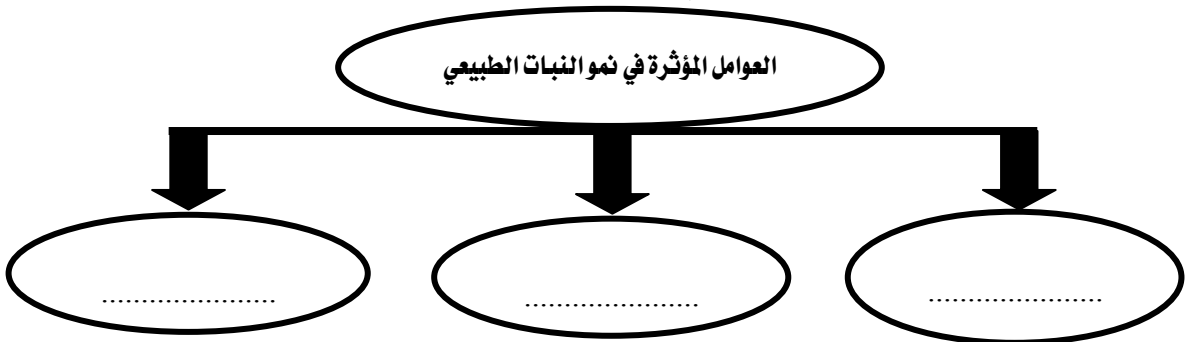


بسم الله الرحمن الرحيم
ورقة عمل درس (النباتات الطبيعي)

اسم الطالب : الصف : خامس /

س / تتأثر النباتات الطبيعية في وطني المملكة العربية السعودية بأحواله المناخية ؛ لذا تتنوع إلى نوعين اذكرهما :

س / اذكر العوامل المؤثرة في نموالنبات الطبيعي :



س / لماذا نحتاج إلى تحديد المحميات الطبيعية في وطني المملكة العربية السعودية ؟

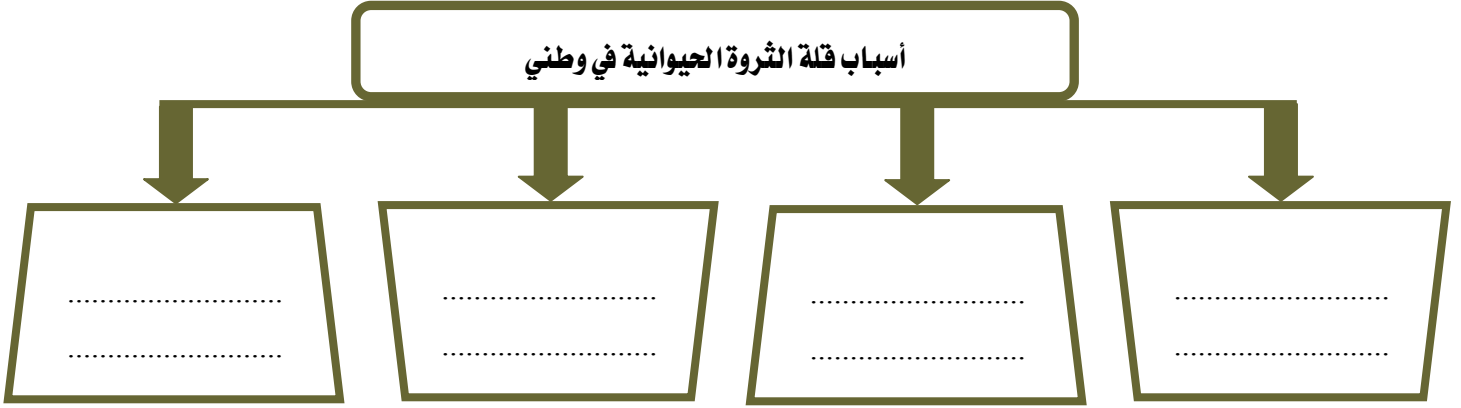
ج /



بسم الله الرحمن الرحيم
ورقة عمل درس (الثروة الحيوانية)

اسم الطالب : / الصف : خامس /

س / اذكر أسباب قلة الثروة الحيوانية في وطني المملكة العربية السعودية ؟



س / اذكر أسباب تنمية الثروة الحيوانية ؟

٤

٣

٢

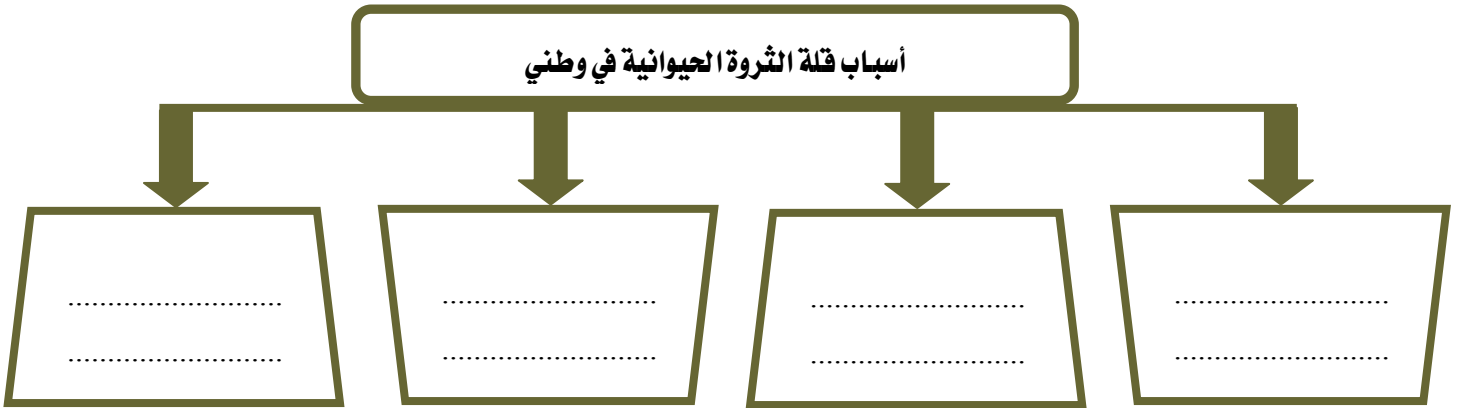
١



بسم الله الرحمن الرحيم
ورقة عمل درس (الثروة الحيوانية)

اسم الطالب : / الصف : خامس /

س / اذكر أسباب قلة الثروة الحيوانية في وطني المملكة العربية السعودية ؟



س / اذكر أسباب تنمية الثروة الحيوانية ؟

٤

٣

٢

١



بسم الله الرحمن الرحيم
ورقة عمل درس (النفط والمعادن)

اسم الطالب : الصف : خامس /

س / أكمل الفراغات التالية بما يناسب :

- أ - يعد النفط من أهم الموارد في وطني المملكة العربية السعودية حيث يأتي في المركز عالمياً في الاحتياط منه
- ب - يعد حقل الغوار أكبر حقل نفطي في العالم ،
- كما يعد حقل السفانية أكبر حقل نفطي في العالم
- ج - معظم حقول النفط في وطني المملكة العربية السعودية هي في المنطقة

س / اذكر ثلاثة من أهم المعادن في وطني المملكة العربية السعودية :

أهم المعادن في وطني

.....
-------	-------	-------



بسم الله الرحمن الرحيم
ورقة عمل درس (النفط والمعادن)

اسم الطالب : الصف : خامس /

س / أكمل الفراغات التالية بما يناسب :

- أ - يعد النفط من أهم الموارد في وطني المملكة العربية السعودية حيث يأتي في المركز عالمياً في الاحتياط منه
- ب - يعد حقل الغوار أكبر حقل نفطي في العالم ،
- كما يعد حقل السفانية أكبر حقل نفطي في العالم
- ج - معظم حقول النفط في وطني المملكة العربية السعودية هي في المنطقة

س / اذكر ثلاثة من أهم المعادن في وطني المملكة العربية السعودية :

أهم المعادن في وطني

.....
-------	-------	-------



بسم الله الرحمن الرحيم
ورقة عمل درس (الزراعة والرعي)

اسم الطالب : / الصف : خامس /

س / اختر الاجابة الصحيحة من بين الأقواس فيما يلي :

- ١ - تأتي الزراعة في الصدارة بين (الأنشطة الاجتماعية - الأنشطة السكانية - الأنشطة الاقتصادية)
٢ - من عوامل نجاح الزراعة (الرمال - البحار - الأراضي الصالحة للزراعة)

س / ما أهم مشكلة تواجه الزراعة في وطني المملكة العربية السعودية ؟

ج /

س / اذكر اسباب تراجع حرفة الرعي في وطني المملكة العربية السعودية :

١-

٢ -

٣ -



بسم الله الرحمن الرحيم
ورقة عمل درس (الزراعة والرعي)

اسم الطالب : / الصف : خامس /

س / اختر الاجابة الصحيحة من بين الأقواس فيما يلي :

- ١ - تأتي الزراعة في الصدارة بين (الأنشطة الاجتماعية - الأنشطة السكانية - الأنشطة الاقتصادية)
٢ - من عوامل نجاح الزراعة (الرمال - البحار - الأراضي الصالحة للزراعة)

س / ما أهم مشكلة تواجه الزراعة في وطني المملكة العربية السعودية ؟

ج /

س / اذكر اسباب تراجع حرفة الرعي في وطني المملكة العربية السعودية :

١-

٢ -

٣ -



بسم الله الرحمن الرحيم

ورقة عمل درس (الصناعة والتجارة والخدمات)

اسم الطالب : الصف : خامس /

س / ما المقصود بالصناعة؟

ج /

س / عدد أهم مقومات الصناعة؟

أهم مقومات الصناعة

.....
----------------	----------------	----------------	----------------	----------------	----------------

س / عدد أربعة من أهم الصناعات في وطني المملكة العربية السعودية :

ج / ١ - ٢ - ٣ - ٤ -

س / تنقسم التجارة إلى نوعين اذكرهما؟

أنواع التجارة

.....
-------	-------



بسم الله الرحمن الرحيم

ورقة عمل درس (الصناعة والتجارة والخدمات)

اسم الطالب : الصف : خامس /

س / ما المقصود بالصناعة؟

ج /

س / عدد أهم مقومات الصناعة؟

أهم مقومات الصناعة

.....
----------------	----------------	----------------	----------------	----------------	----------------

س / عدد أربعة من أهم الصناعات في وطني المملكة العربية السعودية :

ج / ١ - ٢ - ٣ - ٤ -

س / تنقسم التجارة إلى نوعين اذكرهما؟

أنواع التجارة

.....
-------	-------

مفهوم مؤسسات الدولة

❖ السؤال الأول: ضع علامة (√) أمام العبارة الصحيحة وعلامة (x) أمام العبارة الخاطئة:

()	نوعان رئيسان للمؤسسات مؤسسات عامة و مؤسسات خاصة	(1)
()	مؤسسات الدولة هي الأجهزة الحكومية	(2)
()	السوق التجاري تعتبر من مؤسسات الدولة	(3)
()	المستشفى الحكومي يعتبر من مؤسسات الدولة	(4)
()	وزارة الداخلية تعتبر من مؤسسات الدولة	(5)

❖ السؤال الثاني: اختر الإجابة الصحيحة مما يلي :

(1) من وظائف وزارة الداخلية

التجارة والتسويق

إرهاب المواطنين

تسليح الجيش

حماية وأمن المواطنين

(2) من مهام وزارة التعليم

تجهيز الجيش

إفتتاح المدارس

التجارة

علاج المرضى

(3) من وظائف وزارة الصحة

تجهيز الجيش

توفير الدواء

التعليم المدرسي

الحماية والامن

(4) من المؤسسات الخاصة

وزارة الداخلية

شركة السيارات

وزارة الصحة

وزارة العمل

❖ السؤال الثالث: أكتب وظائف مؤسسات الدولة

الخدمات الحكومية

السؤال الأول: ضع علامة (√) أمام العبارة الصحيحة وعلامة (x) أمام العبارة الخاطئة:

()	1) نوعان رئيسان للمؤسسات مؤسسات عامة مؤسسات خاصة
()	2) الخدمات الحكومية هي الأعمال التي تقوم بها الدولة من خلال مؤسساتها لمصلحة المجتمع.
()	3) تقوم المديرية العامة لحرس الحدود بحماية حدود الوطن ومساعدة العابرين.
()	4) وكالة وزارة الداخلية للأحوال المدنية تتولى إصدار بطاقة الهوية الوطنية وتسجيل المواليد.
()	5) وزارة الداخلية من مؤسسات الدولة تقوم بمهام سلامة الحجاج.

❖ السؤال الثاني: صل ما في المجموعة (أ) بما يناسبها في المجموعة (ب) باستعمال الأرقام:

القائمة (أ)	القائمة (ب)
1-الأعمال التي تقوم بها الدولة من خلال مؤسساتها	المديرية العامة للدفاع المدني
2-وزارة تقوم بتحقيق الأمن والاستقرار ومنع الجريمة	وزارة الداخلية
3-جهاز يتولى حماية حدود الوطن ومساعدة العابرين	القوات الخاصة لأمن الطرق
4-جهاز يتولى المحافظة على الأمن وتطبيق الأنظمة	الإدارة العامة للمرور
5-جهاز يتولى المحافظة على سلامة الناس في الطرق	الخدمات الحكومية
6-جهاز يتولى تنظيم السير وسلامة المواطنين	المديرية العامة لحرس الحدود
7-جهاز يتولى حماية الناس من ترويح السموم والمخدرات	الشرطة
8-جهاز يتولى إجراءات السلامة وإطفاء الحرائق	المديرية العامة لمكافحة المخدرات

❖ السؤال الثالث: ماهي الخدمات الحكومية :

الحماية الاجتماعية والصحية

()	1	حماية المجتمع وصحة المواطنين والمقيمين من أولويات الحكومة في المملكة العربية عودية.
()	2	تقدم وزارة الموارد البشرية والتنمية الاجتماعية خدمات الحماية الاجتماعية.
()	3	تقدم وزارة الصحة خدمات عديدة للمحافظة على صحة المواطنين والمقيمين.
()	4	تقوم وزارة العمل بتوفير دور الملاحظة والرعاية للأطفال.

❖ السؤال الأول: ضع علامة (√) أمام العبارة الصحيحة وعلامة (X) أمام العبارة الخاطئة

❖ السؤال الثاني: اختر الإجابة الصحيحة مما يلي :

1) تقوم وزارة بحماية الأطفال والنساء الذين ينالهم العنف والإيذاء.

المالية

التعليم

الخارجية

الموارد البشرية والتنمية الاجتماعية

2) مراكز صحية تنشأ في الأحياء لتقديم الخدمات الصحية والوقائية في مستوى عام هي ...

وزارة التعليم

وزارة الداخلية

هيئة الهلال الأحمر السعودي

مراكز الرعاية الصحية الأولية

3) الجهة التي تتولى الحماية الصحية هي وزارة:

الداخلية

الخارجية

المالية

الصحة

❖ السؤال الثالث: ماهي مراكز الرعاية الصحية الأولية؟

.....
.....

❖ السؤال الرابع: لماذا تقدم مؤسسات الدولة خدمات الحماية الاجتماعية؟

.....