

ناصر العبدالكريم

والفريق العلمي في دار الحرف

التدريسي

يفطي المعلومات التي
يحتاجها الطالب للاختبار

شمولية

يوازن بين شمولية الشرح
وتنوع الأسئلة

موازنة

لا يتطرق للمعلومات التي
لا يمكن وضع أسئلة عليها

توفير
لوقت

أدبي
بنات

دار الحرف
daralharf.com

الدراسات الاجتماعية

القسم الخامس

01 ◀ تمثل المقومات الحضارية في ..

- Ⓐ الأسلحة الحديثة Ⓑ نظام سياسي مستقر
Ⓒ مواكبة التطورات السريعة Ⓓ مساحة الدولة وموقعها الجغرافي



مقومات الدولة القوية والمؤثرة



◀ تتحدد مكانة الدولة حسب مقوماتها التي تقودها للتأثير في الساحة الدولية ومن هذه المقومات ..

◀ المقومات الحضارية: الموقع الجغرافي للدولة ومساحتها، عدد السكان وتوزيعهم، حجم تعليمهم وثقافتهم.

◀ المقومات السياسية: النظام السياسي المستقر ووجود إطار قانوني واضح، مثل: نظام الحكم أو الدستور.

◀ المقومات الاقتصادية: الموارد الطبيعية، وسائل الإنتاج، النظام المالي، العملة والاستثمار، التبادل التجاري، الناتج المحلي.

◀ المقومات التقنية: الأفكار والبرامج، الإنتاج، الابتكار، مواكبة التطورات السريعة في المجال التقني، مثل: الإنترنت والفضاء السبراني.

◀ المقومات العسكرية: امتلاك جميع أنواع القوات (البرية، البحرية، الجوية، التقنية)، وإنتاج الأسلحة الحديثة ولا سيما في المجال النووي وأسلحة الأشعة والليزر وغيرها.

◀ المقومات الوطنية: المؤسسات الأمنية التي تحمي الدولة ومصالحها، مثل: الاستخبارات، أمن الدولة، أجهزة الأمن العام، المؤسسات الفكرية التي ترعى تعزيز الجانب الوطني في تلك الدولة.



المملكة: الأسس والمقومات



◀ تقوم المملكة العربية السعودية على مقومات: دينية، جغرافية، وطنية، سياسية، اقتصادية، حضارية، اجتماعية.

◀ المقومات الدينية: تمثل القلب النابض للعالم الإسلامي بما تحويه من أماكن مقدسة، واعتمادها في نظامها على كتاب الله وسنة نبيه.

◀ المقومات الجغرافية: الموقع الجغرافي، فهي تقع بين ثلاث قارات: آسيا وإفريقيا وأوروبا، وتطل على البحر الأحمر غرباً، والخليج العربي شرقاً، ويحيط بها مضيق هرمز ومضيق باب المندب.

- 09 Ⓒ 08 Ⓒ 07 Ⓐ 06 Ⓐ 05 Ⓒ 04 Ⓒ 03 Ⓒ 02 Ⓒ 01 Ⓒ

02 ◀ وجود إطار قانوني واضح كنظام الحكم والدستور من مقومات الدولة ..

- Ⓐ الحضارية Ⓑ السياسية
Ⓒ الاقتصادية Ⓓ العسكرية



03 ◀ يُعد النظام المالي والعملة والاستثمار من مقومات الدولة ..

- Ⓐ الحضارية Ⓑ العسكرية
Ⓒ الاقتصادية Ⓓ السياسية



04 ◀ يُعد الإنترنت والفضاء السبراني من مقومات الدولة ..

- Ⓐ العسكرية Ⓑ الحضارية
Ⓒ التقنية Ⓓ السياسية



05 ◀ من المقومات التقنية للدولة ..

- Ⓐ النظام المالي للدولة Ⓑ امتلاك القوات العسكرية
Ⓒ نظام الحكم أو الدستور Ⓓ مواكبة التطورات التقنية السريعة



06 ◀ أيُّ المقومات التالية يتمثل في الاستخبارات وأجهزة الأمن العام؟

- Ⓐ الوطنية Ⓑ العسكرية
Ⓒ التقنية Ⓓ السياسية



07 ◀ احتضان المملكة للأماكن المقدسة يُعد من المقومات ..

- Ⓐ الدينية Ⓑ الاقتصادية
Ⓒ الجغرافية Ⓓ الوطنية



08 ◀ تطل المملكة العربية السعودية على شرقاً.

- Ⓐ مضيق هرمز Ⓑ البحر الأحمر
Ⓒ الخليج العربي Ⓓ مضيق باب المندب



09 ◀ تطل المملكة العربية السعودية على البحر الأحمر ..

- Ⓐ شرقاً Ⓑ غرباً
Ⓒ شمالاً Ⓓ جنوباً





تمتة المملكة: الأسس والمقومات

المقومات الوطنية: استطاع الملك عبد العزيز استرداد الرياض ونشر الأمن والأمان، ليعلن توحيد البلاد بعد ثلاثين سنة من الكفاح، وإنهاء الخلافات، مما جعل المملكة واحة أمن وسلام.

المقومات السياسية: تتبع المملكة نظام الحكم الملكي. المقومات الاقتصادية: منها وقوع المملكة على عدد من المنافذ البحرية المهمة، وهي من أكبر الدول إنتاجًا للنفط وتصديرًا له.

المقومات الحضارية: للمملكة إرث حضاري يعود لملايين السنين، تمثل حضارات وممالك عاشت بها، مثل: كِنْدَةَ ودُوْمَةَ الجَنْدَل ومَدْيَن، وقوم ثمود في منطقة العلا شمال المدينة، وقوم عاد في جنوب الربع الخالي. المقومات الاجتماعية: تحرص المملكة على دعم أوامر الأسرة، وتعاون أسرتها على البر والتقوى.



المملكة والقضايا العربية

منذ إعلان الملك عبد العزيز توحيد البلاد عام ١٣٥١هـ، وللمملكة مبادرات مختلفة لحل قضايا الدول العربية ومساعدة شعوبها في الحصول على الاستقلال. تُولي المملكة القضية الفلسطينية اهتمامًا خاصًا حيث بعث الملك عبد العزيز في عام ١٩٣٥م ولي عهده الأمير سعود إلى القدس لدعم الفلسطينيين في قضيتهم.



دعم تأسيس جامعة الدول العربية

في سنة ١٣٦٣هـ وجه رئيس الوزراء المصري مصطفى النحاس دعوة إلى السعودية وبعض الدول العربية للبحث حول هذه المبادرة، وأخذت الحكومة المصرية فكرة إنشاء جامعة الدول العربية من دعوة بريطانيا لهذه الفكرة. حرص الملك عبد العزيز على تجنب استغلال هذه الدعوة لإنشاء كيانات لا تخدم الأمة العربية.

في عام ١٣٦٤هـ، وقَّعت وفود البلاد العربية (السعودية، وسورية، والعراق، ولبنان، ومصر، وشرقي الأردن، وممثل الأحزاب الفلسطينية) على ميثاق جامعة الدول العربية، وبهذا أصبحت المملكة عضوًا مؤسسًا للجامعة العربية.

17 16 15 14 13 12 11 10

1 1 1 1 1 1 1 1

استردَّ الرياضَ ونشر الأمن والأمان في المملكة ..

- أ) الملك خالد
ب) الملك فهد
ج) الملك عبد العزيز
د) الملك سلمان

استغرق توحيد المملكة العربية السعودية ..

- أ) أقل من ٣٠ عامًا
ب) أكثر من ٣٠ عامًا
ج) أكثر من ٤٠ عامًا
د) أكثر من ٥٠ عامًا

عاش قوم ثمود في منطقة .. شمال المدينة المنورة.

- أ) العلا
ب) الربع الخالي
ج) سكاكا
د) عسير

أعلنَ الملك عبد العزيز توحيد البلاد سنة ..

- أ) ١٣٥١هـ
ب) ١٣٥٢هـ
ج) ١٢٥٣هـ
د) ١٣٥٣هـ

أرسلَ الملك عبد العزيز ولي عهده الأمير سعود إلى القدس لدعم

الفلسطينيين في قضيتهم عام ..

- أ) ١٩٥٣م
ب) ١٩٣٥م
ج) ١٩٣٣م
د) ١٩٥٠م

وجه رئيس الوزراء المصري .. دعوة إلى المملكة العربية السعودية

لعقد مباحثات ومشاورات لدعم تأسيس جامعة الدول العربية.

- أ) سعد الدين الشاذلي
ب) مصطفى رياض باشا
ج) محمد شريف باشا
د) مصطفى النحاس باشا

تم استلهام فكرة جامعة الدول العربية من دولة ..

- أ) بريطانيا
ب) فرنسا
ج) ألمانيا
د) روسيا

أيُّ التالي يضم عددًا من الدول الأولى التي وقَّعت على ميثاق جامعة

الدول العربية؟

- أ) المملكة العربية السعودية ، سورية ، العراق ، لبنان ، مصر
ب) المملكة العربية السعودية ، تونس ، العراق ، لبنان ، مصر
ج) المملكة العربية السعودية ، سورية ، اليمن ، لبنان ، مصر
د) المملكة العربية السعودية ، سورية ، العراق ، لبنان ، الكويت



دعم تأسيس مجلس التعاون الخليجي



دعا الملك خالد بن عبد العزيز وزراء الخارجية لدول الخليج العربي (المملكة العربية السعودية، الكويت، البحرين، الإمارات العربية المتحدة، قطر، سلطنة عمان)، لمتابعة الأحداث التي تهدد أمن الخليج العربي، وخرج المجتمعون ببيان أعلنوا فيه إقامة مجلس التعاون لدول الخليج العربية.

أسس مجلس التعاون لدول الخليج العربية ..

يربط هذه الدول الست علاقات خاصة وسمات مشتركة وأنظمة متشابهة.

ضرورة قيام تنسيق بينها في مختلف المجالات، وخصوصًا المجالات الاقتصادية والاجتماعية.

المصير المشترك ووحدة الهدف ورغبتها في تحقيق التنسيق والتكامل والترابط بينها في جميع الميادين.

أولى جلساته: يوم الاثنين ٢١ من رجب عام ١٤٠١هـ، شارك الملك خالد بن عبدالعزيز في أبو ظبي أول اجتماع للمجلس، بحضور جميع قادة دول الخليج العربية.

أبرز قرارات الاجتماع الأول لمجلس التعاون الخليجي: أن تكون مدينة الرياض مقرًا لأمانة المجلس.



القضية اللبنانية



بعد احتلال إسرائيل لفلسطين، نزح فلسطينيون كثيرون إلى لبنان، وتسبب في حرب أهلية في لبنان عام ١٣٩٥هـ.

جهود المملكة تجاه القضية كان على عدة أسس .. المحافظة على وحدة لبنان واستقلاله واستقراره.

دعم الحكومة اللبنانية.

ضرورة التوصل إلى حل سلمي بين أطراف النزاع.

مؤتمر قمة الرياض عام ١٣٩٦هـ: قمة سداسية دعت إليها المملكة للحل العاجل والفوري للقضية

اللبنانية، ونتج عدة قرارات من أهمها ..

وقف إطلاق النار.

الاحترام المتبادل بين لبنان والمنظمة الفلسطينية.

18 19 20 21 22 23 24 25
⊖ ⊕ ⊖ ⊕ ⊖ ⊕ ⊖ ⊕

18 كان له دور في تأسيس مجلس التعاون لدول الخليج العربية ..



- Ⓐ الملك سلمان بن عبد العزيز
Ⓑ الملك فهد بن عبد العزيز
Ⓒ الملك عبد العزيز
Ⓓ الملك خالد بن عبد العزيز

19 أيُّ الدول التالية توجد في مجلس التعاون لدول الخليج العربية؟



- Ⓐ مصر
Ⓑ سورية
Ⓒ العراق
Ⓓ الكويت

20 أيُّ التالي لا يُعد من الأسس التي قام عليها مجلس التعاون الخليجي؟



- Ⓐ ضرورة التوسع ومواجهة الغرب
Ⓑ المصير المشترك والترابط بينها في جميع الميادين
Ⓒ ضرورة التنسيق بين هذه الدول في مختلف المجالات
Ⓓ وحدة الهدف وتعميق العلاقات الخاصة المشتركة

21 عُقدَ أول اجتماع لمجلس التعاون لدول الخليج العربية في ..



- Ⓐ الشارقة
Ⓑ الرياض
Ⓒ أبو ظبي
Ⓓ الدوحة

22 عُقدَ أول اجتماع لمجلس التعاون لدول الخليج العربية عام ..



- Ⓐ ١٤٠٠هـ
Ⓑ ١٤٠١هـ
Ⓒ ١٤٠٢هـ
Ⓓ ١٤٠٣هـ

23 أبرز القرارات التي خرجت من الاجتماع الأول لمجلس تعاون دول



- الخليج العربية أن تكون مقرًا لأمانة المجلس.
Ⓐ الرياض
Ⓑ أبو ظبي
Ⓒ مكة المكرمة
Ⓓ المدينة المنورة

24 بعد احتلال إسرائيل لفلسطين، نزح فلسطينيون كثيرون إلى لبنان، فأدى



- ذلك إلى اشتعال الحرب الأهلية في لبنان عام ..
Ⓐ ١٣٩٤هـ
Ⓑ ١٣٩٣هـ
Ⓒ ١٣٩٦هـ
Ⓓ ١٣٩٥هـ

25 من نتائج مؤتمر القمة السادسة الذي عُقد في الرياض عام ١٣٩٦هـ



- لبحث القضية اللبنانية ..
Ⓐ دعم لبنان مادياً
Ⓑ عودة النازحين إلى بلادهم
Ⓒ وقف إطلاق النار
Ⓓ التدخل العسكري في لبنان



تتمة القضية اللبنانية

اجتاح العدو الصهيوني لبنان عام ١٤٠٢هـ، بادعاء أن الهدف هو وضع حد للهجمات الفدائية الفلسطينية على المستوطنات الإسرائيلية في الشمال، بينما كان يريد العدو الإسرائيلي احتلال مزيد من الأراضي العربية.

جهد المملكة لرد العدوان الصهيوني عن لبنان ..

تحرك الملك خالد بن عبد العزيز لرد الاجتياح الظالم فبعث برسائل إلى الرئيس الأمريكي، ورؤساء الدول الغربية، والعربية مناشدًا الجميع القيام بعمل فوري لإيقاف العدوان الإسرائيلي على لبنان.

كثف الملك خالد الضغط في أروقة الأمم المتحدة حتى تم إصدار قرار مجلس الأمن رقم (٥٠٩) بانسحاب إسرائيل الفوري وغير المشروط من لبنان.

وعندما تفاقم الصراع عام ١٤٠٩هـ عُقد مؤتمر طارئ في المغرب لوضع آلية لتسوية الصراع اللبناني، تمثلت في تشكيل لجنة ثلاثية تضم الملك فهد بن عبدالعزيز والملك المغربي والرئيس الجزائري، بهدفها القيام بإجراء انتخابات رئاسة الجمهورية وتشكيل حكومة الوفاق الوطني في مدة أقصاها ستة أشهر.

عُقد اجتماع استثنائي لمجلس النواب اللبناني في الطائف، وأقر بوثيقة الوفاق الوطني اللبناني المعروفة بـ (اتفاق الطائف) في نجاح كبير وبميز للسياسة السعودية.



الدفاع عن مصر ودعم تنميتها

عندما هاجم العدوان الثلاثي مصر عام ١٣٧٦هـ/١٩٥٦م وقفت السعودية مع مصر بكل ثقلها، وقدمت لمصر دعمًا ماليًا كبيرًا، وعشرين طائرة حربية.

وفي عام ١٣٩٣هـ/١٩٧٣م أمر الملك فيصل بن عبد العزيز بقطع إمدادات النفط عن الدول المتعاونة مع العدو الصهيوني في قرار تاريخي ومحوري.

وفي عام ١٤٣٢هـ/٢٠١١م قدم الملك عبد الله بن عبد العزيز الدعم المادي والمعنوي لمصر.

26 (ب) 27 (ج) 28 (ب) 29 (ب) 30 (ب) 31 (ج) 32 (ج) 33 (ب)

26 وضع حد للهجمات الفدائية الفلسطينية على المستوطنات الإسرائيلية في الشمال، كان الستار الذي اتخذته العدو الصهيوني لاحتلال ..

- (أ) مصر
(ب) لبنان
(ج) فلسطين
(د) سورية

27 بعث الملك رسائل للرئيس الأمريكي ورؤساء الدول الغربية والعربية للقيام بعمل فوري لإيقاف العدوان الإسرائيلي على لبنان.

- (أ) فيصل بن عبد العزيز
(ب) فهد بن عبد العزيز
(ج) خالد بن عبد العزيز
(د) سلمان بن عبد العزيز

28 أيّ التالي يُعد من مهام اللجنة الثلاثية التي ضمت الملك فهد والملك المغربي والرئيس الجزائري؟

- (أ) مقاومة لبنان
(ب) تشكيل حكومة الوفاق الوطني
(ج) إعلان الحرب على لبنان
(د) إجلاء الفلسطينيين عن لبنان

29 تولى اتفاق الطائف الملك ..

- (أ) فهد بن عبد العزيز
(ب) سعود بن عبد العزيز
(ج) سلمان بن عبد العزيز
(د) عبد الله بن عبد العزيز

30 أيّ التالي يُعرف بوثيقة الوفاق الوطني؟

- (أ) اتفاق الطائف
(ب) اتفاق الدوحة
(ج) الوثيقة اللبنانية
(د) اتفاق لبنان

31 قدمت المملكة العربية السعودية طائرة حربية كدعم لمصر ضد العدوان الثلاثي.

- (أ) ثلاثين
(ب) أربعين
(ج) عشرين
(د) سبعين

32 في حرب أمر الملك فيصل بن عبد العزيز بقطع إمدادات النفط عن الدول المتعاونة مع العدو الصهيوني.

- (أ) ١٣٩٤هـ
(ب) ١٣٩٥هـ
(ج) ١٣٩٣هـ
(د) ١٣٩٦هـ

33 في عام ١٤٣٢هـ قدم الملك دعمًا ماديًا ومعنويًا لمصر.

- (أ) عبد الله بن عبد العزيز
(ب) فهد بن عبد العزيز
(ج) خالد بن عبد العزيز
(د) سلمان بن عبد العزيز

34 | وَقَّعَ الملك عدة اتفاقيات مع مصر سنة ١٤٣٧هـ.

- Ⓐ عبد الله بن عبد العزيز
Ⓑ فهد بن عبد العزيز
Ⓒ خالد بن عبد العزيز
Ⓓ سلمان بن عبد العزيز

35 | من أهم الاتفاقيات التي وقعها الملك سلمان مع مصر عام ١٤٣٧هـ

- Ⓐ طور سيناء
Ⓑ سانت كاترين
Ⓒ أسبوط
Ⓓ القاهرة

36 | أيّ الدول التالية كانت تتمتع بامتيازات خاصة في الجزائر؟

- Ⓐ روسيا
Ⓑ بريطانيا
Ⓒ فرنسا
Ⓓ الولايات المتحدة

37 | قرر مجلس الوزراء الفرنسي احتلال الجزائر عام ..

- Ⓐ ١٢٤٥هـ
Ⓑ ١٢٥٤هـ
Ⓒ ١٥٢٤هـ
Ⓓ ١٤٢٥هـ

38 | كان الملك من أوائل المبادرين لدعم القضية الجزائرية.

- Ⓐ عبد العزيز
Ⓑ سعود بن عبد العزيز
Ⓒ فهد بن عبد العزيز
Ⓓ سلمان بن عبد العزيز

39 | منح الملك سعود بن عبد العزيز الجزائر أثناء الاحتلال سنويًا.

- Ⓐ مئتين وخمسين ألف ريال سعودي
Ⓑ مئتين وخمسين ألف جنيه إسترليني
Ⓒ مئتين وخمسين مليون ريال سعودي
Ⓓ مئتين وخمسين مليون جنيه إسترليني

40 | خصصت المملكة العربية السعودية أسبوعًا للتعريف بالقضية الجزائرية

- عُرِفَ باسم أسبوع ..
Ⓐ الوفاق الجزائري
Ⓑ الجزائر
Ⓒ القتال
Ⓓ المقاومة

41 | نالت الجزائر استقلالها عام ..

- Ⓐ ١٣٨٠هـ
Ⓑ ١٣٨١هـ
Ⓒ ١٣٨٢هـ
Ⓓ ١٣٨٤هـ

تتمة الدفاع عن مصر ودعم تنميتها

في عام ١٤٣٧هـ/٢٠١٦م، زار الملك سلمان بن عبد العزيز مصر ووقع عدة اتفاقيات، من أهمها: إنشاء جامعة الملك سلمان بن عبد العزيز في طور سيناء، وإنشاء جسر يربط بين البلدين عبر سيناء.

دعم استقلال الجزائر

كانت فرنسا تتمتع بامتيازات خاصة في الجزائر، ولها مؤسسات تجارية في المدن الجزائرية المختلفة.

في ٣٠ من شعبان عام ١٢٤٥هـ، قرر مجلس الوزراء الفرنسي احتلال الجزائر لأهداف سياسية واقتصادية، فقاوم الجزائريون الاحتلال واندلعت الثورة الجزائرية.

دعم المملكة العربية السعودية للثورة الجزائرية ..

أصدر الملك سعود بن عبد العزيز أمرًا ملكيًا بمنح الجزائر ما قيمته (مئتان وخمسون ألف جنيه إسترليني) سنويًا، لدعم استقلالها.

خصصت المملكة أسبوعًا باسم (أسبوع الجزائر) للتعريف بقضية الجزائريين، ودعم نضالهم لاستقلال وطنهم.

نالت الجزائر استقلالها بعد رضوخ فرنسا مطلع شهر صفر من عام ١٣٨٢هـ/٥ يوليو ١٩٦٢م، فأقام السعوديون الاحتفالات بهذا الانتصار، فوضعت الزينات في مختلف المدن، ورفعت الأعلام الجزائرية مع العلم السعودي.

34 35 36 37 38 39 40 41

42 < أي التالي لا يُعد من صور دعم المملكة العربية السعودية للقضايا الإسلامية؟

- أ) التضامن الإسلامي
ب) الحرب العالمية الأولى
ج) قضية البوسنة والهرسك
د) قضية أفغانستان

المملكة والقضايا الإسلامية

من صور دعم المملكة العربية السعودية للقضايا الإسلامية: التضامن الإسلامي، الدعم التنموي، قضية أفغانستان، قضية البوسنة والهرسك.

التضامن الإسلامي

رابطة العالم الإسلامي: رابطة تُعنى بقضايا المسلمين، ومقرها مكة، دعا لتأسيسها الملك سعود بن عبد العزيز.
منظمة التعاون الإسلامي: منظمة مهمتها متابعة قرارات المؤتمرات الإسلامية، أنشأها الملك فيصل بن عبد العزيز، ومقرها في جدة.

الدعم المالي: أنشأ الملك فيصل بن عبد العزيز البنك الإسلامي للتنمية ليكون أحد المؤسسات المالية الإسلامية للتعاون الإسلامي، ومقره في مدينة جدة بالمملكة العربية السعودية، وفي سبيل دعم القضايا الإسلامية عن طريق صندوق النقد الدولي قدمت المملكة تسهيلات بلغت قيمتها مليارات الدولارات، كانت حصة المملكة منها ٤٥٪ من قيمة تلك القروض.

الدعم التنموي

الصندوق السعودي للتنمية ..

صدر مرسوم ملكي بتأسيسه عام ١٣٩٤هـ.
يُسهم في تمويل المشروعات الإنمائية في الدول النامية بمنح القروض لتلك الدول.
يقدم مَنحًا لتمويل الدراسات والدعم المؤسسي.
تأسس برأس مال قدره عشرة مليارات ريال، وزيد رأس المال حتى وصل إلى ثلاثين مليارًا.

قضية أفغانستان

في عام ١٤٠٠هـ/١٩٧٩م اجتاح الاتحاد السوفيتي أفغانستان لكنه فوجئ بمقاومة الشعب الأفغاني.
دعم المملكة العربية السعودية لأفغانستان ..
أقامت معسكرات إيواء في باكستان للأرامل والأطفال الأفغان.
قدمت الرعاية الصحية والاجتماعية لهم.

42 43 44 45 46 47 48 49

ب) 1) 1) 1) 1) 1) 1) 1)

43 < يقع مقر رابطة العالم الإسلامي في ..

- أ) جدة
ب) مكة
ج) المدينة
د) الرياض

44 < يقع مقر منظمة التعاون الإسلامي في ..

- أ) جدة
ب) الدمام
ج) الرياض
د) المدينة

45 < في سبيل الدعم المالي للقضايا الإسلامية قدمت المملكة العربية السعودية قروضًا عن طريق صندوق النقد الدولي، وكانت حصتها منها ..

- أ) ٢٥٪
ب) ٣٥٪
ج) ٤٥٪
د) ٥٥٪

46 < تأسس الصندوق السعودي للتنمية في عام ..

- أ) ١٢٩٤هـ
ب) ١٣٩٤هـ
ج) ١٩٣٤هـ
د) ١٤٣٩هـ

47 < أُسس الصندوق السعودي للتنمية برأس مال قدره ..

- أ) ١٠ مليارات ريال
ب) ١٠ مليارات دينار
ج) ٨ مليارات دولار
د) ٥ مليارات درهم

48 < اجتاح الاتحاد السوفيتي أفغانستان في سنة ..

- أ) ١٤٠٠هـ
ب) ١٤٠١هـ
ج) ١٤٠٣هـ
د) ١٤٠٥هـ

49 < من مظاهر دعم المملكة العربية السعودية لقضايا الشعوب الإسلامية

إقامتها معسكرات إيواء في باكستان لمساعدة ..

- أ) كردستان
ب) أفغانستان
ج) كازخستان
د) تركستان



قضية البوسنة والهرسك

البوسنة والهرسك: بلاد إسلامية في منطقة البلقان كانت تابعة للاتحاد السوفييتي وبعد انهياره عام ١٤١٢هـ، بدأت جمهورية يوغسلافيا الاتحادية بالتفكك، وحاولت جمهورية الصرب ضم البوسنة إليها، فاشتعلت الحرب الأهلية.

دعم المملكة العربية السعودية للبوسنة والهرسك ..
المملكة العربية السعودية أول دولة اعترفت بإعلان البوسنة والهرسك استقلالها عام ١٤١٢هـ/١٩٩٢م.
شكّل الملك سلمان بن عبد العزيز هيئة عليا لجمع التبرعات للبوسنة والهرسك برئاسته.

جمعت الهيئة أكثر من مليار ومئتين وخمسين مليون دولار ووجهت لدعم حكومة البوسنة.
أرسلت المملكة العربية السعودية طائرات محملة بمواد غذائية ومساعدات عاجلة للشعب البوسني.

المملكة والقضايا الدولية

دور المملكة العربية السعودية تجاه القضايا الدولية ..
عضو مؤسس في هيئة الأمم المتحدة.
حركة عدم الانحياز.
الحرب على الإرهاب.
التحالف الإسلامي العسكري لمكافحة الإرهاب.
المركز العالمي لمكافحة الفكر المتطرف.
مركز الملك سلمان للإغاثة.

المملكة وهيئة الأمم المتحدة

هيئة الأمم المتحدة: منظمة دولية مؤلفة من دول مستقلة تعمل من أجل السلم العالمي، وأنشئت المنظمة رسميًا عام ١٣٦٤هـ، وكانت تضم ٥٠ بلدًا من بينها المملكة العربية السعودية، حتى أصبح أعضاؤها ١٩٣ دولة.
تعد المملكة عضوًا مؤسسًا لمنظمة الأمم المتحدة.
منذ توقيع المملكة العربية السعودية على ميثاق الأمم المتحدة وهي ملتزمة بالعمل به وتطبيقه واحترام سيادة الدول الأخرى والعمل على تحقيق الأمن والسلم لشعوب الأرض كافة.

57 56 55 54 53 52 51 50
ج د ب ا ا ج ب ج

50 ◀ تقع بلاد البوسنة والهرسك في منطقة ..

- أ) الشام
ب) العراق
ج) البلقان
د) تركيا

51

◀ بدأت جمهورية يوغسلافيا الاتحادية بالتفكك، وحاولت جمهورية

- ضم البوسنة.
أ) يوغسلافيا
ب) الصرب
ج) سلوفاكيا
د) تشيكوسلوفاكيا

52

◀ أول دولة اعترفت باستقلال البوسنة والهرسك سنة ١٤١٢هـ ..

- أ) الجزائر
ب) العراق
ج) المملكة العربية السعودية
د) المغرب

53

◀ شكّلت المملكة هيئة عليا جمعت فيها تبرعات للبوسنة والهرسك بقيمة ..

- أ) مليار ومئتين وخمسين مليون دولار
ب) مليار ومئة وخمسين مليون دولار
ج) مليار ومئتين وثلاثين مليون دولار
د) مليار ومئتين وعشرين مليون دولار

54

◀ تبرز أهمية الدور السعودي على الساحة الدولية في اختيارها لتكون

- عضوًا مؤسسًا في ..
أ) هيئة الأمم المتحدة
ب) هيئة العمالة الدولية
ج) منظمة الصحة العالمية
د) منظمة حقوق الإنسان

55

◀ تم إنشاء هيئة الأمم المتحدة رسميًا عام ..

- أ) ١٢٦٤هـ
ب) ١٣٦٤هـ
ج) ١٣٦٥هـ
د) ١٣٦٣هـ

56

◀ هيئة الأمم المتحدة ضمت بلدًا من بينها المملكة العربية السعودية.

- أ) ٨٠
ب) ٦٠
ج) ٧٠
د) ٥٠

57

◀ عدد الأعضاء في هيئة الأمم المتحدة ..

- أ) ١٩١ دولة
ب) ١٩٢ دولة
ج) ١٩٣ دولة
د) ١٩٤ دولة



حركة عدم الانحياز

حركة تأسست عام ١٣٧٤هـ / ١٩٥٥م تهدف إلى عدم الانضمام إلى أي معسكر شرقي (الاتحاد السوفيتي) أو غربي (الولايات المتحدة الأمريكية).

- ◀ من أهدافها ..
- ◀ احترام حقوق الإنسان.
- ◀ التزام المبادئ التي أقرتها الأمم المتحدة.
- ◀ تحقيق العدالة بين كل الدول.
- ◀ تجنب التدخل في الشؤون الداخلية للدول.
- ◀ دور المملكة العربية السعودية تجاه الحركة ..
- ◀ انضمت إليها وشاركت في مؤتمراتها.
- ◀ دعت إلى التمسك بمبادئ المنظمة واحترام حسن الجوار، وحقوق الإنسان.
- ◀ ترك التدخل في شؤون الدول الأخرى.
- ◀ موقفها الثابت من القضية الفلسطينية ودعمها للحقوق العربية المشروعة.



المملكة والحرب على الإرهاب

- ◀ على مر التاريخ الإسلامي ظهر أقوام غلاة، منهم الخوارج في خلافة عثمان بن عفان رضي الله عنه، ووصل بهم الغلو إلى قتل خليفة المسلمين عثمان، ثم الخليفة علي بن أبي طالب رضي الله عنه.
- ◀ المملكة العربية السعودية مثل غيرها من الدول التي عانت إرهاب المتطرفين؛ الذين أقدموا على عمليات التفجير والتدمير وقتل الأبرياء، حيث لم يكن ينفع معهم نداء العقل والحكمة.
- ◀ سارعت المملكة إلى الوقوف مع دول العالم المختلفة للتصدي لهذه الآفة، ومحاربتها بكل الوسائل.
- ◀ تبذل المملكة جهوداً كبيرة لتثبيت أن الإسلام بريء من هذه الأعمال.

63

62

61

60

59

58

58 ▶ تأسست حركة عدم الانحياز سنة ..

- Ⓐ ١٣٧٤هـ ، ١٩٥٥م
- Ⓑ ١٣٧٤هـ ، ١٩٦٦م
- Ⓒ ١٤٧٤هـ ، ١٩٥٥م
- Ⓓ ١٢٣٤هـ ، ١٩٧٧م

59 ▶ أيّ التالي لا يُعد من الأهداف العامة لحركة عدم الانحياز؟

- Ⓐ تجنب التدخل في الشؤون الداخلية للدول
- Ⓑ الالتزام بمبادئ الأمم المتحدة
- Ⓒ تحقيق الاكتفاء المادي
- Ⓓ تحقيق العدالة بين كل الدول

60 ▶ قامت المملكة العربية السعودية بدور فعال خلال انضمامها لحركة عدم الانحياز هو ..

- Ⓐ الاكتفاء الاقتصادي
- Ⓑ معارضة هيئة الأمم المتحدة
- Ⓒ التدخل في شؤون الدول
- Ⓓ احترام حقوق الإنسان

61 ▶ أيّ التالي لا يُعد من الأدوار الفعالة التي قامت بها المملكة العربية السعودية خلال انضمامها لحركة عدم الانحياز؟

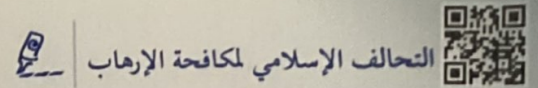
- Ⓐ احترام حسن الجوار
- Ⓑ التدخل في شؤون الدول الداخلية
- Ⓒ دعم القضية الفلسطينية
- Ⓓ دعم الحقوق العربية المشروعة

62 ▶ ظهر الخوارج في عهد الخليفة ..

- Ⓐ أبو بكر الصديق رضي الله عنه
- Ⓑ عمر بن الخطاب رضي الله عنه
- Ⓒ عثمان بن عفان رضي الله عنه
- Ⓓ عمر بن عبد العزيز رضي الله عنه

63 ▶ أيّ التالي ليس من جهود المملكة العربية السعودية في الحرب على الإرهاب؟

- Ⓐ التصدي لهذه الآفة
- Ⓑ محاربتها بكل الوسائل
- Ⓒ التأكيد على براءة الإسلام
- Ⓓ غض الطرف عن الجرائم



أعلن ولي العهد الأمير محمد بن سلمان عام ١٤٣٧هـ تشكيل تحالف إسلامي من إحدى وأربعين دولة لمحاربة الإرهاب.

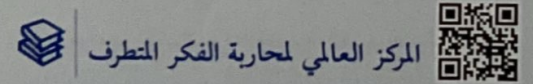
من أهداف التحالف ..

تعزيز التضامن الإسلامي وروابط التعاون والإخاء بين الدول الإسلامية الأعضاء في التحالف.

محاربة الفكر المتطرف العنيف ومظاهر الغلو في دول التحالف الإسلامي.

المحافظة على المعتقد الإسلامي الصحيح، ونشر قيم الإسلام السمحة.

محاربة تمويل الإرهاب.



افتتح الملك سلمان بن عبد العزيز المركز العالمي لمكافحة الفكر المتطرف (اعتدال)، بحضور عدد من الزعماء المشاركين في القمة العربية الإسلامية الأمريكية، التي استضافتها الرياض عام ١٤٣٨هـ.

الأهداف الاستراتيجية للمركز ..

وقاية: وتعني تنفيذ الخطاب المتطرف ومحاربة أنشطته والحد من آثارها.

مواجهة: ويقصد بها مواجهة الفكر المتطرف، ومنع الانتماء إليه، أو التعاطف معه.

توعية: وتشمل تعزيز ثقافة الاعتدال والتسامح.

شراكة: وتعتمد على تعزيز التعاون الدولي في مكافحة الفكر المتطرف.

64 65 66 67 68 69 70 71
1 2 3 4 5 6 7 8

64 أعلن الأمير عن تشكيل تحالف إسلامي لمكافحة الإرهاب.

- أ) محمد بن سلمان
ب) سلمان بن عبد العزيز
ج) فهد بن عبد العزيز
د) خالد بن عبد العزيز

65 تم تشكيل التحالف الإسلامي لمكافحة الإرهاب عام ..

- أ) ١٣٤٧هـ
ب) ١٤٣٧هـ
ج) ١٤١٧هـ
د) ١١٤٧هـ

66 التحالف الإسلامي لمحاربة الإرهاب تكوّن من دولة.

- أ) ١٤
ب) ٥١
ج) ٣١
د) ٤١

67 افتتح الملك المركز العالمي لمكافحة الفكر المتطرف.

- أ) عبد الله بن عبد العزيز
ب) فهد بن عبد العزيز
ج) سلمان بن عبد العزيز
د) خالد بن عبد العزيز

68 استضافت الزعماء في القمة العربية الإسلامية الأمريكية عام ١٤٣٨هـ.

- أ) الرياض
ب) جدة
ج) القاهرة
د) دمشق

69 الوقاية تُعد من الأهداف الاستراتيجية للمركز العالمي لمحاربة الفكر المتطرف، وتعني ..

- أ) الرضى بالعنف والغلو
ب) تعزيز النزاعات والأزمات
ج) تنفيذ الخطاب المتطرف ومحاربة أنشطته
د) تعزيز التعاون الدولي لمكافحة الفكر المتطرف

70 تُعد من الأهداف الاستراتيجية للمركز العالمي لمحاربة الفكر المتطرف، وتعني مواجهة الفكر المتطرف، ومنع الانتماء إليه، أو التعاطف معه ..

- أ) الوقاية
ب) التوعية
ج) الشراكة
د) المواجهة

71 التوعية تُعد من الأهداف الاستراتيجية للمركز العالمي لمحاربة الفكر المتطرف، وتشمل ..

- أ) تعزيز الجانب التاريخي
ب) الخطاب الإعلامي المحترف
ج) رصد الجماعات المتطرفة
د) تعزيز ثقافة الاعتدال والتسامح



مركز الملك سلمان للإغاثة



◀ كان تأسيسه بتوجيه من خادم الحرمين الشريفين الملك سلمان بن عبد العزيز في ٢٧ من رجب عام ١٤٣٦هـ.

◀ يُعد مركزًا دوليًا رائدًا ومُخصَّصًا لإغاثة المجتمعات التي تعاني الكوارث وأعمال الإغاثة الإنسانية.

◀ حرص الملك سلمان على حضور عدد من ممثلي المنظمات الإغاثية الدولية عند وضع حجر الأساس.

◀ رصد الملك سلمان لمركز الإغاثة مبلغ مليار ريال.

◀ تخصيص ما يتجاوز المليار ريال استجابة للاحتياجات الإنسانية والإغاثية للشعب اليمني الشقيق.

◀ تشمل المساعدات جميع قطاعات العمل الإغاثي والإنساني، ومن أمثلتها ..

◀ الأمن الإغاثي.

◀ التغذية، والصحة، والتعليم.

◀ إدارة المخيمات، وسُبل الحماية.

◀ الإيواء، والتعافي المبكر.

◀ المياه والإصحاح البيئي.

◀ دعم العمليات الإنسانية.

◀ قدم مركز الملك سلمان للإغاثة والأعمال

الإنسانية كثيرًا من المساعدات الإنسانية والإغاثية

والإنمائية لأكثر من ٣٧ دولة في العالم.

72 تم تأسيس مركز الملك سلمان للإغاثة عام ..

Ⓐ ١٤٣٦هـ

Ⓑ ١٤٢٦هـ

Ⓒ ١٣٤٦هـ

Ⓓ ١٤١٦هـ



73 مركز الملك سلمان للإغاثة يُعد مركزًا دوليًا رائدًا في أعمال ..

Ⓐ التنمية الاقتصادية

Ⓑ الصحة النفسية

Ⓒ رعاية الظروف المناخية

Ⓓ الإغاثة الإنسانية



74 عندما وضع خادم الحرمين الشريفين الملك سلمان بن عبد العزيز حجر

الأساس لمركز الملك سلمان للإغاثة، حرص على حضور عدد من ممثلي

منظمات ..

Ⓐ الإغاثة الدولية

Ⓑ رعاية الرياضة

Ⓒ مكافحة التطرف

Ⓓ رعاية المناخ



75 خصَّص الملك سلمان للأعمال الإغاثية الإنسانية مبلغ ..

Ⓐ مليار دولار

Ⓑ مليار ريال

Ⓒ مليون دينار

Ⓓ مليون دولار



76 خصَّص الملك سلمان ما يتجاوز مليار ريال للشعب ..

استجابة للاحتياجات الإنسانية والإغاثية.

Ⓐ اليمني

Ⓑ المغربي

Ⓒ المصري

Ⓓ التونسي



77 أيّ التالي لا يُعد من قطاعات العمل الإغاثي والإنساني التي تشملها

المساعدات المقدمة من مركز الملك سلمان للإغاثة؟

Ⓐ الحماية والتعليم والمياه ودعم العمليات الإنسانية

Ⓑ الأمن الإغاثي وإدارة المخيمات

Ⓒ الإصحاح البيئي والتغذية

Ⓓ مكافحة الإرهاب



78 قدم مركز الملك سلمان للإغاثة كثيرًا من المساعدات لأكثر من دولة.

Ⓐ ٣٦

Ⓑ ٣٨

Ⓒ ٣٧

Ⓓ ٣٩



78 77 76 75 74 73 72
Ⓒ Ⓓ Ⓐ Ⓑ Ⓒ Ⓓ Ⓐ



أهميتها الجغرافية ..

تقع في قلب العالم العربي تربط بين مشرقه ومغربه.

تشرف على البحر المتوسط وخليج العقبة.

مساحتها: تُقدر بنحو ٢٧٠٠٠ كم^٢.

المظاهر الطبيعية تتمثل في: السهول الساحلية

فتمتد على طول ساحل البحر المتوسط كسهل (عكا

في الشمال، غزة في الجنوب)، وفي المرتفعات كجبال

(الجليل في الشمال، نابلس في الوسط، الخليل في

الجنوب)، وفي منخفض الغور، والبحر الميت، ونهر الأردن

الذي ينبع من جبل الشيخ ويصب في بحيرة طبرية.

مناخها: يتأثر بعوامل منها: وقوعها على الطرف

الشرقي للبحر المتوسط، وقوعها بين درجتي عرض

٢٩ و٣٣ شمال الاستواء، وقرها من الحزام الصحراوي.

السكان: عددهم ١٣,٨٢٢,٠٠٠ نسمة، لكن بسب

زيادة المهاجرين اليهود ارتفع عدد اليهود في فلسطين.

لمحة عن تاريخ فلسطين



أول من سكنها الكنعانيون العرب لأكثر من ألف

وخمسة عام، ودخلها نبي الله يوشع بن نون ببني إسرائيل.

حكمتها الفرس ثم الإغريق والأنباط العرب ثم

الرومان ثم المسلمون ثم الصليبيون ثم المسلمون، بعد

معركة «حطين» بقيادة صلاح الدين عام ٥٨٣هـ.

الحركة الصهيونية



نشأتها ..

كانت فلسطين جزءاً من الدولة العثمانية.

دعا النمساوي اليهودي «ثيودور هرتزل» في كتابه

«الدولة اليهودية» أن تكون دولتهم في فلسطين.

قدم اليهود جميع أشكال الدعم لبريطانيا في الحرب

العالمية الأولى مقابل تأسيس وطن لهم في فلسطين.

حقق اليهود هدفهم بعد إصدار بريطانيا وعد

بلفور عام ١٩١٧م.

79 فلسطين تقع في قلب العالم العربي، وتشرف على ..

- أ) البحر المتوسط
ب) المحيط المتجمد
ج) بحر قزوين
د) الخليج العربي

80 تُقدر مساحة فلسطين بنحو كيلومتر مربع.

- أ) ٢٣٠٠٠
ب) ٢٠٠٠٠
ج) ٢٧٠٠٠
د) ٤٧٠٠٠

81 ينبع نهر الأردن من ..

- أ) بحيرة طبرية
ب) نهر دجلة
ج) جبل الشيخ
د) نهر الفرات

82 يصب نهر الأردن في ..

- أ) البحر الأحمر
ب) بحيرة طبرية
ج) بحر العرب
د) البحر المتوسط

83 يتأثر مناخ فلسطين بعوامل منها ..

- أ) قرها من الحزام الصحراوي
ب) هضبة نجد
ج) هضبة الجولان
د) سهول الأحساء

84 أول من سكن فلسطين ..

- أ) الفرس
ب) اليهود
ج) البابليون
د) الكنعانيون

85 استطاع صلاح الدين هزيمة الصليبيين واستعادة فلسطين في موقعة ..

- أ) نهاوند
ب) حطين
ج) القادسية
د) عين جالوت

86 مؤلف كتاب «الدولة اليهودية» ..

- أ) ثيودور هرتزل
ب) دافيد بن غوريون
ج) ليفي أشكول
د) مناحم بييجن

87 أصدرت وُعد بلفور عام ١٩١٧م.

- أ) ألمانيا
ب) بريطانيا
ج) فرنسا
د) إيطاليا



محاولة بريطانيا إنشاء الكيان الصهيوني ..

عينت اليهودي «هيربرت صموئيل» مندوباً على فلسطين وعدداً كبيراً من اليهود للمناصب الكبرى، دعمهم اقتصادياً وعسكرياً، سهلت هجرتهم لفلسطين. أنشأت وكالة يهودية عام ١٣٤٠هـ.

أصدرت الأمم المتحدة قراراً بتقسيم فلسطين لدولتين بين الفلسطينيين واليهود ووضعت القدس تحت إشراف دولي عام ١٣٦٦هـ/١٩٤٧م.

الرسالة التاريخية: عام ١٣٥٧هـ بعث الملك عبد العزيز للرئيس الأمريكي رسالة أكد فيها على عروبة فلسطين وعبرت هذه الرسالة عن القضية بكل وضوح وشفافية.



الموقف العربي من الكيان الصهيوني



الحرب الفلسطينية ..

وقعت عام ١٣٦٧هـ/١٩٤٨م بعد قرار التقسيم. حاربت ست دول عربية إلى جانب عرب فلسطين، وهم (مصر، السعودية، الأردن، لبنان، سورية، العراق). استنجد الصهاينة بأمريكا ومجلس الأمن لإيقاف القتال وقبول هدنة مدتها أربعة أسابيع.

زودت أمريكا الصهاينة بأحدث الأسلحة، وبعد انتهاء الهدنة سيطر اليهود على ٧٧٪ من فلسطين.

العدوان الثلاثي على مصر عام ١٩٥٦م ..

شنت (إسرائيل، فرنسا، بريطانيا) هجوماً على مصر. قاومه المصريون، وضغطت السعودية بقطع إمدادات النفط عن الدول المعتدية فانهى العدوان بالانسحاب.

حرب العاشر من رمضان عام ١٣٩٣هـ/أكتوبر ١٩٧٣م:

أغلقت مصر مضائق ثيران، فوقع حرب النكسة الكبرى واعتدى العدو الصهيوني على الدول العربية عام ١٩٦٧م واحتل الضفة الغربية وسيناء والجولان، فقامت مصر وسورية بعملية مفاجئة لتحرير أرضيهما عام ١٩٧٣م.

نجحت مصر في دخول سيناء وعبر خط بارليف. قطعت السعودية النفط عن الغرب فأصدر مجلس الأمن قراراً بوقف الحرب، وبدء المحادثات السلمية.

الأمم المتحدة وافقت على خطة كادافى.

الأمم المتحدة وافقت على خطة كادافى.

الأمم المتحدة وافقت على خطة كادافى.

الأمم المتحدة وافقت على خطة كادافى.

الأمم المتحدة وافقت على خطة كادافى.

الأمم المتحدة وافقت على خطة كادافى.

الأمم المتحدة وافقت على خطة كادافى.

الأمم المتحدة وافقت على خطة كادافى.

عينت بريطانيا اليهودي .. مندوباً على فلسطين.

(ب) ثيودور هرتزل

(د) دافيد بن غوريون

(أ) هيربرت صموئيل

(ج) اللورد كرومر

جاء قرار الأمم المتحدة بتقسيم فلسطين لدولتين عام ..

(ب) ١٣٦٦هـ ، ١٩٤١م

(د) ١٣٦١هـ ، ١٩٤٠م

(أ) ١٣٥٦هـ ، ١٩٥٨م

(ج) ١٣٦٦هـ ، ١٩٤٧م

أكدت رسالة الملك عبد العزيز للرئيس الأمريكي عام ١٣٥٧هـ على ..

(ب) يهودية فلسطين

(د) عروبة فلسطين عبر التاريخ

(أ) دعم اليهود

(ج) تهميش القضية الفلسطينية

انتهت حرب فلسطين بنكبة مروعة، واحتلال اليهود .. من فلسطين.

(ب) ٦٠٪

(د) ٧٧٪

(أ) ٥٠٪

(ج) ٢٥٪

وقع العدوان الثلاثي عام ١٩٥٦م على ..

(ب) مصر

(د) السودان

(أ) سورية

(ج) العراق

ما دور السعودية التاريخي أثناء العدوان الثلاثي على مصر عام ١٩٥٦م؟

(ب) قطع النفط عن الدول المعتدية

(د) مساعدات مادية فقط

(أ) جهود دبلوماسية فقط

(ج) تجاهلها وترك نصرتها

وقعت حرب النكسة الكبرى بعد إغلاق مصر لمضايق ..

(ب) هرمز

(د) السويس

(أ) ثيران

(ج) العقبة

وقعت حرب النكسة الكبرى عام ..

(ب) ١٩٥٦م

(د) ١٩٧٣م

(أ) ١٩٤٨م

(ج) ١٩٦٧م

ما دور المملكة العربية السعودية التاريخي أثناء الاعتداء الإسرائيلي على

مصر سنة ١٩٧٣م؟

(ب) قطع النفط عن الغرب

(د) مساعدات مادية فقط

(أ) جهود دبلوماسية فقط

(ج) تجاهلها وترك نصرتها



العالم العربي

◀ موقعه: يقع في جنوب غربي آسيا وشمال إفريقيا، ويطل على المحيطين الأطلسي والهندي.

◀ تقع شبه الجزيرة العربية بين درجتي العرض ١٣° و ٣٢° شمالاً، ويمر في وسطها مدار السرطان.

◀ حدوده: يمتد من المحيط الأطلسي غرباً إلى الخليج العربي شرقاً، ومن شمال سورية إلى أقصى جنوب الصومال، إضافة إلى جزر القمر في المحيط الهندي.

◀ مساحته: تبلغ ١٣,٨٢٥,٠٠٠ كم^٢، تتوزع على ٢٢ وحدة سياسية، منها ٢٩٪ في آسيا، و ٧١٪ في إفريقيا، وتمثل هذه المساحة ١٠٪ من مساحة اليابس في العالم.



الإمكانات البشرية

◀ التوزيع الجغرافي لسكان العالم العربي ..

◀ أقاليم ذات كثافة سكانية مرتفعة: كدلتا نهر النيل.

◀ أقاليم ذات كثافة سكانية متوسطة: مثل: (السواحل الشرقية والجنوبية للبحر المتوسط، العراق، السودان، وادي النيل).

◀ أقاليم ذات كثافة سكانية منخفضة: مثل: (هضبة الشطوط شمالي الجزائر، شمالي ليبيا، شمالي مصر ما عدا الدلتا، شبه الجزيرة العربية).

◀ أقاليم ذات كثافة سكانية منخفضة جداً: مثل: (صحراء الربع الخالي)، بمعدل نسمة واحدة/كم^٢.

◀ الخصائص السكانية للوطن العربي ..

◀ الزيادة الطبيعية: يتسهم الوطن العربي بارتفاع معدلات المواليد، وانخفاض معدلات الوفيات.

◀ الزيادة غير الطبيعية: تزيد الهجرة عدد السكان في الدول المهاجر إليها، مثل: (دول الخليج)، وتُنقص عددهم في الدول المهاجر منها، مثل: (مصر والسودان).

◀ تركيب السكان: نسبة الذكور تشكل ٥٠,٩٪، بينما نسبة الإناث ٤٩,١٪، معظم سكان الوطن العربي في سن الشباب القادرين على العمل.

◀ تنبيه: تُسمى نسبة الذكور والإناث (التركيب النوعي)، ونسبة الأطفال، والشباب، والشيوخ (التركيب العمري).

◀ تركيب السكان: نسبة الذكور تشكل ٥٠,٩٪، بينما نسبة الإناث ٤٩,١٪، معظم سكان الوطن العربي في سن الشباب القادرين على العمل.

◀ تنبيه: تُسمى نسبة الذكور والإناث (التركيب النوعي)، ونسبة الأطفال، والشباب، والشيوخ (التركيب العمري).

◀ تنبيه: تُسمى نسبة الذكور والإناث (التركيب النوعي)، ونسبة الأطفال، والشباب، والشيوخ (التركيب العمري).

97 | أين يقع الوطن العربي؟

Ⓐ شرق أوروبا وغرب آسيا

Ⓑ جنوب إفريقيا وغرب آسيا

Ⓒ شرق آسيا وجنوب أوروبا

Ⓓ جنوب غربي آسيا وشمال إفريقيا

98 | العالم العربي يُطل على محيطين، هما ..

Ⓐ المحيط الهادئ والمتجمد

Ⓑ المحيط الأطلسي والهندي

Ⓒ المحيط الهندي والهادئ

Ⓓ المحيط المتجمد والأطلسي

99 | يمر وسط المملكة العربية السعودية ..

Ⓐ خط الاستواء

Ⓑ مدار الجدي

Ⓒ مدار السرطان

Ⓓ الدائرة القطبية الشمالية

100 | الإقليم العربي الأعلى كثافة سكانية ..

Ⓐ شمال ليبيا

Ⓑ البحر المتوسط

Ⓒ دلتا النيل في مصر

Ⓓ صحراء الربع الخالي

101 | من الأقاليم السكانية ذات الكثافة المنخفضة جداً وتصل إلى ١

نسمة/كم^٢ ..

Ⓐ شمال ليبيا

Ⓑ البحر المتوسط

Ⓒ دلتا النيل في مصر

Ⓓ صحراء الربع الخالي

102 | ارتفاع معدل المواليد وانخفاض معدل الوفيات يُطلق عليه ..

Ⓐ الكثافة سكانية

Ⓑ الزيادة طبيعية

Ⓒ تركيب السكان

Ⓓ الزيادة غير طبيعية

103 | أي التالي تسببه الهجرة؟

Ⓐ زيادة عدد سكان العالم

Ⓑ نقصان عدد سكان العالم

Ⓒ زيادة الكثافة السكانية في العالم

Ⓓ زيادة عدد السكان في منطقة ونقصانه في منطقة أخرى

104 | الزيادة غير الطبيعية للسكان ترتبط بمعدل ..

Ⓐ الوفيات فقط

Ⓑ المواليد فقط

Ⓒ المواليد والوفيات

Ⓓ الهجرة

97 98 99 100 101 102 103 104

Ⓓ Ⓑ Ⓒ Ⓓ Ⓒ Ⓑ Ⓓ Ⓒ Ⓓ



الإمكانات الاقتصادية في العالم العربي

الثروة الزراعية: يستأثر قطاع الزراعة في العالم العربي بنحو ٣٠٪ من إجمالي القوى العاملة، باستثناء الدول التي تعتمد في دخلها على إيرادات النفط.

تتنوع المحاصيل الزراعية في الوطن العربي: نظرًا لتنوع أقاليمه المناخية، ومنها ..

- ◀ الحبوب (القمح، الأرز): في مصر وبلاد الشام.
- ◀ الأشجار المثمرة: كالنخيل في السعودية.



الرعي والثروة الحيوانية

مصدر أساسي للدخل الوطني لكثير من الدول العربية، مثل: (السودان، الصومال، موريتانيا)، وتشغل المراعي ٢٥٪ من مساحة الوطن العربي، وتنقسم إلى ..

- ◀ حشائش السافانا (المراعي الحارة): وتمتد في جنوبي الوطن العربي.
- ◀ حشائش الإستبس (المراعي المعتدلة): وتمتد في شمالي الوطن العربي.



الثروة السمكية

أهميتها: تُساعد على سدّ النقص الغذائي.

من مصايد الأسماك في العالم العربي ..

- ◀ مصايد المحيطات والبحار: المحيط الأطلسي، والبحر الأحمر، وبحر عُمان، والخليج العربي.
- ◀ مصايد البحيرات: بحيرة قارون، بحيرة ناصر.
- ◀ مصايد الأنهار: نهر النيل، دجلة والفرات.



الثروة المعدنية والصناعة

الثروة المعدنية: الوطن العربي غني بالكثير من الثروات المعدنية كالحديد والفوسفات، ويُعدّ النفط أهمها.

أنواع الصناعات ..

◀ استخراجية: كالنفط والمعادن الأخرى.

◀ تحويلية: وتنقسم إلى ..

استهلاكية كالأنسجة والألبان والزيتون، ثقيلة كالحديد والصلب، تقليدية كالتحف والمصوغات

105 106 107 108 109 110 111 112

105 تُعدّ الدول العربية دولاً زراعية بالدرجة الأولى، إذ يستأثر قطاع الزراعة بنحو من إجمالي القوى العاملة باستثناء دول النفط.

- أ ٢٥٪
ب ٤٠٪
ج ٨٠٪
د ٣٠٪

106 تتنوع المحاصيل الزراعية في الوطن العربي بسبب ..

- أ كثرة الصحاري
ب تنوع الأقاليم المناخية
ج تنوع المرتفعات
د ارتفاع معدل المواليد

107 تُعدّ مصدرًا أساسيًا للدخل الوطني لكثير من الدول العربية كالسودان والصومال، وتعتمد على المراعي الطبيعية ..

- أ الثروة المعدنية
ب الثروة الزراعية
ج الثروة الحيوانية
د الثروة السمكية

108 يُطلق عليها المراعي الحارة، وتمتدّ في جنوبي الوطن العربي ..

- أ حشائش السافانا
ب المراعي المعتدلة
ج حشائش الإستبس
د الغابات المطيرة

109 من مصايد البحار في الوطن العربي ..

- أ بحر لابتيف
ب بحر قزوين
ج البحر الأحمر
د البحر الكاربي

110 من مصايد البحيرات في الوطن العربي بحيرة ..

- أ كومو
ب تاهو
ج فيكتوريا
د ناصر

111 أهم الثروات المعدنية في الوطن العربي ..

- أ الحديد
ب النفط
ج الذهب
د الفوسفات

112 أي التالي يُعد من الصناعات الاستهلاكية؟

- أ النفط
ب التحف والآثار
ج الحديد والصلب
د الألبان والزيتون



الكشوف الجغرافية

المقصود بها: رحلات بحرية قام بها بعض الأوروبيين في القرن الخامس عشر الميلادي لاكتشاف مناطق جديدة.

من دوافع الكشوف الجغرافية الأوروبية ..
نشر دياناتهم.

الحصول على ثروات الشرق.

الرغبة التوسعية في السيطرة على الدول.



أبرز الكشوف الجغرافية

البرتغاليون ..

اكتشاف طريق رأس الرجاء الصالح، وأبرز من أسهم في اكتشافه الأمير هنري الملاح، وكذلك البحار فاسكو دا جاما الذي استفاد من البحارة المسلمين وأدواتهم التي استخدموها في الملاحة والفلك كالأسطرلاب.

الإسبانيون: اكتشاف أمريكا على يد البحار الإيطالي كرسطوفر كولمبس.

البريطانيون ..

رحلات جون كابوت لاكتشاف أمريكا الشمالية.
اكتشاف جيمس كوك لأستراليا ونيوزيلندا.



نتائج الكشوف الجغرافية

على العالم الإسلامي ..

تحول التجارة إلى الطرق البحرية الجديدة فتسبب ذلك في خسارة اقتصادية للمسلمين.

محاصرة البرتغاليين لبعض الشواطئ العربية.

إضعاف دولة المماليك، وسقوطها.

على العالم كله ..

التأكيد على كروية الأرض عمليًا.

تطور فنون الملاحة وأدواتها والسفن الحربية.

التوسع التجاري.

تزايد التنافس الاستعماري.

120 119 118 117 116 115 114 113

113 ◀ رحلات بحرية للرحالة الأوروبيين لاكتشاف مناطق جديدة لم تكن معروفة ..

- ⓐ السياحة ⓑ الكشوف الجغرافية
ⓐ الاستعمار ⓑ الكشوف العلمية

114 ◀ قام الأوروبيون برحلات بحرية واسعة؛ لاكتشاف مناطق جديدة لأسباب

- ⓐ اقتصادية ودينية واجتماعية ومعرفية في القرن ..
ⓐ الخامس عشر الميلادي ⓑ السادس عشر الميلادي
ⓐ السابع عشر الميلادي ⓑ الثامن عشر الميلادي

115 ◀ استفاد البحار من أدوات البحارة المسلمين

- ⓐ "الأسطرلاب". ⓑ فاسكو دا جاما
ⓐ ماجلان ⓑ جون كابوت
ⓐ أمريكي فسبوتشي ⓑ جون كابوت

116 ◀ جنسية البحار كرسطوفر كولمبس ..

- ⓐ برتغالي ⓑ إيطالي
ⓐ هندي ⓑ فرنسي

117 ◀ بحار اكتشف أمريكا في رحلته الاستكشافية ..

- ⓐ ماجلان ⓑ فاسكو دا جاما
ⓐ كرسطوفر كولمبس ⓑ جون كابوت

118 ◀ اكتشف الرحالة أستراليا ونيوزيلندا.

- ⓐ كولمبس ⓑ ماجلان
ⓐ ابن ماجد ⓑ جيمس كوك

119 ◀ الدولة التي سقطت بسبب استخدام الطرق البحرية الجديدة ..

- ⓐ العبيدين ⓑ الأيوبيين
ⓐ المماليك ⓑ اليونانيين

120 ◀ أيّ التالي يُعد من نتائج الكشوف الجغرافية على العالم؟

- ⓐ زيادة نفوذ دولة المماليك
ⓐ تدهور فنون الملاحة
ⓐ تزايد التنافس الاستعماري
ⓐ النمو الاقتصادي عند المسلمين



الحرب العالمية الأولى (١٩١٤ - ١٩١٨م)

الأسباب غير المباشرة ..

الأمم المتحدة الدولية: ظهرت نتيجة تنافس الدول الكبرى على النفوذ، وأبرزها أزمة مراكش التي نشأت بين فرنسا وألمانيا، والأزمة البلقانية التي حدثت بعد أن ضمت النمسا أراضي البوسنة والهرسك لنفوذها.

سباق التسلح: ازداد التوتر بين الدول بسبب حرص كل دولة على امتلاك الأسلحة وتطويرها. التنافس الاقتصادي: أدى سعي الدول لامتلاك المواد الخام اللازمة لمصانعها وفتح أسواق جديدة إلى تضارب المصالح.

قيام التحالفات الدولية: أقامت الدول لتعزيز قوتها، وحماية مصالحها، ومنها: (تحالف عصبة الأباطرة، تحالف دول الوسط، الوفاق الثلاثي).

السبب المباشر: اغتيال ولي عهد النمسا وزوجته عام ١٩١٤م على يد طالب صربي أثناء زيارتهما لسراييفو عاصمة البوسنة والهرسك.

نتائجها ..

انتهت بخسارة دولة ألمانيا وحلفائها. بلغت الخسائر البشرية حوالي تسعة ملايين قتيل، وعددًا أكبر من الجرحى والمشوهين.

تفككت الدولة العثمانية واقتصرت على تركيا. إنشاء بعض المنظمات الدولية كعصبة الأمم.

وقوع كثير من بلدان العالم العربي تحت الانتداب وفقًا لاتفاقية سايكس بيكو السرية بين فرنسا وبريطانيا عام ١٩١٦م.

موقف المملكة العربية السعودية: اتخذت المملكة العربية السعودية خلال الحرب العالمية الأولى موقف الحياد بسبب ..

انشغال الملك عبد العزيز بتوحيد البلاد.

حفاظه على مصالح بلاده وسلامة شعبه.

انتهت الحرب العالمية الأولى عام ..

ب) ١٩٩٥م

أ) ١٩١٨م

د) ١٨٥٠م

ج) ١٩٤٥م

نشأت أزمة مراكش بين ..

ب) إيطاليا وروسيا

أ) فرنسا وألمانيا

د) ألمانيا والنمسا

ج) بريطانيا وروسيا

من الأسباب غير المباشرة للحرب العالمية الأولى أزمة البلقان التي حدثت

بعد أن ضمت أراضي البوسنة والهرسك لنفوذها.

ب) إيطاليا

أ) النمسا

د) فرنسا

ج) بريطانيا

البحث عن المواد الخام وفتح أسواق جديدة من دوافع الاستعمار ..

ب) الاجتماعية

أ) السياسية

د) الدينية

ج) الاقتصادية

انتهت الحرب العالمية الأولى بهزيمة ..

ب) ألمانيا وحلفائها

أ) بريطانيا وحلفائها

د) فرنسا وحلفائها

ج) روسيا وحلفائها

بلغت الخسائر البشرية في الحرب العالمية الأولى ملايين قتيل.

ب) ثمانية

أ) سبعة

د) عشرة

ج) تسعة

تمت اتفاقية سايكس بيكو بين عام ..

ب) فرنسا وألمانيا، ١٩١٧م

أ) فرنسا وبريطانيا، ١٩١٦م

د) بريطانيا وألمانيا، ١٩١٩م

ج) ألمانيا وروسيا، ١٩١٦م

اتخذت المملكة العربية السعودية خلال الحرب العالمية الأولى موقف

الحياد ل ..

أ) الحفاظ على مصالح البلاد وسلامة الشعب

ب) الرغبة في التوسع العمراني

ج) عدم الاهتمام بالقضايا الدولية

د) الطمع في ثروات الدول الأخرى

128 127 126 125 124 123 122 121



الحرب العالمية الثانية (١٩٣٩ - ١٩٤٥م)



القوى المشاركة فيها ..

دول المحور: ألمانيا، إيطاليا، اليابان، المجر، رومانيا، بلغاريا، يوغسلافيا.

دول الحلفاء: بريطانيا، فرنسا، الاتحاد السوفييتي، الولايات المتحدة.

من أسبابها ..

معاهدات الصلح المجحفة بحق الدول المهزومة في الحرب العالمية الأولى، كمعاهدة فرساي.

قلق بريطانيا وفرنسا من توجهات النازيين في ألمانيا.

سباق دول أوروبا في مجال التسلح الحربي.

الأزمات الاقتصادية والاجتماعية التي عانتها

كثير من الدول الأوروبية بعد الحرب العالمية الأولى وجهت بعض الدول لفرض الإرادة السياسية بالقوة.

ضعف عصبة الأمم.

مراحلها ..

المرحلة الأولى: تفوق دول المحور.

المرحلة الثانية: التوازن بين قوتي المحور والحلفاء.

المرحلة الثالثة: تفوق الحلفاء واستسلام دول المحور.

نتائجها ..

انتصار دول الحلفاء على دول المحور.

الخسائر البشرية كانت ضخمة حيث قُتل وشرد ما يزيد على ٧٠ مليون نسمة.

إنشاء هيئة الأمم المتحدة بديلاً عن عصبة الأمم.

موقف المملكة العربية السعودية ..

في بداية الحرب اتخذ الملك عبد العزيز موقف الحياد.

في نهاية الحرب ومع ظهور انتصار الحلفاء أعلن

الملك عبد العزيز انضمامه للحلفاء للاستفادة من

تسويات ما بعد الحرب.

في نهاية الحرب العالمية الثانية اجتمع الرئيس

الأمريكي روزفلت ورئيس الوزراء البريطاني تشرشل

بالمملك عبد العزيز بن عبد الرحمن آل سعود في

البحيرات المرة في مصر، لكون الملك عبد العزيز

شخصية مؤثرة، ولكانة المملكة العربية السعودية.

129 130 131 132 133 134 135 136 137

د ب ج د ا ا د ا د ا ا د

129 انتهت الحرب العالمية الثانية عام ..

أ ١٩١٤ م ب ١٩٩٩ م

ج ١٩٩٨ م د ١٩٤٥ م

130 أيُّ التالي يُعد من تحالف دول المحور؟

أ بريطانيا وفرنسا ب ألمانيا وإيطاليا واليابان

ج أمريكا وتركيا د الاتحاد السوفييتي وبلغاريا

131 أيُّ التالي يُعد من دول الحلفاء؟

أ بريطانيا وفرنسا ب المجر ورومانيا

ج إيطاليا واليابان د ألمانيا وإيطاليا

132 الأزمات الاقتصادية والاجتماعية التي عانت منها كثير من الدول

الأوروبية بعد الحرب العالمية الأولى وجهت سياسات بعض الدول في

الإنفاق تجاه التسلح والتنافس في ..

أ فرض الإرادة السياسية بالقوة ب المجال العلمي

ج المجال الصناعي د المجال الاقتصادي

133 أيُّ التالي لا يُعد من مراحل الحرب العالمية الثانية؟

أ تفوق دول المحور ب التوازن بين قوتي المحور والحلفاء

ج تفوق دول الحلفاء د استسلام دول الحلفاء

134 من نتائج الحرب العالمية الثانية ..

أ إنشاء هيئة الأمم المتحدة ب انتصار دول المحور على الحلفاء

ج الرخاء الاقتصادي د استرداد إيطاليا لمستعمراتها

135 بلغ عدد من قُتل وشرد في الحرب العالمية الثانية ما يزيد على .. مليوناً.

أ أربعين ب خمسين

ج ستين د سبعين

136 اتخذت المملكة العربية السعودية في بداية الحرب العالمية الثانية موقف ..

أ الحياد ب المشاركة في الحرب

ج الانضمام لدول الحلفاء د الانضمام لدول المحور

137 في نهاية الحرب ومع ظهور انتصار الحلفاء أعلن الملك عبد العزيز انضمامه ..

أ لتحالف عصبة الأباطرة ب لمنظمة العدل

ج لدول الحلفاء د لدول المحور



الولايات المتحدة الأمريكية



نشأتها: تأسست من ١٣ مستعمرة، وأعلنت استقلالها عن بريطانيا عام ١٧٧٦م، وازدادت الولايات بعد ذلك عن طريق الحروب أو الشراء.

خصائصها الطبيعية ..

تُطل على محيطين شرقاً وغرباً.
تحتل المركز الثالث عالمياً من حيث المساحة (٩,٨ مليون كم^٢) بعد روسيا وكندا، وتُعد ولاية ألاسكا أكبر الولايات مساحة.

تنوع التضاريس، وتنوع المناخ؛ الذي نتج عنه تنوع في المحاصيل الزراعية.

من خصائصها البشرية: تحتل المرتبة الثالثة من حيث عدد السكان ٣٢٧,٧ مليون نسمة، وتميز بأنها أكثر الدول تنوعاً في العرق والثقافة.

مواردها الاقتصادية: زراعة، تعدين، تجارة، بالإضافة للتقدم العلمي والتكنولوجي.



الاتحاد الأوروبي



نشأته: تُعد أولى أفكار التوحيد السلمي بالتعاون والمساواة في العضوية، والتي قدمها المفكر فيكتور هيوغو عام ١٢٦٧هـ، ويضم ٢٧ دولة.

خصائصه الطبيعية ..

يتمد على مساحة تزيد على ٤,٤٧٥,٠٠٠ كم^٢.
تنوع مظاهر السطح بين سهول وهضاب وتلال وبحيرات وأنهار.

تنوع المناخ والذي نتج عنه تنوع النباتات الطبيعية.

خصائصه البشرية ..

عدد سكان الاتحاد الأوروبي ٥٢٠ مليون نسمة.
يُعد الاتحاد الأوروبي أكبر التكتلات الاقتصادية في العالم.

أعلنت الولايات المتحدة الأمريكية استقلالها عن بريطانيا عام ..

(ب) ١٨٧٦م

(أ) ١٧٩٠م

(د) ١٩٧٦م

(ج) ١٧٧٦م

تأتي الولايات المتحدة في المركز الثالث عالمياً بمساحة قدرها

٩,٨ مليون كم^٢، وأكبر ولاية فيها من حيث المساحة ..

(ب) هاواي

(أ) نيويورك

(د) ألاسكا

(ج) فلوريدا

تنوع المحاصيل الزراعية في الولايات المتحدة بسبب ..

(ب) التقدم التكنولوجي

(أ) تنوع المناخ

(د) تنوع الثروة المعدنية

(ج) التنوع الثقافي

عدد سكان الولايات المتحدة الأمريكية يبلغ ..

(أ) مليار نسمة

(ب) ٣٢٧,٧ مليون نسمة

(ج) ١٢٥,٥ مليون نسمة

(د) ٧٢٥ مليون نسمة

نشأة الاتحاد الأوروبي من الأفكار التي قدمها ..

(ب) شارل ميشيل

(أ) فيكتور هيوغو

(د) هنري الملاح

(ج) فاسكو دا جاما

يضم الاتحاد الأوروبي دولة.

(ب) ٢٧

(أ) ٢٥

(د) ٣٨

(ج) ٢٠

تنوع مناخ الاتحاد الأوروبي نتج عنه تنوع ..

(أ) الطبائع البشرية

(ب) الزيادة السكانية

(ج) النباتات الطبيعية

(د) المرتفعات والهضاب

يُعد الاتحاد الأوروبي أكبر التكتلات في العالم.

(ب) الثقافية

(أ) الدينية

(د) الاقتصادية

(ج) الرياضية

145 144 143 142 141 140 139 138

(د) (ج) (ب) (أ) (ب) (أ) (د) (ج)



روسيا الاتحادية

أصبحت الوارث الأكبر للاتحاد السوفيتي بعد تفكُّكه، وهي قوة نووية كبرى، وعضو دائم في مجلس الأمن، ومن الدول الثماني الصناعية الكبرى.

خصائصها الطبيعية ..

تقع في شمال أوراسيا وتتألف من ٨٣ كياناً فدرالياً.
تُعدّ جسراً بين قارتي آسيا وأوروبا، وهي أكبر دولة في العالم من حيث المساحة.

تُغطّي ثُمُن ($\frac{1}{8}$) مساحة الأرض المأهولة بالسكان في العالم بمساحة تبلغ ١٧ مليون كيلو متر مربع.
يمكن تقسيمها إلى خمسة أقاليم تضاريسية.

تتأثر الزراعة فيها بسبب قسوة المناخ وتجمُّد الأنهار والبحيرات معظم شهور العام.
خصائصها البشرية ..

عدد سكان روسيا ١٤٤ مليون نسمة وهي عاشر دولة من حيث عدد السكان.
تمتلك ثروات معدنية ضخمة.
يُعدّ اقتصادها من أكبر عشرة اقتصادات عالمياً.



الصين

تأسست جمهورية الصين عام ١٩١١م.

موقعها: شرق آسيا.

مساحتها: رابع أكبر دولة في العالم بمساحة قدرها ٩,٥ مليون كيلومتر مربع تقريباً.

خصائصها الطبيعية: تتنوع التضاريس والمشاهد الطبيعية بين سهول وهضاب ومرتفعات وأنهار.
خصائصها البشرية ..

أكثر بلدان العالم سكاناً، وبلغ تعداد سكانها أكثر من مليار وثلاثمئة وستين مليون نسمة.

تحتلّ المرتبة الثانية بعد الولايات المتحدة في الاقتصاد العالمي.

146 تُعدّ روسيا الوارث الأكبر للاتحاد السوفيتي، وتتألف من كياناً فدرالياً.

- أ) ٥٣
ب) ٣٣
ج) ٨٣
د) ١٣

147 روسيا تُغطّي مساحة الأرض المأهولة بالسكان في العالم.

- أ) $\frac{1}{8}$
ب) $\frac{1}{4}$
ج) $\frac{1}{2}$
د) $\frac{3}{4}$

148 أكبر الدول مساحة ..

- أ) روسيا
ب) كندا
ج) أستراليا
د) الهند

149 تنقسم روسيا إلى أقاليم تضاريسية.

- أ) ثلاثة
ب) سبعة
ج) خمسة
د) عشرة

150 يبلغ عدد سكان روسيا نحو ..

- أ) ١٠٠ مليون نسمة
ب) ٣٤٦ مليون نسمة
ج) ٧٤٦ مليون نسمة
د) ١٤٤ مليون نسمة

151 تم تأسيس جمهورية الصين عام ..

- أ) ١٩١١ م
ب) ١٩٦٩ م
ج) ١٨١١ م
د) ١٩٠٠ م

152 تُعدّ الصين رابع أكبر دولة في العالم من حيث المساحة، إذ تبلغ مساحتها نحو .. تقريباً.

- أ) ١٩,٦ مليون كيلومتر مربع
ب) ٩٩,٦ مليون كيلومتر مربع
ج) ١,٦ مليون كيلومتر مربع
د) ٩,٥ مليون كيلومتر مربع

153 أكثر بلدان العالم سكاناً ..

- أ) الصين
ب) الهند
ج) اليابان
د) مصر

154 تحتلّ الصين المركز في الاقتصاد العالمي.

- أ) الأول
ب) الرابع
ج) الثاني
د) الخامس

154 153 152 151 150 149 148 147 146
ج) ١) ٢) ٣) ٤) ٥) ٦) ٧) ٨) ٩)



جامعة الدول العربية

نشأتها: عام ١٩٤٥ م.

مقرها والدول الأعضاء ..

تتخذ الجامعة من القاهرة مقراً لها.

تشمل في عضويتها جميع الدول العربية، وعدد الدول المؤسسة لها سبع.



رابطة العالم الإسلامي

هي منظمة شعبية عالمية، تهتم بالإسلام والدفاع عنه، أنشئت عام ١٩٦٢ م، ومقرها مكة المكرمة، وتعدّ هيئة الإغاثة الإسلامية تابعة لها.



منظمة التعاون الإسلامي

تأسست في الرباط بالمملكة المغربية في الثاني عشر من رجب عام ١٣٨٩ هـ / ١٩٦٩ م، وهي ثاني أكبر منظمة دولية، وتضم ٥٧ دولة ومقرها جدة.



منظمة الدول المصدرة للنفط (أوبك)

منظمة تعمل على تنسيق السياسات النفطية للدول المنتجة والدول المستهلكة، تأسست عام ١٣٨٠ هـ / ١٩٦٠ م، عدد أعضائها ١٢ دولة، مقرها فيينا عاصمة النمسا.



هيئة الأمم المتحدة

جاءت باكورة إنشاء هيئة الأمم المتحدة في تصريح لممثلي الولايات المتحدة وبريطانيا والاتحاد السوفيتي. أهدافها ..

حفظ السلام والأمن الدولي.

تنمية العلاقات الودية بين الدول.

تحقيق التعاون الدولي.



مجموعة العشرين (G20)

نتيجة للأزمات المالية في التسعينيات قررت مجموعة الثمانية (الولايات المتحدة الأمريكية واليابان وروسيا وبريطانيا وإيطاليا وفرنسا وألمانيا وكندا) في عام ١٩٩٩ م إنشاء منتدى جديد باسم مجموعة العشرين. جاء اختيار المملكة ضمن مجموعة الدول العشرين دليلاً على مكانتها الاقتصادية وأهميتها السياسية.

162 161 160 159 158 157 156 155

1 2 3 4 5 6 7 8

نشأت جامعة الدول العربية عام ..

ب) ١٩٤٤ م

أ) ١٩٤٥ م

د) ١٩٤٣ م

ج) ١٩٥٤ م

مقر جامعة الدول العربية ..

ب) القاهرة

أ) قطر

د) الكويت

ج) المملكة العربية السعودية

نشأت رابطة العالم الإسلامي عام .. ، ومقرها ..

ب) ١٩٦٢ م ، مكة المكرمة

أ) ١٩٦١ م ، القاهرة

د) ١٩٦٣ م ، العراق

ج) ١٩٦٠ م ، فلسطين

هيئة إسلامية عالمية مقرها مكة المكرمة تدافع عن الإسلام، وتعدّ هيئة الإغاثة الإسلامية تابعة لها ..

ب) هيئة الأمم المتحدة

أ) جامعة الدول العربية

د) منظمة التعاون الإسلامي

ج) رابطة العالم الإسلامي

ثاني أكبر منظمة دولية، وتضمّ ٥٧ دولة ومقرها جدة ..

ب) جامعة الدول العربية

أ) هيئة الأمم المتحدة

د) رابطة العالم الإسلامي

ج) منظمة التعاون الإسلامي

منظمة تعمل على تنسيق السياسات النفطية للدول المنتجة والدول المستهلكة، ومقرها فيينا عاصمة النمسا ..

ب) أوبك

أ) الأمم المتحدة

د) العالم الإسلامي

ج) التجارة العالمية

جاءت باكورة إنشاء هيئة الأمم المتحدة في تصريح لممثلي الولايات المتحدة وبريطانيا و ..

ب) فرنسا

أ) ألمانيا

د) إيطاليا

ج) الاتحاد السوفيتي

قررت مجموعة الثمانية (الولايات المتحدة الأمريكية، اليابان، روسيا وبريطانيا، إيطاليا، فرنسا، ألمانيا، كندا) في عام ١٩٩٩ م إنشاء منتدى جديد باسم ..

ب) منظمة أوبك

أ) مجموعة العشرين

د) رابطة العالم الإسلامي

ج) منظمة التجارة العالمية

اختبار على القسم



▼ الجغرافيا ▼

01/2 علم الكتابة عن الأرض، ويعتني بتوزيع الظواهر الطبيعية البشرية
دراسة العلاقات بينها، وتشخيص الاختلافات الإقليمية ودراستها ..
أ) الفلك
ب) الجيولوجيا
ج) الجغرافيا
د) التاريخ الطبيعي

02/2 أول من استخدم مصطلح الجغرافيا هو العالم الإغريقي ..
أ) إيراتوستينز
ب) بطليموس
ج) بوسيدنيوس
د) باوسانياس

03/2 أي التالي يُعد من فروع علم الجغرافيا البشرية؟
أ) جغرافية المياه
ب) الجغرافيا الحيوية
ج) جغرافية التربة
د) الجغرافيا الطبية

04/2 أول من وصفوا الأرض بأنها كروية بيضوية هم ..
أ) الفرس
ب) الإغريق
ج) العرب
د) المصريون القدماء

05/2 العالم المسلم الذي قام بقياس محيط الكرة الأرضية هو ..
أ) الأسطرابي
ب) الخوارزمي
ج) الفرغاني
د) ابن حوقل

06/2 أساسها الجغرافيا البلدانية واعتمدت على منهج وصف الطرق
والصناعات ..
أ) الجغرافيا الطبية
ب) الجغرافيا الفلكية
ج) الجغرافيا السياسية
د) الجغرافيا الإقليمية

07/2 كاتب أندلسي كتب كتاب «المسالك والممالك» ..
أ) المقدسي
ب) البكري
ج) الإدريسي
د) القاسم

08/2 أول من لاحظ أن السفر حول الأرض بالكامل يؤدي إلى زيادة يوم أو
نقصانه ..
أ) أبو الفداء
ب) البكري
ج) المقدسي
د) ابن حوقل

علم الجغرافيا

المقصود به: علم الكتابة عن الأرض، يهتم بدراسة
الاختلافات المكانية، وتوزيع الظواهر الطبيعية البشرية
ودراسة العلاقات القائمة بينها، وأول من استعمل
مصطلح الجغرافيا العالم الإغريقي إيراتوستينز.

أهميته: فهم النظم الطبيعية الأساسية والتنظيم المكاني
للمجتمع، معرفة التوزيعات المكانية على جميع المستويات.
فروعه ..

الجغرافيا الطبيعية: كجغرافيا المياه، والمناخ.

الجغرافيا البشرية: كالجغرافيا الطبية، والسياسية.

تطور علم الجغرافيا

عند القدماء: بدأ الاهتمام بالجغرافيا منذ القدم في مصر
والعراق، وفارس والصين، لكن الإغريق هم أول من
وصفوا العالم عندما أدركوا أن شكل الأرض كروي بيضوي.
مرحلة الكشف الجغرافية التي قام بها الأوروبيون.
مرحلة الجغرافيا الحديثة انتهجت أسلوبين ..

الاحتمية البيئية، النظرية الإمكانية

الجغرافيا عند المسلمين

من عوامل ازدهارها ..

فرائض الإسلام، وتعريب العلوم.

اتساع الدولة الإسلامية، والإبداع الحضاري.

الجغرافيا الفلكية: وضع أبو عيسى الأسطرابي،
أسس الأسطرابلاب، وقاس الفرغاني محيط الكرة
الأرضية، وتم إنشاء الكثير من المراصد.

الجغرافيا الإقليمية: أساسها مصنفات الجغرافيا
البلدانية واعتمدت على المنهج الوصفي (وصف
المدن والطرق، وذكر الصناعات والزراعات والمعادن)،
ومن أشهر كتبها كتاب «المسالك والممالك» للبكري.

الجغرافيا الطبيعية: اتجه علم الجغرافيا إلى العناية
بالجغرافيا العامة (دراسة الظواهر الطبيعية والبشرية)،
ويُعد أبو الفداء أول من لاحظ أن السفر حول
الأرض بالكامل يؤدي إلى زيادة يوم أو نقصانه.

08 07 06 05 04 03 02 01
أ ب ج د هـ و ز ح



الأجرام السماوية

تنقسم إلى ..

المجرة: مجموعة هائلة من النجوم والأقمار والمذنبات والسُدم، وتُعرف المجرة التي يتبعها نظامنا الشمسي عند العرب بدرب التبانة وفي الغرب بالسكة اللبينية.

السُدم: سحب كونية ضخمة تتألف من غازات أو جزيئات كونية دقيقة.

أجرام شبه نجمية (الكويزار): الأجرام التي تظهر في نهاية الكون المرئي.

النجوم: الأجرام المضيئة في السماء، وتتوقف درجة لمعانها في السماء خصوصًا على طاقتها وبعدها عن الأرض، وأكثرها لمعانًا الشَّعْرَى اليمانية.



المجموعة الشمسية

المقصود بها: هي جزء من عدّة مجموعات شمسية توجد في مجرة درب التبانة، وتتكون من ..

الشمس: النجم الذي يُعدّ مركز المجموعة بأسرها، وهي ذاتية الضوء.

مجموعة الكواكب: عددها ثمانية، وتدور مع توابعها وأقمارها حول الشمس.

مجموعة كواكب البلوتويد: الجرم الذي يمكن تصنيفه كوكب بلوتويد يجب أن يتحرك في مدار حول الشمس، وأن تكون كتلته تكفي لأن تجمع جاذبيته أطرافه، وأن يكون مداره حول الشمس غير محدد، وألا يكون تابعًا لأحد الكواكب، ومن هذه الكواكب: (سيرس، بلوتو).

مجموعة أجسام فضائية صغيرة: تشمل الأجرام السماوية الباقية التي لا ينطبق عليها تعريف الكوكب أو كواكب البلوتويد، مثل: الأجسام الصغيرة التي كانت تعرف بالكويكبات والمذنبات وغيرها.

الأقمار: الأجرام التي تتبع الكواكب، وتدور في أفلاك خاصة حولها.

السنة الضوئية: المسافة التي يقطعها الضوء في سنة بسرعة ٣٠٠ ألف كيلومتر في الثانية، وتُستخدم لقياس المسافات الفلكية البعيدة.

16 15 14 13 12 11 10 09

مجموعة هائلة من النجوم والأقمار والمذنبات ..

- ① المجرة
② المذنبات
③ الشهب
④ السُدم

تُعرف المجرة التي يتبعها نظامنا الشمسي عند الغرب بـ «السكة اللبينية»، أما عند العرب فتعرف بـ ..

- ① البروج
② درب التبانة
③ الكويزار
④ طريق الحرير

ما المقصود بـ (درب التبانة)؟

- ① جرم سماوي تابع للشمس
② مدار يسير فيه كوكب الأرض
③ مجرة تقع في مجموعة الأسد
④ مجرة تقع فيها مجموعتنا الشمسية

أكثر النجوم لمعانًا في السماء ..

- ① الجوزاء
② الشَّعْرَى اليمانية
③ فيجا
④ الزهري

عدد كواكب المجموعة الشمسية ..

- ① سبعة
② ثمانية
③ عشرة
④ أحد عشر

أي التالي يُعد من مجموعة كواكب بلوتويد؟

- ① المريخ والزهرة
② عطارد والقمر
③ المريخ والمشتري
④ سيرس وبلوتو

الأجرام التي تتبع الكواكب، وتدور في أفلاك خاصة حولها ..

- ① النجوم
② الأقمار
③ الشُّهب
④ البلوتويد

المسافة التي يقطعها الضوء في سنة بسرعة ٣٠٠ ألف كيلومتر في الثانية وتستخدم لقياس المسافات الفلكية البعيدة ..

- ① السنة الضوئية
② الوحدة الفلكية
③ المدارات الفضائية
④ السنة الشمسية



تمتة المجموعة الشمسية

الوحدة الفلكية: متوسط المسافة بين الأرض والشمس.
 دوران الكواكب: تدور حول الشمس في مدة
 اصطلاح على تسميتها بالعام، وحول نفسها كل يوم.



أجرام سماوية أخرى

الكويكبات: مجموعة من الأجرام الصغيرة بين
 كوكبي المريخ والمشتري.

الشهب: قطع من الصخر والحديد والنيكل تأتي
 من الفضاء إلى الأرض وتحترق في الغلاف الجوي.
 النيازك: قطع معدنية أو صخرية كبيرة الحجم تأتي
 من الفضاء باتجاه الأرض، ولا تحترق بالكامل بل
 يسقط معظمها أو جزء منها على الأرض.

المذنبات: أجرام تدور حول الشمس في مدارات
 بيضوية متغيرة، وأشهرها مذنب هالي الذي يظهر كل
 ٧٤ أو ٧٩ سنة، وآخر ظهور له كان عام ١٩٨٦م.



القمر

يُبعد عن الأرض أكثر من ٣٨٤ ألف كم، وهو
 تابع لها، ويتكون من العناصر التي تتكون منها
 الأرض نفسها ولكن بنسب مختلفة، وهو أول جرم
 سماوي نزل عليه الإنسان، وأول من نزل عليه نيل
 أرمسترونج في عام ١٩٦٩م.

الشهر النجمي والقمر: يقطع القمر دورة كاملة
 حول الأرض في ٢٧,٣ يومًا.

أوجه القمر (منازل القمر): هي المنازل التي
 يتخذها القمر أثناء دورانه حول الأرض، وهي
 الهلال، التربيع الأول، الأحدب، البدر، المحاق.

خسوف القمر: احتجاب ضوء القمر كله أو جزء منه
 لسقوط ظل الأرض عليه، عندما تقع بينه وبين الشمس.

كسوف الشمس: احتجاب ضوء الشمس كله أو
 جزء منه عن الأرض بسبب وقوع القمر بين الشمس
 والأرض مما يمنع أشعة الشمس أو جزءًا منها من
 الوصول إلى سطح الأرض أو إلى قسم منه.

- 17 (د) 18 (ب) 19 (د) 20 (ب) 21 (د) 22 (ب) 23 (د) 24 (ب)

17/2 ◀ تدور الكواكب حول نفسها دورة كاملة في مدة ..
 (ب) شهر
 (ج) أسبوع
 (د) سنة

18/2 ◀ قطع من الصخر والحديد والنيكل وتحترق في الغلاف الجوي للأرض ..
 (ب) الشهب
 (ج) الكويكبات
 (د) المجرات

19/2 ◀ قطع معدنية أو صخرية كبيرة الحجم تأتي من الفضاء باتجاه الأرض، ولا
 تحترق بالكامل بل يسقط معظمها أو جزء منها على الأرض ..
 (ب) الشهب
 (ج) النجوم
 (د) الكويكبات

20/2 ◀ أجرام تدور حول الشمس في مدارات بيضوية متغيرة ..
 (ب) النيازك
 (ج) النجوم
 (د) المذنبات

21/2 ◀ يبعد القمر عن الأرض أكثر من ..
 (ب) ٢٧٤ ألف كيلومتر
 (ج) ٣٤٥ ألف كيلومتر
 (د) ٣٨٤ ألف كيلومتر

22/2 ◀ أول إنسان هبط على سطح القمر هو عام ١٩٦٩م.
 (ب) نيل أرمسترونج
 (ج) شارلز كونراد
 (د) ديفيد سكوت
 (د) سلطان بن سلمان

23/2 ◀ احتجاب ضوء القمر كله أو جزء منه لسقوط ظل الأرض عليه، عندما
 تقع بينه وبين الشمس، يُسمى ..
 (ب) سطوع الشمس
 (ج) خسوف القمر
 (د) كسوف الشمس

24/2 ◀ احتجاب ضوء الشمس كله أو جزء منه عن الأرض بسبب وقوع القمر
 بين الشمس والأرض، يُسمى ..
 (ب) كسوف الشمس
 (ج) خسوف القمر
 (د) خسوف الشمس



كوكب الأرض

◀ واحدٌ من ثمانية كواكب تدور حول الشمس، وليس كروياً تام الاستدارة، بل هو منبعج (زيادة وانتفاخ في الأرض) عند خط الاستواء، ومفلطح (عدم تمام التقوس أو الاستدارة) عند القطبين.

◀ أبعاده: يتخذ شكلاً بيضويًا يشبه البيضة.

◀ الأفق: الجزء الذي يُظهر لنا أن السماء تلتقي مع الأرض.

◀ قوة الطرد المركزية: القوة الناشئة عن دوران الأرض حول نفسها وتؤدي إلى انتفاخ الكرة الأرضية عند خط الاستواء.

◀ قوة الجاذبية: لعظم حجم الأرض وكثافتها فهي شديدة الجذب للأشياء التي فوق سطحها أو بالقرب منها.



حركات الأرض

◀ أدلة دورانها ..

◀ لم يكن سهلاً على علماء الفلك تقديم أدلة على حركة الأرض؛ لدورانها في الفضاء مع غلافها الجوي.

◀ بعد خروج الإنسان من الغلاف الجوي رأى دوران الأرض رأي العين، وأصبح حقيقة لا نظرية.

◀ حركاتها ثلاث ..

◀ حركة حول محورها من الغرب إلى الشرق عكس عقارب الساعة مرة كل يوم، ويتج عنها تعاقب الليل والنهار.

◀ حركة حول الشمس من الغرب إلى الشرق عكس عقارب الساعة مرة كل سنة، ويتج عنها الفصول الأربعة.

◀ حركة مع المجموعة الشمسية حول مركز مجرة درب التبانة.

◀ الغلاف الجوي: غلاف يحيط بالكرة الأرضية من جميع جهاتها.

◀ محور الأرض القطبي: هو خط وهمي يمر بمركز الأرض وينتهي طرفه الشمالي بنقطة القطب الشمالي وينتهي طرفه الجنوبي بنقطة القطب الجنوبي.

25 26 27 28 29 30 31 32 33

⊕ ⊖ ⊕ ⊖ ⊕ ⊖ ⊕ ⊖ ⊕ ⊖

◀ الأرض ليست كروية تامة الاستدارة، بل هي ..

- Ⓐ مستوية ومسطحة
Ⓑ سداسية ومتعرجة
Ⓒ مفلطحة ومنبعجة
Ⓓ بيضوية وضوئية

◀ الجزء الذي يُظهر لنا أن السماء تلتقي مع الأرض ..

- Ⓐ قوة الطرد المركزية
Ⓑ فלطحه
Ⓒ انبعاج
Ⓓ الأفق

◀ القوة الناشئة عن دوران الأرض حول نفسها وتؤدي إلى انتفاخ الكرة الأرضية عند خط الاستواء ..

- Ⓐ الكوريولية
Ⓑ قوة الطرد المركزية
Ⓒ الجاذبية
Ⓓ القوى النووية

◀ قوة تجذب الأشياء فوق سطح الأرض أو بالقرب منها، تُسمى ..

- Ⓐ الجاذبية
Ⓑ الكوريولية
Ⓒ قوة الطرد المركزية
Ⓓ القوى النووية

◀ تقديم أدلة على حركة الأرض كان صعباً؛ لأنها تدور في الفضاء مع ..

- Ⓐ غلافها الصخري
Ⓑ غلافها المائي
Ⓒ غلافها الجوي
Ⓓ غلافها السطحي

◀ بعد خروج الإنسان من الغلاف الجوي رأى دوران الأرض، وأصبح ..

- Ⓐ نظرية ممكنة
Ⓑ حقيقة لا نظرية
Ⓒ مستحيلاً علمياً
Ⓓ درباً من الخيال

◀ حركة الأرض حول محورها من الغرب إلى الشرق مرة كل يوم، يتشج عنها ..

- Ⓐ تعاقب الليل والنهار
Ⓑ الفصول الأربعة
Ⓒ الملاحه المائية
Ⓓ اختلاف طبقات الأرض

◀ حركة الأرض حول الشمس من الغرب إلى الشرق مرة كل سنة يتشج عنها ..

- Ⓐ تعاقب الليل والنهار
Ⓑ الفصول الأربعة
Ⓒ تغيير المناخ
Ⓓ اختلاف في طبقات الأرض

◀ غلاف يُحيط بالكرة الأرضية من جميع جهاتها ..

- Ⓐ الغلاف المائي
Ⓑ الجاذبية الأرضية
Ⓒ الغلاف الجوي
Ⓓ الغلاف الصخري

34
2

أي التالي لا يُعد من نتائج حركات الأرض حول نفسها؟

- 1 انحراف الأجسام فوق سطحها 2 انبعاج الأرض وتقلطحها
3 انحراف الرياح والتيارات المائية 4 فصول السنة الأربعة

35
2

دوائر وهمية رُسمت على نموذج الكرة الأرضية والخرائط من الشرق إلى الغرب ..

- 1 دوائر الهندسة 2 دوائر العرض
3 دوائر هيكلية 4 دوائر رقمية

36
2

مسار له مركزان تتخذه الأرض أثناء دوراتها حول الشمس ..

- 1 المدار الإهليجي 2 مدار الجدي
3 مدار عشوائي 4 مدار السرطان

37
2

السنة التي يُضاف فيها يوم إلى شهر فبراير لتصبح 366 يوماً ..

- 1 البسيطة 2 القصيرة
3 الكبيسة 4 المحورية

38
2

نقطة فيها الأرض أقرب ما تكون إلى الشمس ..

- 1 الرأس 2 الذيل
3 التماثل 4 الانحراف

39
2

نقطة فيها الأرض أبعد ما تكون عن الشمس ..

- 1 الرأس 2 الذيل
3 الانحراف 4 التماثل

40
2

أي التالي لا يُعد من أسباب حدوث الفصول المناخية؟

- 1 ميل محور الأرض 2 دوران الأرض حول الشمس
3 ثبات المحور في اتجاه واحد 4 حركة الأرض حول محورها

41
2

تتعامل أشعة الشمس على في يوم ٢٢ ديسمبر في فصل الشتاء.

- 1 مدار الجدي 2 مدار السرطان
3 خط الاستواء 4 الدائرة القطبية الشمالية

42
2

تتعامل أشعة الشمس على في يوم ٢١ يونيو في فصل الصيف.

- 1 مدار السرطان 2 مدار الجدي
3 خط الاستواء 4 القطب الشمالي



نتائج حركة الأرض حول محورها

منها ..

- 1 تعاقب الليل والنهار على سطح الأرض.
2 انحراف الرياح والتيارات المائية.
3 انحراف الأجسام المطلقة جزًا فوق سطح الأرض.
4 انبعاج الأرض وتقلطحها.
5 دوائر العرض: دوائر وهمية رُسمت على نموذج الكرة الأرضية والخرائط من الشرق إلى الغرب.



حركة الأرض حول الشمس

- 1 في الوقت الذي تدور الأرض فيه حول محورها مرة كل يوم، تدور أيضًا حول الشمس في سنة كاملة (36٥,٢٥ يومًا) من الغرب إلى الشرق، في مدار يُضوِّي بميل محور ثابت قدره ٢٣,٥ درجة.
2 مدار يُضوِّي (المدار الإهليجي): مسار له مركزان تتخذه الأرض أثناء دوراتها حول الشمس.
3 السنة الكبيسة: السنة التي يضاف فيها يوم إلى شهر فبراير وذلك كل أربع سنوات لتصبح 3٦٦ يومًا.



مركزا مدار الأرض

- 1 لكون فلك الأرض أو مدارها أقرب إلى الشكل البيضاوي فإن له مركزين تحتل الشمس أحدهما.
2 نقطة الرأس: فيها الأرض أقرب ما تكون إلى الشمس.
3 نقطة الذيل: فيها الأرض أبعد ما تكون عن الشمس.
4 أسباب حدوث الفصول المناخية:
5 دوران الأرض حول الشمس.
6 ميل محور الأرض.
7 ثبات ميل المحور في اتجاه واحد.



الفصول المناخية الأربعة

- 1 الشتاء: وفيه تتعامل أشعة الشمس على مدار الجدي في ٢٢ ديسمبر.
2 الصيف: وفيه تتعامل أشعة الشمس على مدار السرطان في ٢١ يونيو.
3 الربيع والخريف: تتعامل الشمس على خط الاستواء.

42 41 40 39 38 37 36 35 34

1 2 3 4 5 6 7 8 9 10



طبقات الكرة الأرضية



تنقسم طبقات الكرة الأرضية إلى ..

النواة ، غطاء النواة (الوشاح) ، القشرة الأرضية

النواة: محيط معدني كثيف يتألف من معادن ثقيلة

يبلغ نصف قطرها حوالي ٣٥٠٠ كم، وتنقسم إلى ..

نطاق داخلي صلب يُسمى النواة الداخلية،

ويبلغ نصف قطره ١٢١٦ كم.

نطاق خارجي رخو يُعرف بالنواة الخارجية،

ويبلغ نصف قطره ٢٢٧٠ كم.

غطاء النواة (الوشاح): يبلغ سمكه نحو ٢٨٨٥ كم،

يتكون من صخور قاعدية عظيمة الكثافة وشديدة

الصلابة.

القشرة الأرضية: غطاء صخري خارجي يحيط

بالكرة الأرضية، ويتألف من طبقات سميكة من

الصخور، وهو متغير السمك، يكون أكثر عمقاً تحت

الجبال، وأقل عمقاً في أعماق البحار والمحيطات.

صخور القشرة الأرضية: يتكوّن الغلاف الصخري

للقارّات من الصخور النارية، والرسوبية، والمتحولة.



حركة قشرة الأرض



نظرية الصفائح التكتونية ..

تفسّر هذه النظرية حركة قشرة الأرض، وتنقسم

القشرة إلى أقسام أو قطع كبيرة، تُسمى (صفائح).

تتحرك الصفائح التكتونية في اتجاهات مختلفة،

ويتولّد منها - بإذن الله - الزلازل والبراكين،

وتتسبب في بناء الجبال الالتوائية.

حدود التباعد: مناطق تتفرق عندها الصفائح تاركة

فراغاً بينها، تتألف منها قيعان المحيطات.

حدود التلاقي: مناطق تلتقي عندها الصفائح

واحتمالات التلاقي إما التقاء صفيحة محيطية

بصفيحة قارية، وإما التقاء صفيحة قارية بأخرى قارية.

حدود التصدع: يؤدي حدوث التباعد والتلاقي إلى

تهشيم المناطق المجاورة لها، وينشأ عن ذلك صدوع

عرضية متفرعة من الشقوق.

43 44 45 46 47 48 49 50

⊖ ⊕ ⊖ ⊕ ⊖ ⊕ ⊖ ⊕

أي التالي ليس من طبقات الكرة الأرضية الداخلية؟

Ⓐ النواة

Ⓐ القشرة الأرضية

Ⓒ الغلاف الجوي

Ⓒ الوشاح

غطاء يتكون من صخور قاعدية عظيمة الكثافة وشديدة الصلابة ..

Ⓐ القشرة

Ⓐ الوشاح

Ⓒ الصفائح

Ⓒ النواة

غطاء صخري يحيط بالأرض أكثر عمقاً تحت الجبال، وأقل عمقاً في البحار ..

Ⓐ النواة

Ⓐ النواة

Ⓒ الصفائح

Ⓒ الغلاف الجوي

يتكوّن الغلاف الصخري للقارات من صخور ورسوبية ومتحولة.

Ⓐ رملية

Ⓐ نارية

Ⓒ طينية

Ⓒ قشرية

نظرية تفسّر حركة قشرة الأرض حيث تنقسم القشرة إلى قطع كبيرة ..

Ⓐ الأرض المقعرة

Ⓐ الأرض المقعرة

Ⓒ الانجراف القاري

Ⓒ الصفائح التكتونية

تتحرك الصفائح التكتونية في اتجاهات مختلفة وهذه الحركة تولّد ..

Ⓐ المد والجزر

Ⓐ الزلازل والبراكين

Ⓒ الغلاف الجوي

Ⓒ التصحر

مناطق تتفرق عندها الصفائح تاركة فراغاً بينها، وتتألف قيعان المحيطات

منها، تُسمى حدود ..

Ⓐ التصدع

Ⓐ التلاقي

Ⓒ التقارب

Ⓒ التباعد

يؤدي حدوث التباعد والتلاقي إلى تهشيم المناطق المجاورة لها، وينشأ عن

ذلك صدوع عرضية متفرعة من الشقوق، تُسمى ..

Ⓐ حدود التلاقي

Ⓐ حدود التلاقي

Ⓒ حدود متحولة

Ⓒ حدود التباعد

51/2 عمليات تشكيل سطح الأرض الباطنية تنقسم إلى بطيئة و ..

- أ) تباعدية
ب) حُدودية
ج) تَصَدَّعية
د) فُجَّائية

52/2 من العمليات الباطنية البطيئة التي تؤثر في تشكيل سطح الأرض ..

- أ) الجليد المتحرك
ب) الزلازل والبراكين
ج) المد والجزر
د) الصدوع والانكسارات

53/2 تكوّنت جبال الألب في أوروبا وأطلس في إفريقيا بفعل ..

- أ) الالتواءات
ب) التجوية
ج) الانكسارات
د) الصفائح

54/2 عمليات باطنية فُجَّائية تؤثر على شكل سطح الأرض تشمل ..

- أ) الأمطار
ب) الزلازل والبراكين
ج) المُرْتَفَعَات
د) الانكسارات

55/2 تنقسم عمليات تشكيل سطح الأرض الخارجية إلى عملية التجوية، وعملية ..

- أ) التعرية
ب) التوائية
ج) انكسارية
د) بطيئة

56/2 عملية تفكُّك الصخر دون تغيُّر في تركيبه المعدني ..

- أ) الالتواءات
ب) التجوية الكيميائية
ج) الانكسارات
د) التجوية الميكانيكية

57/2 عملية تفتَّت فيها الصخور وتناكَل لتفاعلها مع عناصر الغلاف الجوي ..

- أ) الالتواءات
ب) التجوية الكيميائية
ج) التجوية الميكانيكية
د) الانكسارات

58/2 أكثر عوامل النحت أثرًا في تشكيل سطح الأرض ..

- أ) الرياح
ب) المياه الجارية
ج) الغلاف الصخري
د) الغازات



عمليات تشكيل سطح الأرض الباطنية



تُسمَّى الباطنية أو التكتونية؛ لأن مصدرها باطن الأرض، وتنقسم إلى ..

باطنية بطيئة: كالتواءات التي تكوّنت منها جبال الأنديز في الأمريكتين، والألب في أوروبا، والهيمالايا في آسيا، وأطلس في إفريقيا، والصدوع والانكسارات في الصخور الصلبة.

باطنية فُجَّائية: تشمل الزلازل والبراكين، وتُرصَد الزلازل بجهاز يُسمَّى «السيسموجراف»، وتُقاس شدتها بمقياس ريختر.



عمليات تشكيل سطح الأرض الخارجية



تنقسم العمليات الخارجية إلى ..

عملية التجوية: هي تفكيك الصخر وتفتيته ميكانيكيًا أو تحلله كيميائيًا، وهناك نوعان من التجوية: ميكانيكية حيث يتفكك الصخر دون تغيُّر في تركيبه المعدني، وكيميائية حيث تفتت الصخور وتتناكَل لتفاعلها مع عناصر الغلاف الجوي، مثل: (الأكسجين، ثاني أكسيد الكربون).

عملية التعرية: المياه الجارية (أكثر عوامل النحت أثرًا في تشكيل سطح الأرض) والرياح والأمواج والجليد المتحرك، كل ذلك يعمل على نحت الصخور ونقلها إلى أماكن أخرى.

- 58 57 56 55 54 53 52 51
ب د ا ب ا د ا



التَّصَحْر وزحف الرمال



المقصود به: غزو الصحراء للمناطق غير الصحراوية أو تحولها إلى ما يشبه الصحراء ..

ينشأ عن: التغيرات البيئية الطبيعية والأنشطة البشرية.



التضاريس الرئيسة لسطح الأرض



اليابس: تبلغ مساحة اليابس ٢٩٪ تقريبًا من مساحة سطح الأرض، وتشغل المسطحات المائية ٧١٪ تقريبًا.

أقسامه: ينقسم إلى سبع كتل كبرى هي القارات (آسيا، إفريقيا، أمريكا الشمالية، أمريكا الجنوبية، القارة القطبية الجنوبية، أوروبا، أستراليا).

مظاهر السطح: يتألف من مجموعة من التضاريس ..

الجبال: يُقصد بها الأراضي العالية، كالجبال الالتوائية، والانكسارية، والبركانية.

الهضاب والنجود: أجزاء واسعة مرتفعة عن سطح البحر كالهضاب الالتوائية، والانكسارية، والبركانية.

السهول: أراضٍ مستوية ليس فيها مرتفعات.

الأودية والأنهار: أرض منخفضة فإذا كانت المياه تجري فيها طوال العام سُميت أنهارًا، وإن جفَّت بعض أوقات السنة سُميت أودية.



الغلاف المائي

المياه على الأرض نوعان: عذبة ونسبتها ٢,٥٪ (٦٩٪) أنهار جليدية، ٣٠٪ مياه جوفية، ١٪ بحيرات وأنهار، مالحة ونسبتها ٩٧,٥٪ وتشمل المحيطات والبحار.

المحيطات: الغلاف المائي المالح المحيط بالقارات ويتكون من خمسة محيطات رئيسة (أكبرها مساحة المحيط الهادئ، وأصغرها المحيط المتجمد الشمالي).

البحار: امتدادات للمحيطات داخل اليابس، وهي ..

داخلية: تقع داخل اليابس ولا تتصل بالمحيطات، مثل: (البحر الميت، بحر قزوين، بحر أورال).

متوسطة: تمتد داخل اليابس، وتتصل بالمحيطات عبر مضائق صغيرة كالبحر الأحمر، والبحر المتوسط.

هامشية: تتصل بالمحيطات عن طريق فتحات واسعة كبحر الشمال، وبحر العرب، والبحر الكاريبي.

59 60 61 62 63 64 65 66

أ ب ج د هـ و ز ح

غزو الصحراء للمناطق غير الصحراوية أو تحولها إلى ما يشبه الصحراء ..

أ) الجزر

ب) الرعي الجائر

ج) التصحر

د) الرعي التقليدي

تبلغ نسبة اليابس بينما تشغل المسطحات المائية

من الأرض.

أ) ٣٩٪ ، ٦١٪

ب) ٢٩٪ ، ٧١٪

ج) ٢١٪ ، ٧٩٪

عدد قارات العالم ..

أ) ست

ب) سبع

ج) خمس

د) تسع

الأراضي المنخفضة التي تجري فيها المياه طوال العام تُسمى ..

أ) أودية

ب) سهولاً

ج) هضاباً

د) أنهاراً

تبلغ نسبة المياه العذبة بينما تبلغ نسبة المياه المالحة

على سطح الأرض.

أ) ٣٩٪ ، ٦١٪

ب) ٢,٥٪ ، ٩٧,٥٪

ج) ٢١٪ ، ٦٩٪

د) ٧١٪ ، ٢٩٪

نسبة الأنهار الجليدية من المياه العذبة ..

أ) ٣٠٪

ب) ٢٩٪

ج) ٦٩٪

د) ١٪

نسبة المياه الجوفية من المياه العذبة ..

أ) ١٪

ب) ٢٩٪

ج) ٣٠٪

د) ٦٩٪

أي التالي لا يُعد من البحار الداخلية؟

ب) البحر الميت

أ) بحر قزوين

د) البحر الأسود

ج) بحر أورال



الأمواج والمد والجزر

الأمواج: حركة الماء الصاعد والهابط بفعل هبوب الرياح، وتتأثر الأمواج بـ ..

- ◀ احتكاك الرياح بسطح الماء، وبحركة المد والجزر.
- ◀ الزلازل والبراكين التي تحدث في أعماق البحار، فينتج عنها أمواج عملاقة مدمرة تُسمى تسونامي.
- ◀ المد والجزر: ارتفاع منسوب المياه وانخفاضه، وتنشأ بسبب جذب القمر والشمس للمياه، ويُعرف أقصى ارتفاع يبلغه سطح البحر باسم المد، وأدنى انخفاض باسم الجزر.
- ◀ من فوائد ظاهرة المد والجزر ..
- ◀ تجديد مياه الموانئ، إزالة الرواسب من الأنهار.
- ◀ يُمكن استعمالها في توليد الكهرباء.

- ◀ صيد الأسماك، ومساعدة السفن داخل الموانئ.
- ◀ تلوث المياه يحدث نتيجة إلقاء النفايات وفضلات الصرف الصحي وبقايا الأسمدة والكيماويات، وتتصدر المملكة العربية السعودية دول العالم في تحلية المياه لعدم وجود ما يكفيها من الماء العذب.



الغلاف الجوي

المقصود به: غطاء سميك يحيط بالأرض سُمكه ١٠,٠٠٠ كم تقريباً، يحتوي على خليط من الغازات.

مكوناته: ٧٨٪ نيتروجين، ٢١٪ أكسجين، بخار الماء وغازات أخرى ١٪.

طبقاته ..

◀ الغلاف السفلي (التروبوسفير): الطبقة الأقرب إلى سطح الأرض وتنشأ فيها السحب والأمطار.

◀ الغلاف العلوي (الستراتوسفير): الطبقة التي يوجد فيها غاز الأوزون، وتقل فيها الرطوبة.

◀ الغلاف المتوسط (الميزوسفير): طبقة تحمي الأرض فتحترق فيها بقايا الشهب والنيازك الساقطة من الفضاء.

◀ الغلاف الحراري (الثيرموسفير): الطبقة العليا من الغلاف الجوي، ترتفع فيها درجات الحرارة.

◀ الغلاف الخارجي (الإكسوسفير): الطبقة الأخيرة وهي نحيلة يندمج الغلاف الجوي بعدها.

75	74	73	72	71	70	69	68	67
Ⓐ	Ⓐ	Ⓓ	Ⓐ	Ⓐ	Ⓓ	Ⓓ	Ⓐ	Ⓓ

67/2 ◀ حركة الماء الصاعد والهابط بسبب اصطدام الرياح بسطح الماء ..

- Ⓐ المد
- Ⓑ الجزر
- Ⓒ الأمواج
- Ⓓ تسونامي

68/2 ◀ موجات بحرية مدمرة تتولد من الهزات الأرضية في قاع المحيطات ..

- Ⓐ تسونامي
- Ⓑ التيارات
- Ⓒ المد والجزر
- Ⓓ الأمواج السريعة

69/2 ◀ ارتفاع منسوب المياه وانخفاضه بسبب جذب الشمس والقمر للمياه ..

- Ⓐ الأمواج
- Ⓑ العواصف البحرية
- Ⓒ نسيم البر والبحر
- Ⓓ المد والجزر

70/2 ◀ تُعد المملكة العربية السعودية من دول العالم في تحلية المياه.

- Ⓐ رابع
- Ⓑ ثالث
- Ⓒ ثاني
- Ⓓ أولى

71/2 ◀ غطاء سميك يحيط بالأرض سُمكه ١٠,٠٠٠ كم تقريباً، يحتوي على خليط من الغازات ..

- Ⓐ الغلاف الجوي
- Ⓑ الغلاف الحيوي
- Ⓒ القشرة الأرضية
- Ⓓ الغلاف المائي

72/2 ◀ أعلى الغازات نسبة في الغلاف الجوي ..

- Ⓐ النيتروجين
- Ⓑ ثاني أكسيد الكربون
- Ⓒ بخار الماء
- Ⓓ الأكسجين

73/2 ◀ طبقة قريبة من سطح الأرض تنشأ فيها السحب والأمطار ..

- Ⓐ الستراتوسفير
- Ⓑ الثيرموسفير
- Ⓒ الميزوسفير
- Ⓓ التروبوسفير

74/2 ◀ طبقة تحمي الأرض من بقايا الأجرام السماوية الساقطة من الفضاء ..

- Ⓐ الميزوسفير
- Ⓑ الثيرموسفير
- Ⓒ الستراتوسفير
- Ⓓ التروبوسفير

75/2 ◀ أي التالي ليس من طبقات الغلاف الجوي؟

- Ⓐ القشرة الأرضية
- Ⓑ الميزوسفير
- Ⓒ التروبوسفير
- Ⓓ الثيرموسفير



الحرارة والضغط الجوي

- الحرارة: مصدرها الشمس وتتأثر بزاوية سقوط أشعة الشمس، وطول النهار، وصفاء الجو.
- الضغط الجوي: وزن عمود الهواء الواقع على أي منطقة من سطح الأرض إلى نهاية الغلاف الجوي.
- يتناسب الضغط الجوي عكسيًا مع درجة الحرارة.



الرياح

- المقصود بها: الهواء في حالة الحركة، إذ يؤدي فرق الضغط الجوي إلى إعطاء الهواء قوة دافعة إلى الحركة، وتُقاس سرعة الرياح بجهاز «الأنيمومتر»، وتنقسم إلى .. دائمة (تجارية، عكسية، قطبية)، موسمية (صيفية، شتوية) محلية (السموم، الخماسين)، يومية (نسيم البر والبحر)



الرطوبة النسبية والأمطار

- الرطوبة: الماء في حالته الغازية في الغلاف الجوي.
- الرطوبة النسبية: النسبة بين مقدار بخار الماء الموجود في الهواء وبين مقداره اللازم لتشبع الهواء، والعلاقة بين درجة حرارة الهواء ورطوبته النسبية عكسية فعند ارتفاع درجة حرارة الهواء تنخفض الرطوبة النسبية؛ لأن الهواء أصبح قادرًا على استيعاب كمية أكبر من بخار الماء.
- مقياس الرطوبة: السيكرومتر، والهيجروجراف.
- التكثف: يحدث عندما يزداد بخار الماء في الجو وتنخفض درجة حرارة الهواء، ومن مظاهره: الأمطار، الضباب، الندى، الصقيع، الثلج، البرد.
- الأمطار: أهم مظاهر التكثف، وأنواعها: أمطار تصاعدية، أمطار تضاريسية، أمطار الجهات (الأعاصير).
- أبرز آثار تلوث الغلاف الجوي: التساقط الحمضي، والضباب الدخاني الكيماوي الضوئي.



الغلاف الحيوي

- النظام البيئي: مركب متوازن من المواد الحية وغير الحية، يوجد في وحدة مساحية معينة، ويعتمد كل عنصر من عناصره على العناصر الأخرى ويتداخل معها.
- مكونات الغلاف الحيوي: كائنات حية، مثل: (الإنسان والحيوان)، وعناصر غير حية ك (الغلاف المائي والجوي).

83 82 81 80 79 78 77 76

وزن عمود الهواء الواقع على أي منطقة من الأرض إلى نهاية الغلاف الجوي ..

- ① الرياح
② الضغط الجوي
③ الحرارة
④ الرطوبة والتكثف

ما العلاقة بين الضغط الجوي ودرجة الحرارة؟

- ① كلما زادت درجة حرارة الجو زاد الضغط الجوي
② كلما زادت درجة حرارة الجو قل الضغط الجوي
③ كلما قلت درجة حرارة الجو قل الضغط الجوي
④ درجة الحرارة والضغط الجوي دائمًا متساويان

العنصر المناخي المؤثر في حركة الرياح ..

- ① الأمطار
② الضغط الجوي
③ التكثف
④ الرطوبة

تُعتبر رياح السموم من الرياح ..

- ① الموسمية
② الدائمة
③ المحلية
④ اليومية

عند ارتفاع درجة حرارة الهواء تنخفض الرطوبة النسبية؛ لأن الهواء أصبح

قادرًا على استيعاب من بخار الماء.

- ① كمية أكبر
② كمية أقل
③ نفس الكمية
④ نصف الكمية

يحدث عندما يزداد بخار الماء في الجو وتنخفض درجة حرارة الهواء ..

- ① التبخر
② التكثف
③ تلوث الغلاف الجوي
④ الإعصار

أي التالي يُعد من أهم مظاهر التكثف؟

- ① الأمطار
② الاحتباس
③ الرطوبة
④ الأعاصير

مُركب متوازن من المواد الحية وغير الحية، ويوجد في وحدة مساحية

معينة ..

- ① الغلاف الجوي
② الغلاف المائي
③ النظام البيئي
④ الغلاف الصخري



العوامل المؤثرة في نمو النبات الطبيعي

المناخ: تأثيره كبير لكن أكثر العناصر تأثيرًا في التوزيع الجغرافي للنباتات هي الحرارة والضوء والماء (المطر).

التربة: الوسط الذي ينمو فيه النبات، ومن أنواعها .. الفيزية، الرملية

التضاريس: تتأثر النباتات بمقدار الارتفاع عن مستوى سطح البحر.



الإقليم الاستوائي

موقعه: يمتد على جانبي خط الاستواء ما بين درجتي عرض 5° شمالًا وجنوبًا.

خصائصه المناخية: يتميز بارتفاع درجة الحرارة على مدار السنة، والأمطار الغزيرة.

خصائصه النباتية: تنمو فيه الغابات الاستوائية ذات الأشجار المرتفعة (الماهوجني، الأبنوس، الكينا).

الحياة الحيوانية: تمتاز بحيواناته بصغر حجمها، مثل: (الزواحف، القردة، النمر، الطيور، والثدييات).



الأقاليم المدارية

موقعها: تمتد إلى نصف الكرة الشمالي والجنوبي بين درجتي عرض 5° و 23,5° شمالًا وجنوبًا، وتنقسم إلى ..

الإقليم المداري: يتميز بارتفاع درجة الحرارة، وغو حشائش السافانا، والحيوانات العشبية

والمفترسة، مثل: (الظباء، الزراف، الفيلة، الجاموس البري، الأسود، الفهود، النمر).

الإقليم الموسمي: يتميز بارتفاع درجة الحرارة، وسقوط أمطار موسمية صيفًا.



الأقاليم الصحراوية

تنقسم الصحاري إلى: حارة، معتدلة، باردة.

الحارة بين درجتي عرض 18° و 30° شمالًا وجنوبًا، وتنتشر فيها بعض الزواحف، مثل: السحالي والضب.

المعتدلة تمتد في الأجزاء الداخلية للقارات. الباردة تكون في شمال آسيا وأوروبا وأمريكا الشمالية.

84 85 86 87 88 89 90 91 92

1 2 3 4 5 6 7 8 9 10

84/2 أكثر العوامل المناخية تأثيرًا في النمو الطبيعي للنباتات ..

- أ) الحرارة، الضوء، المطر
ب) الحرارة، المطر، الافتراس
ج) التكافل، الترمم، المطر
د) التربة، الهجرة، الجبال

85/2 الوسط الذي ينمو فيه النبات ..

- أ) المناخ
ب) التربة
ج) المطر
د) الإنسان

86/2 أمطار الإقليم الاستوائي ..

- أ) قليلة
ب) غزيرة
ج) نادرة
د) متوسطة

87/2 تنمو أشجار الماهوجني والأبنوس في الإقليم ..

- أ) الصحراوي
ب) المداري
ج) الموسمي
د) الاستوائي

88/2 من الحيوانات المنتشرة في الغابات الاستوائية ..

- أ) الرنة والفظ
ب) النمر والدب القطبي
ج) الزراف والذئب القطبي
د) الزواحف والقردة

89/2 أكثر النباتات انتشارًا في الأقاليم المدارية ..

- أ) الصبار
ب) الشجيرات الهشة
ج) حشائش السافانا
د) شجرة الفيل

90/2 تسقط الأمطار في الإقليم الموسمي ..

- أ) شتاء
ب) صيفًا
ج) ربيعًا
د) خريفًا

91/2 الصحاري الحارة بين درجتي عرض و شمالًا وجنوبًا.

- أ) 18° و 30°
ب) 5° و 23,5°
ج) 20° و 40°
د) 18° و 20°

92/2 تنتشر في الأقاليم الصحراوية الحارة.

- أ) الثدييات
ب) البرمائيات
ج) الزواحف
د) الطيور



المحافظة على البيئة

- ◀ جهود المملكة العربية السعودية فيها: شاركت في الحملة العالمية لإنقاذ المها العربي.
- ◀ المحميات الملكية: أصدر الملك سلمان بن عبد العزيز أمراً ملكياً للمحافظة على البيئة الطبيعية والنباتية، والحياة الفطرية، والمحميات، مثل: محمية الأمير محمد بن سلمان التي تقع بين نيوم ومنطقة العلا.



السكان

- ◀ البيانات السكانية تنقسم إلى مجموعتين ..
- ◀ مصادر بيانات ثابتة: تدرس توزيع السكان وخصائصهم، كالنوع والعمر، والحالة الزوجية، والنشاط الاقتصادي، وغيرها في فترة زمنية معينة.
- ◀ مصادر بيانات غير ثابتة: تهتم بالتغيرات التي تطرأ على السكان، مثل: المواليد، والوفيات، والزواج، والطلاق، والهجرة.
- ◀ التعداد السكاني: العملية الكلية لجمع البيانات المتعلقة بالسكان في زمن معين وتجهيزها ونشرها.



العوامل الطبيعية المؤثرة في توزيع السكان

- ◀ المناخ: منه ما هو طارد للسكان، مثل: القطبية وشبه القطبية، والصحاري، وآخر مزدحم بالسكان، مثل: المناخ الصيني والمداري، والبحر المتوسط، وغرب أوروبا ووسطها.
- ◀ التضاريس: يزدحم السكان في المناطق السهلية، مثل: وادي النيل، ولا يُفضل الإنسان سُكْنِي الجبال.
- ◀ الموارد المعدنية: تجذب الصناعة، ثم تجذب السكان.



العوامل البشرية المؤثرة في توزيع السكان

- ◀ المواليد والوفيات: تختلف نسبتُهما بين الدول.
- ◀ الهجرة: ازدياد في السكان يؤثر في الدولة ولا يؤثر في العالم، وتنقسم إلى: هجرة داخلية، وخارجية.
- ◀ الحرفة: يرتبط توزيع السكان بالحرفة.
- ◀ المواصلات: أدى إنشاء خط أنابيب التابلاين إلى إنشاء مدن في المملكة العربية السعودية، مثل: عرعر.
- ◀ الحروب والمشكلات السياسية: لا شك أن الحروب أثرت في توزيع السكان، وذلك من خلال تهجيرهم.

- 93 94 95 96 97 98 99 100 101
- ⊖ ⊕ ⊖ ⊕ ⊖ ⊕ ⊖ ⊕ ⊖

شاركت المملكة العربية السعودية في الحملة العالمية لإنقاذ ..

- Ⓐ المها العربي
- Ⓑ النمر
- Ⓒ الأسود
- Ⓓ الأفيال

صاحب محمية الحيوانات الملكية التي تقع بين نيوم ومنطقة العلا ..

- Ⓐ الأمير محمد بن سلمان
- Ⓑ الملك سلمان بن عبد العزيز
- Ⓒ الملك عبد العزيز
- Ⓓ الملك سعود بن عبد العزيز

أيّ التالي يُعد من مصادر البيانات السكانية الثابتة التي تهتم بدراسة توزيع السكان وخصائصهم؟

- Ⓐ النوع والعمر
- Ⓑ الزواج والطلاق
- Ⓒ المواليد والوفيات
- Ⓓ الهجرة والانتقال

المواليد والوفيات والزواج والطلاق والهجرة من مصادر البيانات ..

- Ⓐ الثابتة
- Ⓑ السياسية
- Ⓒ العشوائية
- Ⓓ غير الثابتة

أيّ التالي لا يُعد من أنواع المناخ الجاذبة للسكان؟

- Ⓐ الصيني
- Ⓑ غرب أوروبا ووسطها
- Ⓒ البحر المتوسط
- Ⓓ حوض الأمازون

يضم مناخ الدول ذات الكثافة العالية ..

- Ⓐ مناخ إفريقيا
- Ⓑ المناخ الصيني
- Ⓒ مناخ أمريكا الجنوبية
- Ⓓ مناخ حوض الأمازون

من الأماكن التي يزدحم السكان فيها ..

- Ⓐ جبال الهيمالايا
- Ⓑ وادي النيل
- Ⓒ هضبة التبت
- Ⓓ سهول الصحاري

ازدياد في السكان يؤثر في الدولة ولا يؤثر في العالم ..

- Ⓐ الهجرة
- Ⓑ الوفيات
- Ⓒ الحرفة
- Ⓓ المواصلات

أدى إنشاء خط أنابيب التابلاين في المملكة العربية السعودية لإنشاء مدينة ..

- Ⓐ تبوك
- Ⓑ نجد
- Ⓒ عرعر
- Ⓓ المدينة



الكثافة السكانية

المقصود بها: نسبة السكان إلى المساحة.

مقدار تباينها من إقليم لآخر كالتالي ..

إقليم كثافته شديدة الارتفاع: تزيد فيه عن ١٠٠ نسمة/كم^٢، كبنغلادش.

إقليم كثافته مرتفعة: تتراوح فيه ما بين ٥٠ - ١٠٠ نسمة/كم^٢، كالبرتغال.

إقليم كثافته متوسطة: تتراوح فيه ما بين ٢٥ - ٥٠ نسمة/كم^٢، كمصر.

إقليم الكثافة المنخفضة: تتراوح الكثافة فيه ما بين ١٠ - ٢٥ نسمة/كم^٢، كالمملكة العربية السعودية.

إقليم الكثافة شديدة الانخفاض: تقل الكثافة فيه عن ١٠ نسمة/كم^٢، كأستراليا.



النمو السكاني

المقصود به: الزيادة السكانية التي تطرأ على عدد السكان، ويرجع التزايد إلى عاملين ..

زيادة طبيعية: فسكان العالم يزيدون بمقدار الفرق بين المواليد والوفيات.

زيادة غير طبيعية: وهذه زيادة تحصل بسبب هجرة السكان إلى دولة من الدول.

من أهم العوامل المؤثرة في المواليد: العامل الديني، الاجتماعي، الثقافي، الاقتصادي، السياسي.

العوامل المؤثرة في الوفيات: تحدث الوفاة بتقدير الله تعالى لعدد من الأسباب، ومنها: الأمراض، المجاعات، الحروب، حوادث السيارات، الكوارث الطبيعية.



الزيادة السكانية

المقصود بها: حاصل جمع الزيادة الطبيعية وغير الطبيعية مقسومًا على عدد السكان لكل ١٠٠٠ نسمة.

المهرم السكاني: رسم بياني يوضح توزيع السكان حسب العمر والنوع.

التركيب النوعي: تصنيف السكان إلى ذكور وإناث.

التركيب العمري: تصنيف السكان حسب فئات العمر.

109 108 107 106 105 104 103 102
ج ا د د ب د د ا

102/2 يُقصد بها نسبة السكان إلى المساحة ..

أ) الكثافة السكانية

ب) معدل الوفيات

ج) الزيادة الطبيعية

د) العمران الحضاري



103/2 أي التالي يُعد من البلدان ذات الكثافة السكانية شديدة الارتفاع؟

أ) البرتغال

ب) مصر

ج) المملكة العربية السعودية

د) بنغلادش



104/2 أي التالي يُعد من الأقاليم ذات الكثافة السكانية المرتفعة؟

أ) مصر

ب) أستراليا

ج) السعودية

د) البرتغال



105/2 الزيادة السكانية التي تطرأ على عدد السكان ..

أ) الكثافة البيئية

ب) النمو السكاني

ج) الاكتظاظ السكاني

د) عجز الموازنة



106/2 أي التالي يُعد من العوامل المؤثرة في الوفيات؟

أ) العامل الديني

ب) العامل الثقافي والسياسي

ج) العامل الاجتماعي والاقتصادي

د) الأمراض والمجاعات وحوادث السيارات



107/2 حاصل جمع الزيادة الطبيعية وغير الطبيعية مقسومًا على عدد السكان

لكل ١٠٠٠ نسمة ..

أ) الكثافة البيئية

ب) المواليد والوفيات

ج) النمو النسبي

د) الزيادة السكانية



108/2 رسم بياني يوضح توزيع السكان حسب العمر والنوع ..

أ) الهرم السكاني

ب) النمو السكاني

ج) التركيب النوعي

د) التركيب العمري



109/2 تصنيف السكان حسب فئات العمر ..

أ) الاكتظاظ السكاني

ب) التركيب النوعي

ج) التركيب العمري

د) الهرم السكاني





أنواع العمران

- العمران الريفي: تجتمع بشري يقل سكانه عن ٥٠٠٠ نسمة، ويعمل غالبيتهم بالزراعة والرعي.
- العمران الحضري: تجتمع سكاني كبير يتميز بمظهره العمراني، ويعمل سكانه بالتجارة والصناعة والخدمات المختلفة.
- الاستيطان: إعمار الإنسان بقعة من الأرض.



العمران الريفي

- خصائصه: صغر الحجم، قوة العلاقات الاجتماعية، شيوع العادات والتقاليد، انخفاض مستوى المعيشة.
- أشكاله ..

- مؤقت: ينشأ في المناطق التي يمارس فيها الصيادون والرعاة والمزارعون البدائيون حرفتهم.
- دائم: يعمل معظم أهله بالزراعة، وينقسم إلى: مبعثر حيث يبني المزارع بيته بجوار مزرعته، متكث حيث يعيش السكان في منازل متجاورة.



العمران الحضري

- خصائصه: كبر الحجم، ضعف التجانس بين أفرادها، ارتفاع مستوى المعيشة، ضعف العلاقات الاجتماعية، عدم التوازن الديموغرافي.
- مشكلاته: الازدحام المروري، نقص المياه، التخلص من النفايات، التلوث، الضجيج.



وظائف المدن

- تنقسم على أساس الوظيفة إلى أنواع من أهمها ..
- مدن دينية: مثل: مكة المكرمة، المدينة، القدس.
- مدن الإدارة والحكم: مثل: مراكز المحافظات.
- مدن ثقافية: مدن الجامعات مثل: جامعة أكسفورد في بريطانيا.
- مدن تجارية: مثل: نيويورك، لندن، وطوكيو، ودبي.
- مدن صناعية: مثل: ديترويت، والجيل، وينبج.
- مدن عسكرية: تظهر في مناطق الحدود.

117 116 115 114 113 112 111 110

تجمع بشري عدد سكانه قليل، ويعمل أغلبهم في الزراعة والرعي ..

- أ) العمران الريفي
- ب) العمران الحضري
- ج) النمو السكاني
- د) الكثافة السكانية

تجمع سكاني كبير يتميز بمظهره العمراني، ويعمل سكانه بالتجارة

والصناعة والخدمات المختلفة ..

- أ) العمران الريفي
- ب) العمران الحضري
- ج) العمران المؤقت
- د) العمران المبعثر

إعمار الإنسان بقعة من الأرض ..

- أ) الاغتراب
- ب) الاستيطان
- ج) الاحتلال
- د) الاستغلال

أي التالي يُعد من خصائص العمران الريفي؟

- أ) انقطاع العلاقات الاجتماعية
- ب) ارتفاع مستوى المعيشة
- ج) عدم التوازن الديموغرافي
- د) قوة العلاقات الاجتماعية

بقعة ريفية يبني كل مزارع فيها مسكنه بجانب مزرعته ..

- أ) العمران الحضري
- ب) العمران المبعثر
- ج) العمران المتجمع
- د) العمران المؤقت

أي التالي يُعد من خصائص العمران الحضري؟

- أ) صغر حجمه
- ب) ارتفاع مستوى المعيشة
- ج) التوازن الديموغرافي
- د) قوة العلاقات الاجتماعية

أي التالي يُعد من أهم المدن الدينية؟

- أ) سيناء والقاهرة
- ب) حلب ودمشق
- ج) تبوك ونجد
- د) مكة المكرمة والمدينة المنورة

تُعد مدينة الجبيل مدينة ..

- أ) سياحية
- ب) ثقافية
- ج) دينية
- د) صناعية

118 2 وحدة سياسية تحكمها حكومة مستقرة، تسيطر على شؤونها الداخلية

والخارجية، وتشغل منطقة معينة من سطح الأرض ...

- 1 القرية
2 المركز
3 الإقليم
4 الدولة

119 2 خطوط وهمية توضع على الخريطة؛ لتحديد أراضي الدولة ...

- 1 الحدود
2 العرض
3 جريتش
4 الطول

120 2 تمتاز الحدود الجبلية بأنها ...

- 1 أكثر نباتًا
2 كثيرًا المنافذ البحرية
3 سهل عبورها
4 أكثر هشاشة

121 2 أيُّ التالي يُعد من الحدود الحضارية؟

- 1 الحدود الجبلية
2 الحدود المائية
3 الصحاري
4 المنقوب

122 2 شكل تكون فيه الدولة ذات امتداد ناتئ، يحدث لتلبية حاجة سياسية ...

- 1 المنبع
2 المنقوب
3 الدين
4 الشريطي

123 2 شكل تكون فيه الدولة محاطة بدولة أخرى إحاطة كاملة ...

- 1 المنبع
2 المنقوب
3 الدين
4 الشريطي

124 2 أيُّ التالي لا يُعد من الأنشطة الاقتصادية؟


- 1 الصيد واستثمار الغابات
2 الزراعة والرعي
3 التعدين
4 نظام الحكم

125 2 تعتمد جماعات «الإسكيمو» في المناطق القطبية على ...

- 1 الزراعة
2 التعدين
3 التجارة
4 الصيد

126 2 تُعد الغابات من أوسع أنواع الغابات استغلالًا.

- 1 التنفسية
2 الصنوبرية
3 الموسمية
4 الاستوائية



الدولة

المقصود بها: وحدة سياسية تحكمها حكومة مستقرة، تسيطر على شؤونها الداخلية والخارجية، ويتقسم العالم إلى مجموعة من الدول.

حدودها: خطوط وهمية توضع على الخريطة لتحديد أراضي الدولة، وتحيط الحدود إحاطة كاملة بالدولة.

الحدود الطبيعية: تشكل الخصائص الطبيعية المهمة على سطح الأرض حدودًا، مثل: (الحدود الجبلية وتناز بالنبات، الصحاري، الحدود المائية وهي الأكثر شيوعًا).

الحدود الحضارية: الدين، اللغة، الحدود الهندسية. العناصر الجغرافية لقوة الدولة: يتكون العالم من مجموعة من الدول تتفاوت في مساحاتها وتعدد أشكالها لتؤثر في التالي ..

المساحة: تتفاوت دول العالم في المساحة.

الشكل: تنقسم أشكال الدول إلى خمس فئات .. المدمج (المتنظم) ، الممتد (الشريطي) ،

المنبع ، التجزؤ ، الدول المتقوية لتلبية حاجة سياسية.

الدول المتقوية: الدولة التي تحيط بها دولة أخرى إحاطة كاملة.



الأنشطة الاقتصادية

تتمثل في: الصيد، استثمار الغابات، الزراعة والرعي، التعدين والصناعة، التجارة والسياحة.



الصيد واستثمار الغابات

الصيد: يعتمد عليه «البومس» في صحراء كاهاري، و«الإسكيمو»، و«الهندو الحمر».

استثمار الغابات وأخشابها: حيث يعمل نحو 1/7 من القوى العاملة العالمية في الغابات.

يُعد الخشب من أهم المنتجات الغابية، ويُستخرج من أشجار الفلين والبطاط والكينا والصمغ.

تُعد الغابات الصنوبرية من أوسع أنواع الغابات استغلالًا، وتليها التنفسية ثم الموسمية والاستوائية.



126 125 124 123 122 121 120 119 118



الخرائط والتقنيات الحديثة



الخريطة: تمثيل لسطح الكرة الأرضية أو لجزء منه على لوحة مستوية.

المسلمون وأثرهم في تقدم علم الخرائط ..

اعتمدوا على القياسات الفلكية، وعينوا خطوط الطول بلحظهم اختلاف الأوقات الزمنية بين البلدان، ووضعوا جداول لمواقع البلدان والظواهر الجغرافية بالنسبة لخطوط الطول ودوائر العرض.

رسموا مجموعة من الخرائط ذات نسق واحد تتكون من ٢١ خريطة شملت العالم والبحار المحيطة بالعالم الإسلامي، وتعد خرائط الإدريسي أوج ما بلغه تطور علم رسم الخرائط عند المسلمين.

أهمية الخريطة وفوائدها: تستخدم لأغراض الحرب والدفاع عن الأرض، ويستفيد الطيارون منها؛ لأنها تحدد لهم خطوط سيرهم.



عناصر الخريطة



عنوان الخريطة: يُعد اسمًا لها يميزها عن غيرها.

مقياس الرسم: النسبة الثابتة بين الأبعاد على الخريطة وما يقابلها على الطبيعة، وأشكاله .. الخطي، الكتابي، النسي، الكسري

مفتاح الخريطة: مجموعة المصطلحات التي تمثل الظواهر التي توضحها الخريطة، ولذلك فإنه كثيرًا ما يعبر عنه باسم المصطلحات أو دليل الخريطة.

إطار الخريطة: يحدد امتداد الجزء الذي تمثله الخريطة، ويُسهل رسم شبكة درجات العرض والطول، ويُحدد الأماكن التي تخصص لعنوان الخريطة ومصطلحاتها.

اتجاه الشمال: يمثّل أعلى الخريطة جهة الشمال دائمًا ويرمز له برمز يكتب عليه حرف ش، وفي الأغلب يكون في الجزء العلوي الأيمن من الخريطة.

تمثيل لسطح الكرة الأرضية أو لجزء منه على لوحة مستوية ..

- أ) الخريطة
ب) الهندسة
ج) الرسم البياني
د) الكرويكيات

اعتمدوا على القياسات الفلكية وعينوا خطوط الطول بلحظهم اختلاف الأوقات الزمنية بين البلدان ..

- أ) اليونانيون
ب) المسلمون
ج) الرومانيون
د) البيزنطيون

رسم الجغرافيون المسلمون مجموعة من الخرائط ذات نسق واحد وتتكون من خريطة.

- أ) ٢١
ب) ٢٢
ج) ٢٣
د) ٢٤

تُعد خرائط أوج ما بلغه علم رسم الخرائط عند المسلمين.

- أ) اليعقوبي
ب) الخوارزمي
ج) الإدريسي
د) الدينوري

أيّ التالي يُعد اسمًا للخريطة ويميزها عن غيرها؟

- أ) الخريطة
ب) الرسم البياني
ج) مقياس الرسم
د) عنوان الخريطة

النسبة بين البعد على الخريطة والبعد الحقيقي على الطبيعة ..

- أ) اتجاه الشمال
ب) الرسم البياني
ج) مقياس الرسم
د) الخريطة

مجموعة الرموز التي تمثل الظواهر التي توضحها الخريطة ..

- أ) إطار الخريطة
ب) مفتاح الخريطة
ج) مقياس الرسم
د) اتجاه الشمال

يمثّل أعلى الخريطة وفي جهة الشمال دائمًا ..

- أ) اتجاه الشمال
ب) الرسم البياني
ج) مقياس الرسم
د) إطار الخريطة

152 151 150 149 148 147 146 145

① ② ③ ④ ⑤ ⑥ ⑦ ⑧



أنواع الخرائط



خرائط المقياس الكبير (الكدسترالية): تُرسم بمقياس رسم ١ : ١٠,٠٠٠ لتوضيح المعالم الحضارية للمدن، حيث تشمل على معالمها التفصيلية.

خرائط المقياس المتوسط (الطوبوغرافية): تُرسم بمقياس رسم ١ : ٢٥٠٠٠ حتى ١ : ٥٠٠,٠٠٠ للأغراض العسكرية والسياحية والإدارية.

خرائط المقياس الصغير (المليونية) ..

الخرائط المليونية (العالمية): تُرسم بمقياس رسم ١ : ١,٠٠٠,٠٠٠ وتُستعمل فيها رموز وعلامات اصطلاحية متفق عليها عالميًا، وترسم كل دولة خرائطها بهذا المقياس.

خرائط الأطالس والحائطية: تُظهر بعض التفاصيل العامة، وتُستخدم في خرائط التوزيعات الطبيعية والخرائط البشرية كوسائل تعليمية.



أنواع الخرائط بحسب الغرض



خرائط التضاريس: يُستعمل في هذا النوع من الخرائط التلوين أو التظليل؛ لزيادة وضوح الخرائط.

خرائط المناخ: توضح الظواهر المناخية، كتوزيع الحرارة والأمطار والرطوبة واتجاهات الرياح والضغط الجوي.

خرائط اقتصادية: تعني بتحديد مناطق الثروات.

خرائط السكان: تعني ببيان مناطق انتشار السكان واختلاف كثافتهم على سطح الأرض.

خرائط عسكرية: تُعنى بالجوانب العسكرية التي تتطلبها أمور التعبئة وإدارة المعارك.



تمثيل التضاريس على الخريطة



خطوط الكنتور (خطوط الارتفاع المتساوي): خطوط وهمية تصل بين النقاط المتساوية الارتفاع، ويُطلق عليها الفاصل الكنتوري.

خصائص خطوط الكنتور: لا تتقاطع ولا تلتقي إلا في حالات الانحدار الفجائي، إذا تباعدت دلت على انحدار متدرج، وإذا تقاربت دلت على انحدار شديد، ولا يمكن أن تنتهي في مكان ما.

153/2 الخرائط التي تُستخدم في توضيح المعالم الحضارية للمدن كالشوارع والمدارس والمستشفيات ..



- أ) الكدسترالية
ب) المليونية
ج) الطبوغرافية
د) ذات المقياس الصغير

154/2 خرائط تُستعمل في الأغراض العسكرية والسياحية تُعد من الخرائط ..



- أ) الكدسترالية
ب) المليونية
ج) الطبوغرافية
د) الأطالس

155/2 أي الخرائط التالية يُستخدم في الصفوف الدراسية كوسائل تعليمية؟



- أ) الطبوغرافية
ب) خرائط المقياس الكبير
ج) المليونية العالمية
د) الأطالس والحائطية

156/2 خرائط توضح الظواهر المناخية كتوزيع الحرارة والأمطار والرطوبة واتجاهات الرياح والضغط الجوي ..



- أ) التضاريس
ب) المناخ
ج) اقتصادية
د) عسكرية

157/2 خرائط تعني بتحديد مناطق الثروات ..



- أ) اقتصادية
ب) السكان
ج) التضاريس
د) المناخ

158/2 خرائط تهتم بالجوانب العسكرية التي تتطلبها أمور التعبئة وإدارة المعارك ..



- أ) المناخ
ب) التضاريس
ج) اقتصادية
د) عسكرية

159/2 خطوط وهمية تصل بين نقاط متساوية الارتفاع ..



- أ) الطول
ب) الكنتور
ج) العرض
د) جريتش

160/2 أي التالي لا يُعد من خصائص خطوط الكنتور؟



- أ) لا تتقاطع ولا تلتقي إلا في حالات الانحدار الفجائي
ب) إذا تباعدت دلت على انحدار متدرج
ج) إذا تقاربت دلت على انحدار شديد
د) خطوط مفتوحة يمكن أن تنتهي في مكان ما

153 154 155 156 157 158 159 160
أ ب ج د هـ و ز ح ط



تتم تمثيل التضاريس على الخريطة



طريقة رسم الخطوط الكنتورية ..

ترسم خطوط لكل ظاهرة تضاريسية.

قديمًا كان رسم الخطوط يدويًا بتحديد منسوب ارتفاع النقاط، وتوصيل النقط ذات الارتفاع المتساوي.

الآن تتيح نظم المعلومات الجغرافية استعمال بعض التطبيقات، كنموذج الارتفاعات الرقمية، وإنتاج الخرائط الكنتورية والمجسمة لأي منطقة.



الإحداثيات

المقصود بها: نظام وهمي على سطح الأرض تتقاطع فيه دوائر العرض والطول بزوايا قائمة، وهي تخدم تحديد المواقع، وعلى الصعيد الدولي اليوم يُستعمل في الأغلب نظام (المساحة العالمي 1984م) واختصاره (WGS84).



نظام تحديد المواقع العالمي (GPS)

المقصود به: نظم ملاحية طورها أمريكا للاستعمال العسكري، ولكنها متاحة الآن لأغراض مدنية. يتكوّن من أسطول من الأقمار الصناعية، فتذيع شفرات رقمية يلتقطها المستقبل المحمول، ويقياس الفروق الطفيفة بين أوقات وصول تلك الإشارات تستطيع أجهزة الاستقبال تحديد المواقع، وعيوب هذا النظام تُعد قليلة جدًا.



مساقط الخرائط

المقصود بها: عملية نقل السطح المنحني للكورة الأرضية إلى سطح مستو على الورق، وقد سماها الجغرافيون العرب التسطّيح، وأشهر المساقط ثلاثة ..

الأسطواني.

المخروطي.

المستوي (الأفقي).

طريقة رسم الخطوط الكنتورية قديمًا كانت يدويًا بتحديد منسوب ..

أ) ارتفاع النقاط

ب) انخفاض النقاط

د) ارتفاع المياه

ج) انخفاض المياه

تُرسم الخطوط الكنتورية الآن باستعمال بعض التطبيقات، مثل ..

أ) طريقة المثلث الشفاف

ب) نموذج الارتفاعات الرقمية

ج) الطريقة البيانية

د) الطريقة اليدوية

نظام وهمي على سطح الأرض تتقاطع فيه دوائر العرض والطول بزوايا قائمة ..

ب) الملاحة البحرية

أ) الإحداثيات

د) إنتاج خرائط عالية الدقة

ج) الاستشعار عن بُعد

نظام يخدم تحديد المواقع على الصعيد الدولي واختصاره WGS84 يُسمّى ..

ب) تحديد المواقع العالمي

أ) المساحة العالمي 1984م

د) الاستشعار عن بُعد

ج) المعلومات الجغرافية

نظام تحديد المواقع العالمي GPS يتكون من ..

أ) كاميرات المراقبة

ب) أسطول من الأقمار الصناعية

ج) منصات دفاعية

د) مستقبلات إذاعية

عملية نقل السطح المنحني للكورة الأرضية إلى سطح مستو على الورق ..

ب) مساقط الخرائط

أ) خرائط التضاريس

د) الكدسترالية

ج) خرائط المناخ

مساقط الخرائط سماها الجغرافيون العرب ..

ب) الطبوغرافية

أ) التسطّيح

د) مفتاح الخريطة

ج) الكدسترالية

أيّ التالي لا يُعد من مساقط الخرائط؟

ب) المخروطي

أ) الأسطواني

د) المستوي

ج) الهرمي

168 167 166 165 164 163 162 161

1 1 1 1 1 1 1 1



نظم المعلومات الجغرافية (GIS)

ظهرت مع ثورة المعلومات المعاصرة والحاسوب، وكان أول ذلك في كندا عام ١٩٦٤م.

تصنيف برامج الخرائط المستعملة في الحاسب ..

برامج الخرائط المعدة مقدماً: خرائط جغرافية تسمح لمن يستعملها برؤية ما يريد من معلومات يوفرها البرنامج، ولا تتيح له بناء خريطة أساس للمكان الذي يريده.

برامج للخرائط تتيح لمن يستعملها بناء خريطة أساس، وإدخال البيانات الجغرافية، لكنها لا تسمح له بإدماج عناصر متعددة للظواهر ذات العلاقة.

برامج نظم المعلومات الجغرافية تتميز بأنها تتيح لمن يستعملها ربط عناصر الخريطة بالبيانات المتعددة مع إمكان ترميزها.

تطبيقات نظم المعلومات الجغرافية ..

مجال حصر الموارد واستعمالات الأرض.

مجال إنتاج الخرائط.

مجال الإدارة.

مجال التخطيط والتنمية.

المعلومات الجغرافية: تتكون من مجموعة عناصر ..

الأجهزة Hardware: يقصد بها الأجهزة المستعملة في إدخال البيانات ومعالجتها وإخراجها.

البرامج الحاسوبية Software: يقصد بها مجموعة البرامج التي يُعامل بها داخل أجهزة الحاسب الآلي.

البيانات والمعلومات Data: تعرف بأنها حقائق تكون في الأغلب في شكل أرقام أو حروف أو

مجموعات منها، كما أنها مرتبطة جغرافياً بمواقعها، ويمكن تصنيف مصادر البيانات الجغرافية إلى أربعة

مصادر أساسية، هي: مصادر كتابية، مصادر وثائقية، العمل الميداني، مصادر أخرى.

المستخدم User: يمثل الجانب الإنساني في نظم المعلومات الجغرافية؛ حيث يتولى تحريك العناصر

السابقة والعمل عليها والتفاعل معها بغرض معين.

184 183 182 181 180 179 178 177

① ① ① ① ① ① ① ①

أول ظهور لنظم المعلومات الجغرافية كان في ..

أ) كندا (ب) أمريكا

ج) روسيا (د) الصين

ظهرت نظم المعلومات الجغرافية مع ثورة المعلومات المعاصرة والحاسوب

في عام ..

أ) ١٩٦٤م (ب) ١٩٤٦م

ج) ١٩٦٧م (د) ١٩٦٨م

أي التالي لا يُعد من تطبيقات نظم المعلومات الجغرافية؟

أ) مجال إنتاج الخرائط (ب) مجال التخطيط والتنمية

ج) مجال الإدارة (د) مجال الصناعة

يُقصد بها الأجهزة المستعملة في إدخال البيانات ومعالجتها وإخراجها ..

أ) الأجهزة Hardware (ب) البرامج الحاسوبية Software

ج) البيانات والمعلومات Data (د) المستخدم User

يُقصد بها مجموعة البرامج التي يُعامل بها داخل أجهزة الحاسب الآلي ..

أ) البرامج الحاسوبية Software (ب) الأجهزة Hardware

ج) المستخدم User (د) البيانات والمعلومات Data

تُعرف بأنها حقائق تكون في الأغلب في شكل أرقام أو حروف أو

مجموعات منها ..

أ) الأجهزة Hardware (ب) البرامج الحاسوبية Software

ج) المستخدم User (د) البيانات والمعلومات Data

أي التالي لا يُعد من مصادر البيانات الجغرافية؟

أ) مصادر كتابية (ب) مصادر وثائقية

ج) العمل الميداني (د) الطبوغرافية

يمثل الجانب الإنساني في نظم المعلومات الجغرافية ..

أ) الأجهزة Hardware (ب) المستخدم User

ج) البرامج الحاسوبية Software (د) البيانات والمعلومات Data

اختبار على القسم



▼ التاريخ ▼

01/3 علم التاريخ هو أحد فروع الدراسات الاجتماعية، ويهتم بدراسة

البشري.

- Ⓐ الماضي Ⓑ المستقبل
Ⓒ الحاضر Ⓓ الجنس

02/3 بحث واستقصاء للحوادث التي وقعت للإنسان في الزمن الماضي ..

- Ⓐ الجغرافيا Ⓑ العلوم
Ⓒ التاريخ Ⓓ الجيولوجيا

03/3 فكرة التاريخ تقوم على أساس ..

- Ⓐ دراسة التضاريس Ⓑ دراسة الظواهر الطبيعية
Ⓒ التدوين القصصي Ⓓ التمثيل المسرحي

04/3 الأوراق الرسمية من سجلات ومستندات سياسية وعسكرية ومعاهدات

ومراسلات ونحوها ..

- Ⓐ الآثار Ⓑ الوثائق
Ⓒ المسكوكات Ⓓ الكتب التاريخية

05/3 سجل للألقاب والنوع التي تُلقب الضوء على كثير من الحوادث

السياسية، والاجتماعية ونحوها ..

- Ⓐ الأدب Ⓑ الرواية الشفهية
Ⓒ الكتب التاريخية Ⓓ المسكوكات

06/3 مؤلف كتاب تاريخ الرسل والملوك ..

- Ⓐ الطبري Ⓑ عثمان بن عبد الله بن بشر
Ⓒ عروة بن الزبير Ⓓ أبي القاسم بن حوقل

07/3 أي الكتب التالية يُعد من المراجع الأولية الأصلية؟

- Ⓐ عنوان المجد في تاريخ نجد Ⓑ تاريخ الرسل والملوك
Ⓒ عروة بن الزبير Ⓓ جميع ما سبق

08/3 تُعد أول وسيلة لنقل الحادثة ..

- Ⓐ الكتب التاريخية Ⓑ كتب الرحلات
Ⓒ الرواية الشفهية Ⓓ الأفلام المرئية

التاريخ



علم التاريخ يهتم بدراسة الماضي البشري.

المقصود به: بحث واستقصاء للحوادث التي وقعت للإنسان في الزمن الماضي.

فكرته: تقوم على أساس التدوين القصصي لمجرى التفاعل بين الإنسان وبيئته.

محوره: الإنسان، وحوادث الإنسان هي موضوعه.

أهميته: يسهم في بناء شخصية الإنسان وتشكيل ثقافته وتحقيق وعيه بذاته، والتخطيط لمستقبله.

مصادر الدراسة التاريخية: القرآن الكريم والسنة النبوية ترد فيهما إشارات كثيرة لحوادث تاريخية، وتوجد مصادر أخرى يعتمدها المؤرخون، من أهمها ..

الوثائق: يُقصد بها الأوراق الرسمية من سجلات ومستندات سياسية وعسكرية، ومعاهدات ومراسلات.

الآثار: ما تركته الحضارات السابقة من مباني ومقتنيات وأدوات ونحو ذلك.

النقوش (الفنون الصخرية): تمتاز بصحة تواريخها ودقة معلوماتها.

المسكوكات: من أشهرها النقود (العملة) والأوزان، فهي سجل للألقاب والنوع التي تكشف الحوادث السياسية، والاجتماعية، وغيرها.

الكتب التاريخية: مخطوطات أو مطبوعات صنفها المؤرخون، ويطلق عليها المصادر أو المراجع الأولية

الأصلية، ومن أمثلتها: كتاب عروة بن الزبير في السيرة النبوية، تاريخ الرسل والملوك للطبري، عنوان

المجد في تاريخ نجد لعثمان بن عبد الله بن بشر.

الكتب الجغرافية وكتب الرحلات: اهتمت باستقصاء ملامح المكان ووصف أحوال السكان، ومن أمثلتها:

كتاب صورة الأرض لأبي القاسم بن حوقل.

كتب الأدب والرواية الشفهية: الأدب مرآة العصر، أما الرواية الشفهية فهي أول وسيلة لنقل الحادثة.

الصور الفوتوغرافية والأفلام المرئية.

08 07 06 05 04 03 02 01



التدوين التاريخي عند المسلمين

نشأته: كان العرب قبل الإسلام يتناقلون أخبارهم وأيامهم وما يقع لهم من حوادث عن طريق الروايات الشفهية، ويؤرخون ببعض الحوادث الكبرى، مثل: بناء الكعبة وعام الفيل، كما ظهرت الحاجة إلى العناية بالتاريخ لدى المسلمين عند بناء دولتهم الجديدة.

أسبابه ..

العناية بجمع أخبار السيرة النبوية.

معرفة أحوال الأمم الماضية.

اتساع مساحة البلاد الإسلامية.

التمييز بين الأقاليم المفتوحة.

تمجيد بعض أبناء المناطق المفتوحة من الشعوب التي دخلت الإسلام.

ظهور تقويم ثابت عند المسلمين، فاتخذ المسلمون في خلافة عمر بن الخطاب الهجرة أساسًا للتاريخ.

تطوره: مر تدوين التاريخ عند المسلمين بعدة مراحل، وهي: كتابة السيرة النبوية، أخبار الفتوح وأخبار القدماء والأمم المجاورة، الرحلات والترجمة، تواريخ المدن، البُعد الفلسفي.

كتابة السيرة النبوية: هي فاتحة التاريخ الإسلامي وأول ما كُتب من موضوعاته، ويُعد علماء المدينة من أوائل من دَوَّن وكتب أحداث السيرة، ومنهم عروة بن الزبير، وأبان بن عثمان.

أخبار الفتوح والقدماء والأمم المجاورة: مع اتساع الفتوح الإسلامية، اتسع نطاق البحث التاريخي، وأمكن فيما بعد تصنيفها ضمن أربعة أبواب، وهي: أخبار الأمم الماضية، وأحوال العرب قبل الإسلام، والسيرة النبوية، والحوادث التاريخية للدول الإسلامية.

الرحلات والترجمة: نشط فريق من طلبة العلم إلى الرحلة والتنقل في أرجاء البلاد الإسلامية، فشاهدوا عجائب البلاد وآثارها وتحذثوا إلى علمائها، فأدى ذلك لتوثيق الحوادث التاريخية، ثم أسهم ازدهار حركة الترجمة في توثيق التدوين التاريخي بنقل عدد من الكتب التاريخية عن اللغات الأخرى الأجنبية.

09 10 11 12 13 14 15 16

⊖ ⊕ ⊖ ⊕ ⊖ ⊕ ⊖ ⊕

العرب قبل الإسلام كانوا ينقلون أخبارهم عن طريق ..

- Ⓐ الفن المسرحي
Ⓑ الروايات الشفهية
Ⓒ المقالات
Ⓓ النقش على الصخور

من الحوادث الكبرى التي نقلها العرب قبل الإسلام ..

- Ⓐ بناء الكعبة
Ⓑ صلح الحديبية
Ⓒ غزوة بدر
Ⓓ بيعة العقبة

ارتبط دور العرب في التدوين بـ ..

- Ⓐ تاريخ الإنسان
Ⓑ الاهتمام بالأنساب
Ⓒ قيام الدولة الإسلامية
Ⓓ ظهور الورق

اتخذ المسلمون الهجرة النبوية أساسًا للتاريخ في عهد الخليفة ..

- Ⓐ أبو بكر الصديق رضي الله عنه
Ⓑ عمر بن الخطاب رضي الله عنه
Ⓒ عثمان بن عفان رضي الله عنه
Ⓓ علي بن أبي طالب رضي الله عنه

مرحلة من مراحل تدوين التاريخ تُعد فاتحة التاريخ الإسلامي، وكانت

أول الموضوعات كتابة ..

- Ⓐ أخبار الفتوح
Ⓑ قصص القدماء
Ⓒ الرحلات والترجمة
Ⓓ السيرة النبوية

يُعد علماء المدينة أول من دَوَّن في السير، وكان منهم ..

- Ⓐ أبو بكر الصديق
Ⓑ عبد الله بن مسعود
Ⓒ عروة بن الزبير
Ⓓ علي بن أبي طالب

أي التالي لا يُعد من أبواب أخبار الفتوح والقدماء والأمم المجاورة؟

- Ⓐ الحوادث التاريخية للدول الإسلامية
Ⓑ أحوال العرب قبل الإسلام
Ⓒ أخبار الأمم الماضية
Ⓓ الرحلات والترجمة

أسهم ازدهارها في توثيق التدوين التاريخي ..

- Ⓐ الرواية
Ⓑ الترجمة
Ⓒ المقالة
Ⓓ القصة

17/3 < التدوين التاريخي للمدن تأثر بـ ..

- Ⓐ التفكك السياسي
Ⓑ ازدهار البلاد

- Ⓐ ترابط السلطات
Ⓑ قوة الاقتصاد

18/3 < من الكتب التي دونت في تواريخ المدن كتاب «تاريخ بغداد» لـ ..

- Ⓐ ابن كثير
Ⓑ أبي الحكم الدمشقي

- Ⓐ الخطيب البغدادي
Ⓑ أبي بكر الرازي

19/3 < سقطت الدولة العباسية في سنة ..

- Ⓐ بغداد ، ٦٥٦هـ
Ⓑ اليمن ، ٦٣٥هـ

- Ⓐ مصر ، ٦٥٤هـ
Ⓑ الأندلس ، ٦٥٦هـ

20/3 < البعد الفلسفي يبحث في ..

- Ⓐ علل سقوط الدول
Ⓑ جميع ما سبق

- Ⓐ أسباب قيام الدول
Ⓑ مظاهر العمران في الدول

21/3 < من علماء المسلمين الذين كتبوا في البعد الفلسفي ..

- Ⓐ ابن الأثير
Ⓑ ابن كثير

- Ⓐ ابن حجر
Ⓑ ابن خلدون

22/3 < وضَّح معالم التدوين التاريخي للمسلمين بكتابه تاريخ الرسل والملوك ..

- Ⓐ محمد بن جرير الطبري
Ⓑ أبو بكر الرازي

- Ⓐ ابن كثير
Ⓑ ابن دينار

23/3 < كتاب تاريخ الرسل والملوك يتألف من ..

- Ⓐ ثلاثة أقسام
Ⓑ سبعة أقسام

- Ⓐ أربعة أقسام
Ⓑ قسمين

24/3 < اتبع الطبري في تنظيم مادة كتابه الأسلوب ..

- Ⓐ اليومي
Ⓑ الوصفي

- Ⓐ الحولي
Ⓑ الشهري

25/3 < أسلوب تجيء فيه الأخبار مرتبة على تعاقب السنين ..

- Ⓐ الوصفي
Ⓑ الحولي

- Ⓐ الموضوعي
Ⓑ الفلسفي



تسمة التدوين التاريخي عند المسلمين

تواريخ المدن ..

تأثر التدوين التاريخي منذ القرن الثالث الهجري بالتفكك السياسي.

ظهرت تواريخ محلية (تواريخ مدن)، وكتب تراجم، وطبقات لعملاء كل إقليم، مثل: كتاب «تاريخ بغداد» للخطيب البغدادي (ت ٤٦٣هـ)، «تاريخ دمشق» لابن عساکر (ت ٥٧١هـ).

البعد الفلسفي ..

كان ظهوره عقب العدوان الصليبي بين القرنين الخامس والسادس الهجريين، والهجوم المغولي وسقوط الدولة العباسية في بغداد سنة ٦٥٦هـ.

يتميز هذا البعد بنظرة فلسفية تأملية للحوادث، فيبحث في أسباب قيام الدول، وعلل سقوطها، ومظاهر العمران فيها.

يُعد ابن خلدون أول من أظهِر في مقدمته الشهيرة لكتابه «العبر وديوان المتبدا والخير في أيام العرب والعجم والبربر من ذري السلطان الأكبر».



نماذج من مؤلفات المؤرخين المسلمين

تاريخ الرسل والملوك للطبري ..

ترجم أهمية كتاب «تاريخ الرسل والملوك» لابن جرير الطبري؛ حيث وضَّح معالم التدوين التاريخي عند المسلمين.

يتألف الكتاب من قسمين كبيرين: أولهما يبحث في تاريخ ما قبل الإسلام، والثاني في تاريخ الإسلام منذ عهد النبي ﷺ حتى عام ٣٠٢هـ.

منهج الطبري في الكتاب ..

في القسم الأول رتب على أساس الموضوعات. في قسم التاريخ الإسلامي اتبع طريقة الأسلوب الحولي؛ حيث يجيء بالأخبار مُرتبة على تعاقب السنين.



تمة نماذج من مؤلفات المؤرخين المسلمين



◀ كتاب «الكامل في التاريخ» لابن الأثير ..

◀ يبدأ التاريخ فيه منذ بدء الخليقة حتى عصره،
ومكون من عدة مجلدات.

◀ اعتمد التسجيل الحولي وذكر الحوادث الصغرى
وبعض الوفيات في نهاية كل سنة، واهتم بالحوادث
المحلية في كل إقليم، وذكر أخبار الظواهر الجوية
والأرضية من غلاء وقحط وأوبئة وزلازل.

◀ «البداءة والنهاية» لابن كثير ..

◀ تميز بنقد الروايات التاريخية، وتمييز صحيح
الأخبار من سقيمها في ضوء قواعد المحدثين.

◀ أجود ما في الكتاب القسم الخاص بالسيرة
النبوية، وعصر الخلفاء الراشدين.

◀ اعتمد التدوين الحولي.

◀ يبدأ بالحوادث في حولياته، ويختتمها بالوفيات.

◀ تاريخ ابن خلدون ..

◀ انتقل ابن خلدون من مؤرخ إلى مفسر للتاريخ،
فيتأمل الدورات الحضارية المتعاقبة ويرصد
مظاهرها، وينظر في أسباب نشأتها وعوامل فنائها.

◀ وضع نظريته في العمران البشري والاجتماع
الإنساني ودونها في مقدمته الشهيرة لكتابه «العبر
وديوان المبتدأ والخبر في أيام العرب والعجم والبربر
ومن عاصرهم من ذوي السلطان الأكبر».

◀ «عنوان المجد في تاريخ نجد» لعثمان بن بشر ..

◀ ألفه المؤرخ عثمان بن بشر في جزأين.

◀ تبدأ حوادثه عام ٨٥٠هـ، وتُختم بعام ١٢٦٧هـ.

◀ يركّز الكتاب على حوادث الدولة السعودية
الأولى وما قبلها، وجزء كبير من حوادث الدولة
السعودية الثانية.

◀ كتاب «الكامل في التاريخ» للمؤرخ ..

Ⓐ ابن عساكر

Ⓑ الخطيب البغدادي

Ⓒ ابن الأثير

◀ اعتمد ابن الأثير على التسجيل في كتابه «الكامل في التاريخ».

Ⓐ الوصفي

Ⓑ الحولي

Ⓒ الموضوعي

◀ كتاب يشمل السيرة النبوية وسيرة الخلفاء الراشدين لابن كثير ..

Ⓐ طبقات فقهاء الشافعية

Ⓑ مختصر تفسير ابن كثير

Ⓒ ابتهالات في زمن الغربة

◀ اعتنى ابن كثير في كتاب «البداءة والنهاية» ..

Ⓐ بسرد الروايات الضعيفة

Ⓑ بنقد الروايات التاريخية

Ⓒ بالقصص الموضوعية

◀ أجود ما في كتاب «البداءة والنهاية» لابن كثير القسم الخاص بـ ..

Ⓐ السيرة النبوية

Ⓑ الفتن والملامح

Ⓒ الأحاديث القدسية

◀ انتقل من مؤرخ إلى مفسر للتاريخ.

Ⓐ ابن خلدون

Ⓑ أبو بكر الرازي

Ⓒ ابن حجر العسقلاني

◀ كتاب «العبر وديوان المبتدأ والخبر في أيام العرب والعجم والبربر ومن

عاصرهم من ذوي السلطان الأكبر» للمؤرخ ..

Ⓐ أبو إسماعيل الأزدي

Ⓑ ابن خلدون

Ⓒ أبو عبيد الله البكري

◀ كتاب «عنوان المجد في تاريخ نجد» للمؤرخ ..

Ⓐ محمد بن حمد البسام

Ⓑ حمد بن لعبون

Ⓒ عثمان بن بشر

◀ تبدأ حوادث كتاب «عنوان المجد في تاريخ نجد» عام ..

Ⓐ ٨٤٩هـ

Ⓑ ٨٥٠هـ

Ⓒ ٨٥١هـ

Ⓓ ٨٥٢هـ

26 27 28 29 30 31 32 33 34

Ⓐ Ⓑ Ⓒ Ⓓ

35/3 ◀ منهج تاريخي يعرض الحوادث حسب تعاقب السنين ويفتح حوارات

كل سنة بعبارة (ثم دخلت سنة كذا) يُسمى ..

- Ⓐ التاريخ الموضوعي
Ⓑ التاريخ الحولي
Ⓒ التاريخ الوصفي
Ⓓ التاريخ الشامل

36/3 ◀ منهج عرفه المسلمون يُبنى تدوينه على تاريخ الدول أو العصور أو

الخلفاء والسلاطين ..

- Ⓐ التاريخ الحولي
Ⓑ التاريخ حسب الطبقات
Ⓒ التاريخ الشامل
Ⓓ التاريخ حسب الموضوعات

37/3 ◀ منهج ابتكره المؤرخون المسلمون، ويرتبط تدوينه بعلم الحديث ..

Ⓐ التاريخ حسب الطبقات

- Ⓑ التاريخ الحولي
Ⓒ التاريخ حسب الموضوعات
Ⓓ التاريخ الفلسفي

38/3 ◀ منهج تاريخي استلهمه المسلمون من إشارات القرآن الكريم إلى الأمم

السابقة وقصة بدء الخليقة ..

- Ⓐ التاريخ الفلسفي
Ⓑ التاريخ حسب الطبقات
Ⓒ التاريخ الشامل
Ⓓ التاريخ حسب الموضوعات

39/3 ◀ منهج اعتمد على التنوع في كتابة التاريخ من تراجم، وحوادث عامة

وخاصة، وأنساب ..

- Ⓐ التاريخ حسب الطبقات
Ⓑ التاريخ الشامل
Ⓒ التاريخ الحولي
Ⓓ التاريخ الفلسفي

40/3 ◀ أول من كتبوا في فلسفة التاريخ والاجتماع، وألزموا أنفسهم مبدأ الصدق

والنزاهة في الأحكام واعتبروه شرطاً ..

- Ⓐ المؤرخون اليونانيون
Ⓑ المؤرخون الإسبانيون
Ⓒ المؤرخون المسلمون
Ⓓ المؤرخون الفرنسيون



منهج تدوين التاريخ عند المسلمين

◀ منهج التاريخ الحولي ..

◀ يعرض الحوادث حسب تعاقب السنين.

◀ يفتح الحوارات بعبارة: (ثم دخلت سنة كذا).

◀ ساعد المؤرخين على سهولة عرض أحداث

المهود الإسلامية، واستمرارها وتواصلها.

◀ منهج التاريخ حسب الموضوعات: عرفه المسلمون

كتاريخ الدول أو العصور أو الخلفاء والسلاطين، كما

برعوا في التاريخ حسب الأنساب.

◀ منهج التاريخ حسب الطبقات ..

◀ منهج مرتبط بعلم الحديث ابتكره المسلمون.

◀ جاء تقسيم الطبقات كنتيجة طبيعية لفكرة طبقة

أصحاب الرسول ﷺ ثم طبقات من جاء بعدهم.

◀ منهج التاريخ الشامل ..

◀ استلهمه المسلمون من إشارات القرآن الكريم إلى

الأمم السابقة وقصة بدء الخليقة.

◀ منهج يدرس تاريخ الأمم الأخرى، ويُعد محاولة

لدراسة تاريخ الجنس البشري وبدء الخليقة.

◀ منهج التاريخ الفلسفي ..

◀ يعتمد هذا المنهج على التنوع في كتابة التاريخ

من تراجم، وحوادث عامة وخاصة، وأنساب.

◀ المؤرخون المسلمون أول من كتبوا في فلسفة

التاريخ والاجتماع، وألزموا أنفسهم مبدأ الصدق

والنزاهة في الأحكام واعتبروه شرطاً.



مهارات التفكير في التاريخ

الأسباب والنتائج: يعتني بها كُتاب التاريخ؛ لكونها تعطي مزيدًا من المعرفة، والحكم على الحوادث، كمقتل الأرشيدوق (الأمير) النمساوي فرانز فرديناند عام ١٩١٤م في سرايفو كان سببًا مباشرًا في الحرب العالمية الأولى.

الاستمرارية والتغير على مرور الزمن: تتبّع الحوادث في مدة زمنية لتحديد ظاهرة الاستمرار والتغير، كمتابعة القارئ لتاريخ الدولة السعودية منذ منتصف القرن الثاني عشر الهجري حتى اليوم، وملاحظة تعاقب دول المملكة في هذه الفترة.

التقسيم التاريخي (التحقيب): تحديد عصور تاريخية للحوادث وفق تطورها وارتباطها، والاستفادة لتقسيم حقب أقل زمنًا؛ من أجل التركيز فيها في الدراسة، كتقسيم تاريخ المملكة العربية السعودية وفق عهود ملوكها.

أي التالي لا يُعد من مهارات التفكير في التاريخ؟

- ① الأسباب والنتائج
② الاستمرارية والتغير
③ التقسيم التاريخي
④ التاريخ الإحداثي

تُعطي مزيدًا من المعرفة والحكم على الحوادث، وتُعد إحدى مهارات أسس التفكير في التاريخ ..

- ① الاستمرارية والتحقيب
② الاستمرارية والتغير
③ المقارنة والسياق
④ الأسباب والنتائج

مقتل الأمير النمساوي فرانز فرديناند عام ١٩١٤م في سرايفو أدى إلى اندلاع الحرب العالمية الأولى، هذا مثال على ..

- ① الأسباب والنتائج
② المقارنة
③ الاستمرارية والتغير
④ التقسيم التاريخي

من أسس مهارات التفكير في التاريخ استنتاج طبيعة الحوادث في مدة زمنية لتحديد ظاهرة تُسمّى ..

- ① الأسباب والنتائج
② الاستمرار والتغير
③ التقسيم التاريخي
④ المقارنة والسياق

متابعة القارئ لتاريخ الدولة السعودية منذ منتصف القرن الثاني عشر الهجري حتى اليوم، وملاحظة تعاقب دول المملكة في هذه الفترة، يُعد مثالاً على ..

- ① الاستمرارية والتغير
② السياق اللغوي
③ الأسباب والنتائج
④ التقسيم التاريخي

تحديد عصور تاريخية للحوادث وفق تطورها وارتباطها ..

- ① المقارنة
② العِلل
③ التحقيب
④ السياق

تقسيم تاريخ المملكة العربية السعودية وفق عهود الملوك، يُعد مثالاً على ..

- ① المقارنة
② الاجتماع
③ الأسباب والنتائج
④ التقسيم التاريخي



تمة مهارات التفكير في التاريخ



المقارنة: تكون بوصف حادثتين تاريخيتين أو أكثر في مدة واحدة أو مُدد مختلفة، ومقارنتها وتقويمها من أجل معرفة الترابط بينها، والبحث عن الأسباب بمنظور يختلف عن الأسباب المباشرة.

السياق: من المهارات المهمة في فهم النص التاريخي معرفة السياق العام للحوادث التاريخية، ولا سيما معرفة موقع حادثة ما من إطار تاريخي عام.

التفسير التاريخي: مهارة يستطيع من خلالها الباحث والقارئ أن يصف ويحلل ويقارن الحوادث، ويصل إلى تفسير واضح لها من تفكيره، بناءً على معطيات الأدلة والمقارنة والوصف والتحليل.

العصور التاريخية: يقسم الزمن التاريخي منذ بدء الخلق حتى اليوم إلى عصور ما قبل التاريخ وعصور قديمة وعصور إسلامية وعصور حديثة.



مصادر التاريخ الوطني



مكتبة الملك فهد الوطنية ..

مؤسسة وطنية تُعنى بأعمال التوثيق للإنتاج الوطني المعرفي، وتوفر بأقسامها المختلفة مادة علمية للباحثين.

وُضع حجر الأساس للمكتبة في عام ١٤٠٣هـ.

لمكتبة الملك فهد الوطنية مهمات، ومنها:

إصدار البليوجرافيا الوطنية والفهارس الموحدة، وإنشاء قواعد للمعلومات البليوجرافية.

أبرز مصادر التاريخ التي توفرها المكتبة: المخطوطات، الوثائق، الكتب، الصور، الصحف.

دائرة الملك عبد العزيز ..

جاء تأسيس دائرة الملك عبد العزيز في الخامس من شهر شعبان عام ١٣٩٢هـ.

تهدف الدارة إلى عدد من الأهداف، ومنها: تحقيق الكتب التي تخدم تاريخ المملكة، وإعداد بحوث ودراسات ومحاضرات عن سيرة الملك عبد العزيز.

أبرز مصادر التاريخ في الدارة: الوثائق التاريخية، مكتبة الدارة، الصحف التاريخية.

48 49 50 51 52 53 54 55
⊖ ⊕ ⊖ ⊕ ⊖ ⊕ ⊖ ⊕

48/3 مهارة تفكير تكون بوصف حادثتين تاريخيتين أو أكثر في مدة واحدة أو

مُدد مختلفة من أجل معرفة الترابط بينها ..

Ⓐ الأسباب والنتائج ⊖ التحقيب

Ⓒ المقارنة ⊕ السياق

49/3 المعرفة العامة للحوادث التاريخية لا سيما معرفة موقع حادثة ما من إطار

تاريخي عام هي إحدى مهارات التفكير التاريخي وتعرف بـ ..

Ⓐ التفسير التاريخي ⊖ التحقيب

Ⓒ الاستمرارية والتغيير ⊕ السياق

50/3 مهارة يستطيع من خلالها الباحث والقارئ أن يصف ويحلل ويقارن

الحوادث، ويصل إلى تفسير واضح لها من تفكيره ..

Ⓐ التفسير التاريخي ⊖ المقارنة

Ⓒ التحقيب ⊕ السياق

51/3 تُقسّم العصور التاريخية منذ بدء الخلق حتى اليوم إلى أقسام.

Ⓐ أربعة ⊖ ثلاثة

Ⓒ سبعة ⊕ خمسة

52/3 مؤسسة وطنية وُضع حجر الأساس لها سنة ١٤٠٣هـ ..

Ⓐ مكتبة الملك فهد الوطنية ⊖ دائرة الملك عبد العزيز

Ⓒ المركز الوطني للوثائق ⊕ المكتبة الرقمية السعودية

53/3 مكتبة تهتم بإصدار البليوجرافيا الوطنية ..

Ⓐ مكتبة الحرم المكي الشريف

Ⓒ مكتبة الملك فهد الوطنية

Ⓒ مكتبة القطيف العامة

Ⓒ المكتبة العامة بالأحساء

54/3 أيّ التالي لا يعد من مصادر التاريخ التي توفرها مكتبة الملك فهد؟

Ⓐ المخطوطات ⊖ الوثائق

Ⓒ الكتب ⊕ الخدمات الاجتماعية

55/3 أُسِّست دائرة الملك عبد العزيز في الخامس من شهر عام ..

Ⓐ شعبان ، ١٣٩٢هـ ⊖ رمضان ، ١٣٢٢هـ

Ⓒ شوال ، ١٤٢٥هـ ⊕ شعبان ، ١٣٢٧هـ



تمتة مصادر التاريخ الوطني



المركز الوطني للوثائق والمحفوظات ..

أُنشئ في شوال عام ١٤٠٩هـ، ويُعد مرجعًا للأنظمة والوثائق، ومن أهدافه جمع الوثائق والمحفوظات.
أبرز مصادر التاريخ في المركز: الوثائق والأنظمة والوثائق، والمحفوظات.

تنبيهات ..

الرقم المعياري: أداة عصرية للتعريف بكتاب ما، يمكن بها معرفة عنوان الكتاب، والدار الناشرة له، وبلد النشر، وتاريخ النشر، والمعلومات البيوجرافية عنه.
الوثائق: أوعية معلومات أنتجها الجهاز الحكومي، أو استقبلها لغاية ما، ولا يزال العمل الرسمي في حاجة إليها.

المحفوظات: أوعية معلومات أنتجها الجهاز الحكومي، أو استقبلها لغاية ما، وانتهت قيمتها العملية، وثبتت لها قيمة ثقافية تستدعي حفظها.
المخطوطات: كتب مكتوبة بخط اليد قبل الطباعة.



المملكة العربية السعودية



موقعها: تشغل المملكة العربية السعودية معظم مساحة شبه الجزيرة العربية، وتقع في الزاوية الجنوبية الغربية من قارة آسيا.
مميزاتها ..

يتوسط موقعها ثلاث قارات رئيسة (أوروبا، آسيا، إفريقيا) مما جعلها ملتقى هذه القارات.
وجود الأماكن المقدسة في مكة والمدينة.
مرور طرق تجارية كثيرة برية وبحرية من خلالها.
الروابط البحرية من ثلاث جهات: البحر الأحمر في الغرب، والخليج العربي في الشرق، وبحر العرب المتصل بالمحيط الهندي في الجنوب.

56 57 58 59 60 61 62 63
ⓐ ⓑ ⓓ ⓔ ⓖ ⓗ ⓘ ⓙ

أُنشئ المركز الوطني للوثائق في شهر ..

- ⓐ رجب
ⓑ شوال
ⓓ صفر
ⓔ رمضان

أُنشئ في عام ١٤٠٩هـ، ويُعد مرجعًا للأنظمة والوثائق ..

- ⓐ المكتبة الرقمية السعودية
ⓑ المركز الوطني للوثائق
ⓓ مكتبة القطيف العامة
ⓔ المكتبة العامة بالخبر

أداة عصرية للتعريف بكتاب ما ..

- ⓐ الرقم المعياري
ⓑ الوثائق
ⓓ المخطوطات
ⓔ الوثائق

كتب مكتوبة بخط اليد قبل عصر الطباعة ..

- ⓐ الوثائق
ⓑ الرقم المعياري
ⓓ المخطوطات
ⓔ الوثائق

المملكة العربية السعودية تشغل معظم مساحة شبه الجزيرة العربية، وتقع في الزاوية .. من قارة آسيا.

- ⓐ الشمالية الشرقية
ⓑ الجنوبية الشرقية
ⓓ الشمالية الغربية
ⓔ الجنوبية الغربية

موقع المملكة العربية السعودية جعلها مُلتقى لقارات العالم الثلاث وهم ..

- ⓐ آسيا وأستراليا وأمريكا
ⓑ آسيا وإفريقيا وأوروبا
ⓓ أمريكا وأوروبا وآسيا
ⓔ أستراليا وإفريقيا وأوروبا

يحد المملكة العربية السعودية من الشرق ..

- ⓐ البحر المتوسط
ⓑ البحر الأحمر
ⓓ بحر العرب
ⓔ الخليج العربي

يتميز موقع المملكة العربية السعودية بروابط بحرية، فيحدُّها من الغرب ..

- ⓐ البحر الأحمر
ⓑ البحر المتوسط
ⓓ المحيط الأطلنطي
ⓔ الخليج العربي



الآثار

استقرار الإنسان في المملكة العربية السعودية يعود إلى حقبة قديمة جدًا تصل إلى نحو ٧٥٠ ألف سنة قبل الميلاد، وربما أكثر من ذلك.

من المواقع التي تشهد بوجود ذلك ..

الشَّوْحُحْطِيَّة: تقع شمال غرب مدينة سكاكا في منطقة الجوف.

صَفَّاقَة: بالقرب من الدوادمي.

بَنْبَان: بالقرب من الرياض، الذي يقدر عُمر الأدوات الحجرية التي اكتشفت فيه نحو ٢٣٠ ألف عام.

آبار حَمَى: من المواقع العريقة في القَدَم في نجران، والتي تعود نقوشها وأدواتها إلى نحو ٥٠ ألف سنة قبل الميلاد.

جُبَّة: شمال مدينة حائل التي بها أدلة وشواهد على حضارة من العصور الحجرية القديمة.

تاروت: المنطقة الشرقية، وفيها أدلة كثيرة على حضارة العُبيد في الألف الخامسة قبل الميلاد.



المصادر الكلاسيكية

المقصود بها: المؤلفات التي كتبت باللغتين اليونانية واللاتينية في حقبة قديمة جدًا قبل الإسلام، أي من القرن الخامس قبل الميلاد حتى القرن الثالث الميلادي.

من أبرز المؤلفين الكلاسيكيين الذين كتبوا عن شبه الجزيرة العربية ..

المؤرخ اليوناني هيروdit: كتابه «الاستقصاء».

المؤرخ إسترابون: صاحب أقدم كتاب في الجغرافيا الكلاسيكية بعنوان «الجغرافيا».

المؤرخ الروماني بلينيوس: وكتابه «التاريخ الطبيعي» وجاء في كتابه أن في "بلاد العرب شجرة تُسمى كينا كونا تُصنع الملابس منها، وتشبه أوراقها أوراق النخيل".

71 70 69 68 67 66 65 64

64/3 استقرار الإنسان في المملكة العربية السعودية يعود إلى نحو

ألف سنة قبل الميلاد.

- أ) ٦٥٠
ب) ٧٥٠
ج) ٨٥٠
د) ٩٥٠

65/3 من الآثار التي تقع شمال غرب مدينة سكاكا في منطقة الجوف ..

- أ) صفاقة
ب) بنبان
ج) الشَّوْحُحْطِيَّة
د) آبار حَمَى

66/3 تقع صَفَّاقَة بالقرب من ..

- أ) المقر
ب) تاروت
ج) الجبَّة
د) الدوادمي

67/3 في المنطقة الشرقية في موقع تاروت أدلة كثيرة على حضارة ..

- أ) الفراعنة
ب) اليونان
ج) العُبيد
د) الرومان

68/3 أي التالي لا يُعد من المؤرخين الكلاسيكيين الذين كتبوا عن شبه الجزيرة

العربية؟

- أ) إسترابون
ب) هيروdit
ج) بلينيوس
د) سُقراط

69/3 من أبرز المؤلفين الكلاسيكيين الذين كتبوا عن شبه الجزيرة العربية المؤرخ

اليوناني هيروdit، حيث كتب كتابًا سمّاه ..

- أ) التبع
ب) الاستقصاء
ج) الاستقراء
د) الآثار

70/3 يُعد صاحب أقدم كتاب في الجغرافيا الكلاسيكية بعنوان «الجغرافيا» ..

- أ) إسترابون
ب) هيروdit
ج) بلينيوس
د) أفلاطون

71/3 مؤرخ روماني كتب كتابًا اسمه «التاريخ الطبيعي»، وصف فيه بعض

أشجار شبه الجزيرة العربية ..

- أ) إسترابون
ب) هيروdit
ج) بلينيوس
د) أرسطو



الشعر

تميز الشعر العربي بالأصالة والجزالة.

- تنوعت أغراضه في عصر ما قبل الإسلام لتشمل الفخر والحماسة والغزل والهجاء والرثاء وغير ذلك.
- من أهم موروثات هذا الشعر في ذلك العصر المعلقة السبع، وهي قصائد طويلة اشتهر بها عرب شبه الجزيرة العربية، ومن هؤلاء الشعراء: (الأعشى، لييد بن ربيعة، عنترة بن شداد، طرفة بن العبد).



الكتابات العربية القديمة

خط المسند ..

- استعمل في جنوب شبه الجزيرة العربية وشرقها ووسطها، وسُمي بذلك لإسناد نصوصه على ألواح حجرية أو معدنية في المباني والمعابد.
- يتألف من تسعة وعشرين حرفاً ورمز عمودي يفصل بين الحروف، وتمثل هذه الحروف أشكالاً هندسية في دوائر وزوايا.
- تفرّعت من خط المسند حسب تطور الممالك عدة خطوط، مثل: خط الزبور أي الكتابة، والخط الصفوي في شمال شبه الجزيرة العربية، والخط اللّخاني في مملكة دادان ولخيان.
- الخط الفينيقي ..
- من الخطوط التي نشأت في الشام، وانتشر في شمال شبه الجزيرة العربية.
- يُكتب هذا الخط من اليمين إلى اليسار، ويتألف من اثنين وعشرين حرفاً.
- الخط الآرامي ..
- مشتق من الخط الفينيقي، وانتشر مع القبائل الآرامية التي نزحت من جنوب شبه الجزيرة العربية.
- تفرّعت منه عدة خطوط: كالخط السرياني، والخط الحضري، والخط النبطي.

72 قصائد طويلة جدًا بليغة المعنى، ألفاظها وأغراضها متنوعة، وهي أهم موروثات الشعر في ذلك العصر ..

- المعلقات السبع (أ)
- الحوليات (ب)
- العمودية (ج)
- المكلمة (د)

73 من شعراء المعلقة ..

- جرير (أ)
- الأعشى (ب)
- الأخطل (ج)
- عمر بن أبي ربيعة (د)

74 أطلق على الخط المسند هذا الاسم؛ لإسناد نصوصه على ..

- الجريد (أ)
- ألواح حجرية أو معدنية (ب)
- السعف (ج)
- الورق (د)

75 خط يتألف من تسعة وعشرين حرفاً ورمز عمودي يفصل بين الحروف، وتمثل هذه الحروف أشكالاً هندسية في دوائر وزوايا ..

- الفينيقي (أ)
- الآرامي (ب)
- العربي (ج)
- المسند (د)

76 تفرّعت من خط المسند حسب تطور الممالك إلى عدة خطوط، منها ..

- الخط العربي (أ)
- خط الزبور (ب)
- الخط الفينيقي (ج)
- الخط الآرامي (د)

77 الخط اللّخاني وُجد في مملكة ..

- ميتاني (أ)
- سومر وآكاد (ب)
- الآشوريون (ج)
- دادان ولخيان (د)

78 انتشر الخط الفينيقي في شمال شبه الجزيرة العربية، ويكتب من اليمين إلى اليسار، ويتألف من حرفاً.

- ٢١ (أ)
- ٢٢ (ب)
- ٢٣ (ج)
- ٢٤ (د)

79 أي الخطوط التالية يُعد مُشتقاً من الخط الآرامي؟

- السرياني (أ)
- الفينيقي (ب)
- الصفوي (ج)
- المسند (د)



الخط النبطي ..

نشأ في مملكة الأنباط في شمال شبه الجزيرة العربية.

يتألف من اثنين وعشرين حرفاً، ويكتب من اليمين إلى اليسار.

الخط العربي ..

يُعد امتداداً للخطوط الأخرى وبخاصة الخط النبطي.

نزول القرآن الكريم باللغة العربية أعطى الخط العربي أصالته وقوته وانتشاره إلى اليوم.

يُعد الخط المدني من أول الخطوط العربية التي نشأت في الإسلام، إذ كُتبت به المصاحف الأولى والرسائل الصادرة من النبي محمد ﷺ .



أسواق العرب

من أشهر أسواق شبه الجزيرة العربية قبل الإسلام ..

دُوْمَة الجندل في شمال المملكة العربية السعودية في منطقة الجوف، ويتميز بموقعه على عدد من الطرق الجارية آنذاك.

المشقر شرق المملكة في منطقة الأحساء.

هَجْر شرق المملكة في الأحساء.

عكاظ في الطائف، وهو من أهم الأسواق في شبه الجزيرة العربية؛ لشموله التجارة والأدب والسياسة، ويقام قبل موسم الحج.

مَجَنَّة في وادي فاطمة بمكة المكرمة، ويقام في أواخر شهر ذي القعدة.

ذو المَجَاز بالقرب من جبل عرفات في المشاعر المقدسة في مكة المكرمة، ويقام في أول شهر ذي الحجة حتى اليوم الثامن قبل مناسك الحج.

حُبَاشَة في الجنوب الغربي من المملكة العربية السعودية.

بَدْر في منطقة المدينة المنورة.

حجر اليمامة في مدينة الرياض.

الخط 80/3 نشأ في مملكة الأنباط في شمال شبه الجزيرة العربية،

ويتألف من اثنين وعشرين حرفاً.

Ⓐ النُّبْطِي

Ⓑ الأرامي

Ⓒ العربي

Ⓓ الفينيقي

أي الخطوط التالية نزل القرآن الكريم بلغته؟

Ⓐ الخط المُسْنَد

Ⓑ الخط الأرامي

Ⓒ الخط العربي

Ⓓ الخط الفينيقي

يُعد الخط 82/3 من أول الخطوط العربية التي نشأت في الإسلام، إذ

كُتبت به المصاحف الأولى ورسائل النبي محمد ﷺ .

Ⓐ اللُّحْيَانِي

Ⓑ المدني

Ⓒ الزبور

Ⓓ الصفوي

سوق في شمال المملكة العربية السعودية في منطقة الجوف ..

Ⓐ ذو المَجَاز

Ⓑ مَجَنَّة

Ⓒ دُوْمَة الجندل

Ⓓ هَجْر

سوق المشقر في شرق المملكة العربية السعودية في منطقة ..

Ⓐ الأحساء

Ⓑ تبوك

Ⓒ الرياض

Ⓓ نجد

يُعد سوق عكاظ في الطائف، من أهم الأسواق في شبه الجزيرة العربية

لشموله ..

Ⓐ السياحة

Ⓑ الأدب والتجارة والسياسة

Ⓒ الترفيه والزينة

Ⓓ المنافرات

سوق يُقام في وادي فاطمة بمكة المكرمة في أواخر شهر ذي القعدة ..

Ⓐ عكاظ

Ⓑ مَجَنَّة

Ⓒ هجر

Ⓓ دومة الجندل

أي التالي لا يُعد من أسواق العرب؟

Ⓐ دُوْمَة الجندل وهَجْر

Ⓑ ذو المَجَاز وحُبَاشَة

Ⓒ بَدْر وحجر اليمامة

Ⓓ سوق كُنَاسَة



الشخصية العربية



التفاعل والقيم: شهدت شبه الجزيرة العربية محاولات متعددة للاستقرار من حضارات مختلفة عنصرتها الأساس هو العرب.

الدفاع عن شبه الجزيرة العربية: عاشت شبه الجزيرة العربية قبل الإسلام حروبًا طاحنة مع اليونانيين والرومان، ومن الحروب التي حدثت بين العرب والفُرس قبيل الإسلام معركة ذي قار، وانتصر العرب فيها.



الممالك العربية القديمة



دادان ولحيان ..

نشأت مملكة دادان في العُلا في شمال غربي المملكة العربية السعودية في القرن السادس قبل الميلاد.

تحولت مملكة دادان إلى مملكة لحيان في الموضوع نفسه، وانتهت المملكتان بنهاية القرن الأول قبل الميلاد.

تميز المنطقة بشواهد أثرية غنية، مثل: صناعة الفُخار والواجهات الضخمة للمقابر والمنحوتات.

الأنباط ..

من القبائل العربية التي استقرت في جنوب الشام وأطراف شبه الجزيرة العربية، واتخذوا من البتراء عاصمة لهم.

امتد حكم الأنباط في شبه الجزيرة العربية من القرن الرابع قبل الميلاد حتى سنة ١١٧م.

تعد الحجر شمال غربي المملكة العربية السعودية بالقرب من العُلا مركزهم الرئيس الثاني لحضارتهم.

يتميز موقع الحجر بشواهد أثرية عظيمة تتمثل في المقابر المنحوتة في الجبال بأسلوب معماري فريد من نوعه.

88 89 90 91 92 93 94 95

١ ٢ ٣ ٤ ٥ ٦ ٧ ٨

عاشت شبه الجزيرة العربية حروبًا طاحنة مع قبل الإسلام.

- ١) اليونانيين والرومان
٢) يهود خيبر
٣) بني قينقاع
٤) بني قريظة

من الحروب التي حدثت بين العرب والفُرس قبيل الإسلام معركة ، وانتصر فيها العرب على الفرس.

- ١) ذات الصواري
٢) ذي قار
٣) داحس والغبراء
٤) الذنائب

نشأت مملكة دادان ولحيان في العُلا في شمال غربي المملكة العربية السعودية في القرن ..

- ١) الرابع قبل الميلاد
٢) الخامس قبل الميلاد
٣) السادس قبل الميلاد
٤) السابع قبل الميلاد

تحولت مملكة دادان إلى مملكة ..

- ١) الأنباط
٢) كِنْدَة
٣) دُوْمَة الجُنْدَل
٤) لحيان

الأنباط من القبائل العربية التي استقرت في ..

- ١) جنوب الشام
٢) شمال فلسطين
٣) شرق تبوك
٤) غرب مكة المكرمة

عاصمة مملكة الأنباط ..

- ١) فلسطين
٢) حلب
٣) البتراء
٤) دمشق

امتد حُكم الأنباط في شبه الجزيرة العربية من القرن قبل الميلاد حتى سنة ١١٧م.

- ١) الثاني
٢) الثالث
٣) الرابع
٤) الخامس

تُعد المركز الثاني لحضارة الأنباط ..

- ١) كِنْدَة
٢) الفاو
٣) قَيْدَار
٤) الحجر



تتمه الممالك العربية القديمة

◀ مملكة كِنْدَة ..

◀ أسَّست قبيلة كِنْدَة مملكتها بين القرنين الرابع قبل الميلاد والخامس الميلادي.

◀ عاصمتها قرية ذات كَهْل أو التي عُرفت باسم الفاو، والتي تقع في منطقة الرياض.

◀ تميّزت حضارة كِنْدَة بكثير من الجوانب الحضارية خصوصًا في مجال الزراعة، إذ شق أهلها القنوات وزرعوا النخيل وبعض أنواع اللبان والحبوب.

◀ مملكة دُوْمَة الجَنْدَل ..

◀ قامت هذه المملكة العربية القديمة في القرن السابع قبل الميلاد في منطقة الجوف شمال المملكة العربية السعودية.

◀ مركزها مدينة دُوْمَة الجندل التي تُسمَّى عند الآشوريين باسم أدوماتو، وسمَّيت على اسم دوماء بن إسماعيل بن إبراهيم عليه السلام، والجندل في المصادر العربية يعني الصخر.

◀ تقع دُوْمَة الجندل على الطريق التجاري الذي يمر بشبه الجزيرة العربية ويتجه نحو العراق والشام.

◀ من المواقع الحضارية القديمة المحيطة بمنطقة دومة الجندل موقع الشَّوْحَيْطِيَّة؛ حيث يمتد عمره الزمني أكثر من مليون سنة تقريبًا.

◀ الممالك الأخرى نشأ عدد من الممالك العربية الأخرى في عصور قديمة جدًا منها ..

◀ مملكة تَيْمَاء التي عُرفت بِحَضَارَتِهَا المميّزة، وشهدت صراعات بين البابليين والفرس على شبه الجزيرة العربية وطرقها التجارية، وانتهت بسيطرة البابليين على تيماء حقبةً من الزمن.

◀ مملكة ثاج نشأت على يد القبائل التَّنُؤُخِيَّة العربية، وهناك من يُسمِّي هذه المملكة باسم مملكة الجرهاء.

◀ 96/3 تم تأسيس مملكة كِنْدَة بين القرنين الرابع قبل الميلاد والخامس الميلادي

وعاصمتها قرية ..

Ⓐ الحِجْر

Ⓑ أدوماتو

Ⓒ قِيدَار

◀ 97/3 الفاو عاصمة مملكة كِنْدَة وتقع في منطقة ..

Ⓐ الرياض

Ⓑ تبوك

Ⓒ نجد

Ⓓ المدينة

◀ 98/3 تميّزت كِنْدَة بكثير من الجوانب الحضارية خصوصًا في مجال ..

Ⓐ الزراعة

Ⓑ الصناعة

Ⓒ التجارة

Ⓓ السياحة

◀ 99/3 قامت مملكة دُوْمَة الجندل في القرن السابع قبل الميلاد في منطقة ..

Ⓐ حائل

Ⓑ نجران

Ⓒ الجوف

Ⓓ جازان

◀ تُسمَّى مملكة دُوْمَة الجندل عند الآشوريين ..

Ⓐ تيماء

Ⓑ أدوماتو

Ⓒ الشَّوْحَيْطِيَّة

Ⓓ الفاو

◀ الجندل في المصادر العربية يعني ..

Ⓐ الهضبة

Ⓑ الجبل

Ⓒ البحر

Ⓓ الصخر

◀ 102/3 موقع الشَّوْحَيْطِيَّة يمتد عمره الزمني أكثر من سنة تقريبًا.

Ⓐ مئة ألف

Ⓑ خمسين ألف

Ⓒ مليون

Ⓓ ألف

◀ 103/3 مملكة شهدت صراعات بين البابليين والفرس على شبه الجزيرة العربية ..

Ⓐ دادان

Ⓑ ثاج

Ⓒ كِنْدَة

Ⓓ تيماء

◀ 104/3 تُسمَّى مملكة ثاج باسم آخر هو ..

Ⓐ الفاو

Ⓑ أدوماتو

Ⓒ قِيدَار

Ⓓ الجرهاء

96 97 98 99 100 101 102 103 104

Ⓒ Ⓓ Ⓘ Ⓚ Ⓛ Ⓜ Ⓨ Ⓩ



شبه الجزيرة العربية قبيل الإسلام

المعتقدات والأديان ..

انتشر في شبه الجزيرة العربية عبادة الأصنام، ومنها: (وَدَّ وَسُوعٌ وَيَعُوثُ وَيَعُوقُ وَنَسْر).
عبادة الشمس والقمر.

الوضع السياسي: انتشر الاضطراب بين القبائل، والتحالفات، مثل: حلف الرِّبَاب، وحلف الأحابيش، وحلف الفضول، وتمكن قُصي بن كلاب بن مرة الجد الرابع للنبي محمد ﷺ من الحصول على زعامة قريش بعد هزيمتهم لخزاعة، وتولى سيدانة الكعبة والرَّفادة والسَّقاية.



ظهور الإسلام والبعثة النبوية

ولادة النبي ﷺ : ولد بمكة المكرمة يوم الاثنين ١٢ من ربيع الأول في عام الفيل الموافق عام ٥٧١م.
اسمه: محمد بن عبد الله بن عبد المطلب بن هاشم، وأمه آمنه بنت وَهَب.

نشأته: أرضعته خليمة السَّعْدِيَّة وظل عندها نحو أربع سنوات، ثم تُوفِّيت أمه بعد أن بلغ ست سنوات، ثم وَجَدَ الرعاية لدى جده عبد المطلب بن هاشم حتى تُوفِّي وعُمِّر النبي ﷺ ثماني سنوات، ثم رعاه عمُّه أبو طالب.

بناء الكعبة: تصدعت الكعبة المشرفة قبل البعثة النبوية بخمس سنوات، وقررت قريش إعادة بنائها.

الوحي: في شهر رمضان بعد أن بلغ النبي محمد ﷺ أربعين سنة من عمره نزل عليه الوحي في غار حراء، وكانت خديجة ﷺ أول من أسلم، ثم بنات النبي ﷺ، ثم أبو بكر الصديق ﷺ.

الإسراء والمعراج: من المعجزات التي حدثت لنبينا محمد ﷺ، فالإسراء يعني انتقاله ﷺ من المسجد الحرام إلى المسجد الأقصى ورجوعه في الليلة نفسها، والمعراج هو الصعود بالنبي ﷺ من بيت المقدس والعروج به إلى السماء ورجوعه إلى بيت المقدس في الليلة نفسها.

105 106 107 108 109 110 111 112 113

⊖ ⊕ ⊖ ⊕ ⊖ ⊕ ⊖ ⊕ ⊖ ⊕

أي التالي لا يُعد من التحالفات التي وُجدت قبيل الإسلام؟

- أ) الفضول
ب) الرِّبَاب
ج) الأحابيش
د) بيعة العقبة

تمكن قُصي بن كلاب من الحصول على زعامة قريش بعد هزيمتهم لـ ..

- أ) عبد شمس
ب) عبد مناف
ج) خزاعة
د) جُمح

وُلد النبي محمد ﷺ في مكة المكرمة في يوم ..

- أ) الثلاثاء ١٢ ربيع الأول
ب) الاثنين ١٢ ربيع الآخر
ج) الاثنين ١٢ رمضان
د) الاثنين ١٢ ربيع الأول

ظل النبي محمد ﷺ عند خليمة السعدية سنوات.

- أ) تسع
ب) سبع
ج) خمس
د) أربع

تُوفِّيت السيدة آمنه بنت وهب بعد أن بلغ النبي ﷺ سنوات.

- أ) ثلاث
ب) ست
ج) سبع
د) خمس

وجد الرسول ﷺ الرعاية بعد وفاة أمه، من جدّه ..

- أ) أبي طالب بن عبد المطلب
ب) عبد المطلب بن هاشم
ج) حمزة بن عبد المطلب
د) العباس بن عبد المطلب

تصدعت الكعبة قبل البعثة النبوية بـ ..

- أ) ثلاث سنوات
ب) أربع سنوات
ج) خمس سنوات
د) ست سنوات

أول من أسلمت من النساء السيدة ..

- أ) خديجة ﷺ
ب) عائشة ﷺ
ج) سودة بنت زمعة ﷺ
د) مارية القبطية ﷺ

انتقال النبي ﷺ من المسجد الحرام إلى المسجد الأقصى ورجوعه في الليلة

نفسها ..

- أ) سفر
ب) الغزوة
ج) الإسراء
د) المعراج

للبيعة.

أصحابه بالهجرة إلى الحبشة في السنة ١١٤/٣

- السابعة (أ) الرابعة (ب) الخامسة (ج) الثالثة (د)

١١٥/٣ من الصحابة الذين هاجروا إلى الحبشة ..

- أبو بكر الصديق (أ) علي بن أبي طالب (ب) عثمان بن عفان (ج) عمر بن الخطاب (د)

١١٦/٣ أختيرت الحبشة للهجرة؛ لأن ملكها كان معروفًا بـ ..

- التكبر (أ) الظلم (ب) العدل (ج) الإيمان (د)

١١٧/٣ أهل البيعة الأولى كان عددهم ..

- ١٣ (أ) ١٢ (ب) ١٤ (ج) ١٥ (د)

١١٨/٣ جاء ثلاثة وسبعون رجلاً وامرأتان من الأوس والخزرج إلى العقبة في ..

- المدنية (أ) المزدلفة (ب) الحديبية (ج) مينة (د)

١١٩/٣ كان أهل البيعة الثانية من قبيلتي ..

- كلاب وتيم (أ) فُصي وعبد العزى (ب) الأوس والخزرج (ج) لؤي ومُجَح (د)

١٢٠/٣ أول مكان يصل إليه النبي محمد ﷺ في المدينة المنورة ..

- أحد (أ) فُباء (ب) خيبر (ج) بدر (د)

١٢١/٣ أقام الرسول ﷺ في فُباء لما خرج من مكة المكرمة .. يوماً.

- أربعة عشر (أ) اثني عشر (ب) سبعة عشر (ج) تسعة عشر (د)

١٢٢/٣ أضخم توسعة شهدها المسجد النبوي حدثت في عهد الملك ..

- فهد بن عبد العزيز (أ) عبد العزيز بن عبد الرحمن (ب) سعود بن عبد العزيز (ج) عبد الله بن عبد العزيز (د)

الهجرة النبوية



إلى الحبشة ..

حدثت في السنة الخامسة للبيعة نتيجة لاشتداد الاضطهاد على رسول الله ﷺ وصحابته.

كان من بين المهاجرين زُبيّة بنت النبي ﷺ وزوجها عثمان بن عفان ، وبعدها هاجرت مجموعة أخرى للحبشة، ومعهم جعفر بن أبي طالب.

تم اختيار الحبشة؛ لأن ملكها النجاشي كان معروفًا بالعدل والوقوف مع أهل الحق.

بيعتا العقبة ..

وصلت أخبار دعوة النبي ﷺ إلى يثرب (المدينة المنورة) فلقى النبي ﷺ ستة من الخزرج فأسلموا وعادوا إلى يثرب ونشروا الإسلام فيها، وفي العام التالي رجع هؤلاء الستة ومعهم ستة آخرون وعقدوا بيعة العقبة الأولى.

في العام الذي بعده جاء ثلاثة وسبعون رجلاً وامرأتان من الأوس والخزرج إلى العقبة في مينة ويايعوا النبي محمدًا ﷺ بيعة العقبة الكبرى (الثانية). الهجرة إلى المدينة المنورة: جاء أمر الله ﷻ إلى الرسول ﷺ بالهجرة فاستعد وهاجر إليها.



التاريخ الهجري وقبة المسلمين

التاريخ الهجري: كان أول مكان يصل إليه النبي محمد ﷺ في المدينة المنورة هو فُباء والتي أقام فيها نحو أربعة عشر يومًا، وبني مسجد فُباء الذي هو أول مسجد بُني في الإسلام، واتخذ المسلمون من هذا اليوم بداية للتاريخ الهجري.

بناء المسجد النبوي: بدأ النبي محمد ﷺ في بناء المسجد ومعهم المهاجرون والأنصار، وبعد ست سنوات زاد النبي محمد ﷺ في بناء المسجد مساحة وجودة في البناء، وحظي المسجد بعناية الخلفاء والأمراء، وحدثت أضخم توسعة شهدها المسجد النبوي في عهد الملك فهد بن عبد العزيز في عام ١٤٠٥هـ.



تمة التاريخ الهجري وقبلة المسلمين



◀ تحويل القبلة: كانت القبلة باتجاه المسجد الأقصى سابقًا، وصلى النبي ﷺ باتجاه المسجد الأقصى ستة عشر شهرًا، ونزل الأمر من الله بتحويل القبلة إلى مكة المكرمة، وما زال في المدينة المنورة مسجد القبلتين الذي تحول فيه الصحابة في صلاتهم.



وثيقة المدينة المنورة



◀ الدولة في العهد النبوي: أسس النبي محمد ﷺ دولة تنشر السلام، عاصمتها المدينة المنورة، وزاد اتساعها في عهد الخلفاء الراشدين، وآخى ﷺ بين المهاجرين والأنصار.

◀ المؤاخاة: تُعد إحدى إنجازات الدولة في العصر النبوي؛ حيث تكوّن مجتمع انعدمت فيه جميع أسباب الخلافات والتزاعات، وأصبحت المؤاخاة بين المهاجرين والأنصار نموذجا للتآلف والمحبة.

◀ اسم المدينة المنورة: قديما كانت تُسمى (يَثْرِب)، وكانت تقوم على الزراعة والرعي، وعندما قدم إليها النبي محمد ﷺ غيّر اسمها إلى المدينة وطَيِّبَ أو طابَة. وثيقة المدينة المنورة: نظمت الوثيقة العلاقة بين اليهود والمسلمين من حيث العيش بسلام، والحصول على حقوقهم كافة، والتزامهم تجنب نصره الأعداء.



معالم تاريخية إسلامية



◀ تتميز المملكة العربية السعودية بمعالم تاريخية إسلامية، وهي: جبل النور، الأبواء، الحديبية، مسجد البيعة، بَدْر، أُحُد، بئر رومة، عقرباء، سوق عكاظ، درب رُبَيْدة، مسجد الخليفة عمر بن الخطاب، قصر سعيد بن العاص، جُوَاثا، جُرَش، الأخدود.

◀ جبل النور: يقع شمال شرق المسجد الحرام بمكة المكرمة على مسافة ٤ كم، وفي قمته غار حِراء. ◀ الأبواء: موقع إحدى غزوات النبي محمد ﷺ التي وقعت في السنة الثانية للهجرة.

123 ◀ صلى النبي ﷺ باتجاه المسجد الأقصى قبل تحويل القبلة شهرًا.

ب) سبعة عشر

أ) تسعة عشر

د) ستة عشر

ج) خمسة عشر

124 ◀ أسس النبي محمد ﷺ دولة تنشر الإسلام عاصمتها ..

ب) مكة المكرمة

أ) قريش

د) المدينة المنورة

ج) خيبر

125 ◀ المؤاخاة بين المهاجرين والأنصار تُعد إحدى إنجازات الدولة في العصر ..

ب) النبوي

أ) الأموي

د) الخلفاء الراشدين

ج) العباسي

126 ◀ كان اسم المدينة المنورة قديما ..

ب) صحراء الربع الخالي

أ) جازان

د) الطائف

ج) يثرب

127 ◀ من أسماء المدينة المنورة ..

ب) الفاو

أ) طيبة

د) الحجاز

ج) تبوك

128 ◀ وثيقة المدينة المنورة نظمت العلاقة بين المسلمين و ..

ب) النصارى

أ) اليهود

د) المشركين

ج) الملحدون

129 ◀ أي التالي لا يُعد من المعالم التاريخية التي تتميز بها المملكة العربية السعودية؟

ب) الحديبية ومسجد البيعة

أ) جبل النور والأبواء

د) آشور ونيوى

ج) بدر وأحد وبئر رومة

130 ◀ جبل يقع شمال شرق المسجد الحرام بمكة المكرمة على مسافة ٤ كم ..

ب) الأبواء

أ) أحد

د) النور

ج) الحديبية

131 ◀ موقع لإحدى غزوات النبي محمد ﷺ التي وقعت في السنة الثانية

ب) تبوك

أ) الأبواء

د) أحد

ج) خيبر

123 124 125 126 127 128 129 130 131

أ) ب) ج) د) أ) ب) ج) د) أ) ب) ج) د) أ) ب) ج) د)



تتمتع معالم تاريخية إسلامية

الحديبية: هو الموضع الذي حدث فيه الصلح بين النبي محمد ﷺ وقريش بتأجيل أداء العمرة إلى العام المقبل، وشهد بيعة الرضوان التي تمت بين النبي محمد ﷺ وصحابته على قتال قريش.

مسجد البيعة: شهد هذا الموقع البيعة بين النبي محمد ﷺ والأوس والحزرج.

بدر: الموضع الذي دارت فيه غزوة بدر.

أحد: الموضع الذي دارت فيه غزوة أحد.

بئر رومة: هي في الشمال الغربي من المدينة المنورة قرب أحد شعاب وادي العقيق، وقد اشتراها الخليفة عثمان بن عفان ﷺ ليشرّب منها أهالي المدينة المنورة.

طريق الهجرة النبوية: وهو الطريق الذي سلكه النبي محمد ﷺ وصاحبه الخليفة أبو بكر الصديق ﷺ في الهجرة من مكة المكرمة إلى المدينة المنورة.

عقرباء: الموضع الذي شهد معارك حرب الردّة في عهد الخليفة أبي بكر الصديق ﷺ.

سوق عكاظ: موضع لأشهر أسواق العرب قبل الإسلام وفي عصر صدر الإسلام.

درب زبيدة: طريق للحجاج من الكوفة بالعراق إلى مكة المكرمة، أنشأته زبيدة زوجة هارون الرشيد.

مسجد الخليفة عمر بن الخطاب ﷺ: يعود بناء هذا المسجد إلى عهد الخليفة عمر بن الخطاب ﷺ، وهو في دومة الجندل بمنطقة الجوف.

قصر سعيد بن العاص ﷺ: بناه سعيد بن العاص أمير المدينة المنورة في عهد معاوية بن أبي سفيان ﷺ.

جواثا: موضع أول مسجد أقيمت فيه صلاة الجمعة في الإسلام بعد المسجد النبوي.

جرش: من المدن المشهورة على طريق التجارة في عصور ما قبل الإسلام وبعده.

الأخدود: موضع مشهور ورد ذكره في القرآن الكريم في سورة البروج، وهو في مدينة نجران.

139 138 137 136 135 134 133 132

⊖ ⊖ ⊖ ⊖ ⊖ ⊖ ⊖ ⊖

132 3 موضع شهد فيه بيعة الرضوان التي تمت بين النبي ﷺ وصحابته ..

- Ⓐ مسجد البيعة
Ⓑ الحديبية
Ⓒ بدر
Ⓓ أحد

133 3 بئر اشتراها الخليفة عثمان بن عفان ﷺ ليشرّب منها أهالي المدينة

- Ⓐ رومة
Ⓑ الحديبية
Ⓒ جواثا
Ⓓ عكاظ

134 3 موضع شهد معارك حرب الردّة في عهد الخليفة أبي بكر الصديق ..

- Ⓐ أحد
Ⓑ عقرباء
Ⓒ جواثا
Ⓓ جرش

135 3 طريق للحجاج من الكوفة بالعراق إلى مكة المكرمة ..

- Ⓐ بدر
Ⓑ أحد
Ⓒ جرش
Ⓓ درب زبيدة

136 3 قصر سعيد بن العاص أمير المدينة المنورة بناه في عهد ..

- Ⓐ أبي عبيد بن الجراح
Ⓑ معاوية بن أبي سفيان
Ⓒ معاذ بن جبل
Ⓓ سعيد بن عامر

137 3 موضع أول مسجد أقيمت فيه صلاة الجمعة في الإسلام بعد المسجد

- Ⓐ النبي ..
Ⓑ جبل النور
Ⓒ الأخدود
Ⓓ جواثا
Ⓔ الأبواء

138 3 موضع مشهور ورد ذكره في القرآن الكريم في سورة البروج ..

- Ⓐ بدر
Ⓑ الأخدود
Ⓒ عقرباء
Ⓓ أحد

139 3 الأخدود يوجد في مدينة ..

- Ⓐ دمشق
Ⓑ نجران
Ⓒ مكة المكرمة
Ⓓ يثرب



جذور تأسيس الدولة السعودية



استقرار بني حنيفة: تعود جذور الدولة السعودية للأسرة المالكة (آل سعود)، التي ترجع إلى بني حنيفة من قبائل بكر بن وائل، وقد قدمت من الحجاز إلى اليمامة قبل الإسلام بقرنين.

نشأة المدن: في النصف الثاني من القرن الثالث الهجري في عام ٢٥٣هـ استولى محمد الأخيضر على اليمامة، واتخذ الخضرمة قاعدة لملكه، وكان لبني الأخيضر أثر كبير في تهجير بعض سكان اليمامة من بني حنيفة وغيرهم.



إمارة الدرعية



قرّر مانع المُرَيْدِي في عام ٨٥٠هـ الانتقال بأسرته من شرق شبه الجزيرة العربية إلى العارض في نجد بدعوة من ابن عمه ابن دُزَع صاحب حَجْر والجزعة، فمنحهم موضعي المَلْبَيْدِ وِغُصْبِيَّة، فاستقرّ فيها مانع بأسرته، وأصبحت بعد ذلك مناطق عامرة بالسكان والزراعة، وأنشأ فيهما بلدة قوية سُمِّيَت الدرعية.

بعدما أنشأ مانع الدرعية بدأ في تعميرها وازداد سكانها، وتعاقب أبنائه بعد موته على حكمها. في عام ١١٣٢هـ تولّى إمارة الدرعية «سعود بن محمد بن مقرن» الذي تُسَمَّى الأسرة المالكة باسمه اليوم.



الدولة السعودية الأولى: التأسيس



بدء التأسيس ..

تولّى الإمام محمد بن سعود الإمارة في الدرعية عام ١١٣٩هـ.

في عام ١١٣٩هـ تأسست الدولة السعودية الأولى وعاصمتها الدرعية، وتحوّلت الدرعية في عهده إلى دولة واسعة النفوذ تسيطر على معظم شبه الجزيرة العربية بفضل سياساته ومواقفه.

التقى الإمام محمد بن سعود بالشيخ محمد بن عبد الوهاب في عام ١١٥٧هـ وقدم له التأييد الكامل للدعوة التي توائم أهدافها الإسلامية الصحيحة أسس الدولة السعودية الأولى.

148 147 146 145 144 143 142 141 140

1 2 3 4 5 6 7 8 9

ترجع أصول الأسرة المالكة (آل سعود) إلى ..

- أ) بني تميم
ب) بني خالد
ج) بني حنيفة
د) بني رشيد

قدمت بنو حنيفة من الحجاز إلى اليمامة قبل الإسلام بـ ..

- أ) قرن
ب) قرنين
ج) ثلاثة قرون
د) أربعة قرون

استولى محمد الأخيضر على اليمامة في سنة ..

- أ) ٢٥٣هـ
ب) ٢٥٤هـ
ج) ٢٥٥هـ
د) ٢٥٦هـ

تم تأسيس مدينة الدرعية عام ..

- أ) ٧٥٠هـ
ب) ٢٥٤هـ
ج) ٨٥٠هـ
د) ٢٥٦هـ

أنشأ بلدة الدرعية الجديدة ..

- أ) ابن درع
ب) الإمام محمد بن سعود
ج) مانع المريدي
د) الإمام تركي بن عبد الله

تولّى الإمام محمد بن سعود بن مقرن إمارة الدرعية عام ..

- أ) ١١٣٢هـ
ب) ١١٣٥هـ
ج) ١١٣٩هـ
د) ١١٤٠هـ

أسس الدولة السعودية الأولى الإمام ..

- أ) محمد بن سعود
ب) تركي بن عبد الله
ج) تركي بن سعود
د) عبد العزيز بن سعود

عاصمة الدولة السعودية الأولى ..

- أ) العيينة
ب) الدرعية
ج) الرياض
د) المجمعة

من المشايخ الذين قدموا التأييد للإمام محمد بن سعود في عام ١١٥٧هـ ..

- أ) محمد بن عبد الوهاب
ب) عبد العزيز ابن باز
ج) عبد الله بن فيروز
د) إسماعيل بن محمد العجلوني



الدولة السعودية الأولى: توحيد البلاد



◀ المرحلة الأولى: تم فيها ضم ..

بلدان نجد ، شمال البلاد ، الأحساء

◀ المرحلة الثانية: تم فيها ضم ..

جنوب غرب البلاد ، الحجاز



المرحلة الأولى لتوحيد البلاد



◀ ضم بلدان نجد ..

◀ نجحت الدولة السعودية الأولى في تلك المرحلة

التأسيسية المهمة في عهد الإمام محمد بن سعود في

ضم عدد من بلدان نجد، مثل: **ضَرْماء**، و**محافظة**

الوشم التي تقع شمال غرب الرياض ويوجد بها مدينة

شُقْرَاء، و**محافظة سدير** التي تقع شمال شرق الرياض.

◀ واجهت الدولة هجوم بني خالد بقيادة زعيمهم

عريعر بن دجين عام ١١٧٢هـ الذي باء بالفشل،

كما هُزمت أمام زعيم نجران، وحدثت لها انتكاسة لكن

الأمر انتهى بصلح بين الطرفين تبادلوا فيه الأسرى.

◀ نهضت الدولة من كبوتها بعد تولي الإمام عبد

العزیز بن محمد مقاليد الحكم بعد وفاة أبيه عام

١١٧٩هـ، وضم الإمام عبد العزيز وسط نجد

وبعض بلدان القصيم، وسيطر على الرياض

سنة ١١٨٧هـ.

◀ ضم شمال البلاد ..

◀ تمكنت الدولة السعودية من توحيد منطقة جبل

شَمْر والمناطق الواقعة منه شمالاً، مثل: دُوْمَة الجُنْدَل.

◀ تمكنت الدولة السعودية من ضم معظم مناطق

الجوف والمناطق المحيطة سنة ١٢٠٨هـ.

◀ ضم الأحساء ..

◀ بدأت الدرعية جهودها لضم الأحساء، رغبة في

توحيد شرق الجزيرة العربية.

◀ قاد سعود بن عبد العزيز حملة كبيرة، وهزم زعيم

بني خالد براك بن عبد المحسن في معركة الشَّيْط

سنة ١٢٠٧هـ، وضم الأحساء.

149 ◀ المرحلة الثانية لتوحيد البلاد في الدولة السعودية الأولى ضمت ..

3

أ) الأحساء وبلدان نجد

ب) جنوب غرب البلاد والحجاز

ج) شمال البلاد والأحساء

د) بلدان نجد والحجاز

150 ◀ محافظة تقع شمال غرب الرياض، وتوجد فيها مدينة شُقْرَاء ..

3

أ) حوطة بني تميم

ب) وادي الدواسر

ج) سدير

د) الوشم

151 ◀ محافظة تقع شمال شرق الرياض ..

3

أ) سدير

ب) وادي الدواسر

ج) حوطة بني تميم

د) الوشم

152 ◀ تولى الإمام عبد العزيز بن محمد مقاليد الحكم بعد وفاة أبيه عام ..

3

أ) ١١٧٩هـ

ب) ١١٨٨هـ

ج) ١١٩٧هـ

د) ١١٩٩هـ

153 ◀ سيطر الإمام عبد العزيز بن محمد على الرياض عام ..

3

أ) ١١٨٨هـ

ب) ١١٧٧هـ

ج) ١١٧٨هـ

د) ١١٨٧هـ

154 ◀ تمكَّنت الدولة السعودية الأولى من ضم معظم مناطق الجوف عام ..

3

أ) ١١٧٩هـ

ب) ١١٨٧هـ

ج) ١٢٠٨هـ

د) ١٢٠٩هـ

155 ◀ قاد الإمام حملة كبيرة وتمكَّن من ضم الأحساء عام ..

3

أ) محمد بن سعود - ١٣٠٧هـ

ب) عبد الله بن سعود - ١١٩٨هـ

ج) سعود بن عبد العزيز - ١٢٠٧هـ

د) عبد العزيز آل سعود - ١٢١٧هـ

156 ◀ دخلت الأحساء تحت الحكم السعودي بعد هزيمة زعيم بني خالد في معركة ..

3

أ) بيشة

ب) الشنانة

ج) الحائر

د) الشَّيْط

149 150 151 152 153 154 155 156
ب د ا د ا ا د د ج د



المرحلة الثانية لتوحيد البلاد



ضم جنوب غرب البلاد ..

مهد وصول القوات السعودية إلى يثبنة الطريق لتوحيد عسير لا سيما بعد انضمام بعض زعماء الإقليم، كعبد الوهاب أبو نقطة إلى الدرعية.

دخلت القوات السعودية المخلاف السليماني وصار لها مؤيدون هنالك فأعلن أمير أبو عريش الشريف حمود أبو مسمار ولاءه للسعوديين.

ضم الحجاز ..

عادى أشرف الحجاز الدعوة، ومنعوا أتباعها من أداء الحج، وجهز الشريف غالب حملة عسكرية إلى نجد سنة ١٢١٠هـ، والتقت قواته بالقوات السعودية في الجمانيّة ودارت معركة مهمة خسرها الأشراف وتحول موقفهم من الهجوم إلى الدفاع وازدادت أوضاعهم سوءاً بدخول قبائل أخرى في الحجاز تحت طاعة الدولة السعودية الأولى، فجنح الشريف غالب إلى مصالحة قيادة الدولة السعودية الأولى سنة ١٢١٣هـ وسمح لهم بالحج.

انضم عثمان المضايقي إلى الدولة السعودية وسيطرته على الطائف، توجه سعود بن عبد العزيز بحملة كبيرة إلى مكة، وسيطر عليها بعد انسحاب الشريف غالب إلى جدة تاركاً أخاه عبد المعين أميراً على مكة.

بعد أن غادر سعود الحجاز عاد الشريف غالب، وأجبر الحماية السعودية على الانسحاب فعادت الحرب بينهما، فاضطر الشريف غالب إلى طلب الصلح عام ١٢٢١هـ على أن يبقى في إمارته، وخاصة بعد أن أعلنت المدينة ولاءها للسعوديين عام ١٢٢٠هـ.

157 أي التالي يندرج ضمن توحيد البلاد في المرحلة الثانية؟

- 1 ضم بلدان نجد
2 ضم الحجاز
3 ضم شمال البلاد
4 ضم الأحساء

158 من الأسباب التي سهلت سيطرة السعوديين على عسير ..

- 1 السيطرة على بيثنة
2 ضعف الجنوب الغربي
3 تراجع الشريف حمود
4 بعدها عن سيطرة العثمانيين

159 زعيم انضم إلى الدعوة الإصلاحية فمهد للسعوديين ضم عسير ..

- 1 عثمان المضايقي
2 براك بن عبد المحسن
3 عبد الوهاب أبو نقطة
4 الشريف حمود أبو مسمار

160 تقابلت جنود الشريف غالب والقوات السعودية في ..

- 1 السد
2 العيننة
3 الدرعية
4 الجمانيّة

161 انضم إلى الدولة السعودية وسيطر على الطائف ففتح الطريق لمكة ..

- 1 عبد المعين
2 عثمان المضايقي
3 الشريف حمود
4 عبد الوهاب أبو نقطة

162 توجه سعود بن عبد العزيز بحملة إلى مكة فانسحب الشريف غالب

إلى ..

- 1 جدة
2 عرعر
3 بيثنة
4 الطائف

163 تم الصلح بين السعوديين والشريف غالب عام على أن يبقى

في إمارته.

- 1 ١٢٢١هـ
2 ١٢٢٥هـ
3 ١٢٢٩هـ
4 ١٢٣٠هـ

164 أعلنت المدينة ولاءها للسعوديين عام ..

- 1 ١٢٢٥هـ
2 ١٢٢٩هـ
3 ١٢٢٠هـ
4 ١٢٢٣هـ

157 158 159 160 161 162 163 164

1 2 3 4 5 6 7 8



مواجهة الحملات العثمانية

يعود السبب الرئيس في سقوط الدولة السعودية الأولى إلى تكالب الأعداء عليها نتيجة لقوتها واتساع نفوذها، وتعدّ الدولة العثمانية أبرز أعدائها التي عملت على إنهاؤها بكل الوسائل منذ لحظة ضمها الحجاز وتوليها شرف خدمة الحرمين الشريفين خدمة صحيحة.

أرسلت الدولة العثمانية عددًا من الحملات عن طريق ولايتها في العراق والشام بدأت سنة ١٢١١هـ لكنها باءت كلها بالفشل.

بدأت حملات محمد علي بقيادة ابنه طوسون عام ١٢٢٦هـ، واتجهت من ينبع إلى المدينة والطائف حتى وصلت القصيم مستفيدة من وفاة الإمام سعود بن عبد العزيز مما أضعف الدولة السعودية.

في القصيم لم يستطع طوسون دخولها، فوقع صلحًا مع الإمام عبد الله بن سعود وعاد إلى مصر عام ١٢٣٠هـ. عام ١٢٣١هـ — جهّز محمد علي باشا حملة كبيرة واستولى على مكة المكرمة.



بعض معارك الدفاع ١٢٢٦-١٢٢٩هـ

معركة وادي الصفراء عام ١٢٢٦هـ: حيث تقابلت القوات السعودية بالقوات العثمانية بقيادة طوسون بالقرب من المدينة المنورة، ولكنها باءت بالفشل.

معركة المدينة المنورة: وصلت القوات العثمانية بقيادة أحمد بن نابرت إلى المدينة المنورة في عام ١٢٢٧هـ ولضخامة قوات الدولة العثمانية أدى ذلك إلى استسلام السعوديين.

معركة ثرية: اتجهت الحملة المعتدية بقيادة طوسون إلى ثرية عام ١٢٢٨هـ، ومن أبطال المعركة ضد القوات المعتدية «غالية البقمية» التي أخفت مرض زوجها حاكم البلدة.

معركة الطائف: تمكنت القوات المعتدية في عام ١٢٢٨هـ ويساندها الشريف غالب في السيطرة على قصر بسنل شرق الطائف، واستشهد عثمان المضايقي.

معركة القنفذة: أحرز السعوديون نصرًا كبيرًا على الحملة المعتدية الغازية في القنفذة على البحر الأحمر في عام ١٢٢٩هـ.

165 من نتائج انضمام الحجاز إلى السعودية أنها كانت سببًا في ..

- ١ إصرار الدولة العثمانية على هزيمة الدولة السعودية
٢ اعتراف العالم بنشأة الدولة
٣ ضم المدن الباقية لتكوين حدود الدولة
٤ لكسب الأمن والأمان للدولة

166 أرسلت الدولة العثمانية عددًا من الحملات عن طريق ولايتها في ..

- ١ تونس والمغرب
٢ مصر والأردن
٣ مصر وفلسطين
٤ العراق والشام

167 بدأت أولى حملات الدولة العثمانية على الدولة السعودية سنة ..

- ١ ١٢١٠هـ
٢ ١٢١١هـ
٣ ١٢٢١هـ
٤ ١٢٢٢هـ

168 بدأت حملات محمد علي على الدولة السعودية الأولى عام ..

- ١ ١٢٢٥هـ
٢ ١٢٢٦هـ
٣ ١١٣٠هـ
٤ ١١٣١هـ

169 من أسباب ضعف الجبهة السعودية أمام طوسون ..

- ١ وفاة الإمام سعود
٢ قلة الإمدادات والأسلحة
٣ قدوم محمد علي بنفسه
٤ ضعف الدعوة الإصلاحية

170 وصلت القوات العثمانية بقيادة إلى المدينة المنورة في عام ١٢٢٧هـ.

- ١ طوسون
٢ أحمد بن نابرت
٣ عثمان المضايقي
٤ محمد علي

171 كانت معركة ثرية ضد القوات العثمانية عام ..

- ١ ١٢٥٨هـ
٢ ١٢٢٨هـ
٣ ١٣٥٧هـ
٤ ١٢٨٢هـ

172 من أبطال معركة ثرية ضد القوات العثمانية ..

- ١ سعود بن عبد العزيز
٢ عبد الله بن سعود
٣ غالية البقمية
٤ الشريف غالب

173 تمكنت القوات العثمانية من السيطرة على الطائف في عام ..

- ١ ١٢٢٨هـ
٢ ١٢٢٧هـ
٣ ١٢٢٥هـ
٤ ١٢٢١هـ

173 172 171 170 169 168 167 166 165
١ ٢ ٣ ٤ ١ ٢ ٣ ٤ ١



بعض معارك الدفاع ١٢٣٠-١٢٣٣ هـ



◀ معركة حصن بَجْرُوش ..

◀ حاصرت القوات المعتدية حصن بَجْرُوش بن
عَلَّاس في عام ١٢٣٠ هـ.

◀ مع كثرة العثمانيين تمكن بَجْرُوش والسعوديون
من هزيمتهم وقتلوا أكثر من ألف من مقاتليهم.

◀ واصل العثمانيون مطاردة بَجْرُوش وقتلوه شهيدًا.
◀ معركة طَبَّ بعسير ..

◀ تمكن طامي بن شعيب ورجاله في عسير من
مواجهة القوات المعتدية في عام ١٢٣٠ هـ.

◀ قبضت القوات العثمانية على طامي وأرسلته
إلى مصر حيث قُتل هناك شهيدًا.

◀ معركة الرَّس ..

◀ سارت الحملة المعتدية بقيادة طوسون في عام
١٢٣٠ هـ من المدينة المنورة باتجاه الدرعية لإنهاء
الدولة السعودية الأولى.

◀ واجهت الحملة مقاومة شديدة عند حصارها
مدينة الرس بالقصيم نتج عنها موافقة طوسون
على مصالحة الإمام عبد الله بن سعود.

◀ حصار الرَّس ..

◀ وصلت الحملة المعتدية إلى القصيم لتدمير
الدرعية عام ١٢٣٢ هـ بقيادة إبراهيم باشا.

◀ تولى قيادة الدفاع الشيخ قُرْناس بن عبد الرحمن
بعد إصابة أمير الرس وتمكن هو ورجاله بعد
مقاومة باسلة من إفشال الحملة.

◀ أضطر العثمانيون إلى اللجوء للمصالحه.

◀ معركة النار ..

◀ في وادي حنيفة دارت معركة في نخل سَمْحَة في
الليل بين القوات العثمانية والسعوديين عام
١٢٣٣ هـ.

◀ اشتعلت النار في النخيل واستبسل السعوديين
مع فارق العتاد والعُدَّة.

174 ◀ حاصرت القوات العثمانية حصن بَجْرُوش في عام ..

Ⓐ ١٢٣٠ هـ

Ⓑ ١٢٣١ هـ

Ⓒ ١٢٣٢ هـ

Ⓓ ١٢٣٣ هـ

Ⓐ ١٢٣٠ هـ

Ⓑ ١٢٣٢ هـ

175 ◀ قتل بَجْرُوش والمواطنون السعوديون من القوات العثمانية أكثر من مقاتل.

Ⓐ ألفين

Ⓑ ثلاثة آلاف

Ⓒ أربعة آلاف

176 ◀ قتلت القوات العثمانية طامي بن شعيب شهيدًا في ..

Ⓐ الرَّس

Ⓑ عسير

Ⓒ الشام

Ⓓ مصر

177 ◀ كانت الحملة العثمانية في معركة الرَّس بقيادة ..

Ⓐ محمد علي

Ⓑ طوسون

Ⓒ طامي بن شعيب

Ⓓ إبراهيم باشا

178 ◀ تحركت القوات العثمانية في معركة الرَّس من ..

Ⓐ عسير

Ⓑ المدينة المنورة

Ⓒ مكة المكرمة

Ⓓ القصيم

179 ◀ اضطرت الحملة العثمانية في معركة الرَّس بعد بسالة السعوديين إلى مصالحة ..

Ⓐ عبد الله بن سعود

Ⓑ قُرْناس بن عبد الرحمن

Ⓒ محمد بن مشاري بن معمر

Ⓓ فيصل بن تركي آل سعود

180 ◀ الغرض من حصار القوات العثمانية لمدينة الرس تدمير ..

Ⓐ عسير

Ⓑ الدرعية

Ⓒ المدينة المنورة

Ⓓ الرَّس

181 ◀ تولى قيادة الدفاع عن حصار مدينة الرس بعد إصابة أميرها ..

Ⓐ عبد الله بن سعود

Ⓑ محمد بن مشاري بن معمر

Ⓒ فيصل بن تركي آل سعود

Ⓓ قُرْناس بن عبد الرحمن

182 ◀ دارت معركة في نخل سَمْحَة في الليل في عام ..

Ⓐ ١٢٣٦ هـ

Ⓑ ١٢٣٤ هـ

Ⓒ ١٢٣٥ هـ

Ⓓ ١٢٣٣ هـ

Ⓐ ١٢٣٦ هـ

Ⓑ ١٢٣٥ هـ

182 181 180 179 178 177 176 175 174

Ⓐ Ⓑ Ⓒ Ⓓ Ⓐ Ⓑ Ⓒ Ⓓ Ⓐ

183/3 سقطت الدولة السعودية الأولى بعد حصار الدرعية مدة تزيد على ..

- Ⓐ خمسة أشهر
Ⓑ شهر
Ⓒ ستة أشهر
Ⓓ شهرين

184/3 قرر عبد الله بن سعود الاستسلام مقابل حماية الناس في عام ..

- Ⓐ ١٢٢١هـ
Ⓑ ١٢٣٦هـ
Ⓒ ١٢٣٣هـ
Ⓓ ١٢٣٤هـ

185/3 حمل حاكم وأمير الدولة السعودية الأولى لقب ..

- Ⓐ الإمام
Ⓑ الرئيس
Ⓒ صاحب الجلالة
Ⓓ خادم الحرمين

186/3 من أهم واجبات الإمام في الدولة السعودية الأولى ..

- Ⓐ تعيين الموظفين
Ⓑ جمع الزكاة
Ⓒ قيادة الجيوش
Ⓓ تحصيل الضرائب

187/3 من أسس الحكم في الدولة السعودية الأولى اختيار ولي العهد ولا يصير

- Ⓐ إمامًا إلا بعد ..
Ⓑ الاقتراع
Ⓒ الشورى
Ⓓ مبايعته

188/3 من موارد بيت المال في الدولة السعودية الأولى ..

- Ⓐ الجزية
Ⓑ غنائم الحملات
Ⓒ الضرائب
Ⓓ جمارك البضائع

189/3 مؤسس الدولة السعودية الثانية ..

- Ⓐ عبد العزيز آل سعود
Ⓑ تركي بن عبد الله
Ⓒ سعود بن عبد العزيز
Ⓓ فيصل بن محمد

190/3 قامت الدولة السعودية الثانية سنة ..

- Ⓐ ١٢٤١هـ
Ⓑ ١٢٤٣هـ
Ⓒ ١٢٣٧هـ
Ⓓ ١٢٤٠هـ

191/3 عاصمة الدولة السعودية الثانية ..

- Ⓐ الرياض
Ⓑ الدرعية
Ⓒ الغيبة
Ⓓ ضراء



الدولة السعودية الأولى: نهاية الدولة

- توجهت الحملة العثمانية من مصر إلى الدرعية بأعداد ضخمة بقيادة إبراهيم باشا، وحاصرها مدة تزيد على ستة أشهر.
- استسلم عبد الله بن سعود في عام ١٢٣٣هـ حماية للناس وقتل في إسطنبول، وأحرق إبراهيم باشا الدرعية.



الدولة السعودية الأولى: الجوانب الحضارية

- الإمام (الحاكم): يتولى إدارة البلاد ولقب بالإمام أو الأمير، ومن أهم واجباته: الإشراف على شؤون الدولة وقيادة الجيوش أو تعيين من يراه لقيادتها.
- ولاية العهد: يختار الإمام ولي العهد وتم مبايعته، وأصبحت البيعة جزءًا من نظام الحكم.
- الجيش: يقوم على أساس دعوة الإمام للنواحي والبلدان لتجهيز الجيوش، ويُحدّد للمحاربين زمان ومكان للتجمع عند العزور.
- بيت المال: يتولى الأمور المالية للدولة، ومن أبرز موارده: زكاة الحبوب والثمار والذهب والفضة والأنعام وغنائم الحملات، وغيرها.
- الحياة العلمية: أصبحت الدرعية مركزًا للعلم والمعرفة، وازداد العلماء، وانتشرت الكتاتيب.



الدولة السعودية الثانية: التأسيس

- الإمام تركي بن عبد الله: أسس الدولة السعودية الثانية عام ١٢٤٠هـ بعد أقل من سبع سنوات من سقوط الدولة السعودية الأولى.
- بعد سقوط الدرعية فر الإمام تركي بن عبد الله إلى جبل علية بالقرب من الرياض، وكان يترقب إخراج المحتلين وإعادة الدولة السعودية.
- واصل الإمام تركي مواجهاته مع العثمانيين في الرياض وما حولها حتى تمكن من طردهم، واستقر في الرياض لتكون العاصمة عام ١٢٤٠هـ، وتوفي عام ١٢٤٩هـ.



الدولة السعودية الثانية: الدفاع عن الدولة

◀ أرسل محمد علي حملة بقيادة إسماعيل بك فوصلت إلى القصيم، وفشل الإمام فيصل في صدها فعاد إلى الرياض، ثم تركها إلى الخرج ثم إلى الأحساء.

◀ سيطر جيش محمد علي على القصيم وحائل، ثم دخل الرياض، وتحركت حملة إلى الخرج والحوطة بقيادة إسماعيل آغا، ودارت معركة الحلوة عام ١٢٥٣هـ انهزم فيها إسماعيل آغا وجيشه.

◀ أرسل محمد علي حملة بقيادة خورشيد، ودارت بينه وبين الإمام فيصل معارك في الدلم انتصر فيها خورشيد عام ١٢٥٤هـ، واستسلم الإمام فيصل لتأمين أتباعه.

◀ انسحب خورشيد من الجزيرة العربية بموجب معاهدة لندن سنة ١٢٥٦هـ.

◀ عاد الإمام فيصل من مصر، واستعاد الرياض، وتولّى الحكم للفترة الثانية حتى وفاته سنة ١٢٨٢هـ.



الدولة السعودية الثانية: نهاية الدولة

◀ بعد وفاة الإمام فيصل يبيع ابنه عبد الله، فخرج عليه أخوه سعود واتجه إلى المناطق الجنوبية لطلب العون، ثم توالى المواجهات بينهما.

◀ معركة المَعْتَلَى ١٢٨٣هـ انتصر فيها عبد الله.

◀ انتصر الإمام سعود في معركة جُودَة ١٢٨٧هـ على الإمام عبد الله، ولم يهدأ الصراع إلا بعد وفاة سعود عام ١٢٩١هـ، ثم تجدد الصراع مرة أخرى على يد أبناء سعود.

◀ تحرك أبناء الإمام سعود بن فيصل ضد عمهم الإمام عبد الله بن فيصل فسيطروا على الرياض، لكن حدث صراع بينهم وبين محمد بن عبد الله بن رشيد حاكم حائل.

◀ بانتصار ابن رشيد على عبد الرحمن بن فيصل في معركة حُرَيْمَلَاء سنة ١٣٠٩هـ سقطت الدولة السعودية الثانية.

192/3 ▶ دارت معركة الحلوة بين الإمام فيصل بن تركي وجيش محمد علي بقيادة ..

- Ⓐ إسماعيل آغا
Ⓑ طوسون
Ⓒ خورشيد باشا
Ⓓ إبراهيم باشا

193/3 ▶ انسحب خورشيد من الجزيرة العربية بموجب معاهدة لندن سنة ..

- Ⓐ ١١٥٦هـ
Ⓑ ١١٦٥هـ
Ⓒ ١٢٥٦هـ
Ⓓ ١٢٦٥هـ

194/3 ▶ تُوفّي الإمام فيصل بن تركي سنة ..

- Ⓐ ١١٧٨هـ
Ⓑ ١١٧٩هـ
Ⓒ ١٢٨٢هـ
Ⓓ ١٢٨٠هـ

195/3 ▶ استمر حكم الإمام فيصل بن تركي لـ ..

- Ⓐ فترة واحدة
Ⓑ فترتين
Ⓒ ثلاث فترات
Ⓓ أربع فترات

196/3 ▶ انتصر الإمام عبد الله بن فيصل على أخيه سعود بن فيصل عام ١٢٨٣هـ في معركة ..

- Ⓐ جُودَة
Ⓑ المَعْتَلَى
Ⓒ المَلَيْدَاء
Ⓓ الحناكية

197/3 ▶ انتصر سعود بن فيصل على الإمام عبد الله بن فيصل في معركة ..

- Ⓐ جُودَة
Ⓑ المَعْتَلَى
Ⓒ الحناكية
Ⓓ المَلَيْدَاء

198/3 ▶ قامت الدولة السعودية الثانية على يد تركي بن عبد الله، وأسقطها ..

- Ⓐ عبد الله بن ثنيان آل سعود
Ⓑ محمد بن مشاري بن معمر
Ⓒ محمد بن عبد الله بن رشيد
Ⓓ سعدون بن محمد بن عريعر

199/3 ▶ سقطت الدولة السعودية الثانية سنة ..

- Ⓐ ١٢٠٩هـ
Ⓑ ١٣٩٠هـ
Ⓒ ١٣٠٩هـ
Ⓓ ١٣٩٢هـ

199 198 197 196 195 194 193 192

Ⓐ Ⓑ Ⓒ Ⓓ Ⓔ Ⓕ Ⓖ Ⓗ



المحاولة الأولى لاسترداد الرياض ..

ترقب الملك عبد العزيز بن عبد الرحمن بن فيصل أخبار الرياض من القادمين ليعرف أوضاعها.

عندما علم بمحلمة أمير الكويت الشيخ مبارك الصباح على ابن رشيد عام ١٣١٨هـ رآها فرصة لمحاولة دخول الرياض، فسار مع الحملة حتى وصل الشوكي، استأذن والده وانفصل برجاله واتجه إلى الرياض فتمكن من دخولها ومحاصرة المصمك.

وعندما علم بهزيمة الشيخ مبارك في الصريف بالقصيم عام ١٣١٨هـ على يد ابن رشيد فك الحصار وعاد إلى الكويت.



خرج الملك عبد العزيز برفقة ٤٠ مقاتلاً، وفي مقدمتهم أخوه محمد بن عبد الرحمن وابن عمه عبد الله بن جلوي وانضم له بعض رجال القبائل في طريقه حتى تجاوز عددهم ألف رجل.

شن الملك عبدالعزيز غارات متفرقة على بعض القبائل بغرض زيادة أتباعه، ووضعت من ابن رشيد منعت الحامية العثمانية في الأحساء التموين عن القبائل التي انضمت للملك عبد العزيز، فتفرق عنه الناس.

اختبأ الملك عبد العزيز مع رجاله الذين بقوا معه وعددهم ٦٣ في رمال الجافورة مدة تقارب الشهرين، ثم سار ليلاً نحو الرياض حتى بلغ ضلع الشقيب، فوضع فيها رجاله، وعددهم ٢٣ رجلاً.

وصل الملك عبد العزيز برجاله إلى مزرعة داخل سور الرياض وترك فيها أخاه محمداً ومعه ٣٣ رجلاً.

انطلق الملك عبد العزيز مع ٦ من رجاله إلى بيت عجلان واستدعى أخاه ورجاله وبعد الفجر هجموا على عجلان عند خروجه من المصمك، فقتله الأمير عبد الله بن جلوي.

وتمكن في ٥ شوال ١٣١٩هـ من استرداد الرياض والانطلاق نحو تأسيس المملكة العربية السعودية.

207	206	205	204	203	202	201	200
⊖	⊖	⊖	⊖	⊖	⊖	⊖	⊖

200
3
انفصل الملك عبد العزيز برجاله عن حملة أمير الكويت في ..

- Ⓐ الحوطة
Ⓑ الشوكي
Ⓒ الزلفي
Ⓓ المجمعمة

201
3
هُزم أمير الكويت مبارك الصباح في معركة الصريف أمام ..

- Ⓐ ابن سبهان
Ⓑ ابن عجلان
Ⓒ ابن ثنيان
Ⓓ ابن رشيد

202
3
انهزمت حملة أمير الكويت أمام قوات ابن رشيد في معركة ..

- Ⓐ الحائر
Ⓑ الصريف
Ⓒ منفوحة
Ⓓ حريملاء

203
3
انسحب الملك عبد العزيز بعد حصاره لحامية الرياض بسبب ..

- Ⓐ قلة إمكانياته
Ⓑ تدخل العثمانيين
Ⓒ قوة آل رشيد
Ⓓ هزيمة أمير الكويت

204
3
خرج الملك عبد العزيز من الكويت برفقة مقاتلاً.

- Ⓐ ٢٠
Ⓑ ٣٠
Ⓒ ٤٠
Ⓓ ٥٠

205
3
اختبأ الملك عبد العزيز مع رجاله المقربين الذين بقوا معه في رمال الجافورة مدة تقارب ..

- Ⓐ شهرًا
Ⓑ شهرين
Ⓒ ثلاثة أشهر
Ⓓ أربعة أشهر

206
3
تمكّن من اللحاق بـ «عجلان» داخل القصر وقتله ..

- Ⓐ الأمير عبد الله بن جلوي
Ⓑ الأمير محمد بن عبد الرحمن
Ⓒ الأمير سعود بن عبد العزيز
Ⓓ الملك عبد العزيز آل سعود

207
3
استطاع الملك عبد العزيز بن عبد الرحمن استعادة ملك آبائه، واسترداد الرياض صباح الخامس من شوال عام ..

- Ⓐ ١٣١٨هـ
Ⓑ ١٣١٩هـ
Ⓒ ١٣٢٠هـ
Ⓓ ١٣٢١هـ



استرداد جنوب الرياض والقصيم

تمكّن الملك عبد العزيز من استرجاع المناطق الجنوبية، مثل: الخرج والحوطة والحريق والأفلاج ووادي الدواسر.

اشتبكت قوات الملك عبد العزيز مع قوات ابن رشيد في الدلم سنة ١٣٢٠هـ، فانهزم ابن رشيد، وأجبر على مغادرة المنطقة.

تطلّع الملك عبد العزيز إلى القصيم، فهاجم قوات ابن رشيد في السّر، ودخل عُنَيْرَة سنة ١٣٢٢هـ، وتقدّم إلى الرّس.

انتصر الملك عبد العزيز في معركة الشنّانة على ابن رشيد والقوات العثمانية، وأنهى النفوذ العثماني في القصيم.

التقى الطرفان في روضة مهنا بالقرب من بريدة سنة ١٣٢٤هـ، وهُزِم ابن رشيد وقُتل في المعركة.



استرداد الأحساء وشمال البلاد

سعى الملك عبد العزيز إلى استعادة الأحساء، فسار إليها سنة ١٣٣١هـ ونزل بالقرب من الهفوف، وهاجم قلعة الكوت فسيطر عليها ورخّل حاميتها العثمانية إلى بلادهم وكذلك فعل في القطيف.

حاصر الملك عبد العزيز حائل بجيش مكوّن من ثلاث فرق، وبعد استسلام عبد الله بن متعب آل رشيد واصل محمد بن طلال القتال، وانتهى بدخول الملك عبد العزيز حائل سنة ١٣٤٠هـ.



استرداد عسير ونجران

في سنة ١٣٣٨هـ أرسل الملك عبد العزيز حملة بقيادة عبد العزيز بن جلوي تمكنت من استرداد عسير، وأبها، ونجران.

208 هُزمت قوات ابن رشيد أمام قوات الملك عبد العزيز في الدلم عام ..

(ب) ١٣٢٠هـ

(أ) ١٣١٩هـ

(د) ١٣٢٢هـ

(ج) ١٣٢١هـ

209 دخل الملك عبد العزيز عنيزة سنة ..

(ب) ١٣٢٠هـ

(أ) ١٣١٩هـ

(د) ١٣٢٤هـ

(ج) ١٣٢٢هـ

210 أين وقعت معركة الشنّانة؟

(ب) تبوك

(أ) الطائف

(د) القصيم

(ج) الأحساء

211 المعركة الحاسمة بين الملك عبد العزيز وابن رشيد ..

(ب) السلمية

(أ) الشنّانة

(د) البكيرية

(ج) روضة مهنا

212 استرد الملك عبد العزيز الأحساء في عام ..

(ب) ١٣٣١هـ

(أ) ١٣٣٣هـ

(د) ١٣٣٧هـ

(ج) ١٣٣٥هـ

213 دخل الملك عبد العزيز حائل سنة ..

(ب) ١٣٣١هـ

(أ) ١٣٣٣هـ

(د) ١٣٤٠هـ

(ج) ١٣٣٥هـ

214 آخر حكام آل رشيد وقاتل عن حائل حتى هُزم سنة ١٣٤٠هـ ..

(ب) محمد بن طلال

(أ) عبد الله بن متعب

(د) عبد العزيز بن متعب

(ج) محمد بن عبد الله

215 أرسله الملك عبد العزيز لاسترداد عسير وأبها ونجران ..

(ب) سعود بن عبد العزيز

(أ) محمد بن عبد العزيز

(د) عبد العزيز بن جلوي

(ج) خالد بن عبد العزيز

216 تمكّن الملك عبد العزيز من استرداد عسير وأبها ونجران سنة ..

(ب) ١٣٣٦هـ

(أ) ١٣٣٥هـ

(د) ١٣٣٩هـ

(ج) ١٣٣٨هـ

208 209 210 211 212 213 214 215 216

(ب) (د) (ج) (أ) (د) (ب) (أ) (ب) (د)



استرداد الحجاز

◀ حاول الشريف حسين بن علي فرض سيطرته على تُربة والخُرْمَة، بعد انضمام الشريف خالد بن لؤي إلى الملك عبد العزيز، فهجمت قواته على تربة واستولى عليها، عندئذ هب الملك عبد العزيز لصد الاعتداء، فأرسل قواته.

◀ انتصرت قوات الملك عبد العزيز في معركة تربة سنة ١٣٣٧هـ، فرد الشريف حسين على هزيمته بمنع الملك عبد العزيز ورعاياه من الحج مدة ٥ سنوات.

◀ دخلت القوات السعودية مكة سنة ١٣٤٣هـ، ودخلت جدة عام ١٣٤٤هـ بعد استسلام علي بن الحسين.



ضمّ جازان

◀ كانت جازان من أجزاء الدولة السعودية الأولى، وعندما بدأ الملك عبد العزيز توحيد البلاد أجرى اتفاق مع الحسن بن علي الإدريسي لضمها للملكة.

◀ حاول الحسن بن علي الإدريسي نقض الاتفاق فتمكن الملك عبد العزيز في عام ١٣٥١هـ من ضمها للمملكة العربية السعودية.



إعلان توحيد المملكة العربية السعودية

◀ اعتبارًا من ٢١ جمادى الأولى سنة ١٣٥١هـ تم تسمية البلاد باسم المملكة العربية السعودية.

◀ أصبح هذا التاريخ ذكرى لليوم الوطني للبلاد.



المملكة العربية السعودية: أسس الدولة

◀ ديني: صدر النظام الأساسي للحكم عام ١٤١٢هـ.

◀ تاريخي: عاشت البلاد وحدة سياسية واجتماعية.

◀ تنموي: انتشر الأمن والاستقرار، ونشطت الحركة الاقتصادية.



الملك سعود بن عبد العزيز

◀ وُلِدَ في عام ١٣١٩هـ، وتولّى قيادة بعض الحملات، وتولّى إدارة شؤون المنطقة الوسطى من البلاد.

◀ في عام ١٣٥٢هـ — بوع رسميًا بولاية العهد، ثم تولّى القيادة العليا للقوات المسلحة، وتولّى الحكم عقب وفاة الملك عبد العزيز عام ١٣٧٣هـ، وتوفيَّ ﷺ عام ١٣٨٨هـ.

217 218 219 220 221 222 223 224 225
د ج د ا ب د ا د ا ب د ا د ج

217
3
ترتب على انتصار الملك عبد العزيز في معركة تربة منَع الشريف حسين

بن علي الملك عبد العزيز ورعاياه من ..

ا) استعادة الحجاز ب) الرجوع إلى الرياض

ج) عقَد الصلح بين الطرفين د) الحج لمدة خمس سنوات



218
3
أحكَم الملك عبد العزيز سيطرته على جدّة عام ..

ا) ١٣٤٠هـ ب) ١٣٤١هـ

ج) ١٣٤٤هـ د) ١٣٤٥هـ



219
3
جرى الاتفاق على توحيد البلاد مع الملك عبد العزيز و ..

ا) الشريف حسين علي ب) محمد بن علي الإدريسي

ج) الشريف عبد الله بن الحسين د) الحسن بن علي الإدريسي



220
3
حاول نقض الاتفاق مع الملك عبد العزيز حول ضمّ جازان.

ا) الحسن بن علي الإدريسي ب) سلطان بن بجاد

ج) عبد الله بن جلوي د) خالد بن لؤي



221
3
دخلت جازان تحت الحكم السعودي سنة ..

ا) ١٣١٥هـ ب) ١٣٥١هـ

ج) ١٥٣١هـ د) ١٥٠٣هـ



222
3
متى سُمِّيَت البلاد باسم المملكة العربية السعودية؟

ا) ٢٦ ربيع أول سنة ١٣٥٢هـ ب) ٢٦ جمادى الأولى سنة ١٣٥٢هـ

ج) ٢٦ ربيع الآخر سنة ١٣٥١هـ د) ٢١ جمادى الأولى سنة ١٣٥١هـ



223
3
تم إصدار النظام الأساسي للحكم في المملكة العربية السعودية عام ..

ا) ١٤١٢هـ ب) ١٤٠٨هـ

ج) ١٤١٣هـ د) ١٤٠٩هـ



224
3
في أيّ عام وُلِدَ الملك سعود بن عبد العزيز

ا) ١٣١٩هـ ب) ١٣٢٠هـ

ج) ١٣٢١هـ د) ١٣٢٢هـ



225
3
تولى الحكم عقب وفاة والده الملك عبد العزيز

ا) خالد بن عبد العزيز ب) فهد بن عبد العزيز

ج) سعود بن عبد العزيز د) فيصل بن عبد العزيز





الملك فيصل بن عبد العزيز

◀ مولده: وُلِدَ في سنة ١٣٢٤هـ.

◀ أعماله ومناصبه: تولى قيادة الجيش السعودي لتوطيد الأمن والاستقرار في عسير، أسند إليه منصب نائب الملك في الحجاز ورئيس مجلس الشورى بالإضافة إلى الشؤون الخارجية في عهد أبيه، ثم صار ولياً للعهد ورئيساً لمجلس الوزراء في عهد أخيه الملك سعود، وتُوبِعَ بالحكم سنة ١٣٨٤هـ.

◀ من إنجازاته الحضارية ..

◀ قدّم كل الدعم للقضية الفلسطينية.

◀ أنجز عددًا من المشروعات الحضارية في البلاد.

◀ وفاته: تُوِّفِيَ عام ١٣٩٥هـ.



الملك خالد بن عبد العزيز

◀ مولده: وُلِدَ في مدينة الرياض عام ١٣٣١هـ.

◀ مناصبه: عُيِّنَ ولياً للعهد بعد مبايعة أخيه فيصل، وأصبح ملكاً بعد وفاة الملك فيصل سنة ١٣٩٥هـ.

◀ إنجازاته الحضارية ..

◀ شهدت البلاد إبان حكمه ازدهارًا اقتصاديًا انعكست آثاره على عدد من المشروعات الحضارية التي أنجزتها الدولة.

◀ وفاته: تُوِّفِيَ في الطائف سنة ١٤٠٢هـ.



الملك فهد بن عبد العزيز

◀ مولده: وُلِدَ في سنة ١٣٤٠هـ.

◀ مناصبه: تولى وزارة المعارف فور إنشائها، ونائبًا ثانيًا لرئيس مجلس الوزراء في عهد الملك فيصل، ثم بُويعَ في عهد الملك خالد ولياً للعهد، وتُوبِعَ ملكاً عام ١٤٠٢هـ، غيّر لقب صاحب الجلالة إلى خادم الحرمين الشريفين.

◀ من إنجازاته الحضارية ..

◀ تقدّمت البلاد خلال حكمه في مختلف المجالات ولا سيما المجال الزراعي.

◀ افتتح مجمع الملك فهد لطباعة المصحف الشريف.

◀ وفاته: تُوِّفِيَ في الرياض سنة ١٤٢٦هـ.

226 227 228 229 230 231 232 233 234

ⓐ ⓑ ⓓ ⓔ ⓖ ⓗ ⓙ ⓚ ⓛ

وُلِدَ الملك فيصل سنة ..

ⓑ ١٣٤٢هـ

ⓐ ١٣٢٤هـ

ⓓ ١٢٤٢هـ

ⓙ ١٢٢٤هـ

الملك الذي اهتم بالقضية الفلسطينية، ودعا إلى التضامن الإسلامي ..

ⓑ خالد بن عبد العزيز

ⓐ فهد بن عبد العزيز

ⓓ عبد الله بن عبد العزيز

ⓙ فيصل بن عبد العزيز

تُوِّفِيَ الملك فيصل بن عبد العزيز سنة ..

ⓑ ١٣٩٦هـ

ⓐ ١٣٩٥هـ

ⓓ ١٣٩٨هـ

ⓙ ١٣٩٧هـ

عُيِّنَ الملك خالد بن عبد العزيز ولياً للعهد بعد مبايعة أخيه الملك ..

ⓑ مساعد بن عبد العزيز

ⓐ مشعل بن عبد العزيز

ⓓ فيصل بن عبد العزيز

ⓙ عبد الرحمن بن عبد العزيز

بعد وفاة الملك فيصل بن عبد العزيز تُوِّجَ أخوه خالد ملكاً سنة ..

ⓑ ١٣٩٤هـ

ⓐ ١٣٩٣هـ

ⓓ ١٣٩٦هـ

ⓙ ١٣٩٥هـ

تُوِّفِيَ الملك خالد بن عبد العزيز سنة ..

ⓑ ١٤٠٢هـ

ⓐ ١٣٠٢هـ

ⓓ ١٤٣٠هـ

ⓙ ١٤٢٠هـ

تولى وزارة المعارف من فور إنشائها ..

ⓑ الملك خالد بن عبد العزيز

ⓐ الملك سعود بن عبد العزيز

ⓓ الملك فيصل بن عبد العزيز

ⓙ الملك فهد بن عبد العزيز

غيّر الملك فهد بن عبد العزيز لقب صاحب الجلالة إلى لقب ..

ⓑ صاحب السعادة

ⓐ أمير المؤمنين

ⓓ خادم الحرمين الشريفين

ⓙ خادم العرب

تُوِّفِيَ الملك فهد بن عبد العزيز سنة ..

ⓑ ١٤٢٦هـ

ⓐ ١٤٢٤هـ

ⓓ ١٤٢٩هـ

ⓙ ١٤٢٨هـ



المملكه عبد الله بن عبد العزيز



مولده: وُلِدَ في سنة ١٣٤٣هـ.

من المناصب التي تولاها: رئاسة الحرس الوطني عام ١٣٨٤هـ، وعيّن وليًا للعهد عام ١٤٠٢هـ، بُوع ملكًا للبلاد عام ١٤٢٦هـ.

من إنجازاته الحضارية ..

أنشأ مؤسسة عبد الله بن عبد العزيز للإسكان التنموي، التوسع في برامج الابتعاث للخارج، وتأسيس هيئة البيعة.

توسعة المسعى وتطوير منطقة الجمرات.

زيادة الجامعات ليصل عددها إلى ٢٨ جامعة.

وفاته: تُوِّفِيَ سنة ١٤٣٦هـ.



المملكه سلمان بن عبد العزيز



تولى الحكم بعد وفاة أخيه الملك عبد الله بن عبد العزيز.

من إنجازاته: شهدت المملكة العربية السعودية في

السنوات الست الأولى من عهده كثيرًا من الإنجازات

في المجال السياسي والاقتصادي والاجتماعي، ويعد

من أهمها تمكين المرأة السعودية؛ لتعزيز حقها في

المواطنة، والإسهام في المجتمع وفق مبادئ الشريعة.



ولي العهد الأمير محمد بن سلمان



وُلِدَ في الرياض عام ١٤٠٥هـ.

من المناصب التي تولاها: وزير الدفاع عام ١٤٣٦هـ،

ثم وليًا للعهد ونائبًا لرئيس مجلس الوزراء عام ١٤٣٨هـ.



التنظيم الإداري للمملكة



بدأ وضع نظم الدولة في عهد الملك عبد العزيز

بعد سنة ١٣٤٤هـ.

أنشئت مديرية للشؤون الخارجية ثم حُوِّلت إلى وزارة

الخارجية سنة ١٣٤٩هـ، وعيّن الأمير «فيصل» وزيرًا لها.

أنشئت مديرية المالية العامة ثم تطوّرت إلى وكالة ثم

إلى وزارة المالية سنة ١٣٥١هـ، وهكذا في البقية.

زاد عدد الوزارات واستُحدثت وزارات جديدة حتى

وصلت إلى (عشرين) وزارة في عهد الملك خالد.

243	242	241	240	239	238	237	236	235
(ب)	(ج)	(د)	(ب)	(د)	(د)	(د)	(ج)	(د)

235
3
تولّى رئاسة الحرس الوطني عام ١٣٨٤هـ ..

- (أ) خالد بن عبد العزيز
(ب) فيصل بن عبد العزيز
(ج) فهد بن عبد العزيز
(د) عبد الله بن عبد العزيز

236
3
تم تأسيس هيئة البيعة في عهد الملك ..

- (أ) سعود بن عبد العزيز
(ب) خالد بن عبد العزيز
(ج) عبد الله بن عبد العزيز
(د) فيصل بن عبد العزيز

237
3
من الملك الذي وصل عدد الجامعات في عهده إلى ٢٨ جامعة؟

- (أ) سعود بن عبد العزيز
(ب) فيصل بن عبد العزيز
(ج) خالد بن عبد العزيز
(د) عبد الله بن عبد العزيز

238
3
تولى الملك سلمان بن عبد العزيز الحكم بعد وفاة أخيه الملك ..

- (أ) تركي بن عبد العزيز
(ب) خالد بن عبد العزيز
(ج) سعود بن عبد العزيز
(د) عبد الله بن عبد العزيز

239
3
المملكة العربية السعودية شهدت إنجازات كثيرة للملك سلمان في

- السنوات الأولى.
(أ) الأربع
(ب) الخمس
(ج) السبع
(د) الست

240
3
أصبح الأمير محمد بن سلمان وليًا للعهد عام ..

- (أ) ١٤٣٧هـ
(ب) ١٤٣٨هـ
(ج) ١٤٣٩هـ
(د) ١٤٤٠هـ

241
3
تم وضع النظم الإدارية للمملكة العربية السعودية في عهد ..

- (أ) الملك خالد
(ب) الملك سعود
(ج) الملك فيصل
(د) الملك عبد العزيز

242
3
أول من تولّى منصب وزارة الخارجية باسمها الجديد سنة ١٣٤٩هـ ..

- (أ) سعود بن عبد العزيز
(ب) خالد بن عبد العزيز
(ج) فيصل بن عبد العزيز
(د) فهد بن عبد العزيز

243
3
بلغ عدد الوزارات في عهد الملك خالد ..

- (أ) ثلاثين وزارة
(ب) عشرين وزارة
(ج) أربعًا وعشرين وزارة
(د) خمسًا وعشرين وزارة



التعليم في المملكة العربية السعودية

- ◀ شهدت سنة ١٣٤٤هـ إنشاء إدارة المعارف العامة ثم المعهد العلمي السعودي لإمدادها بالمعلمين.
- ◀ أنشأ الملك عبد العزيز المدرسة التذكارية، ومدرسة الأمراء لتعليم صغار الأمراء في القصر.
- ◀ شهد عهد الملك سعود نهضة تعليمية تمثلت في ..
- ◀ استحداث وزارة المعارف وتولّي مهمتها الأمير «فهد بن عبد العزيز» كأول وزير للمعارف.
- ◀ إنشاء أول جامعة في البلاد «جامعة الملك سعود»، وفي عهد الملك فيصل أنشئت «جامعة الملك عبد العزيز» بجدة.
- ◀ إنشاء أول كلية عسكرية في البلاد «كلية الملك عبد العزيز الحربية» بالرياض.
- ◀ في عهد الملك خالد افتتحت «جامعة الملك فيصل» بالأحساء و«جامعة أم القرى» بمكة.



الصحة في المملكة العربية السعودية

- ◀ اهتم الملك عبد العزيز بالصحة العامة، فاستقدم الأطباء وأمر بإنشاء «مصلحة الصحة العامة» سنة ١٣٤٣هـ ومقرها مكة المكرمة.
- ◀ أنشئت إدارة خاصة للمحاجر الصحية في جدة.
- ◀ توسّعت الدولة خلال عهود الملوك من أبناء المؤسس في افتتاح المستشفيات والمستوصفات والمراكز الطبية في مختلف مدن وقرى المملكة.

244 أنشئت إدارة المعارف العامة في عهد الملك عبد العزيز سنة ..

- 3
 أ ١٣٤١هـ
 ب ١٣٤٢هـ
 ج ١٣٤٤هـ
 د ١٣٤٦هـ

245 أولى جامعات المملكة العربية السعودية ..

- 3
 أ جامعة أم القرى
 ب جامعة الملك سعود
 ج الجامعة الإسلامية
 د جامعة الإمام محمد بن سعود

246 أنشئت في الرياض وكانت أول كلية عسكرية بالسعودية كلية الملك ..

- 3
 أ سعود الحربية
 ب خالد الحربية
 ج فيصل الحربية
 د عبد العزيز الحربية

247 ما أول جامعة أسست بمكة المكرمة؟

- 3
 أ جامعة الطائف
 ب الجامعة الإسلامية
 ج جامعة أم القرى
 د جامعة الملك عبد العزيز

248 ما الترتيب الصحيح للجامعات السعودية من حيث النشأة؟

- 3
 أ جامعة الملك سعود، جامعة الملك عبد العزيز، جامعة أم القرى
 ب جامعة الملك سعود، جامعة أم القرى، جامعة الملك عبد العزيز
 ج جامعة أم القرى، جامعة الملك سعود، جامعة الملك عبد العزيز
 د جامعة الملك عبد العزيز، جامعة الملك سعود، جامعة أم القرى

249 النواة الأولى لوزارة الصحة السعودية، وأنشئت عام ١٣٤٣هـ ..

- 3
 أ مديرية الصحة
 ب مصلحة الصحة العامة
 ج إدارة المحاجر الصحية
 د مصلحة الخدمات العلاجية

250 أمر الملك عبد العزيز بإنشاء مصلحة الصحة العامة سنة ١٣٤٣هـ ومقرها ..

- 3
 أ تبوك
 ب نجد
 ج مكة المكرمة
 د المدينة المنورة

251 أنشأ الملك عبد العزيز إدارة خاصة للمحاجر الصحية في ..

- 3
 أ الرياض
 ب جدة
 ج الأحساء
 د عسير

251 250 249 248 247 246 245 244

⊖ ⊖ ⊖ ⊖ ⊖ ⊖ ⊖ ⊖



الرهابة الاجتماعية في السعودية

أطلق الملك عبد العزيز آل سعود مشروع توطين البادية، وشجع أبناء القبائل على الإقامة الدائمة في المهجر.
أنشئت دور التربية الاجتماعية للبنين والبنات.



عمارة الحرمين الشريفين

في عهد الملك عبد العزيز: أسس مصنعًا لكسوة الكعبة، وأنشأ مظلات للحرم المكي والمسعى، كما أمر بتوسعة المسجد النبوي، وتبليط المسعى بالحجارة.
في عهد الملك سعود: أكمل جميع إصلاحات المسجد النبوي، وصرف اهتمامه إلى توسعة المسجد الحرام وتزويده بالمرافق العامة.

في عهد الملك فيصل: اعتنى بتوسعة صحن الطواف وتوسعة المسجد النبوي من الجهتين الشمالية والغربية.
في عهد الملك خالد: أكمل توسعة المسجد النبوي من الناحية الغربية وإقامة مظلات فيه، كما صُنِعَ في عهده باب جديد للكعبة.

في عهد الملك فهد: تبليط المطاف ببلاط لا تؤثر فيه الحرارة، تركيب سلالم كهربائية، إنشاء مجمع الملك فهد لطباعة المصحف الشريف سنة ١٤٠٥هـ.

في عهد الملك عبد الله: أمر بتوسعة المسجد الحرام من الجهة الشمالية، وتوسعة المسعى وتطوير منطقة الجمرات.
في عهد الملك سلمان بن عبد العزيز: أمر بإكمال المرحلة الثالثة لمشروع رفع الطاقة الاستيعابية للمطاف، وتأهيل بئر زمزم، وإنشاء الهيئة الملكية لمدينة مكة المكرمة.



الإمام محمد بن سعود

مؤسس الدولة السعودية الأولى في عام ١١٣٩هـ، وولد في الدرعية عام ١٠٩٠هـ، وحكم الدرعية قرابة أربعين عامًا.

إنجازاته: ألغى الأسلوب العشائري، وألغى تحصيل الإتاوة، وازدهرت حركة التعليم في الدرعية وسائر البلدان.
توفي في عام ١١٧٩هـ.

258 257 256 255 254 253 252
د ا ب ج د هـ

مشروع توطين البادية أطلقه الملك ..

- أ) عبد العزيز آل سعود
ب) خالد بن عبد العزيز
ج) فيصل بن عبد العزيز
د) سعود بن عبد العزيز



من الأعمال التي قام بها الملك عبد العزيز ..

- أ) تطوير منطقة الجمرات
ب) توسيع المسجد الحرام
ج) تأسيس مصنع لكسوة الكعبة
د) تبليط المطاف ببلاط لا تؤثر فيه الحرارة



من الذي أنشأ مظلات للحرم المكي والمسعى؟

- أ) الملك سعود بن عبد العزيز
ب) الملك عبد العزيز آل سعود
ج) الملك سلمان بن عبد العزيز
د) الملك فيصل بن عبد العزيز



تم في عهده صناعة باب جديد للكعبة ..

- أ) الملك فهد بن عبد العزيز
ب) الملك عبد العزيز آل سعود
ج) الملك خالد بن عبد العزيز
د) الملك عبد الله بن عبد العزيز



قام بإنشاء الهيئة الملكية لمدينة مكة المكرمة ..

- أ) الملك سلمان بن عبد العزيز
ب) الملك فهد بن عبد العزيز
ج) الملك خالد بن عبد العزيز
د) الملك عبد الله بن عبد العزيز



الإمام محمد بن سعود أسس الدولة السعودية الأولى في عام ..

- أ) ١١٣٩هـ
ب) ١١٩٣هـ
ج) ١١١٣هـ
د) ١١٣١هـ



أي التالي لا يُعد من إنجازات الإمام محمد بن سعود؟

- أ) ألغى تحصيل الإتاوة
ب) ألغى الأسلوب العشائري
ج) ازدهار حركة التعليم في الدرعية
د) أعاد إعمار الحرمين الشريفين



