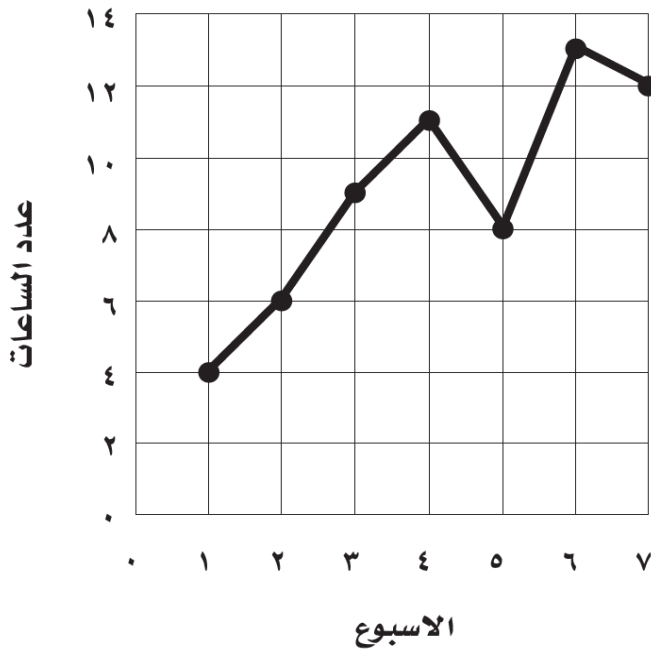


٢ / الزمن الذي قضاها سعيد في السباحة



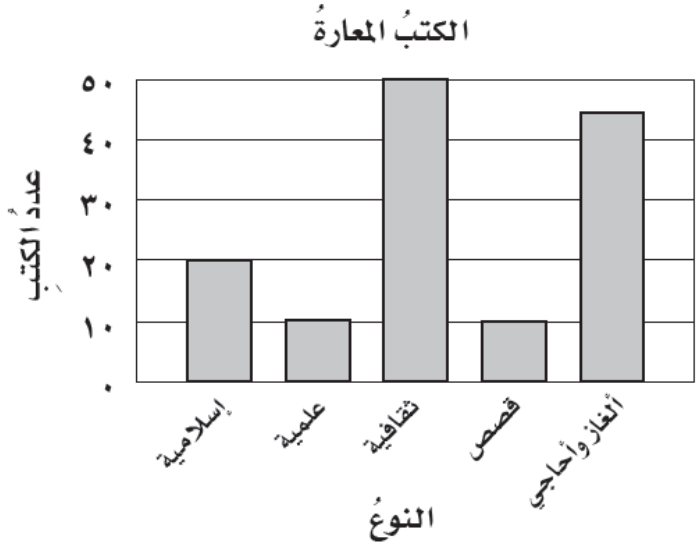
ج كم عدد الساعات التي قضاها سعيد في السباحة في الأسبوع الرابع ؟

ج

د ما الفرق بين الأعلى و الأقل زمنا في الأسابيع الذي قضاها سعيد في السباحة ؟

د

١ / سجل أمين مكتبة المدرسة لأنواع الكتب المعارة



أ ما هو النوع الأكثر استعارة من الكتب ؟

أ

ب مقدار زيادة الكتب المستعارة الإسلامية عن القصص ؟

ب

٣ / مثل البيانات التالية بالأعمدة أو الخطوط :

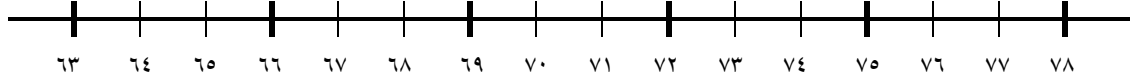


المدينة	درجات الحرارة
الرياض	٤٧
عسير	٢٠
جازان	٤٠
حائل	٣٣

٤/ مثل البيانات التالية بالنقاط :

أعداد المتقدمين لوظائف حكومية

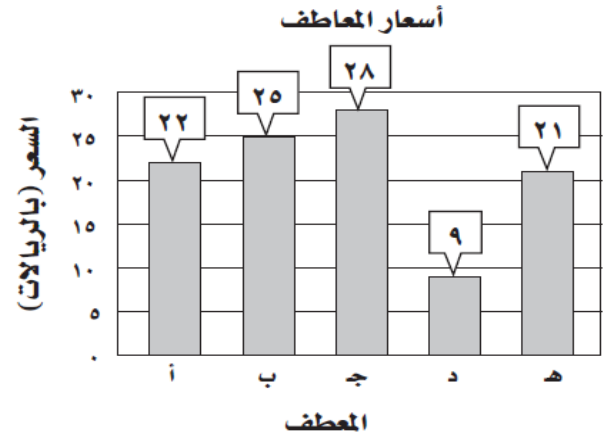
٦٦ ٦٥ ٦٤ ٦٥ ٦٦ ٦٥ ٦٥ ٧٥ ٧٨ ٦٣



٥/ استعمل البيانات الممثلة في الشكل المجاور لحل الأسئلة التالية :

أ أوجد المتوسط الحسابي للأسعار ؟

ب ما السعر الذي يمثل القيمة المتطرفة ؟



٦/ أوجد المتوسط الحسابي والوسيط والمنوال والمدى لكل مما يلي :

أعمار عدد من الطلاب بالسنوات :	المتوسط الحسابي	
١٢ ، ١٠ ، ١٤ ، ٦ ، ٨ ، ١٠ ، ١٧	الوسيط	
ترتيب البيانات	المنوال	
	المدى	
أسعار أنواع مختلفة من العصائر (بالريالات)	المتوسط الحسابي	
٩ ، ٥ ، ٥ ، ٦ ، ٥ ، ٦	الوسيط	
ترتيب البيانات	المنوال	
	المدى	
الزمن المستغرق في حل الواجب	المتوسط الحسابي	
عدد الدقائق	الوسيط	
الأحد	المنوال	
الاثنين	المدى	
الثلاثاء		
الأربعاء		
الخميس		

