

| | | | | | | | | | |
|---|---|---|---|---|---|---|---|---|----|
| ١ | ٢ | ٣ | ٤ | ٥ | ٦ | ٧ | ٨ | ٩ | ١٠ |
| ١ | ٢ | ٣ | ٤ | ٥ | ٦ | ٧ | ٨ | ٩ | ١٠ |

استعيني بالله ، واجدي على الأسئلة التالية

١- المسافة الرأسية بين السطحين العلويين لدرجتين متتاليتين تسمى.....

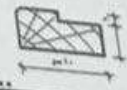
- أ-المنفعة
- ب-القلبة
- ج-القامة
- د- القائمة

٢- أنف السلم هو عبارة عن بروز في القامة.....

- أ-الرخامية
- ب-الاسمنتية
- ج-الخرسانية
- د-الهيكلية

٣- يتراوح مقياس القامة.....

- أ- ٢٦سم-٣٠سم
- ب- ١٥سم-١٧سم
- ج- ٢٠سم-٣٠سم
- د- ١٠سم-١٧سم



٤- يمثل الرسم.....

- أ-حشوة
- ب-البار
- ج-حشوة
- د- اسطامة

٥- ترسم رسومات القطاعات التفصيلية بمقياس رسم.....

- أ- ١:٥٠
- ب- ١:٢٠
- ج- ١:٢٠
- د- ١:٥٠

٦- أقل الفتحات استقبالا لأشعة الشمس الموجودة.....

- أ-الواجهة الجنوبية
- ب-الواجهة الشمالية
- ج-الواجهة الشرقية
- د-الواجهة الغربية

٧- سمك الحائط نصف طوية.....

- أ- ٣٠سم
- ب- ١٠سم
- ج- ٢٠سم
- د- ٤٠سم



بمستطبي

دسمان



١٧- برسم المسقط لهذه الفتحة في المسقط الأفقي.....



١٨- أفضل أبعاد للدرج.....

- أ- ٣٠سم للثلاثة و ١٥سم للقائمة
- ب- ٢٦سم للثلاثة و ١٥سم للقائمة
- ج- ٣٠سم للثلاثة و ١٧سم للقائمة
- د- ١٥سم للثلاثة و ٣٠سم للقائمة

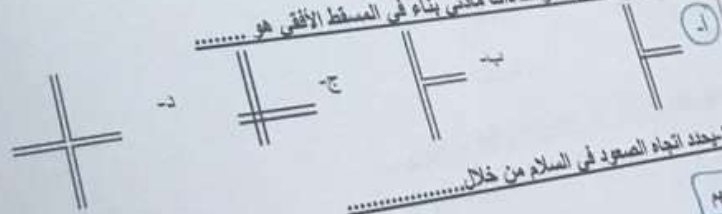
١٩- يستخدم الخط لتوضيح.....

- أ- خط تحديد قطع
- ب- خط محور
- ج- خط وهمي
- د- خط مرئي

٢٠- المكان المتروك في المسقط الأفقي لبضفة السلم.....

- أ- بين السلم
- ب- خلف السلم (التراغ الأوسط)
- ج- قبة السلم
- د- البسطة

٢١- الشكل الصحيح للحوائط ذات مائتي بناء في المسقط الأفقي هو.....



٢٢- يحدد اتجاه صعود في السلم من خلال.....

- أ- البسطة
- ب- الأبعاد
- ج- البسطة
- د- الدرجة

أن تقفل أفضل ما بإمكانك الآن سيضعك في أفضل مكان في اللحظة القادمة

استاذة المادة: ريم سليمان التميمي

..... عن الباب عن

ب- ٢٠٠

د- ١٠٠

٢١-
١٠- يتراوح ارتفاع جلسة النافذة في الفراغات المعيشية بين.....

ب- ١.٥٠-١.٦٠

د- ١.٠٠-١.٢٠

أ- ١.٢٠-١.٥٠

ج- ١.٠٠-٢.٠٠

١١- الغرض من الرسومات الأولية.....

ب- تقدم الفكرة المعمارية للعميل

د- تساعد العميل على تسويق المشروع

أ- اظهار سماكة عناصر البناء

ج- تظهر نوع التشطيب

١١- يعرف المسقط الطولي (الأفقى) ب-.....

ب- section

د- side view

أ- plan view

ج- elevation

١٢- اول لوحة ترسم في المشروع.....

ب- المقطع

د- الموقع العام

أ- المسقط الأفقي

ج- الواجهة

١٣- لا يقل عرض فتحة الباب عن.....

ب- ٥٠

د- ٨٠

أ- ٧٠

ج- ٦٠

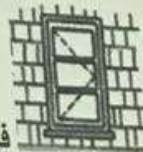
١٤- سلسلة من الدرجات موجودة في مستوى مائل واحد.....

ب- القلبة

د- القائمة

أ- الصدفة

ج- النائمة



١٥- يرسم المسقط لهذه النافذة في المسقط الأفقي.....

