

أولا : التربية الوطنية : (٢٠٠) درجة

أ - أجب عن الأسئلة التالية : ( ١٠٠ ) درجة

١- ضع كلمة (صح) أمام العبارة الصحيحة و كلمة (غلط) أمام العبارة الغير الصحيحة و انقلها الى ورقة إجابتك ؟

١- ( ) يمنحنا التفكير الناقد القدرة على حل المشكلات .

٢- ( ) تقوم وحدة المجتمع السوري على التشابه .

٣- ( ) ينظم القانون المدني مسائل الميراث .

٤- ( ) الموارد الاقتصادية هي كل وسيلة نافعة وصالحة لإشباع حاجات إنسانية .

٢- أكتب في ورقتك المجموعة (أ) و مع ما يناسبها من المجموعة ( ب ) :

المجموعة ( أ ) أرضا المحتلة : لواء اسكندرونة - فلسطين - الجولان

المجموعة(ب): نقطة وصل جزأى الوطن العربي - اشرافه على ممرات مائية - حاجز طبيعي ضد الصهاينة - أهم الموانئ لتصدير النفط

أختر الإجابة الصحيحة و انقلها الى ورقة إجابتك :

١- من أسس المثابرة :

أ- القدرة على تحديد الأهداف ب- تنمية المهارات و تعزيزها ج- التغيير في كل محاولة د - التحرر من التبعية للآخرين

٢- تعد بديلا مستداما للوقود الأحفوري هي طاقة :

الهواء - الفحم - المياه - الشمس

٣- فسر ما يلي : أهمية المبادرات لتحقيق المصلحة العامة

ب- أجب عن سؤالين فقط من الأسئلة التالية

١. عوامل النجاح في الحياة .

٢. قارن واجب المواطن تجاه هويته الوطنية و واجبه تجاه الهويات الأخرى المختلفة .

٣. دراسة حالة

تعدّ القراءة من أهمّ المعايير التي يقاس بها تقدّم المجتمعات أو تخلفها، فالمجتمع القارئ هو مجتمع ينتج العلم والمعرفة ويطوّرها بما يخدم تقدّمه، ويرتقي بالإنسانية جمعا، لذا حرصت الأمم المتقدّمة على نشر العلم وجعلت مفتاحه في تشجيع القراءة ودعم المكتبات العامّة والمدرسية، وتوفير كلّ الإمكانيات وفق خطة شاملة موجّهة لجميع فئات المجتمع إلى درجة تشجيع القراءة في وسائل النقل والأماكن العامّة.

١ ما الفكرة الرئيسية للنص ؟

٢ أذكر بعض الخطوات التي قامت بها الدول لدعم القراءة .

٣ ببين رأيك بأهمية القراءة و فوائدها

او ما هي برايك الخطوات التي يجب القيام بها للتشجيع على القراءة .

**ثانيا : الجغرافية**

**السؤال الأول : أختَر الإجابة الصحيحة :**

١- تختلف كواكب المجموعة الشمسية في عدد أيام سنتها و طول مدارها و سرعتها و السبب في ذلك هو :

أ | حركتها المحورية | ب | البعد و القرب من الشمس | ج | كثافة غلافها الجوي | د | حركتها التراجعية

٢ تتشابه التضاريس القارية و المحيطية في :

أ | الاستثمار | ب | التشكل | ج | الشكل و بعض عوامل التشكل | د | الشكل و الاستثمار

٣- من الفوائد الطبيعية لحركتي المد و الجزر :

أ | تنشيط عملية الصيد | ب | تنظيف الشواطئ من الملوثات | ج | تسهل دخول السفن الى الموانئ | د | تنشيط السياحة

من العوامل الطبيعية المؤثرة في قيام صناعة رابحة في مكان ما :

أ | توفر المادة الخام | ب | توفر اليد العاملة | ج | وجود أسواق محلية و خارجية | د | الجدوى الاقتصادية

**السؤال الثاني :**

أجب عن الأسئلة التالية

١- أجب بكلمة صح أو غلط مع تصحيح العبارة المغلوطة .

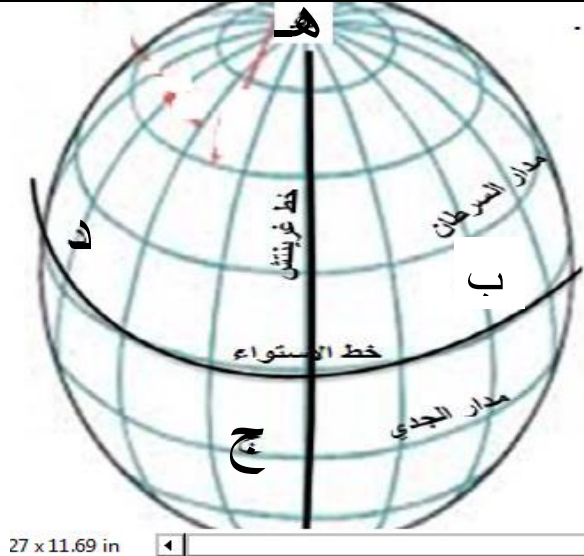
- أ- في الانقلاب الصيفي **الجنوبي** تكون الأرض في نقطة الحضيض .  
ب- النهر الذي يعتمد في تغذيته على الأمطار الصيفية يكون منتظم الجريان .

٢- **فسر الآتي بجملة علمية دقيقة :**

- أ - عدم صلاحية اغلب الأغلفة الجوية المدروسة لكواكب المجموعة الشمسية لعيش الإنسان .  
ب - التربة المعتدلة الحموضة (المثالية) هي الأفضل زراعيًا .  
٣- **ما العامل الأساسي المكون لتركيبة كل مما يلي :**

التلج الجاف - طبقة الأوزون - الترب الحمراء - الغلاف الجوي للأرض - التربة السوداء

٤ - **أنظر الى الشكل المجاور ثم أجب :**



١- إذا كانت الشمس عامودية على النقطة (ج) فما هو

الفصل عند مدار السرطان .

٢- إذا كانت الساعة الـ ( ١٠ ) في غرينتش فكم تكون

الساعة عند النقطة (ب) وعند النقطة (د) .

٣- في أي مرحلة من مراحل حركة الأرض الانتقالية

تتخطى دائرة ضوء الشمس النقطة ( هـ ) (أي انقلاب)

٤- هل يوجد للنقطة ( هـ ) منطقة زمنية و لماذا ؟

**السؤال الثالث - حلل النص التالي :**

أحدى الدول كانت تفتقر إلى الكثير من الموارد الطبيعية وخاصة النفط و المعادن و ارادت أن تكون في مصافي الدول المتقدمة صناعيا و هي تتجه الى التميز في صناعة الروبوتات و الذكاء الصناعي إضافة الى اقامتها للعديد من المعارض و المؤتمرات السنوية و إقامتها لدورات مجانية لتعليم اللغات المختلفة .

١ . ما الحلول التي يجب أن تقوم بها هذه الدولة لتأمين المواد الأولية برايك .

٢ . حدد عاملا واحد يجب أن تتبعه هذه الدولة لتزويد من تبادلها التجاري مع الدول الأخرى ..

٣ . ما نوع السياحة التي يمكن لهذه الدولة العمل على ترويجها .

٤ . ما المكان الجغرافي المناسب برايك لإقامة مخابر ( مصانع ) الروبوتات .

**السؤال الرابع - ارسم خريطة للجمهورية العربية السورية بحدودها البرية والبحرية**

و حدد عليها ( مجرى نهر العاصي - موقع مدينة حمص )

أولا : التربية الوطنية : (٢٠٠) درجة

أ - أجب عن الأسئلة التالية : (١٠٠) درجة

١- ضع كلمة (صح) أمام العبارة الصحيحة و كلمة (غلط) أمام العبارة الغير الصحيحة و انقلها الى ورقة إجابتك ؟

١- ( ) يؤدي التوقف عن المطالبة بالحق إلى عودته

٢- ( ) من الضروري امتلاك الموهبة لتحقيق النجاحات .

٣- ( ) يجوز للمجني عليه في الحق الخاص أن يعفو عن الجرائم المرتكبة بحقه .

٤- ( ) ترشيد استهلاك الطاقة هو إجراء مكلف ماديا

٢- أكتب في ورقتك المجموعة (أ) و مع ما يناسبها من المجموعة ( ب ) :

المجموعة ( أ ) مكونات الإرادة : وحدة المصير - وحدة الآمال و الأهداف - العدالة المجتمعية

المجموعة (ب) : الحفاظ على وحدة الأرض - التاريخ المشترك - تحسين مستوى المعيشة - المواطنة الفاعلة

٣- أختَر الإجابة الصحيحة و انقلها الى ورقة إجابتك :

١- مجموعة القواعد الناظمة لطبيعة العلاقات بين الأشخاص هو القانون :

أ- الإداري ب- الدستوري ج- المدني د - الأحوال الشخصية

٢- من سلوكيات ترشيد الطاقة :

الإتارة المخفية - تركيب سخانات كهربائية - إحكام اغلاق الشبابيك - تركيب مصابيح متوهجة

٤- فسر ما يلي : ضعف المصداقية و عدم الحيادية لمعظم المنظمات الدولية غير الحكومية .

ب- أجب عن سؤالين فقط من الأسئلة التالية

١- العوامل المؤثرة في المشاركة المجتمعية

٢- وازن بين كل من اختصاصات مجلس المحافظة و مجلس المدينة .

٣- دراسة حالة

ينشغل بعض الطلاب أحيانا أثناء الحصة التدريسية بأشياء لا علاقة لها بالدرس، فيطلب المدرّس من الطالب تغيير مكان جلوسه، والتعاون مع زملائه في المجموعة الجديدة لحلّ الأسئلة المتعلقة بالدرس. حيث يعاني بعض الطلاب من مشكلة عدم التركيز والانتباه ونسيان المعلومات بسهولة ومن تدنّي مستوى التذكّر مما ينعكس سلبا على مستوى تحصيلهم العلميّ وإخفاقهم في تحقيق أمنياتهم وطموحاتهم.

١ ما الفكرة الرئيسية للنص أو حدد المشكلة ؟

٢ ما نتائج عدم انتباه الطالب و تركيزه أثناء الحصص التدريسية .

٣ ما هي الحلول براك للتغلب على هذه المشكلة .

١- من الفوائد الطبيعية للتربة :

أ	التقليل من غازات الاحتباس الحراري	ب	الرعي	ج	الزراعة	د	تثبيت أعمدة البناء
---	-----------------------------------	---	-------	---	---------	---	--------------------

٢- من الاسباب البشرية للملح :

أ	الأفراط في الأسمدة	ب	الري بالغمر	ج	الري بمياه مالحة	د	كل ماسبق
---	--------------------	---	-------------	---	------------------	---	----------

٣- من النتائج الاجتماعية لمشكلة ملح التربة :

أ	خلل في التوازن البيئي	ب	الفقر و الهجرة	ج	ارتفاع أسعار المواد الغذائية	د	انخفاض الدخل
---	-----------------------	---	----------------	---	------------------------------	---	--------------

٤ - من فوائد التجارة الالكترونية الاجتماعية :

	فرص عمل لربّات البيوت		زياد الدخل		تقلّل الازدحام المروريّ		تقليل التلوث
--	-----------------------	--	------------	--	-------------------------	--	--------------

السؤال الثاني :

أجب عن الأسئلة التالية

١- أجب بكلمة صح أو غلط مع تصحيح العبارة المغلوطة .

أ- يحدث المد المرتفع عندما يكون القمر في طور البدر .

ب- كلما زاد انحدار النهر قلة سرعة الجريان و ازداد تأثير التبخر .

٣- فسر الآتي بجمل علمية دقيقة :

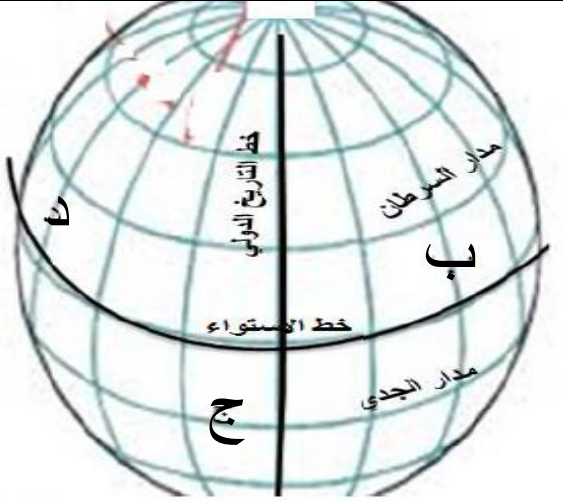
أ - ظهور الشمس في منتصف الليل في القطب الشمالي طول مدة الانقلاب الصيفي الشمالي .

ب - صلاحية بعض المناطق لإقامة حدائق جيولوجية ( جيو بارك ) .

٤- ما الحل الأمثل لمعالجة المشاكل التالية :

تملح التربة - تآكل طبقة الأوزون - حموضة و قلوية التربة - عمم انتظام جريان النهر - التربة المفككة

٤ - أنظر الى الشكل المجاور ثم أجب :



١- اذا كانت دائرة الإضاءة تتخطى الدائرة القطبية الجنوبية كلها و تلامس الدائرة القطبية الشمالية فما هو الفصل عند مدار السرطان و في أي من نصفي الكرة الأرضية سيكون النهار هو الأطول ؟

٢- اذا كانت الساعة الـ (٤) صباحاً عند النقطة (د) و

يومها الثلاثاء

فما اليوم و الساعة عند النقطة ( ب ) .

السؤال الثالث - حل النص التالي :

في إحدى القرى التي تقع في المنطقة الاستوائية ذات الأمطار الدائمة ينبع منها نهر ذو انحدار ضعيف يقسم القرية الى قسمين و يتميز النهر باتساعه و عمقه و كان في هذه القرية مجموعة من أشكال الصخور الكارستية المميزة و التي تعود الى احقاب جيولوجية سابقة و بعد أن يتجاوز النهر القرية يسير حتى يدخل الى منطقة ذات أمطار صيفية و صخور نفوذة ليتغير نظام جريانه .

١. أين سيكون نظام جريان النهر منتظماً و أين سيكون غير منتظماً و لماذا .

٢. هل يصلح هذا النهر للنقل النهري معللاً إجابتك .

٣. هل بالإمكان إقامة حديقة جيولوجية ( جيو بارك ) في هذه القرية و لماذا ..

٤. ما نوع السياحة التي يمكن الترويج لها في هذه القرية .

٥. ما الأداة الجغرافية المناسبة لدراسة نظام جريان هذا النهر ؟

السؤال الرابع - ارسم خريطة للجمهورية العربية السورية بحدودها البرية والبحرية

و حدد عليها ( مجرى نهر بردى - موقع مدينة طرطوس )

أولاً : التربية الوطنية : (٢٠٠) درجة

أ - أجب عن الأسئلة التالية : (١٠٠) درجة

١- ضع كلمة (صح) أمام العبارة الصحيحة و كلمة (غلط) أمام العبارة الغير الصحيحة و انقلها الى ورقة إجابتك ؟

١- ( ) تحولت منطقة الجولان الى ساحة مواجهة مباشرة مع العدو الصهيوني منذ عام ١٩٦٧ م .

٢- ( ) يسهم الجهل في إنتاج حالة عدم القدرة على تجاوز الانتماءات الضيقة

٣- ( ) الموارد الاقتصادية هي نتاج أفكار الإنسان و ما يترتب عليها من ابتكارات وتطبيقات .

٤- ( ) لواء اسكندرون أرض عربية سورية تحتلها تركيا .

٢- أكتب في ورقتك المجموعة (أ) و مع ما يناسبها من المجموعة (ب) :

المجموعة ( أ ) من مظاهر الإرادة الوطنية : الاجتماعي - الاقتصادي - العسكري

المجموعة (ب) : الحفاظ على موارد البلاد - مكافحة الإرهاب - حق الانتخاب - قبول الأفراد للتنوع

٣- أختر الإجابة الصحيحة و انقلها الى ورقة إجابتك :

١- من التحديات الداخلية التي تواجه الهوية الوطنية :

أ- الاحتلال ب- الفضائيات ج- العشائرية د - مواقع التواصل الاجتماعي

٢- من مكونات الوحدة الوطنية :

الملاحظة - البلدة - التمثيل و المشاركة - الازدهار الاقتصادي

٤- فسر ما يلي : يتطلب التعامل مع وسائل الإعلام الجديدة و الانترنت استخدام مهارة التفكير الناقد .

ب- أجب عن سؤالين فقط من الأسئلة التالية

١- أهمية الوعي بالهوية الوطنية .

٢- وازن بين القانون العام و القانون الخاص من حيث (أطراف المسألة القانونية- صفة أطراف- معيار المصلحة )

٣- دراسة حالة

أعلن الكيان الصهيوني في عام ١٩٨١ م ضم القسم المحتل من الجولان لكن المجتمع الدولي لم يعترف بذلك الضم

مطلقاً فقد أصدر مجلس الأمن القرار رقم ٤٩٧ الذي عدّ قرار الضم قراراً لاغياً و باطلاً وليس له أي أثر دولي

وطالب الكيان بإلغائه و تضمن القرار مطالبة الكيان الصهيوني بعدم تغير الطابع العمراني و السكاني للجولان المحتل

و السماح للنازحين بالعودة و وقف فرض الجنسية الصهيونية على المواطنين السوريين و الإفراج الفوري عن المعتقلين .

١ ما الفكرة الرئيسية للنص - ما الدلالة الصريحة لقرار مجلس الأمن رقم ٤٩٧ م ؟.

٢ أستنتج الانتهاكات الصهيونية لحقوق أهلنا في الجولان السوري المحتل .

٣ ما هي براكيد المقترحات لاسترداد حقوقنا المغتصبة .

١- تختلف التضاريس القارية عن التضاريس المحيطية في							
أ	الاستثمار	ب	الشكل	ج	الشكل و الاستثمار	د	الاستثمار و بعض عوامل التشكل
٢- نهر يعتمد في تغذيته على المياه الجوفية في منطقة ذات صخور نفوذة سيكون نظام جريانه :							
أ	منتظم و غير منتظم	ب	منتظم	ج	غير منتظم	د	منتظم في أغلب الفصول
٣- من الاسباب البشرية لمشكلة تملح التربة :							
أ	المناخ الجاف	ب	الري بالغمر	ج	شدة التبخر	د	صعود الماء المالح بالخاصية الشعرية

السؤال الثاني : أجب عن الأسئلة التالية

١- أجب بكلمة صح أو غلط مع تصحيح العبارة المغلوطة .

- أ - يأخذ قوس قزح شكله المنحني نتيجة عوائق تتعلق بمظاهر سطح الأرض . .  
ب - يُوصفُ بناءُ التربة بأنه جيّد عندما تشغل المسامات أكثر من نصف حجم التربة  
٣- فسر الآتي بجمل علمية دقيقة :

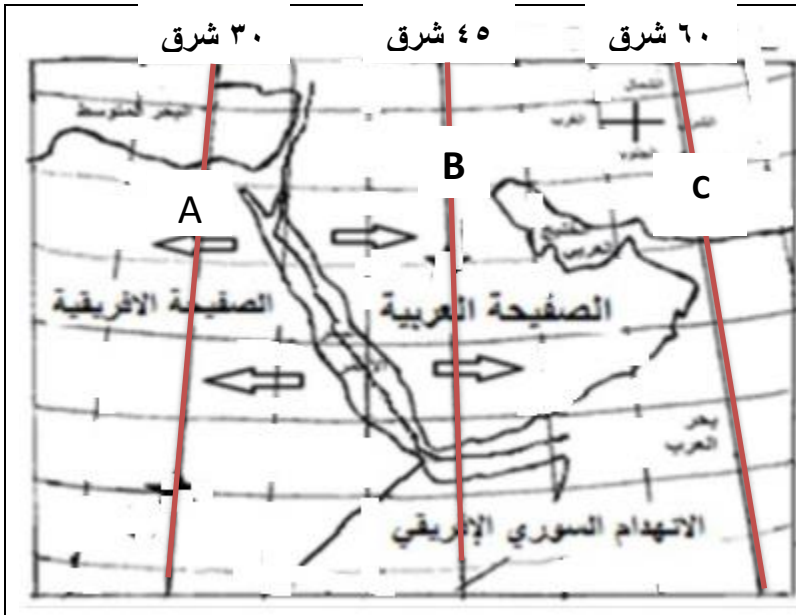
أ - تساوي طول الليل و النهار في الاعتدالين الربيعي و الخريفي .

ب - يرى قوس قزح المألوف بشكل منحني و محدب .

٤- ما العامل الرئيسي المسبب لكل ممايلي :

التسامي- ثبات نجم القطب - الحركة التراجعية-قوس قزح الضباب - اللون الأسود لبعض الترب الفوهات التصادمية .

٤ - أنظر الى الشكل المجاور ثم أجب :



١- إذا كانت الساعة (١٠) صباحاً عند النقطة ( B ) فكم ستكون الساعة عند النقطتين ( A , C ) .

٢- أستنتج من الشكل سبب تشكل

الانهدام السوري الإفريقي و حدد عامله ( باطني أم خارجي ) .

٣- ما سبب حدوث المد على شواطئ بحر العرب و خليج عُمان

السؤال الثالث - حلل النص التالي :

يملك عامر مزرعة للأبقار في ضواحي إحدى المدن الكبرى فأراد زيادة دخله و تطوير عمله و الاستعداد لفتح مشروع و بناء معمل بعد الاستعانة بفريق يعمل في التسويق الإلكتروني

١. ما المشروع الذي يمكن لعامر القيام به مستدلاً بالمصوغات و الفائدة المرجوة منه .

٢. برايك أي مكان هو الأنسب لإقامة المشروع أو المصنع معطلاً إجابتك .

٣. ما الاداة الجغرافية المناسبة لدراسة هذا المشروع .

٤. ما هي مقومات تنفيذ المشروع التجاري التي يجب على عامر القيام بها بعد فتح المصنع .

٥. اذكر خطوتين للتسويق الإلكتروني سيقوم بها الفريق المختص .

السؤال الرابع - ارسم خريطة للجمهورية العربية السورية بحدودها البرية والبحرية

و حدد عليها ( مجرى نهر الفرات - موقع مدينة دمشق ) .

أولاً : التربية الوطنية : (٢٠٠) درجة

أ - أجب عن الأسئلة التالية : ( ١٠٠ ) درجة

١- ضع كلمة (صح) أمام العبارة الصحيحة و كلمة (غلط) أمام العبارة الغير الصحيحة و انقلها الى ورقة إجابتك ؟

( ) تعد المشاركة المجتمعية إحدى المؤشرات الهامة على تحقيق التنمية المستدامة في المجتمع .

( ) يؤدي الوعي بالهوية الوطنية إلى الأمن والاستقرار للجميع

( ) تقتصر انتهاكات حقوق الإنسان على الممارسات المتبعة في الحروب والأعمال العسكرية

( ) يؤدي استخدام الطاقات المتجددة إلى رفع المستوى الصحي في أي دولة

٢- أكتب في ورقتك المجموعة (أ) و مع ما يناسبها من المجموعة ( ب ) :

المجموعة ( أ ) نتج : الإعلام التفاعلي - علم الاقتصاد - اقتصاد المعرفة

المجموعة (ب) عن : التطور التقني الهائل - تطور وسائل الاتصال - تخلف الدول - محدودية الموارد الاقتصادية

٣- أختار الإجابة الصحيحة و انقلها الى ورقة إجابتك :

١- إذا كان أحد الأطراف من الأجانب فإنه يطبق القانون :

أ- الدولي الخاص ب- الجنائي ج- المدني د - الأحوال الشخصية

٢- من العوامل المؤثرة في الإرادة الوطنية :

أ- فرص العمل ب- الملاحظة ج- الشعار د - تكرار المعلومة

٤- فسر ما يلي : أهمية المشاركة في الانتخابات

ب- أجب عن سؤالين فقط من الأسئلة التالية

١. فوائد استخدام الطاقة المتجددة

٢. قارن بين الأثر الإيجابي و السلبي للإعلام .

٣. دراسة حالة

لواء إسكندرون أرض عربية سورية تقع في شمال غرب سوريا تطل على البحر المتوسط كان تابعا لولاية حلب أثناء الاحتلال الفرنسي الذي خالف صك الانتداب و تم سلخ اللواء عن الوطن الأم سورية في ٢٤ أيار عام ١٩٣٩ م بتأمر فرنسي - تركي و استفتاء مزيف لم تعترف سورية بنتائجه و استعادت اللواء هو حق لا يمكن التنازل عنه حيث انتهجت تركيا في اللواء سياسة التتريك و هجرت السكان العرب و غيرت اسماء مدن اللواء كافة من العربية الى التركية و قسمت اللواء الى عدة مناطق .

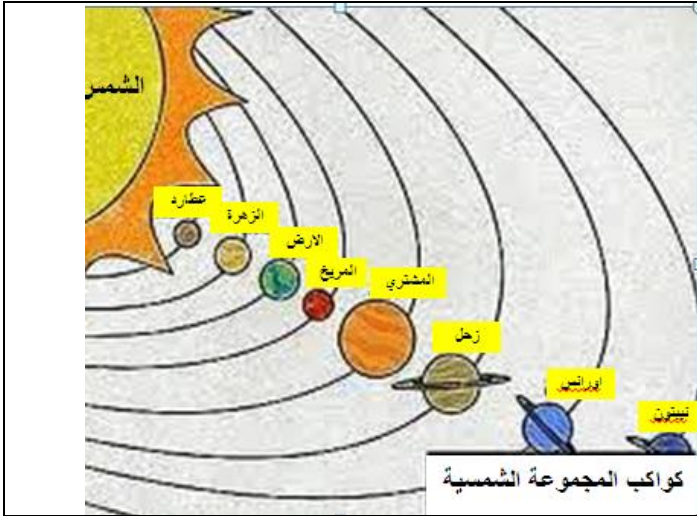
١ ما الفكرة الرئيسية للنص ؟

٢ ما دلالة اتباع تركيا سياسة التتريك في اللواء و تغييرها للأسماء العربية فيه .

٣ برأيك هل يجب علينا الاستمرار في المطالبة بعودة اللواء و لماذا ؟

١- المدينة ( A ) تقع غرب خط التاريخ الدولي و يومها الثلاثاء فما يوم المدينة ( B ) التي تقع غربها و بينهما ٣ ساعات			
أ	الأثنين مع فارق ٤٥ خط	ب	الأحد مع ٣٠ خط
ج	الثلاثاء مع فارق ٤٥ خط	د	الأحد مع فارق ٤٥ خط
٢- تشكل السهول المحيطية العميقة ناتج عن :			
أ	حدوث الحركات الانهدامية	ب	ثوران البراكين
ج	الترسيب	د	الزلازل
٣- من الاثار البشرية لتباطأ وصول التيارات الدافئة الى المناطق القطبية الباردة :			
أ	انخفاض كمية الأمطار	ب	انخفاض النشاط التجاري
ج	مواسم باردة جدا	د	انخفاض كمية الأسماك

- ١- أجب بكلمة صح أو غلط مع تصحيح العبارة المغلوطة .  
أ- العامل الرئيسي في تشكل الجبال المحيطية هو حركة الصفائح .  
ب- يختلف قوس قزح الضباب عن المألوف في حجم قطرات الماء المشكلة له .  
٣- فسر الآتي بجمل علمية دقيقة :  
أ - التأثير الكبير للعواصف الغبارية على مناخ بعض كواكب المجموعة الشمسية .  
ب - الحركة الدورانية للتيارات البحرية .  
٤- صنف المظاهر التضرسية التالية الى عاملها (باطني او خارجي ) و نوعها (مرتفعات - منخفضات - سهول )  
سهل البقاع الإنهدامي - وادي نهر الكبير الشمالي - جبل العرب البركاني - جبال الحجاز الانكسارية - صخور الصحراء المنخورة - جبال اللاذقية الالتوائية .  
٤ - أنظر الى الشكل المجاور ثم أجب :



- ١- من سطح كوكب زحل أي من الكواكب التالية سيظهر بحركة تراجعية و لماذا :  
( المشتري - أورانوس - المريخ - لم يظهر أي أحد منها )
- ٢- بمقارنة كوكبي المشتري و زحل أيهما يكون عدد أيام سنته أقل و لماذا .
- ٣- بم تفسر رؤية بعض كواكب مجموعتنا الشمسية في بعض الليالي على استقامة واحدة مع كوكب الأرض

- أدى المدن العربية الكبرى أصبحت تعاني من كثافة سكانية كبيرة بسبب توفر فرص العمل و توفر الخدمات أدى ذلك الى تضخمها و أصبحت تعاني من العديد من المشاكل و نقص في الخدمات و الازدحام و غيرها الكثير
١. أستنتج أسباب مشكلة تضخم المدن الكبرى .
  ٢. من حلول تضخم المدن الكبرى هو دعم الريف اذكر عاملين لجذب سكان المدن الى الأرياف .
  ٣. اذكر مشكلتين ناتجتين عن تضخم المدن مع حل لكل منهما .
  ٤. أذكر مشروع مناسب لمناطق الكثافة المرتفعة في المدن الكبرى للمساعدة في حل بعض مشاكلها .

- السؤال الرابع - ارسم خريطة للجمهورية العربية السورية بحدودها البرية والبحرية و حدد عليها ( مجرى نهر الفرات - موقع مدينة القنيطرة )



أولاً : التربية الوطنية : (٢٠٠) درجة

أ - أجب عن الأسئلة التالية : (١٠٠) درجة

١- ضع كلمة (صح) أمام العبارة الصحيحة وكلمة (غلط) أمام العبارة الغير الصحيحة و انقلها الى ورقة إجابتك ؟

- ١- ( ) تسهم التدخلات تحت إطار الأمم المتحدة في وقف انتهاكات حقوق الإنسان .
- ٢- ( ) أصبحت المنظمات وسيلة جديدة تلجأ إليها القوى الكبرى للتدخل في الشؤون الداخلية للدول .
- ٣- ( ) ندرة الموارد يتطلب استثمارها بفعالية و عقلانية .
- ٤- ( ) في مرحلة الاستكشاف يكتشف الانسان التناقضات من خلال طرح الأسئلة والبحث عن أفكار و أجوبة
- ٥- أكتب في ورقتك المجموعة (أ) و مع ما يناسبها من المجموعة (ب) :

المجموعة ( أ ) من أهمية : الموارد الطبيعية - الموارد الاقتصادية - الطاقة المتجددة  
المجموعة (ب) : تحقيق التنمية المستدامة - مصدر للغذاء - تعزيز الاستقلالية في التفكير - زيادة الصادرات  
٦- أختر الإجابة الصحيحة و انقلها الى ورقة إجابتك :

- ١- من مرتكزات اقتصاد المعرفة :  
أ- وفرة الانتاج ب- الإدارة ج- فرص العمل د عدالة توزيع الموارد
- ٢- القانون الذي ينظم مسائل الميراث هو قانون ؟

- أ- أحوال الشخصية ب- المدني ج- الدولي الخاص د الدستوري
- ب- فسر ما يلي : تنوع المجتمع السوري مصدر غنى معرفي وتفاعل حضاري

ت- أجب عن سؤاليين فقط من الأسئلة التالية

- ١- ما أهمية الإعلام .
- ٢- ميز بين الحق العام و الحق الخاص ( عقوبة الانتهاك - جهة دفع العقوبة - وجود نص قانوني ) .
- قارن بين أسباب الشرود الذهني المتعلقة بالطالب و المعلم .

٣- دراسة حالة

نظرا للحاجة الملحة في الأونة الاخيرة للطاقة يقوم بعض الاشخاص بعادات سيئة تزيد من هدرها و استنزافها كترك الانوار و المصابيح مضاءة نهارا أو إخفاض درجات البرودة لأجهزة التكييف الى درجات متدنية حيث تستهلك كمية كبيرة من الكهرباء و نحن بأمس الحاجة اليها علما اننا نستطيع تغيير عاداتنا و سلوكيتنا ايجابيا كإطفاء الانوار الغير لازمه نهارا و اطفاء المصابيح عند ترك الغرفة و هذا إجراء مجاني سيسهم في دفع عملية التطور الاقتصادي و الاجتماعي مستقبلا .

١ ما فكرة النص الرئيسية ؟

٢ اذكر بعض العادات و السلوكيات الايجابية التي يمكننا من فعلها للحفاظ على الطاقة .

٣ كيف سينعكس برأيك هذا الأمر على المجتمع ككل ؟

## المُدْرَس غِيَاث مُسْتَو

٠٩٩١٢٠١٥١٢

ثانياً : الجغرافية

السؤال الأول : اختر الإجابة الصحيحة :

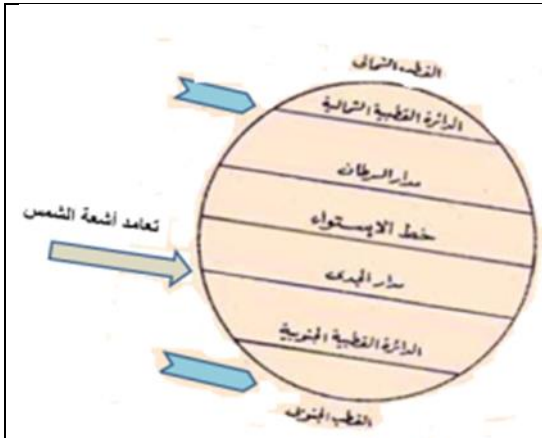
١- العائق الوحيد أمام التنمية الاقتصادية هو :					
أ	الكثافة السكانية مرتفعة	ب	الكثافة السكانية المنخفضة	ج	سوء استثمار الموارد
د	قلة الموارد				
٢- الساعة ٦ في خط ١٥ شرق فكم خط الطول للمدينة ذات الساعة ٣ :					
أ	٣٠ شرق	ب	٤٥ غرب	ج	٣٠ غرب
د	٤٥ شرق				
٣- قوس قزح ناتج عن دقة قطيرات الماء المشكلة له :					
أ	الضباب	ب	المقلوب	ج	المألوف
د	كل ما سبق خاطئ				

السؤال الثاني :

أجب عن الأسئلة التالية

١- أجب بكلمة صح أو غلط مع تصحيح العبارة المغلوطة .

- أ- النهر الذي يجري في أرض منحدر و صخور كتيمة يكون أكثر غزارة .
- ب- التربة ذات البناء الكتلتي يسهل عملية حرارتها و لا تسمح بتوغل جذور النباتات
- ٣- فسر الآتي بجمل علمية دقيقة :
- أ - يؤثر العمق في القدرة الإنتاجية للتربة
- ب - عدم حدوث التملح في حالة الري الحديث بالتنقيط .
- ٤- ما العامل الرئيسي المُشكل لكل مما يلي .
- الأودية الجافة على الكواكب - التسونامي - السهول المحيطية العميقة - التسامي
- ٤ - أنظر الى الشكل الافتراضي المجاور ثم أجب :



- ١- بالنظر الى مكان تعامد أشعة الشمس ما هو الفصل عند مدار السرطان .
- ٢- بم تفسر تعاقب الفصول على كواكب المجموعة الشمسية ؟
- ٣- أي نصف من نصفي الكرة الأرضية الشمالي أم الجنوبي سيكون الليل أطول .
- ٤- بالنظر الى الشكل في أي قطب ( الشمالي أم الجنوبي ) سنرى الشمس ظاهرة في منتصف ليله في هذه المرحلة .

السؤال الثالث - حلل النص التالي :

- تعاني إحدى الدول العربية من تركيز الكثافة السكانية في مناطق على حساب مناطق أخرى فمثلاً مناطقها الساحلية ذات كثافة سكانية مرتفعة بينما المناطق الأخرى متوسطة إلى منخفضة الكثافة
١. عدد مشكلتين لتركيز الكثافة السكانية في مناطق دون مناطق أخرى .
  ٢. ما الأداة الجغرافية المناسبة لدراسة التركيب العمري في هذه الدولة .
  ٣. اذكر عاملين مؤثرين في توزيع الكثافة : المياه .....
  ٤. ما أسباب انخفاض الكثافة السكانية أو انعدامها في بعض المناطق الصحراوية .

السؤال الرابع -

ارسم خريطة للجمهورية العربية السورية بحدودها البرية والبحرية و حدد عليها ( مجرى نهر الأعوج - موقع مدينة حلب )

أولاً : التربية الوطنية : (٢٠٠) درجة

أ - أجب عن الأسئلة التالية : (١٠٠) درجة

١- ضع كلمة (صح) أمام العبارة الصحيحة و كلمة (غلط) أمام العبارة الغير الصحيحة و انقلها الى ورقة إجابتك ؟

١. ( ) يقاس غنى الدول و فقرها في الوقت الحاضر فقط بما تمتلكه من موارد .
٢. ( ) إطفاء المصابيح الكهربائية اللازمة هو من سلوكيات ترشيد الطاقة .
٣. ( ) يشعر الفرد بحالة من التناقض في مرحلة الملاحظة .
٤. ( ) البلدة هي تجمع سكاني يزيد عدد أفرادها عن ٥٠ الف نسمة .

٢- أكتب في ورقتك المجموعة (أ) و مع ما يناسبها من المجموعة ( ب ) :

- المجموعة ( أ ) القانون : الإداري - الاحوال الشخصية - الدستوري  
المجموعة (ب) يبحث في : مسائل الميراث - يلتزم به الاجنبي - العلاقة العامة بالأفراد - شكل الدولة  
٣ - اختر الإجابة الصحيحة و انقلها الى ورقة إجابتك :

١- من سلبيات الطاقة المائية :

أ- متغيرة في اليوم الواحد ب- تحتاج إلى مساحات كبيرة ج- تتأثر بدرجة كبيرة العوامل الطبيعية د - توليد الكهرباء بكمية قليلة

٢ من التحديات الخارجية التي تواجه الهوية الوطنية :

أ- التعصب ب- الجهل ج- الاحتلال د - الطائفية

٤- فسر ما يلي : أهمية العمل التطوعي

ب - أجب عن سؤالين فقط من الأسئلة التالية ( ١٠٠ ) درجة

١- أذكر بعض الخطوات الإرشادية للتشجيع على القراءة .

٢ وازن بين الممارسات الصهيونية المرتكبة بحق اهلنا في الجولان و التركية المرتكبة بحق اهلنا في لواء اسكندرون.

٣ دراسة حالة

يؤدي استقرار المجتمع إلى تمكينه من تسخير قدراته المتاحة في تحقيق التنمية وإنتاج عوامل تطوره ، أما في حالات الصراع فإن كل إمكانياته وقدراته يتم توجيهها لإنهاء الصراع والحفاظ على بقائه ، وتبقى الدروس المستفادة من الصراع قاعدة أساسية ( أسوأ استقرار أفضل من أي صراع ) تحكم توجهه وتوضح أهمية الاستقرار في تحقيق تطوره

١ ما القاعدة التي تحكم تطور المجتمع و التي يمكن استنتاجها من النص

٢ ما الدروس المستفادة من حالات الصراع في المجتمع .

٣ برأيك أي عامل من العوامل المؤثرة في التطور الاجتماعي و الثقافي هو الأهم ولماذا ؟

١- سبب انخفاض درجات الحرارة ليلاً في بعض كواكب المجموعة الشمسية هو

أ) تعامد أشعة الشمس ب) رقة الغلاف الجوي ج) سقوط أشعة الشمس بشكل مائل د) طول المدار

٢- العامل الرئيسي في تشكل التيارات البحرية :

أ) شكل خط الساحل ب) قوة كوريولس ج) الرياح الدائمة د) اختلاف خصائص المياه

٣- من الآثار السلبية للهجرة على البلدان المرسل لها :

أ) التحويلات المالية ب) الضغط على الخدمات ج) زيادة أعداد السكّان د) تغيير لتوزّع السكّان، والافتقار إلى الكفاءات

السؤال الثاني :

أجب عن الأسئلة التالية

١- أجب بكلمة صح أو غلط مع تصحيح العبارة المغلوطة .

أ- يعد راس المال من العوامل البشرية المؤثرة في الزراعة .

ب- تتحرك الأمواج بمدارات مستقيمة نحو الأمام .

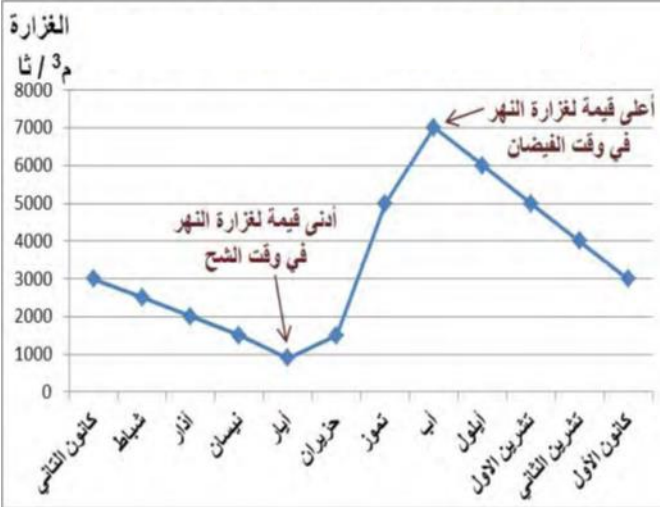
٢- فسر الآتي بجمل علمية دقيقة :

أ- التربة القلوية ضعيفة الإنتاج . ب - حدوث المد المرتفع .

٣- ما العامل الرئيسي المُسبب لكل مما يلي .

الأمواج - اختلاف التوقيت - المد - التسونامي

٤ - أنظر الى الشكل المجاور ثم أجب :



١- هل يعد النهر المُمثل بالشكل البياني نهر منتظم الجريان لماذا ؟

٢- أستنتج نوع الأمطار الهاطلة في المخطط البياني

٣- ما تأثير ارتفاع درجات الحرارة على غزارة النهر .

السؤال الثالث - حل النص التالي :

أحد المحميات السورية تعدّ الغابة الأكثر اكتمالاً و تتميز بأنّها نشأت على أنواع من الصخور الاندفاعيّة الخضراء النادرة الوجود في سورية، وتحتوي أنواعاً نباتيّة متنوّعة أهمّها السنديان والصنوبر، وأنواعاً من الحيوانات البريّة كالذئب والغزلان والأرانب وبعض أنواع الطيور النادرة.

١. هل بالإمكان ادراج هذه الغابة على قوائم التراث العالمي و لماذا .

٢. ما أنواع السياحة المتوفرة في هذه المحمية .

٣. ما الاداة الجغرافية المناسبة لدراسة هذه الغابة الفريدة .

السؤال الرابع

- ارسم خريطة للجمهورية العربية السورية بحدودها البرية والبحرية

وحدد عليها ( مجرى نهر الفرات - موقع مدينة حمص )