

اسم الطالب/ة:	اليوم /...../ التاريخ /	١٤٤٣ هـ /
المهارة: اختيار وحدات الطول المناسبة لتقدير أطوال الأشياء وقياسها		
أتقن ☺ لم يتقن ☹		

✳ اختاري الوحدة الأنسب لقياس طول كل من الأطوال التالية::

طول نملة ← (ملمتر - سنتمتر - متر - كيلو متر)

-المسافة بين مدينتين ← (ملمتر - سنتمتر - متر - كيلو متر)

-ارتفاع سارية علم ← (ملمتر - سنتمتر - متر - كيلو متر)



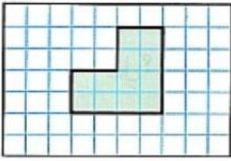
✳ صغيرتي ضعي إشارة (✓) تحت العبارة الصحيحة وإشارة (x) تحت العبارة الخاطئة مما يلي::



اسم الطالب/ة :	اليوم /...../ التاريخ /	١٤٤٣ هـ /
المهارة : اختيار وحدات الطول المناسبة لتقدير أطوال الأشياء وقياسها		
أتقن ☺ لم يتقن ☹		

✳ احسبي محيط ما يلي:


١- بيت للطيور واجهته خماسية الشكل، وأضلاعه جميعها متساوية في الطول، أوجدي محيط واجهة هذا البيت؟



٢- أوجدي محيط هذا الشكل؟



٣- صغيرتي اكلمي الفراغات التالية؛



المحيط = + + + =

المحيط = + + + =




٤- هل العبارة التالية صحيحة أم خاطئة::



اسم الطالب/ة:	اليوم /...../ التاريخ /	١٤٤٣ هـ /
المهارة: اختيار وحدات الطول المناسبة لتقدير أطوال الأشياء وقياسها		
أتقن ☺ لم يتقن ☹		

✳️ اوجدى مساحة الاشكال التالية:



من الشكل المقابل احسبي مساحة المنطقة المظللة:
المساحة = وحدة مربعة.



✳️ ٢- اكلى الفراغات التالية صغيرتي::

يساعد محمود أباه في تبليط مدخل المنزل فإن عدد البلاطات المربعة التي يحتاجونها هي:


..... × = بلاطة مربعة.
٣ وحدات

٤ وحدات

قاعة عرضها ٦ أمتار وطولها ١٠ أمتار
فإن مساحة القاعدة تكون:
..... = (..... ×)

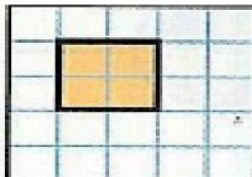


✳️ ٣- اختارى الاجابة الصحيحة من بين الأقواس::



☺ مساحة الشكل المجاور هي::

١٥ وحدة مربعة - ١٠ وحدات مربعة - ٢٠ وحدة مربعة - ٤ وحدات مربعة)



☺ انا شكل هندسي جميل مساحتي هي ::

٨ وحدات مربعة - ٩ وحدات مربعة - ٤ وحدات مربعة - وحدتين مربعة)





وزارة التعليم
Ministry of Education

المملكة العربية السعودية
وزارة التعليم
ابتدائية أم البنين للطفولة البكرة

اسم الطالب/ة :	اليوم /	التاريخ / / ١٤٤٣ هـ
المهارة : ايجاد مساحة شكل هندسي		
أتقن 😊 لم يتقن ☹️		

١- ضع دائرة حول التقدير الأنسب في مايلي::



(٥٠ مل - ٢ مل - ٥٠ ل)



(٧٠ مل - ٧ ل - ٢٠ مل)



(٥٠ مل - ٥ ل - ٨ ل)



(٢ مل - ٥ ل - ٢ ل)

صغيرتي فكرى فى صحة العبارة التالية؟؟:

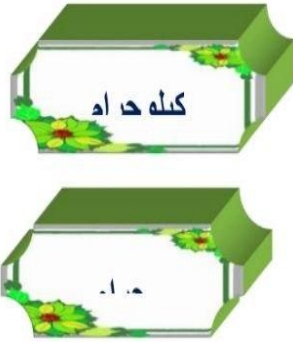
يحضر وليد عصير برتقال لحفلة أصدقائه. فإن التقدير
الأفضل لكمية العصير التي سيحضرها وليد للحفلة هي ٩
مليتر..

(.....)




اسم الطالب/ة:	اليوم/.....	التاريخ / / ١٤٤٣ هـ
المهارة: إيجاد مساحة شكل هندسي		
أتقن ☺ لم يتقن ☹		

❖ ١- صلي الوحدة الأنسب لقياس كتلة كل مما يأتي::



❖ ٢- اختاري التقدير الأنسب لكل مما يأتي:



(٢ جم - ١٠ كجم - ٢ كجم)



(٦ جم - ٢ جم - ٦ كجم)

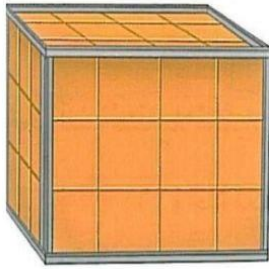


(١٥ جم - ٢٠ جم - ١٥ كجم)



اسم الطالب/ة :	اليوم /	التاريخ / / ١٤٤٣ هـ
المهارة : تقدير الحجم وقياسه		
أتقن ☺ لم يتقن ☹		

❖ ١- اكمل مايلي::



يتسع حوض سمك إلى ثلاث طبقات في كل منها ١٢ وحدة مكعبة. فإن حوض السمك يحوي:

$$\text{وحدة مكعبة} = \dots + \dots + \dots$$

❖ ٢- ضع خطاً أسفل حجم كل مجسم فيما يأتي:

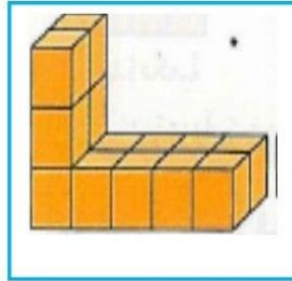


٨ وحدات مكعبة. 🖨

٦ وحدات مكعبة. 🖨

٤ وحدات مكعبة. 🖨

٥ وحدات مكعبة. 🖨




٨ وحدات مكعبة. 🖨

٦ وحدات مكعبة. 🖨

٤ وحدات مكعبة. 🖨

٦ وحدات مكعبة. 🖨



٨ وحدات مكعبة. 🖨

٦ وحدات مكعبة. 🖨

٤ وحدات مكعبة. 🖨

١٢ وحدة مكعبة. 🖨



وزارة التعليم
Ministry of Education

المملكة العربية السعودية
وزارة التعليم
ابتدائية أم البنين للطفولة البكرة

اسم الطالب/ة :	اليوم /	التاريخ / / ١٤٤٣ هـ
المهارة : قراءة الساعة		
أتقن ☺ لم يتقن ☹		

❖ ١- اكتبی الزمن الذي تشير إليه الساعة الرقمية أو ساعة العقارب:



الثامنة و.....
دقيقة.



..... و.....
دقيقة.



العاشرة و.....
دقائق.



❖ ٢- ضعی علامة (✓) أمام الإجابة الصحيحة:

إذا كان عقرب الدقائق يشير إلى الرقم ٤ فإن عدد الدقائق التي يشير إليها:

عشرون دقيقة.

عشرة دقائق.

إذا كانت ساعة الحائط تشير إلى ٨:٤٥ فإن الوقت بعد مرور ٧ دقائق يصبح:

٨:٣٨

٨:٥٢





وزارة التعليم
Ministry of Education

المملكة العربية السعودية
وزارة التعليم
ابتدائية أم البنين للطفولة البكرة

اسم الطالب/ة :	اليوم /	التاريخ / / ١٤٤٣ هـ
المهارة : ايجاد الكسور المتكافئة		
أتقن 😊 لم يتقن ☹️		

❖ ١- أكملى الجمل التالية للحصول على كسور متكافئة:

$$\frac{\quad}{12} = \frac{1}{3}$$

$$\frac{\quad}{6} = \frac{1}{3}$$

❖ ٢- صلي كل كسر بما يكافئه:

$$\frac{3}{6}$$

$$\frac{2}{3}$$

$$\frac{8}{10}$$

$$\frac{1}{2}$$

$$\frac{4}{6}$$

$$\frac{4}{5}$$

اسم الطالب/ة :	اليوم /	التاريخ /
المهارة : حل مسائل رياضية		
أتقن ☺ لم يتقن ☹		

حل المسألة التالية باستعمال الخطوات الاربع لحل المسائل الرياضية :

سَقَّت لَيْلَى بَاقَةَ أَزْهَارِ اشْتَمَلَتْ عَلَى ٨ زَهْرَاتِ يَاسْمِينٍ، وَ ١٢ زَهْرَةَ نَرْجِسٍ، وَ ١٥ زَهْرَةَ فَلَ، وَالْبَاقِي مِنْ أَزْهَارِ جُورِيٍّ. فَإِذَا كَانَتْ بِأَقْتَهَا تَضُمُّ ٤٨ زَهْرَةَ، فَكَمْ زَهْرَةَ جُورِيٍّ اشْتَمَلَتْ عَلَيْهَا الْبَاقَةُ؟

.....	أفهم
.....	أخط
.....	أحل
.....	أتحقق

حدد ما اذا كانت العبارة التالية صحيحة أم خاطئة:

/حمولة سياره ٣٠٠٠ كيلوجرام. فإذا أراد سائقها أن يحمّلها صناديق بضاعة، وزن الصندوق الواحد منها ١٥٠
كيلوجرامًا. فإن عدد الصناديق التي يمكن أن تحملها السيارة هي ٢٠ صندوقًا" ..

(.....)

/تريد سعاد أن تزرع حديقة أزهارًا، وكان لديها ٣ ألوان: أحمر، وأصفر، وبرتقالي. فإن عدد الطرق التي يمكنها
تزيين الألوان في الحديقة هي ١٦ طريقة ...

(.....)

أكمل الفراغات التالية بما يناسبها لتصبح عبارة صحيحة

/تقف ٥ قطط على سور بيت، بحيث كانت القطط السوداء هي الثانية، والقطط البنية تقف إلى جانب القطط الرمادية،
القطط المخططة هي الأخيرة. إذا كانت القطط الرمادية هي الرابعة، فإن القطط البيضاء تقف.....

/قسم معلم التربية البدنية طلاب صفه ٤ مجموعات؛ اثنتان منها تضم كل واحدة منهما ٥ طلاب، واثنتان تضم كل
احدة منهما ٧ طلاب، فإن عدد طلاب الصف يبلغ.....طالب.

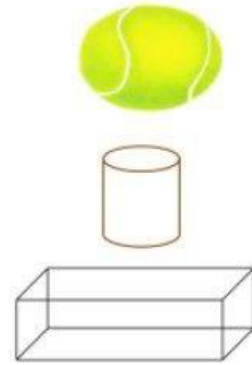


وزارة التعليم
Ministry of Education

المملكة العربية السعودية
وزارة التعليم
ابتدائية أم البنين للطفولة البكرة

اسم الطالب/ة :	اليوم /	التاريخ / / ١٤٤٣ هـ
المهارة : تحديد وتصنيف و وصف بعض المجسمات		
أتقن 😊 لم يتقن ☹️		

١) صلي كل مجسم باسمه..



٢) من أنا...؟



اسم الطالب/ة :	اليوم /	التاريخ / / ١٤٤٣ هـ
المهارة : تسمية الأشكال المستوية وتصنيفها		
أتقن 😊 لم يتقن ☹️		

١/ صفى الأشكال المستوية التالية مستخدمة عدد الأضلاع وعدد الزوايا:



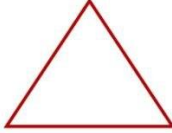
..... أضلاع، زوايا.

..... أضلاع، زوايا.

... أضلاع، زوايا.



٢/ صلي كل شكل باسمه فى مايلى::





وزارة التعليم
Ministry of Education

المملكة العربية السعودية
وزارة التعليم
ابتدائية أم البنين للطفولة البكرة

اسم الطالب/ة:	اليوم/.....	التاريخ / / ١٤٤٣ هـ
المهارة: تحديد الانماط الهندسة واستخدامها لتوقع حل المسألة		
أتقن 😊 لم يتقن ☹️		

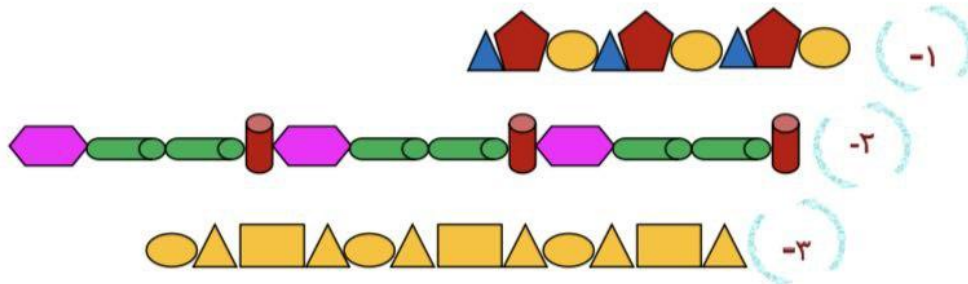
❖ ١/ ضع خطاً أسفل النمط الهندسي للشكل التالي:

أسود أسود أبيض	أبيض أسود	أبيض أبيض أسود
----------------	-----------	----------------

❖ ٢/ إذا أكمل النمط السابق حتى أصبح ١٦ بلاطة فإن عدد البلاطات البيضاء؟

٤ بلاطات	٥ بلاطات	٦ بلاطات
----------	----------	----------

❖ ٢/ أحيطي النمط في كل مما يأتي؟؟





وزارة التعليم
Ministry of Education

المملكة العربية السعودية
وزارة التعليم
ابتدائية أم البنين للطفولة البكرة

اسم الطالب/ة :	اليوم /	التاريخ / / ١٤٤٣ هـ
المهارة : تحديد محاور التماثل		
أتقن 😊 لم يتقن ☹️		

١ * ضع علامة ✓ امام الشكل الذي له محور تماثل في مايلي؛؛








وزارة التعليم

Ministry of Education

المملكة العربية السعودية
وزارة التعليم
ابتدائية أم البنين للطفولة البكرة

اسم الطالب/ة :	اليوم /.....	التاريخ / / ١٤٤٣ هـ
المهارة : جمع البيانات وتنظيمها وتمثيلها بالرموز ولوحة الاعمدة		
أتقن 😊 لم يتقن ☹️		

١/ مُسْتَعْمَلًا التَّمَثِيلَ بِالصُّورِ الْمُجَاوِرِ، أُجِيبُ عَنِ الْأَسْئَلَةِ الْآتِيَةِ: (مهارة سابقة)

الفصل المفضل	
	الشتاء
	الربيع
	الخريف
	الصيف
كل شكل يرمز إلى طالبين	


١. عدد الطلاب الذين يفضلون فصل الربيع؟.....

٢. بكم يزيد عدد الطلاب الذين يفضلون فصل الشتاء عن الصيف؟.....

٣. ما الفصل الذي يفضله ٤ طلاب؟.....

٤. ما عدد الطلاب جمعهم؟.....

ضعي الإجابة الصحيحة مكان النقاط:

٥/ إذا كان  يمثل ٣ أشخاص يفضلون كرة القدم ، فكم عدد الأشخاص الذين يفضلون كرة القدم إذا ظهر هذ مرتين؟

.....أشخاص

اسم الطالب/ة : اليوم / التاريخ / / هـ المهارة : جمع البيانات وتنظيمها وتمثيلها بالرموز ولوحة الاعمدة أتعن ☺ لم يتقن ☹

١ * (مثلى بيانات الجدول المجاور بالرموز :

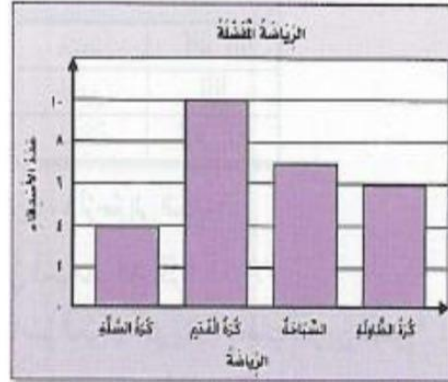
أسماك في حوض سمك.	
	السمة الذهبية
	السمة النمر
	السمة المهرج
المفتاح:  = سمكتين	

أسماك في حوض سمك.	
عدد السمكات	نوع السمك
	السمة الذهبية
	السمة النمر
	السمة المهرج

٢ * / اجيبي عن ما يلي ::

@ اكملي حل ما يلي:
 صوت عدد من الأصدقاء على الرياضة التي يفضلونها.
 ✓ ما عدد الأصدقاء الذين يفضلون السباحة؟

 ✓ ما عدد الأصدقاء الذين يفضلون كرة القدم؟





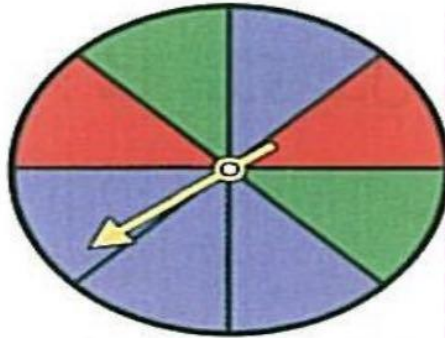
وزارة التعليم
Ministry of Education

المملكة العربية السعودية
وزارة التعليم
ابتدائية أم البنين للطفولة البكرة

اسم الطالب/ة :	اليوم /	التاريخ / / ١٤٤٣ هـ
المهارة : تحديد الحوادث (الأكيدة - الأكثر احتمالاً - الأقل احتمالاً - المستحيلة)		
أتقن 😊 لم يتقن ☹️		

✳️ أجيبني عن ما يلي:

١) يوجد ٧ كرات في صندوق فإذا كان ٥ منهم لونها أزرق وواحدة منهم لونها أحمر والأخرى لونها أصفر فإن احتمال اختيار الكرة الزرقاء هو: (.....)



صفي احتمال وقوف المؤشر على كل لون واكتبني

(أكيد، أو أكثر احتمالاً، أو أقل احتمالاً، أو مستحيل):

- (١) أزرق (.....)
(٢) أخضر (.....)
(٣) بنفسجي (.....)
(٤) أزرق أو أحمر أو أخضر (.....)





وزارة التعليم
Ministry of Education

المملكة العربية السعودية
وزارة التعليم
ابتدائية أم البنين للطفولة البكرة

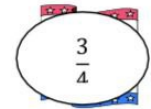
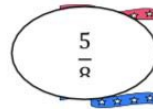
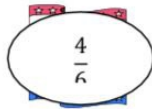
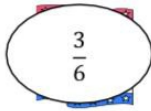
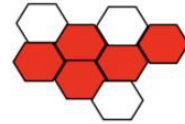

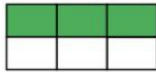
اسم الطالب/ة :	اليوم /	التاريخ /
المهارة : كتابة الكسور (أجزاء من الكل ، كأجزاء من المجموعة)		
أتقن 😊 لم يتقن ☹️		

✳️ مع ليلي ثلاث قطع زرقاء وأربع قطع حمراء وثلاث قطع صفراء، اكتبى الكسر الذى يمثل القطع الحمراء؟؟

.....



✳️ ٢) صلى كل شكل بالكسر الصحيح الذى يُعبر عن الجزء المظلل



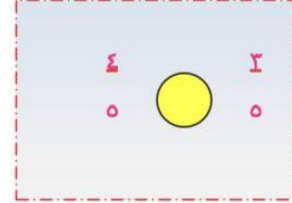
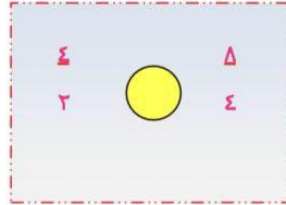
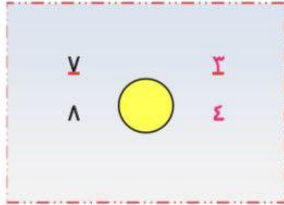


وزارة التعليم
Ministry of Education

المملكة العربية السعودية
وزارة التعليم
ابتدائية أم البنين للطفولة البكرة

اسم الطالب/ة :	اليوم /	التاريخ / / ١٤٤٣ هـ
المهارة : مقارنة الكسور وترتيبها		
أتقن 😊 لم يتقن ☹️		

* ١/ قارني مستعمله (<، >، =):



* ٢/ أكمل ترتيب الكسور التالية ترتيبًا تصاعديًا

