

# جمع الأعداد من 0 إلى 99 بالاحتفاظ ﴿1﴾

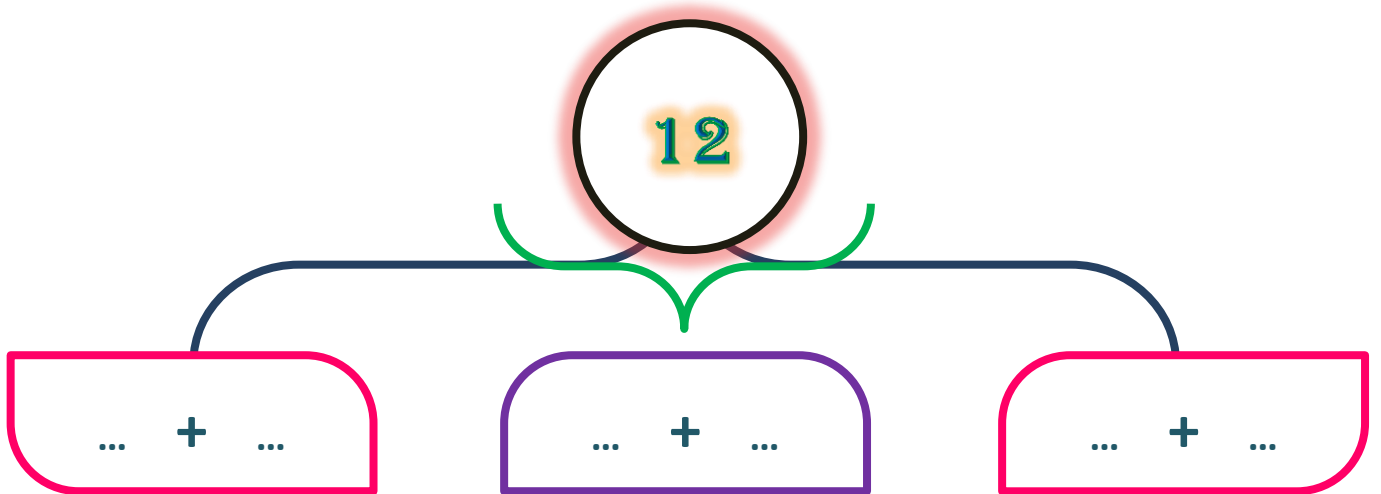
1 أتمم ملء جَدُولِ عَدِّ الأَعْدَادِ، ثُمَّ أَجِبْ عَنِ السُّؤَالِ.

+	0	1	2	3	4	5	6	7	8	9
3										
6										
8										

لَوْنُ خَانَةِ المَجَامِيعِ الَّتِي تَسَاوِي 12



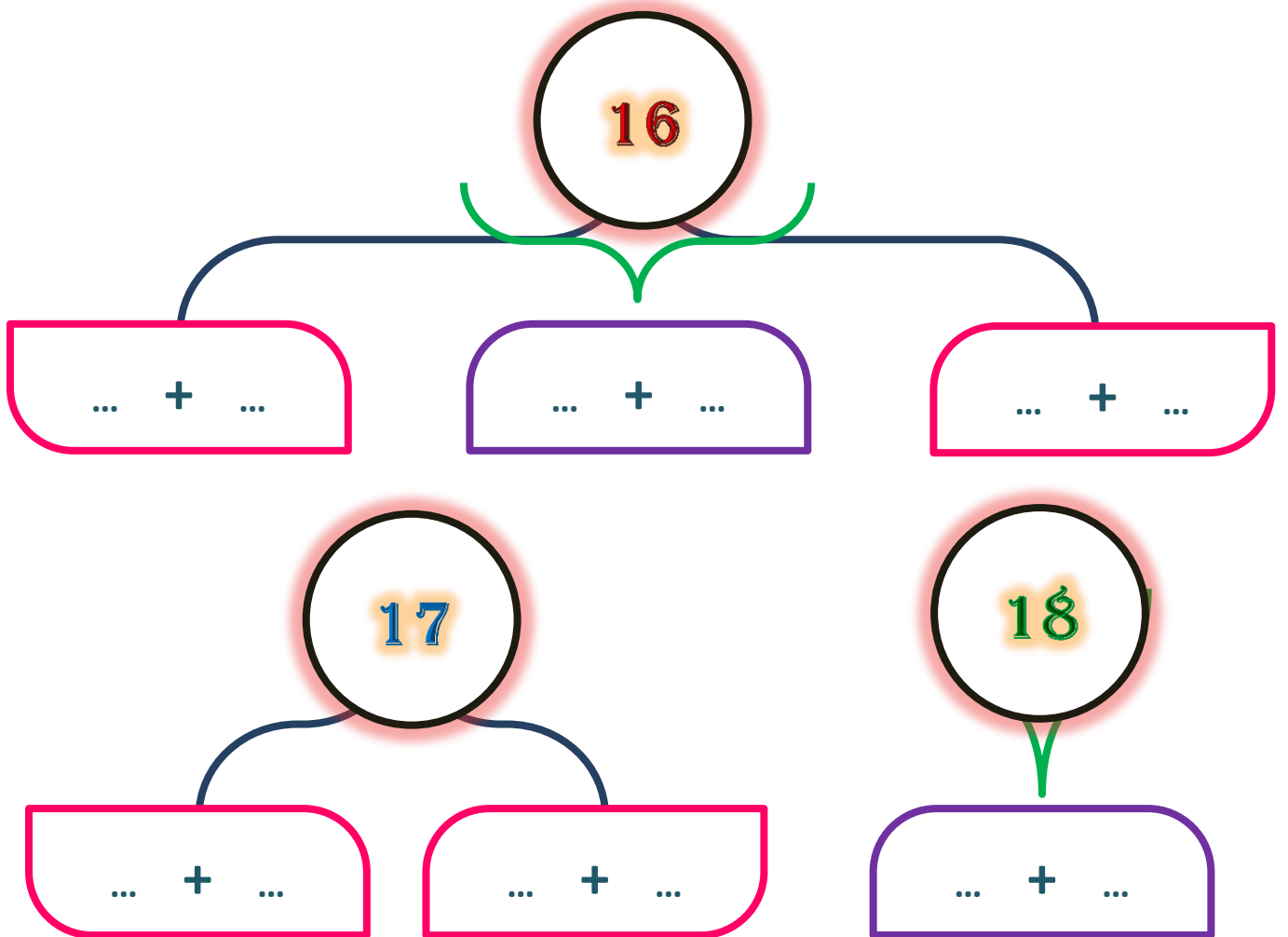
ثُمَّ اكْمِلِ الكِتَابَاتِ الجَمْعِيَّةِ بِمَا يَنْسِبُ



2 أتمم ملء جَدْوَلِ عَدِّ الأَعْدَادِ، ثُمَّ أَجِبْ عَنِ السُّؤَالِ.

+	0	1	2	3	4	5	6	7	8	9
7										
8										
9										

أَكْمِلِ الكِتَابَاتِ الجَمِيعَةَ



3 املأ جدول العدِّ و أتمم المَجاميع المُساوية لِـ 13 :

+	4	5	6	7	8	95
4						
58						
69						
7						
8						
9						

13

... + ...

13

... + ...

13

... + ...

13

... + ...

13

... + ...

13

... + ...

4 أتمم انطلاقاً من جدول العدِّ أعلاه

5 + 9 = ...

6 + 8 = ...

7 + 6 = ...

8 + 8 = ...

9 + 6 = ...

# 5 أَجْمَعُ إِلَى الْعَشْرَةِ ثُمَّ أَضِيفُ مَا تَبْقَى

... + ...

... + **1** + ...

... + ...

...

... + ...

... + **2** + ...

**10** + ...

...

... + ...

... + **3** + ...

**10** + ...

...


... + ...

... + **3** + ...


... + ...

...


# أحسب: 6



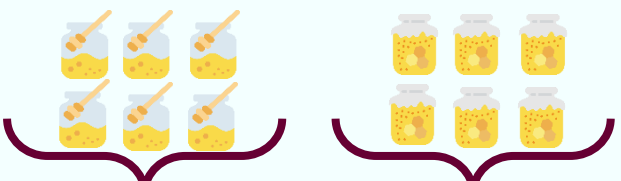
$\dots + \dots$   
 $\dots + 3 + \dots$   
 $\dots + \dots$   
 $\dots$



$\dots + \dots$   
 $\dots + 1 + \dots$   
 $10 + \dots$   
 $\dots$



$\dots + \dots$   
 $\dots + 2 + \dots$   
 $10 + \dots$   
 $\dots$



$\dots + \dots$   
 $\dots + 4 + \dots$   
 $\dots + \dots$   
 $\dots$

# 7 أنجز عَمَلِيَّاتِ الْجَمْعِ التَّالِيَةِ :

<p>7 + 4</p> <p>↓</p> <p>... + ... + ...</p> <p>↓</p> <p>... + ...</p> <p>↓</p> <p>.....</p>	<p>5 + 9</p> <p>↓</p> <p>... + ... + ...</p> <p>↓</p> <p>... + ...</p> <p>↓</p> <p>.....</p>	<p>7 + 7</p> <p>↓</p> <p>... + ... + ...</p> <p>↓</p> <p>... + ...</p> <p>↓</p> <p>.....</p>
<p>8 + 8</p> <p>↓</p> <p>... + ... + ...</p> <p>↓</p> <p>... + ...</p> <p>↓</p> <p>.....</p>	<p>6 + 7</p> <p>↓</p> <p>... + ... + ...</p> <p>↓</p> <p>... + ...</p> <p>↓</p> <p>.....</p>	<p>3 + 8</p> <p>↓</p> <p>... + ... + ...</p> <p>↓</p> <p>... + ...</p> <p>↓</p> <p>.....</p>



# 8 أضعُ عَمَلِيَّاتٍ وَأُنجزُ







Etoubi

تَتَوَفَّرُ دُعَاءُ عَلِيٍّ 16 قَلَمًا، إِذَا عَلِمْتَ أَنَّ عَدَدَ الْأَقْلَامِ

الْحَمْرَاءِ أَكْبَرُ مِنْ عَدَدِ الْأَقْلَامِ الْخَضْرَاءِ

لون الأقلام بالأهرو الأخضر ثم أكمل الرسم بما يناسب



$$\dots + \dots = 16$$

أكمل الرسم

$$\begin{array}{c} \dots \\ \downarrow \\ \dots + 1 + \dots \\ \downarrow \quad \downarrow \\ 10 + 6 \\ \dots \end{array}$$







Etoubi

# أراجع جدول الجمع

+	0	1	2	3	4	5	6	7	8	9
0										
1										
2										
3										
4										
5										
6										
7										
8										
9										

