

الصف: رابع ابتدائي
اليوم:
التاريخ: / / ١٤٤٤ هـ
الزمن: ساعة ونصف فقط



المملكة العربية السعودية
وزارة التعليم
إدارة تعليم منطقة تبوك

نموذج اجابة

اختبار نهاية الفصل الدراسي الثالث (الدور الأول)

مادة العلوم للصف الرابع ابتدائي

للعام الدراسي ١٤٤٤ هـ

رقم الجلوس :

اسم الطالبة :

رقم السؤال	الدرجة رقما	الدرجة كتابة	المصححة	المراجعة	المدققة
السؤال الأول					
السؤال الثاني					
السؤال الثالث					

درجة الاختبار النهائية: فقط لا غير من ٤٠ درجة



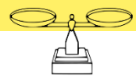



النجاح ليس إنجازاً بقدر ما هو قدرة مستمرة على الإنجاز





السؤال الأول: اختاري الإجابة الصحيحة في كلا مما يلي:

١٠

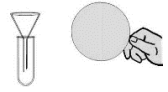



١- الأداة التي تستخدم لقياس الكتلة هي:

أ		ب		ج		د	
---	---	---	---	---	---	---	---





٢- تمثل جسيمات المادة السائلة:

أ		ب		ج		د	
---	---	---	---	---	---	---	---

٣- الأداة المستخدمة لفصل مخلوط من الأرز والدقيق هي:

أ		ب		ج		د	
---	---	---	--	---	---	---	---





٤- أي التغيرات التالية تغير كيميائي:

أ		ب		ج		د	
---	---	---	--	---	---	---	---





٥- وحدة قياس الوزن هي :

أ	الكيلوجرام	ب	نيوتن	ج	لتر	د	متر
---	------------	---	-------	---	-----	---	-----

٦- يمثل تحول الطاقة الكهربائية إلى حركية:

أ		ب		ج		د	
---	---	---	--	---	---	---	---

٧- أي التغيرات التالية تغير فيزيائي:

أ		ب		ج		د	
---	---	---	--	---	---	---	---

٨- ما القوة المسؤولة عن تسارع جسم يسقط نحو الأرض عند افلاته:

أ	الاحتكاك	ب	الجاذبية	ج	القصور الذاتي	د	الدفع
---	----------	---	----------	---	---------------	---	-------

٩- المغناطيسات عندما تكون الأقطاب المتقابلة متشابهة فانها:

أ	تتنافر	ب	تتجاذب	ج	لا تتأثر	د	تهتز
---	--------	---	--------	---	----------	---	------



١٠- ما الذي يقيسه الجهاز المستخدم بالسيارات في الصورة المجاورة

أ	الاحتكاك	ب	الجاذبية	ج	السرعة	د	التسارع
---	----------	---	----------	---	--------	---	---------

أ- ضعي المصطلحات التالية في مكانها المناسب:

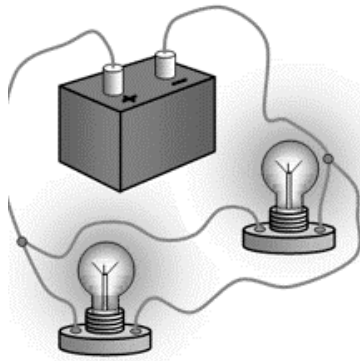
(الكهرباء الساكنة - الحرارة - السرعة - التغير الكيميائي - المخلوط - الكثافة)

- ١- (.....الكثافة.....) مقدار الكتلة في وحدة حجم واحد.
- ٢- (.....التغير الكيميائي.....) تغير ينتج عنه مادة جديدة .
- ٣- (.....الكهرباء الساكنة.....) تجمع الشحنات الكهربائية على سطح جسم ما .
- ٤- (.....السرعة.....) المسافة التي يقطعها جسم في زمن معين.
- ٥- (.....المخلوط.....) مادتان او اكثر تختلطان معاً بحيث تحافظ كل منهما على خصائصها الاصلية.
- ٦- (.....الحرارة.....) انتقال الطاقة الحرارية من الجسم الساخن الى الجسم البارد.

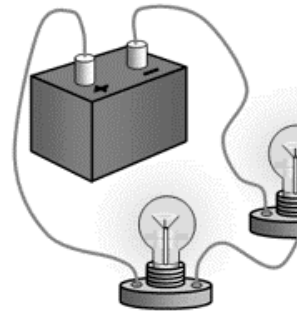
ب- ضعي علامة (✓) او (✗) امام العبارات التالية:

✓	١	تصنع مقابض اواني الطبخ من مواد عازلة.
✓	٢	المادة كل شي له كتلة ويشغل حيزاً.
✓	٣	يسمى المسار الذي تسري الكهرباء فيه بالدائرة الكهربائية.
✗	٤	التبخير هو تحول المادة من الحالة السائلة الى الحالة الصلبة.
✓	٥	يمكن فصل الملح من محلول ماء وملح عن طريق التبخير.
✗	٦	القوى الغير متزنة قوى متساوية في المقدار ومتعاكسة في الاتجاه.
✗	٧	الاسطح الأقل خشونة في صالات التزلج تقلل السرعة.
✓	٨	الأرض محاطة بمجال مغناطيسي غير مرئي.
✗	٩	درجة غليان الماء ٥٠ درجة سلسيوس.
✓	١٠	من دلائل حدوث التغير الكيميائي مشاهدة فقاعات الغاز.
✓	١١	الاحتكاك قوة تعيق حركة الاجسام.
✗	١٢	تقاس القوة بوحدة الجرام.

ج- بيئي نوع الدائرة الكهربائية في كلا مما يلي:



.....دائرة على التوازي.....



.....دائرة على التوالي.....

السؤال الثالث:

رقمي العمود الاخر بما يناسبه في العمود الأول:

١٠

	٤
	٦
	٥
 البرق	٨
	٣
	٩
	٢
	١٠
	٧
لتر	١

١	وحدة قياس الحجم.
٢	تغير فيزيائي.
٣	مخلوط غير متجانس.
٤	قوى متزنة.
٥	قوى غير متزنة.
٦	سبيكة.
٧	محلول.
٨	كهرباء ساكنة.
٩	مادة عازلة.
١٠	مادة موصلة.

انتهت الاسئلة
دعواتي لكن بالتوفيق والنجاح
العلمة: أمل الزهراني