



تم تحميل الملف من موقع **بداية**



للمزيد اكتب
في جوجل

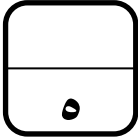
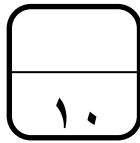


بداية التعليمي ⌚

موقع بداية التعليمي كل ما يحتاجه الطالب والمعلم
من ملفات تعليمية، حلول الكتب، توزيع المنهج،
بوربوينت، اختبارات، ملخصات، اختبارات إلكترونية،
أوراق عمل، والكثير...

حمل التطبيق





اختبار فكري (نظري) لمادة التقنية الرقمية ١-٢ نظام المسارات الفصل الدراسي الثاني

أسم الطالبة : الفصل :

السؤال الاول : اختاري الإجابة الصحيحة فيما يلي :

١	يحتوي كل ميغا بكسل على :	أ	ألف بكسل .	ب	عشرة آلاف بكسل .	ج	مليار بكسل .	د	مليون بكسل .
٢	تتيح لك هذه الأداة جعل صورتك أكثر إشراقاً أو إعتاماً:	أ	الإيضاح .	ب	السطوع والتباين .	ج	درجة اللون والتشبع .	د	إصلاح أخطاء التصوير .
٣	تتيح لك هذه الأداة تغيير التدرج اللوني في صورتك وجعل الألوان غنية أو باهتة:	أ	الإيضاح .	ب	السطوع والتباين .	ج	درجة اللون والتشبع .	د	إصلاح أخطاء التصوير .
٤	أي مما يلي لا يعد من إيجابيات الصور بامتداد JPEG :	أ	حجم ملف صغير .	ب	متوافق مع الكاميرات الرقمية .	ج	مجموعة ألوان جيدة .	د	غير مناسب للنصوص أو الرسوم التوضيحية
٥	تتحكم بكيفية تفاعل الألوان بين الطبقات وكذلك بكيفية تفاعل الألوان عند تطبيقها على طبقة :	أ	تغيير حجم الصورة .	ب	عزل العنصر .	ج	قفل الطبقات .	د	أساليب المزج .

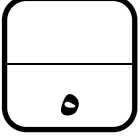
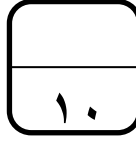
السؤال الثاني : حددي الجملة الصحيحة والجملة الخاطئة فيما يلي :

خاطئة	صحيحة	١ . تتكون الصورة الرقمية من نقاط ملونة صغيرة يطلق عليها البكسل .
○	○	٢ . يعد برنامج جيمب أحد أقوى البرامج المجانية مفتوحة المصدر لتحرير الصور .
○	○	٣ . - توجد علاقة بين الدقة وعدد البكسلات في ملف الصورة في برنامج GIMP

السؤال الثالث : أكمل الفراغات التالية :

١ . أداة يمكن استخدامها لإزالة البقع والنقاط وآثار الغبار والخدوش التي تشوه الصور القديمة

٢ . مصطلح يتم استخدامه للإشارة إلى كثافة البكسل في الصورة

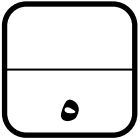


اختبار فكري (نظري) لمادة التقنية الرقمية ١-٢ نظام المسارات لعام ١٤٤٥ هـ

أسم الطالبة : الفصل :

السؤال الاول : اختاري الإجابة الصحيحة فيما يلي :

١	تعمل بنفس مبدأ تقليب صفحات كتاب يحتوي على رسومات بينها اختلاف بسيط في كل صفحة من صفحاته :	<input type="radio"/>	ثنائية الأبعاد	<input type="radio"/>	ثلاثية الأبعاد	<input type="radio"/>	رباعية الأبعاد
٢	تتحكم بكيفية تفاعل الألوان بين الطبقات وكذلك بكيفية تفاعل الألوان عند تطبيقها على طبقة :	<input type="radio"/>	عزل عنصر	<input type="radio"/>	قفل الطبقات	<input type="radio"/>	اساليب المزج
٣	تتيح لك هذه الأداة جعل صورتك أكثر إشراقاً أو إعتاماً:	<input type="radio"/>	الايضاح	<input type="radio"/>	درجة اللون والتشجع	<input type="radio"/>	اصلاح اخطاء التصوير
٤	أي البرامج التالية خاص بالرسوم المتحركة ثنائية الأبعاد :	<input type="radio"/>	CorelDraw	<input type="radio"/>	D2Pencil	<input type="radio"/>	Photoshop
٥	أداة يمكن استخدامها لإزالة البقع والنقاط وآثار الغبار والخدوش التي تشوه الصور القديمة :	<input type="radio"/>	فرشاة المعالجة	<input type="radio"/>	الختم والنسخ	<input type="radio"/>	تسوية الصور



السؤال الثاني : حددي الجملة الصحيحة والجملة الخاطئة فيما يلي :

٤.	تتكون الصورة الرقمية من نقاط ملونة صغيرة يطلق عليها البكسل .	<input type="radio"/>	صحيحة	<input type="radio"/>	خاطئة
٥.	يعد برنامج جيمب أحد أقوى البرامج المجانية مفتوحة المصدر لتحرير الصور .	<input type="radio"/>	صحيحة	<input type="radio"/>	خاطئة
٦.	تعد أداة المنظور أسهل وأسرع الطرق لتصحيح الصور التي تعاني من الظاهرة تشوه المنظور.	<input type="radio"/>	صحيحة	<input type="radio"/>	خاطئة
٧.	لا يمكن استيراد الرسومات اليدوية عن طريق برنامج (Pencil2D).	<input type="radio"/>	صحيحة	<input type="radio"/>	خاطئة
٨.	عند إضافة نص في برنامج الجيمب تتم إضافته تلقائياً كطبقة جديدة .	<input type="radio"/>	صحيحة	<input type="radio"/>	خاطئة

انتهت الاسئلة تمنياتي لكن بالتوفيق

قائدة المدرسة :

معلمة المادة :

نموذج (أ) الاسم: _____ الصف: أول ثانوي / _____ الدرجة: _____ / ١٠	 وزارة التعليم Ministry of Education	المملكة العربية السعودية وزارة التعليم الإدارة العامة للتعليم بمنطقة القصيم مدرسة الأمير فيصل بن مشعل بن سعود الثانوية
الاختبار التحريري لمنتصف الفصل الدراسي الثاني لمقرر التقنية الرقمية ١-٢ للعام الدراسي ١٤٤٥هـ		

- السؤال الأول: ضع علامة (✓) أمام العبارة الصحيحة وعلامة (X) أمام العبارة الخاطئة :
 - ١- توجد علاقة بين الدقة وعدد البكسلات في ملف الصورة في برنامج GIMP ()
 - ٢- يمكن تغيير شفافية كل طبقة وتغيير كيفية ظهور عناصر الطبقة من خلال تعميمها أو تعديل شفافيتها ()
 - ٣- الإيضاح يجعل الصور أكثر إشراقاً أو إعتاماً ()
 - ٤- لإنشاء الرسوم المتحركة في برنامج Pencil2D نرسم الإطارات الرئيسية بصورة منفصلة ()

• السؤال الثاني: اختر الإجابة الصحيحة من بين الأقواس:

- ١- من سلبيات الصور بامتداد GIF:
 - أ/يقتصر على ٢٥٦ لون
 - ب/ي دعم الرسوم المتحركة
 - ج/ي دعم خلفية شفافة
- ٢- يمثل العدد الإجمالي لوحدات البكسل الصورة.
 - أ/ حجم
 - ب/ أبعاد
 - ج/ دقة
- ٣- عدد التدرجات التقريبي الذي يوفره نظام التدرج الرمادي للألوان هو:
 - أ/ ١٥٦
 - ب/ ٢٥٦
 - ج/ ٣٥٦
- ٤- أحد أنواع تنسيقات الصور الذي يدعم الرسوم المتحركة هو:
 - أ/ XCF
 - ب/ GIF
 - ج/ BMP
- ٥- أداة تتيح تغيير التدرج اللوني في الصورة.
 - أ/ درجة اللون والتشبع
 - ب/ التشويه
 - ج/ ختم النسخ
- ٦- يضيء أو يغمق الصورة بأكملها بشكل متساوي.
 - أ/ السطوع
 - ب/ التباين
 - ج/ الإيضاح

نموذج (ب) الاسم: _____ الصف: أول ثانوي / _____ الدرجة: _____ / ١٠	 وزارة التعليم Ministry of Education	المملكة العربية السعودية وزارة التعليم الإدارة العامة للتعليم بمنطقة القصيم مدرسة الأمير فيصل بن مشعل بن سعود الثانوية
الاختبار التحريري لمنتصف الفصل الدراسي الثاني لمقرر التقنية الرقمية ١-٢ للعام الدراسي ١٤٤٤هـ		

- السؤال الأول: ضع علامة (✓) أمام العبارة الصحيحة وعلامة (X) أمام العبارة الخاطئة :
 - ١- لا يمكن قفل الطبقات بشكل كلي أو جزئي لحماية محتوياتها ()
 - ٢- يعد برنامج GIMP أحد أقوى البرامج المجانية مفتوحة المصدر لتحرير الصور ()
 - ٣- درجة اللون والتشبع تتيح تغيير التدرج اللوني وجعل الألوان غنية (بزيادة تركيز الألوان) أو باهتة ()
 - ٤- لإنشاء الرسوم المتحركة في برنامج Pencil2D نرسم الإطارات الرئيسية بصورة منفصلة ()

• السؤال الثاني: اختر الإجابة الصحيحة من بين الأقواس:

- ١- تتكون الصورة الرقمية من نقاط ملونة صغيرة يطلق عليها.....
 - أ/البكسل
 - ب/الطبقة
 - ج/البايت
- ٢- نظام يستخدم لعرض الصورة على شاشة الحاسب.
 - أ/ WB
 - ب/ CMYK
 - ج/ RGB
- ٣- نمط الألوان المفضل عند طباعة الصور هو:
 - أ/ WB
 - ب/ CMYK
 - ج/ RGB
- ٤- رمز العين الموجود في يسار الطبقة يقوم ب الطبقة

- أ/حذف
٥- تستخدم أداة لإزالة البقع والنقاط والخدوش التي في الصور.
ب/إظهار وإخفاء
ج/تكرار
- أ/فرشاة المعالجة
ب/ختم النسخ
ج/العصا السحرية
- ٦- يضيء أو يغمق الصورة بأكملها بشكل متساوي.
ب/التباين
ج/الإيضاح
- أ/السطوع